



おうちで、やろう。

Study at home. 小学校受験の家庭学習教材


記憶：絵の記憶5

別紙『記憶 - 絵の記憶5記憶用紙』を使用します。記憶用紙の絵を見た後に①、②の問題に取り組みましょう。

①左端にいた動物に○、右端にいた動物に×をつけます。

②ウシの下にいた動物に○、ウサギの上にいた動物に×をつけます。

①



②



※1. このプリントは、しながわ・目黒こどもスクールのウェブサイトからダウンロードできます。無断複写・引用はご遠慮ください。

※2. このプリントを活用したオンライン授業のスケジュールは、しながわ・目黒こどもスクールのウェブサイトでご確認ください。

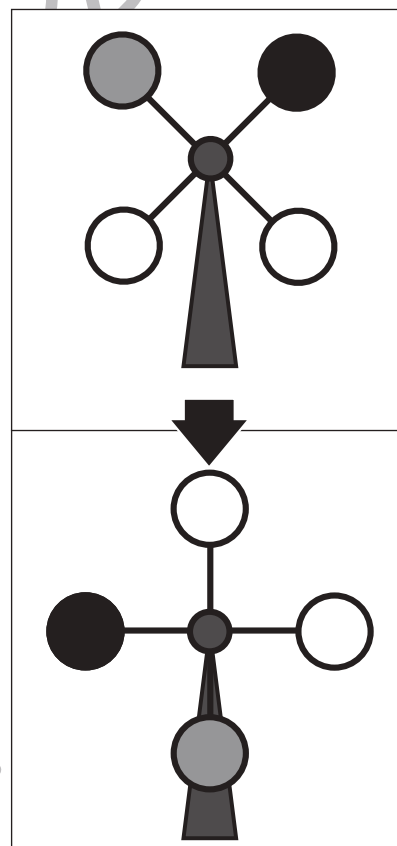
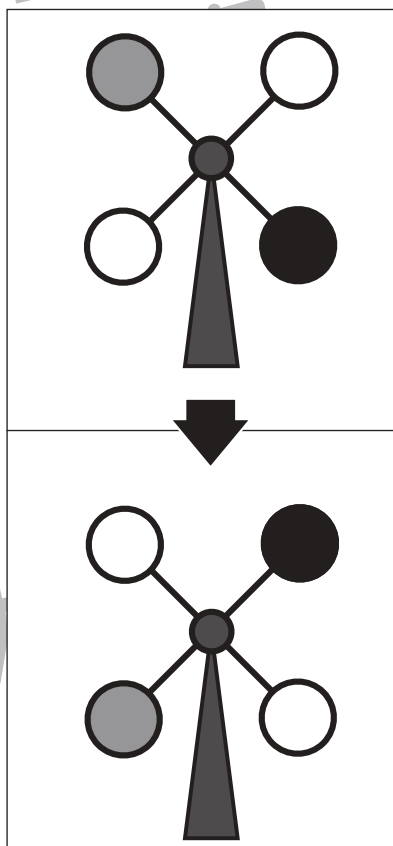
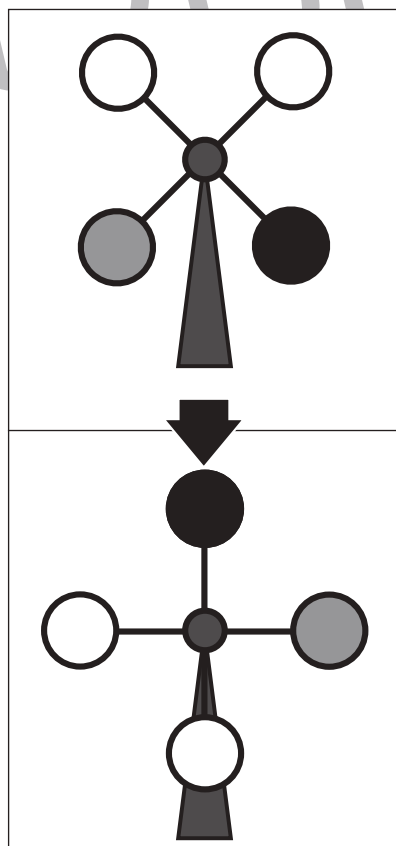
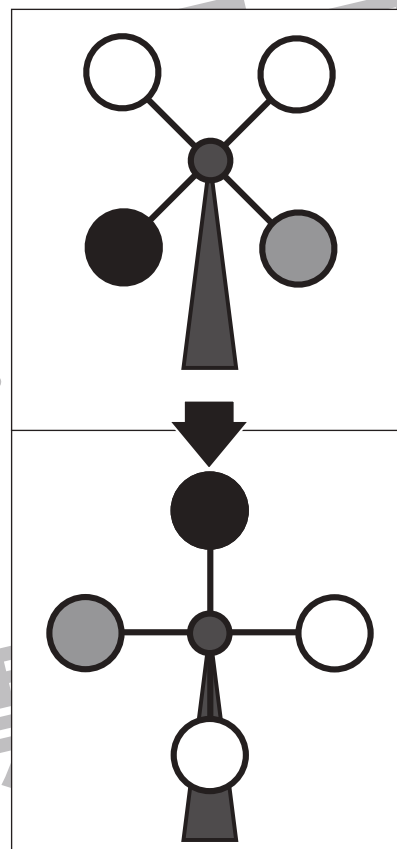
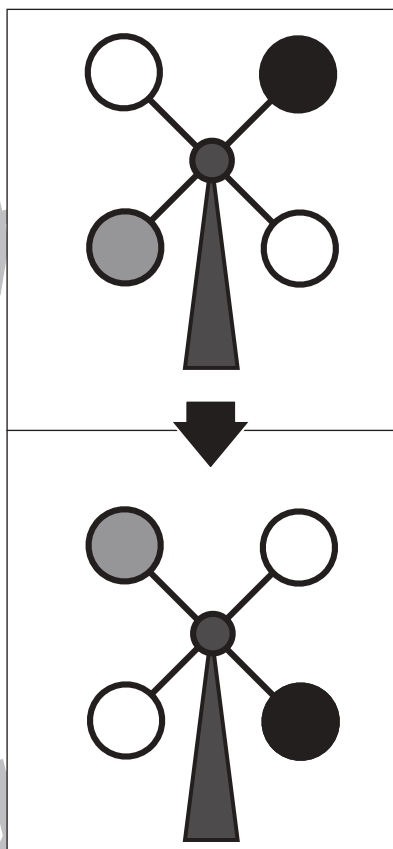
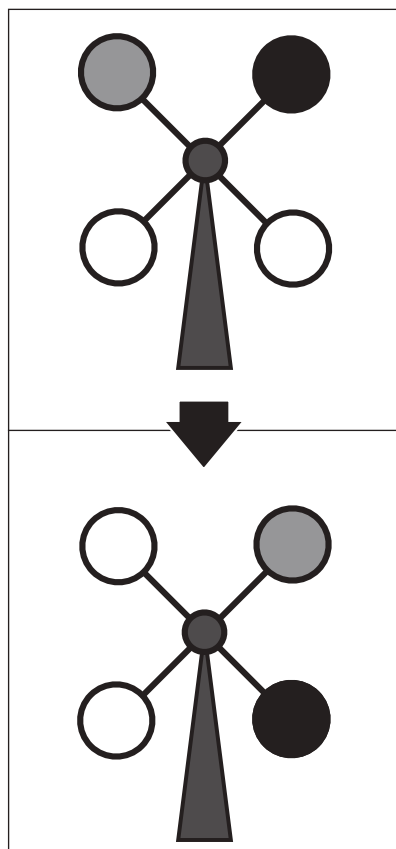


おうちで、やろう。

Study at home. 小学校受験の家庭学習教材

推理：回転 1

上の観覧車が矢印の下のように回ったとき、灰色の場所はわかりますが、黒丸の場所がわかりません。
黒丸の場所を考えて塗ります。



※1. このプリントは、しながわ・目黒こどもスクールのウェブサイトでダウンロードができます。無断複写・引用はご遠慮ください。
 ※2. このプリントを活用したオンライン授業のスケジュールは、しながわ・目黒こどもスクールのウェブサイトでご確認ください。

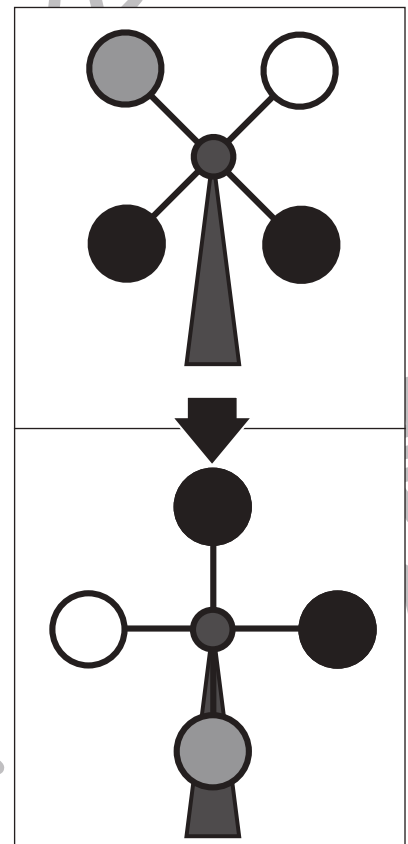
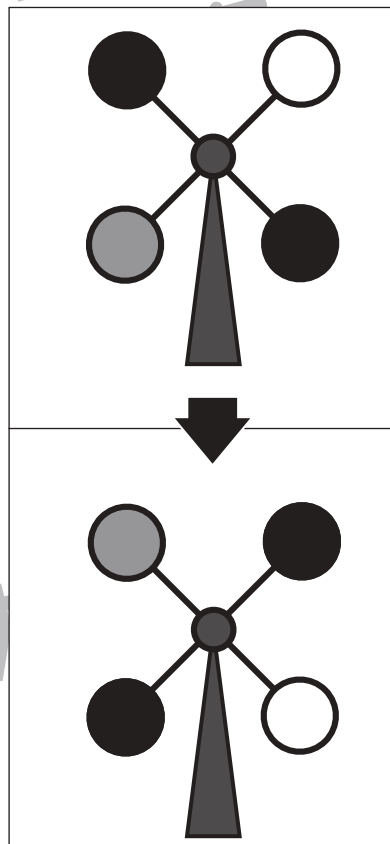
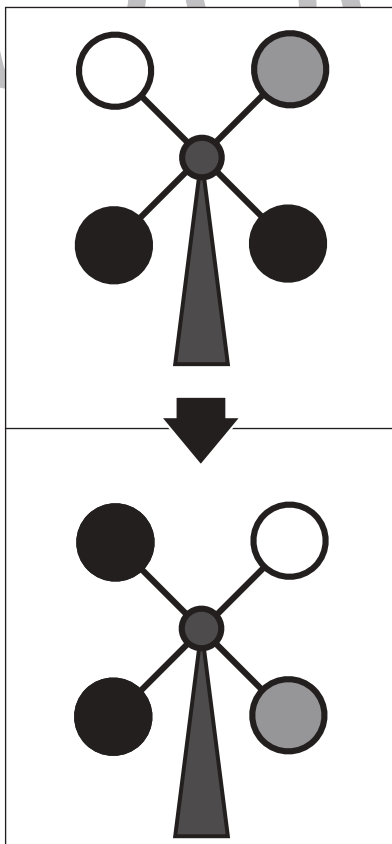
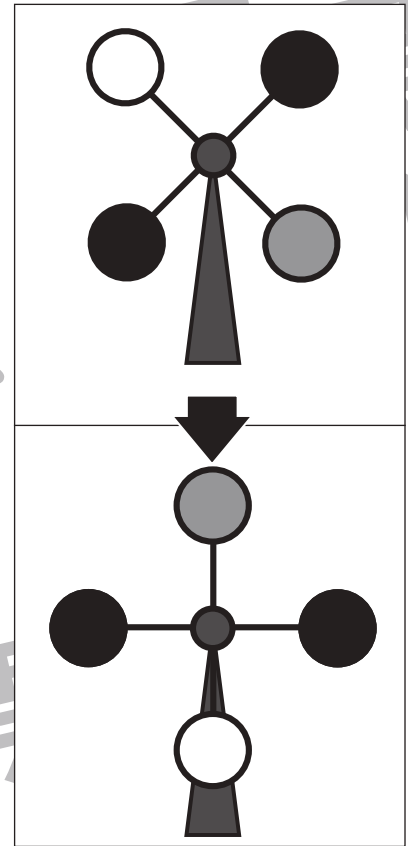
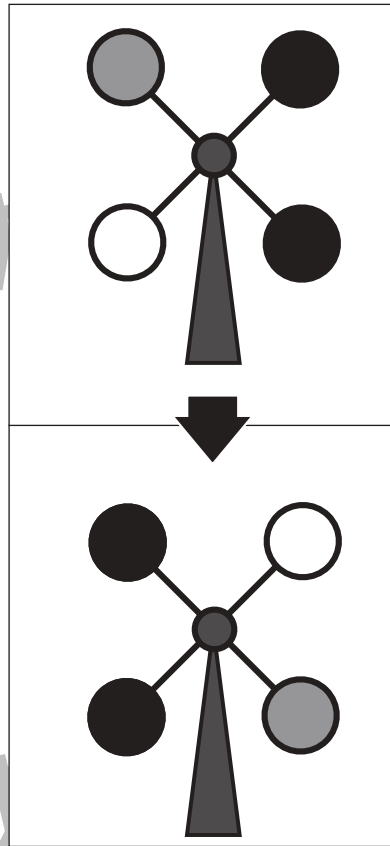
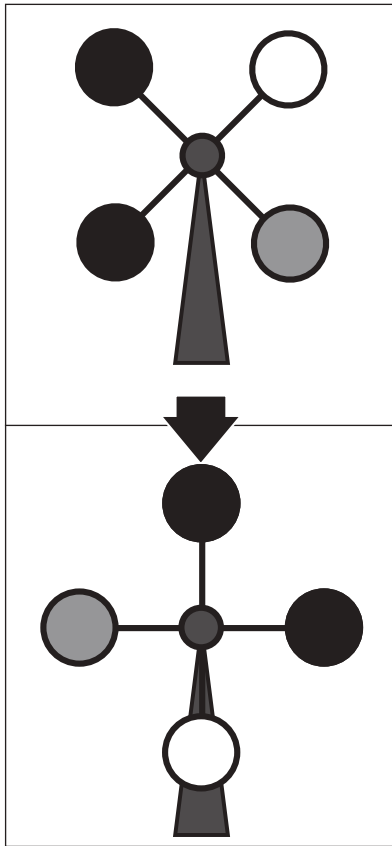


おうちで、やろう。

Study at home. 小学校受験の家庭学習教材

推理：回転2

上の観覧車が矢印の下のように回ったとき、灰色の場所はわかりますが、黒丸の場所がわかりません。
黒丸の場所を考えて塗ります。



※1. このプリントは、しながわ・目黒こどもスクールのウェブサイトでダウンロードができます。無断複写・引用はご遠慮ください。
 ※2. このプリントを活用したオンライン授業のスケジュールは、しながわ・目黒こどもスクールのウェブサイトでご確認ください。

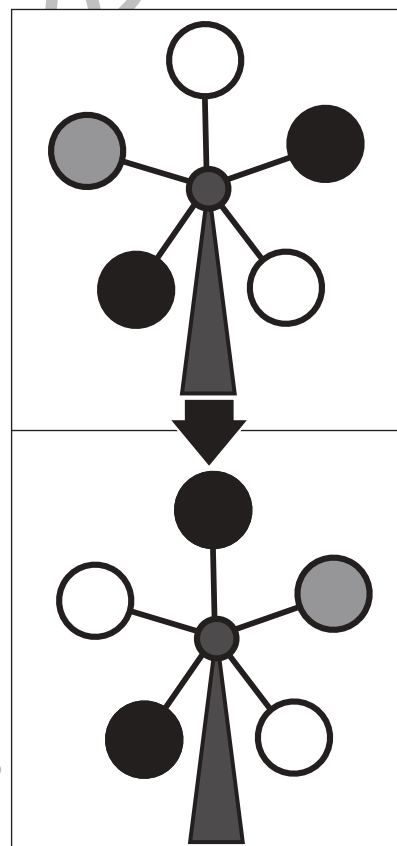
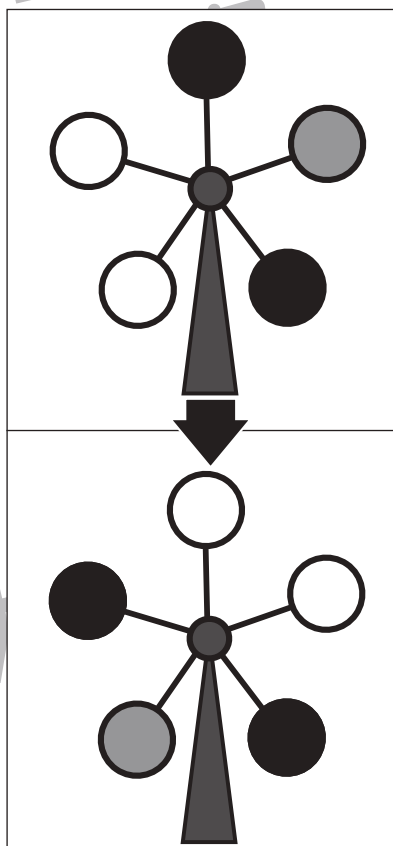
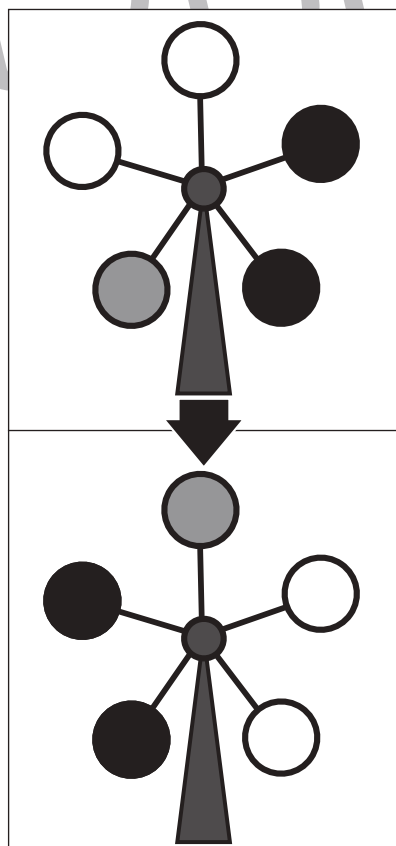
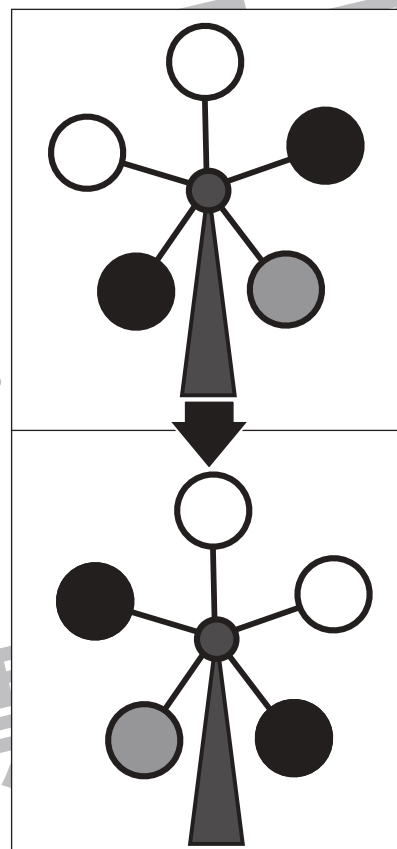
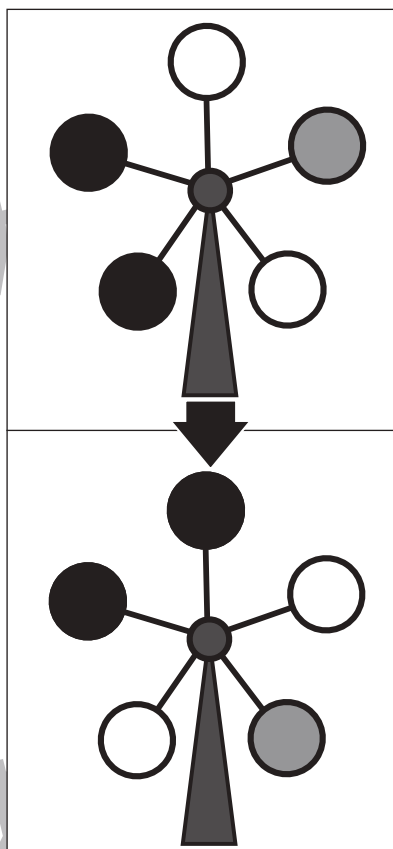
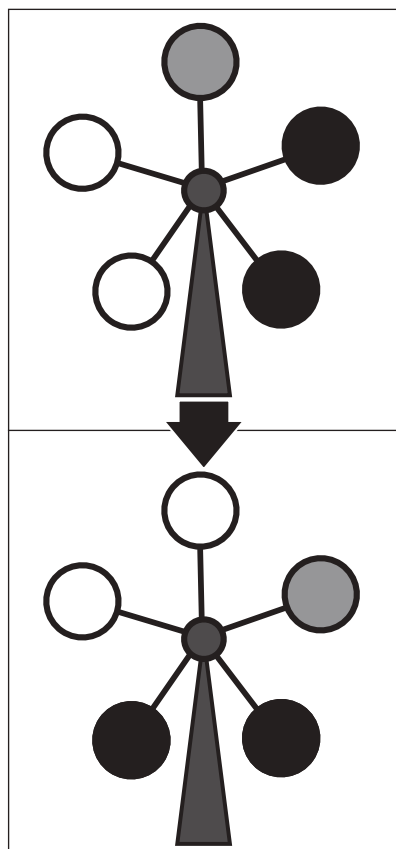


おうちで、やろう。

Study at home. 小学校受験の家庭学習教材

推理：回転3

上の観覧車が矢印の下のように回ったとき、灰色の場所はわかりますが、黒丸の場所がわかりません。
黒丸の場所を考えて塗ります。



※1. このプリントは、しながわ・目黒こどもスクールのウェブサイトでダウンロードができます。無断複写・引用はご遠慮ください。
 ※2. このプリントを活用したオンライン授業のスケジュールは、しながわ・目黒こどもスクールのウェブサイトでご確認ください。

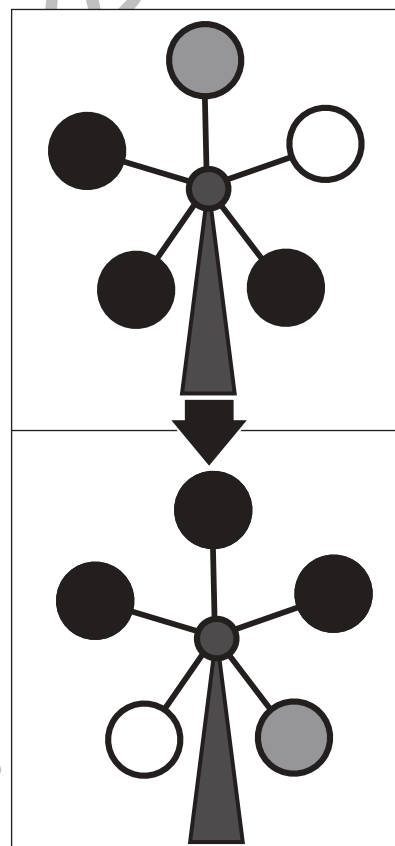
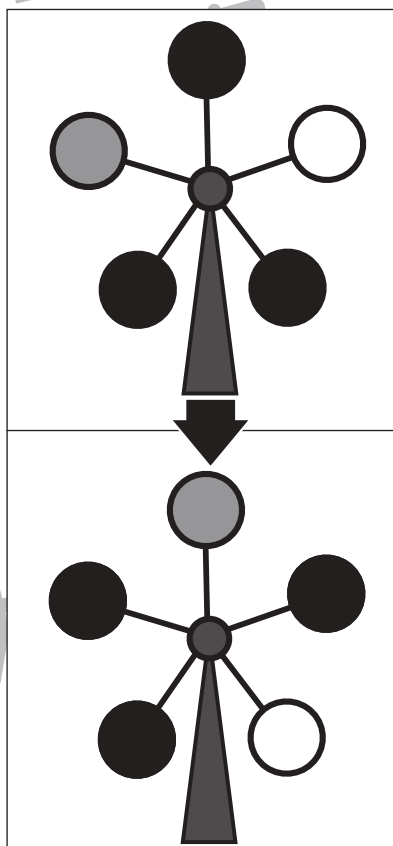
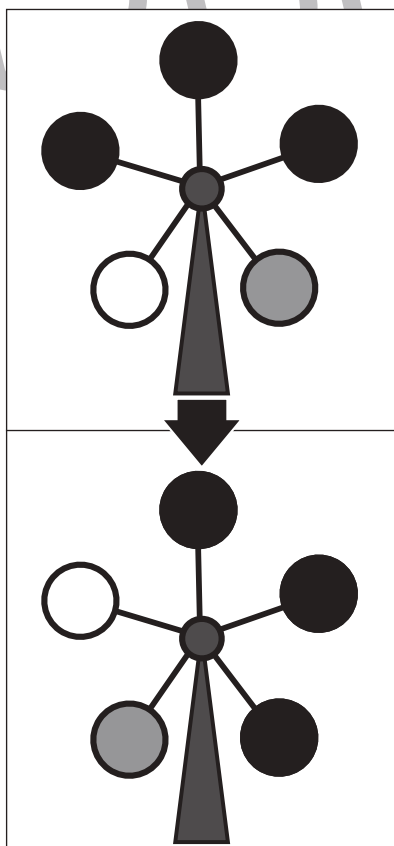
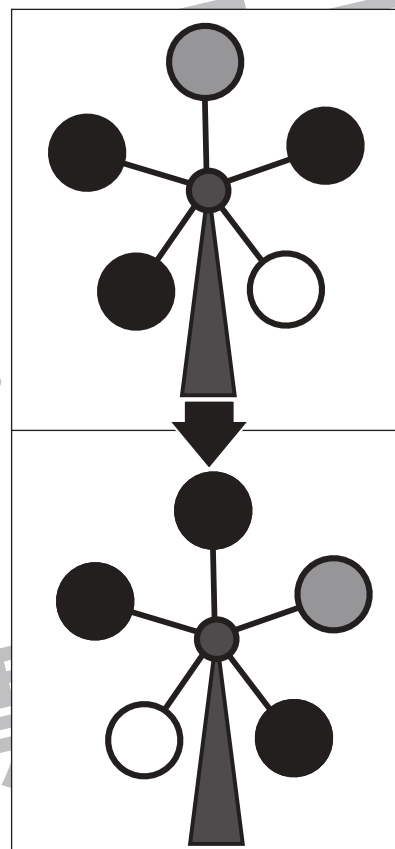
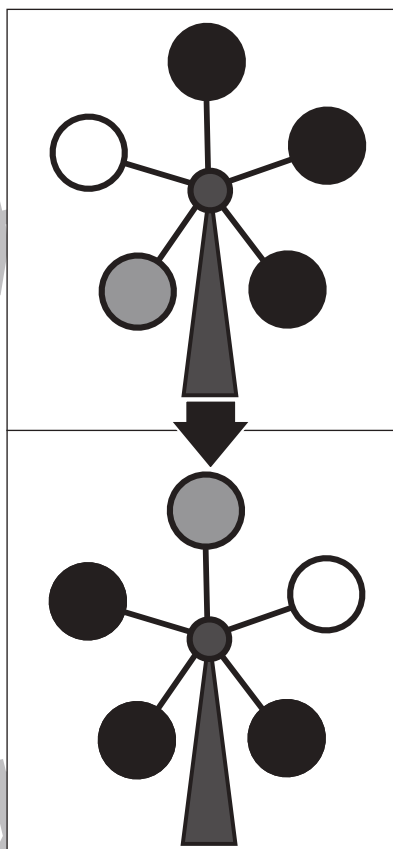
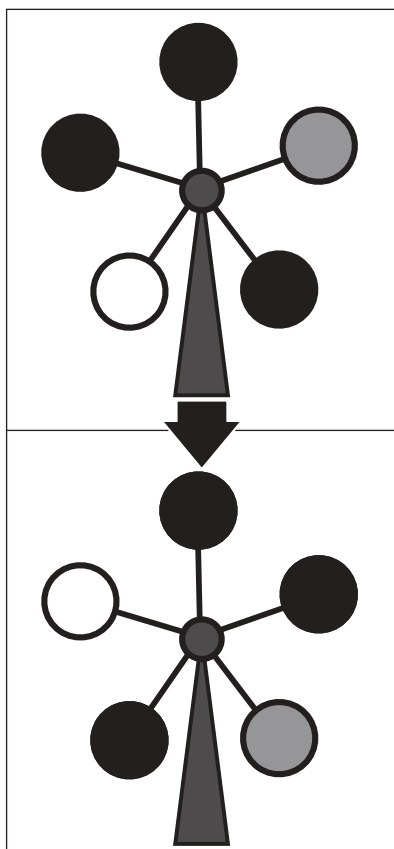


おうちで、やろう。

Study at home. 小学校受験の家庭学習教材

推理：回転4

上の観覧車が矢印の下のように回ったとき、灰色の場所はわかりますが、黒丸の場所がわかりません。
黒丸の場所を考えて塗ります。



※1. このプリントは、しながわ・目黒こどもスクールのウェブサイトでダウンロードができます。無断複写・引用はご遠慮ください。
 ※2. このプリントを活用したオンライン授業のスケジュールは、しながわ・目黒こどもスクールのウェブサイトでご確認ください。


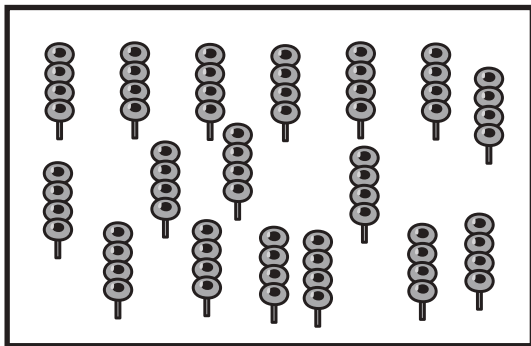








おうちで、やろう。

Study at home. 小学校受験の家庭学習教材

数量：加減 11

左の太い四角の中の食べ物をライオンとクマで分けます。ライオンは四角の中の数だけもらえるときクマがもらえる数だけクマの四角に○をかきます。また、もらえる数が多い方の顔に○をつけます。



※1. このプリントは、しながわ・目黒こどもスクールのウェブサイトでダウンロードができます。無断複写・引用はご遠慮ください。
※2. このプリントを活用したオンライン授業のスケジュールは、しながわ・目黒こどもスクールのウェブサイトでご確認ください。





おうちで、やろう。

Study at home. 小学校受験の家庭学習教材

数量：加減 12

左の太い四角の中の食べ物を3匹の動物で分けます。サルとネコが四角の中の数だけもらえるとパンダがもらえる数だけパンダの四角に○をかきます。また、もらえる数が一番多い動物の顔に○をつけます。

			 0×5
--	--	--	------------------

			 0×4
--	--	--	------------------

			 0×7
--	--	--	------------------

			 0×7
--	--	--	------------------

※1. このプリントは、しながわ・目黒こどもスクールのウェブサイトでダウンロードができます。無断複写・引用はご遠慮ください。
 ※2. このプリントを活用したオンライン授業のスケジュールは、しながわ・目黒こどもスクールのウェブサイトでご確認ください。

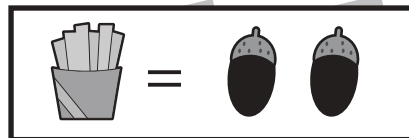
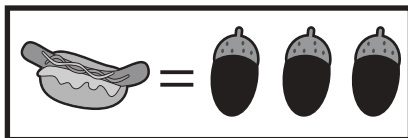
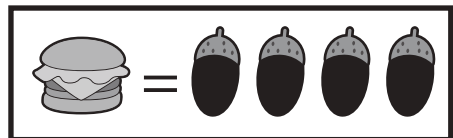




おうちで、やろう。

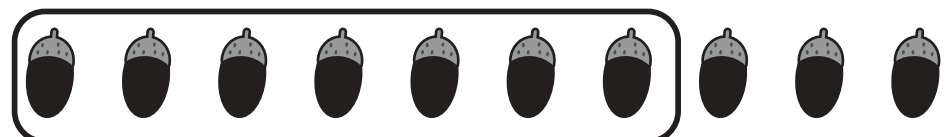
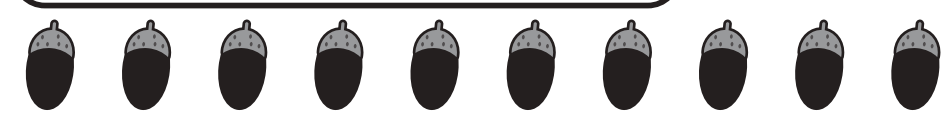
Study at home. 小学校受験の家庭学習教材

数量：置き換え7



上の太い四角の中がお約束です。それぞれの食べ物は右のドングリの数で買うことができます。左の四角の食べ物をかうためにはドングリがいくつあればいいですか。その数だけ四角のドングリを○で囲みます。












囲み方は自由です。数があっていれば正解としてください。








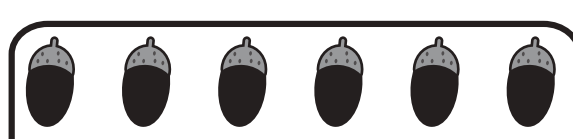

囲み方は自由です。数があっていれば正解としてください。








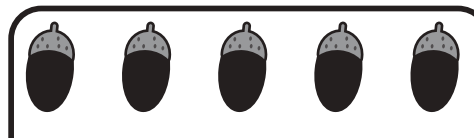

囲み方は自由です。数があっていれば正解としてください。

囲み方は自由です。数があっていれば正解としてください。

囲み方は自由です。数があっていれば正解としてください。

※1. このプリントは、しながわ・目黒こどもスクールのウェブサイトからダウンロードできます。無断複写・引用はご遠慮ください。

※2. このプリントを活用したオンライン授業のスケジュールは、しながわ・目黒こどもスクールのウェブサイトでご確認ください。


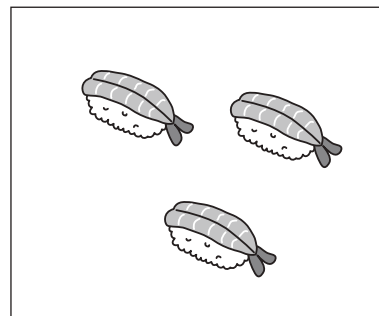

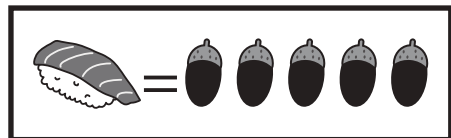


おうちで、やろう。

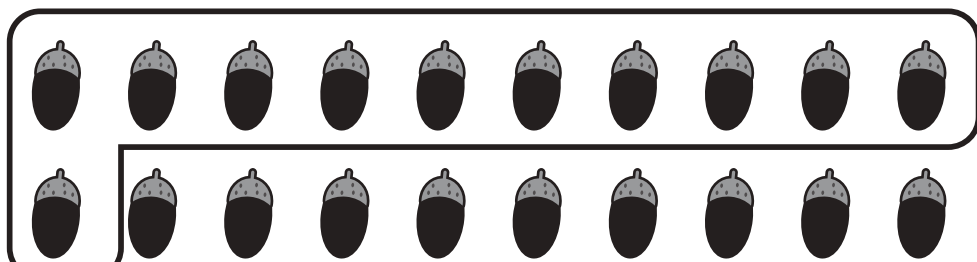

Study at home. 小学校受験の家庭学習教材

数量：置き換え8

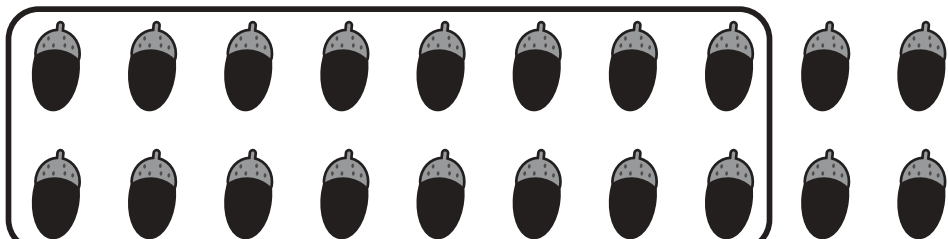

上の太い四角の中がお約束です。それぞれの食べ物は右のドングリの数で買うことができます。左の四角の食べ物をかうためにはドングリがいくつあればいいですか。その数だけ四角のドングリを〇で囲みます。



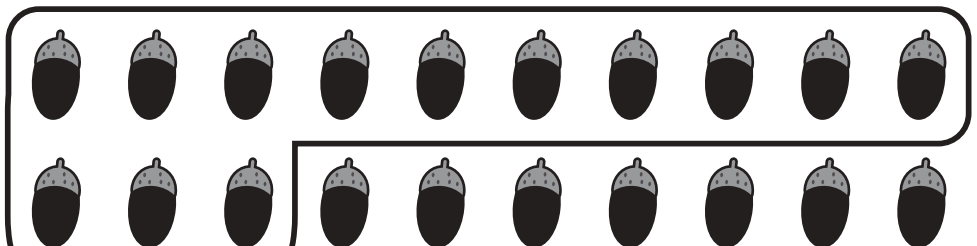

囲み方は自由です。数があていれば正解としてください。



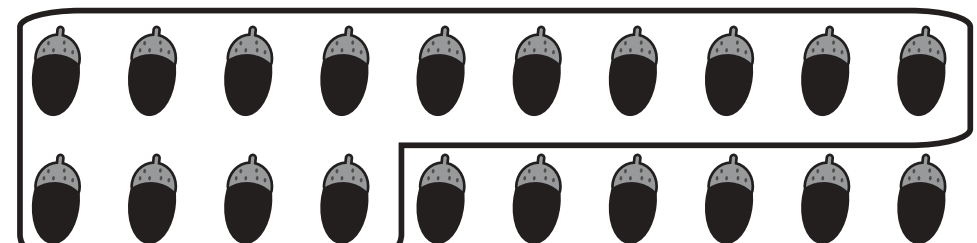

囲み方は自由です。数があていれば正解としてください。



囲み方は自由です。数があていれば正解としてください。



囲み方は自由です。数があていれば正解としてください。



囲み方は自由です。数があていれば正解としてください。

※1. このプリントは、しながわ・目黒こどもスクールのウェブサイトからダウンロードできます。無断複写・引用はご遠慮ください。

※2. このプリントを活用したオンライン授業のスケジュールは、しながわ・目黒こどもスクールのウェブサイトでご確認ください。





おうちで、やろう。

Study at home. 小学校受験の家庭学習教材

処理：観察力3

左の四角がお手本です。お手本は点を○で囲んであります。○で囲んでいない点を見つけて右の四角の点を囲みます。
この問題はスピードを意識して取り組む練習をしてみましょう。(1分～1分30秒)
