



# おうちで、やろう。


Study at home. 小学校受験の家庭学習教材

言語：同音異義語 1

それぞれの物の名前が言葉が同じもの同士を見つけて点と点を結びます。

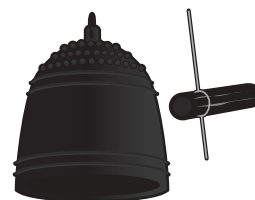


しながわ  
こどもスク



・

・



しながわ  
こどもスク

目黒  
ール



・

・



しながわ  
こどもスク

・



※1. このプリントは、しながわ・目黒こどもスクールのウェブサイトからダウンロードできます。無断複写・引用はご遠慮ください。

※2. このプリントを活用したオンライン授業のスケジュールは、しながわ・目黒こどもスクールのウェブサイトでご確認ください。



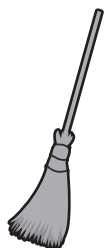


# おうちで、やろう。


Study at home. 小学校受験の家庭学習教材

言語：同音異義語2

それぞれの物を使うときの言葉が同じもの同士を見つけて点と点を結びます。



しながわ  
こどもスク




目黒  
ル



しながわ  
こどもスク

目黒  
ール



しながわ  
こどもスク



目黒  
ル

※1. このプリントは、しながわ・目黒こどもスクールのウェブサイトでダウンロードができます。無断複写・引用はご遠慮ください。

※2. このプリントを活用したオンライン授業のスケジュールは、しながわ・目黒こどもスクールのウェブサイトでご確認ください。





# おうちで、やろう。


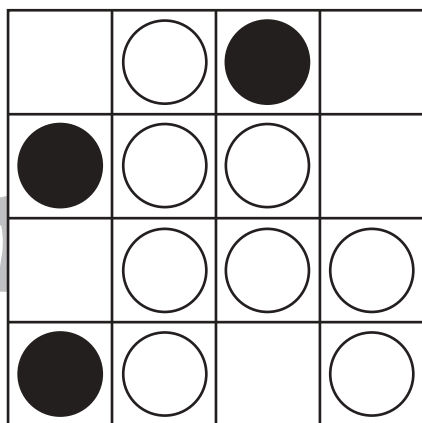


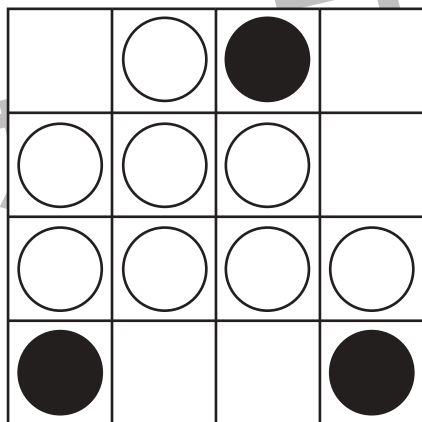
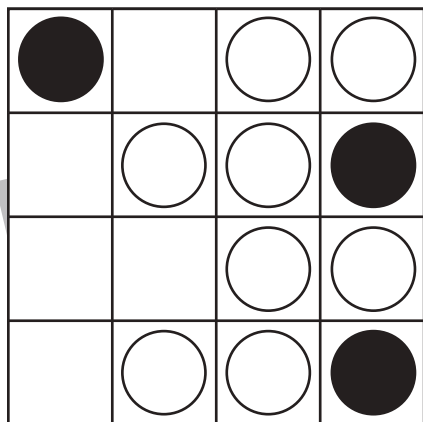
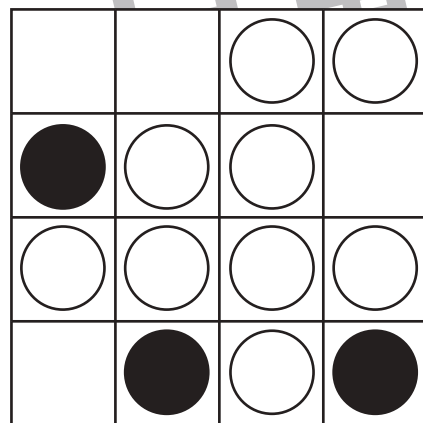
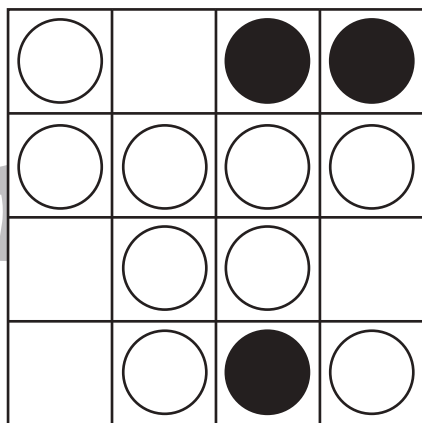

Study at home. 小学校受験の家庭学習教材

図形：オセロ 4

オセロゲームは○と●、数が多い方が勝ちです。今は○が多いので○が勝っています。

●が勝には○をできるだけたくさん●にかえなくてはけません。空いているマスのどこに●をかけば●が多くなりますか。空いているマスに一つだけ●を描き、●にかわる○を黒く塗りましょう。

※オセロゲームのルール：縦・横・斜めで●と●に挟まれた○は●にかわります。



※1. このプリントは、しながわ・目黒こどもスクールのウェブサイトダウンロードができます。無断複写・引用はご遠慮ください。

※2. このプリントを活用したオンライン授業のスケジュールは、しながわ・目黒こどもスクールのウェブサイトでご確認ください。





# おうちで、やろう。


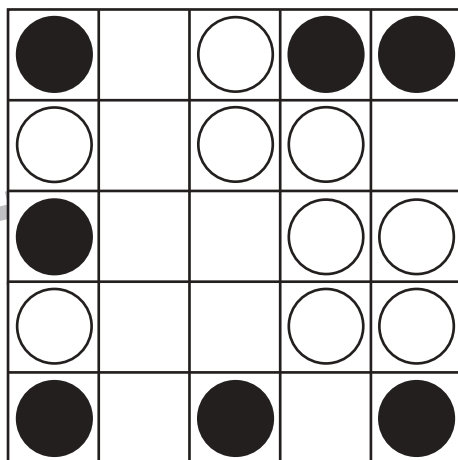

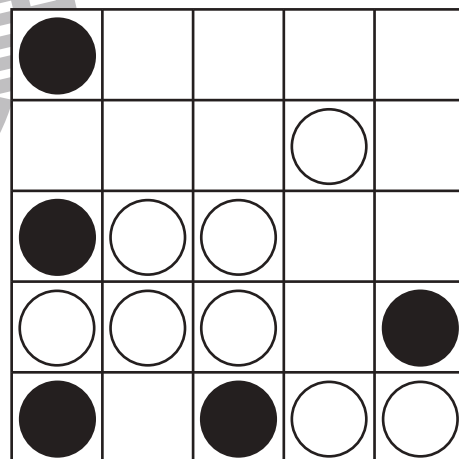

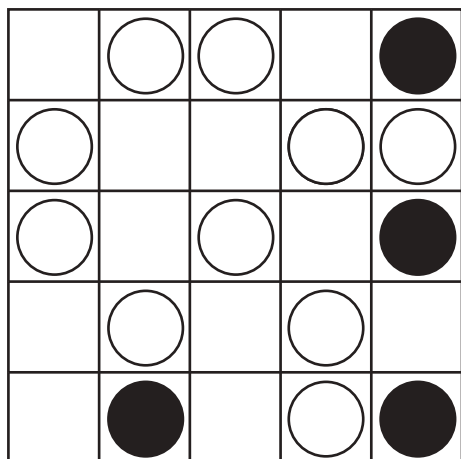
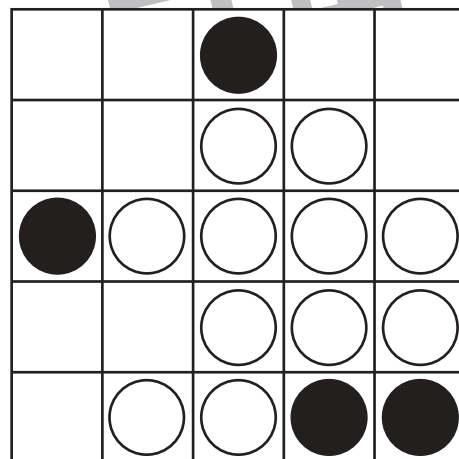

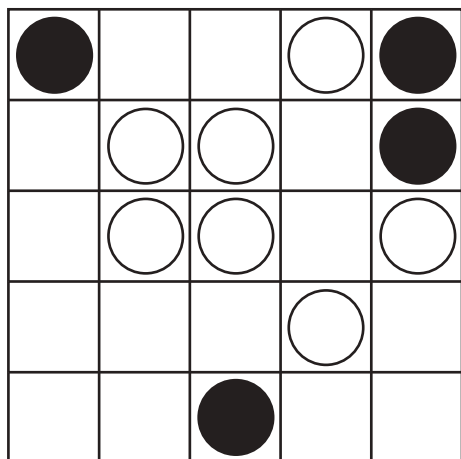
Study at home. 小学校受験の家庭学習教材

図形：オセロ5

オセロゲームです。○をできるだけたくさん●にかえるには、空いているマスのどこに●をかけばよいですか。

空いているマスに●を1つだけかき、●にかわる○を黒く塗りましょう。

※オセロゲームのルール：縦・横・斜めで●と●に挟まれた○は●にかわります。



※1. このプリントは、しながわ・目黒こどもスクールのウェブサイトでダウンロードができます。無断複写・引用はご遠慮ください。

※2. このプリントを活用したオンライン授業のスケジュールは、しながわ・目黒こどもスクールのウェブサイトでご確認ください。






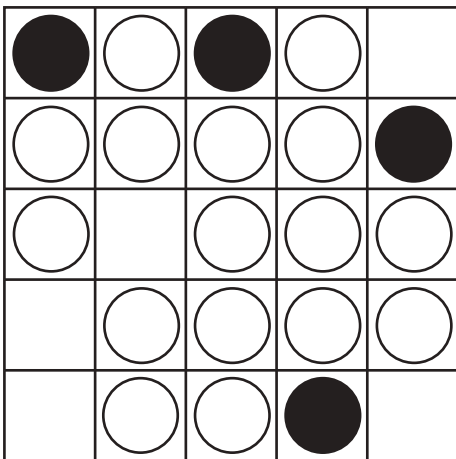


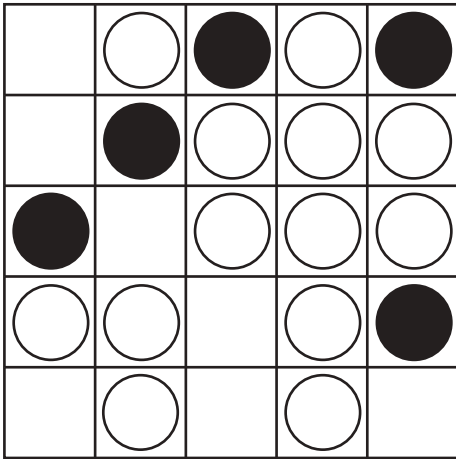


# おうちで、やろう。

Study at home. 小学校受験の家庭学習教材

図形：オセロ6

オセロゲームです。○をできるだけたくさん●にかえるには、空いているマスのどこに●をかけばよいですか。  
空いているマスに●を1つだけかき、●にかわる○を黒く塗りましょう。  
※オセロゲームのルール：縦・横・斜めで●と●に挟まれた○は●にかわります。



※1. このプリントは、しながわ・目黒こどもスクールのウェブサイトでダウンロードができます。無断複写・引用はご遠慮ください。  
※2. このプリントを活用したオンライン授業のスケジュールは、しながわ・目黒こどもスクールのウェブサイトでご確認ください。



# おうちで、やろう。

Study at home.

## 推理：ブラックボックス6

上の太い四角の中が約束です。リンゴの絵の箱の中に○や□を入れると2つ増えて出てきます。バナナの絵の箱の中に○や□を入れると色が変わって出てきます。このお約束の通りに左にある形を矢印の順番に箱の中に入れていきます。最後に出てきた形を考えて、右の四角にかきます。

	→		→	
	→		→	
	→		→	
	→		→	

→ → →

→ → →

→ → →

→ → →

※1. このプリントは、しながわ・目黒こどもスクールのウェブサイトでダウンロードができます。無断複写・引用はご遠慮ください。  
 ※2. このプリントを活用したオンライン授業のスケジュールは、しながわ・目黒こどもスクールのウェブサイトでご確認ください。









# おうちで、やろう。


Study at home.



## 推理：ブラックボックス7

上の太い四角の中が約束です。リンゴの絵の箱の中に○や△を入れると2つ増えて出てきます。ブドウの絵の箱の中に○や△を入れると1つ少なくなって出てきます。バナナの絵の箱の中に○や△を入れると色が変わって出てきます。このお約束の通りに左にある形を矢印の順番に箱の中に入れていきます。最後に出てきた形を考えて、右の四角にかきます。



○ →  → ○ ○ ○	○ →  → ●
▲ ▲ ▲ →  → ▲ ▲	▲ ▲ ▲ →  → ▲ ▲ ▲


▲ ▲ ▲ →  →  →






○ ○ ○ ○ ○ →  →  →



▲ ▲ ▲ →  →  →



▲ ▲ ▲ ● ○ ○ →  →  →



※1. このプリントは、しながわ・目黒こどもスクールのウェブサイトでダウンロードができます。無断複写・引用はご遠慮ください。  
 ※2. このプリントを活用したオンライン授業のスケジュールは、しながわ・目黒こどもスクールのウェブサイトでご確認ください。










# おうちで、やろう。

Study at home.




## 推理：ブラックボックス8

上の太い四角の中が約束です。リンゴの絵の箱の中に○や△を入れると2つ増えて出てきます。ブドウの絵の箱の中に○や△を入れると1つ少なくなって出てきます。バナナの絵の箱の中に○や△を入れると色が変わって出てきます。このお約束の通りに左にある形を矢印の順番に箱の中に入れていきます。最後に出てきた形を考えて、右の四角の中から答えを見つけ○を付けます。




○ →  → ○ ○ ○	○ →  → ●
▲ ▲ ▲ →  → ▲ ▲	▲ ▲ ▲ →  → ▲ ▲ ▲

▲ ▲ →  →  →  →




▲ ▲ ▲ ▲ ▲ ▲	△ △ △ △ △
△ △ △ △	△ △ △ △ △ △

○ ○ ○ ○ →  →  →  →

● ● ● ● ●	○ ○ ○ ○ ○
○ ○ ○ ○ ○ ○	● ● ● ● ● ●

▲ ▲ ▲ →  →  →  →

△ △ △ △ △	△ △
▲ ▲	▲ ▲ ▲ ▲

▲ ▲ ▲ ▲ ○ ● →  →  →  →

▲ ▲ ▲ ▲ ● ○ ○	▲ ▲ ▲ ● ○
▲ ▲ ▲ ▲ ● ○ ○	▲ ▲ ▲ ▲ ● ● ○

※1. このプリントは、しながわ・目黒こどもスクールのウェブサイトでダウンロードができます。無断複写・引用はご遠慮ください。  
 ※2. このプリントを活用したオンライン授業のスケジュールは、しながわ・目黒こどもスクールのウェブサイトでご確認ください。





# おうちで、やろう。





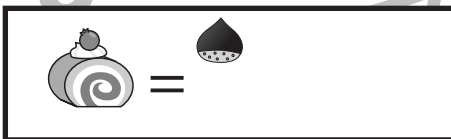


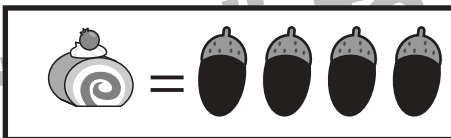


Study at home. 小学校受験の家庭学習教材

数量：置き換え 9

上の太い四角の中がお約束です。3種類のおやつはそれぞれ同じ四角の中にあるドングリで買うことができます。ただし、ドングリが2つあればクリ1つにかえることができます。

①それぞれのおやつをクリで買うにはクリがいくつあればいいですかその数だけ〇をかきます。

②左の四角の中のおやつをドングリだけで買う時、クリだけで買う時、それぞれいくつ必要ですか。その数だけそれぞれの四角の中に〇をかきます。



※1. このプリントは、しながわ・目黒こどもスクールのウェブサイトでダウンロードができます。無断複写・引用はご遠慮ください。

※2. このプリントを活用したオンライン授業のスケジュールは、しながわ・目黒こどもスクールのウェブサイトでご確認ください。





# おうちで、やろう。


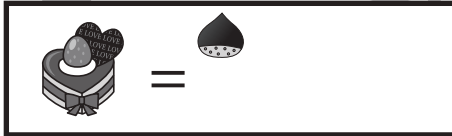



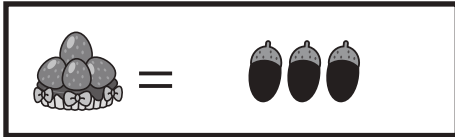
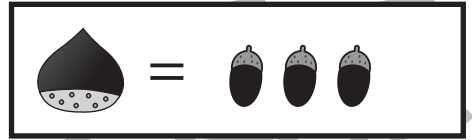
Study at home. 小学校受験の家庭学習教材

数量：置き換え 10

上の太い四角の中がお約束です。3種類のおやつはそれぞれ同じ四角の中にあるドングリで買うことができます。ただし、ドングリが3つあればクリ1つにかえることができます。

①それぞれのおやつをクリで買うにはクリがいくつあればいいですかその数だけ〇をかきます。

②左の四角の中のおやつをドングリだけで買う時、クリだけで買う時、それぞれいくつ必要ですか。その数だけそれぞれの四角の中に〇をかきます。



②

--	--	--

--	--	--

--	--	--

--	--	--

※1. このプリントは、しながわ・目黒こどもスクールのウェブサイトでダウンロードができます。無断複写・引用はご遠慮ください。

※2. このプリントを活用したオンライン授業のスケジュールは、しながわ・目黒こどもスクールのウェブサイトでご確認ください。