



# おうちで、やろう。

Study at home. 小学校受験の家庭学習教材

常識：生活5

①～⑤のお話を聞いて答えましょう。



①私はお手紙を届ける仕事をしています。私を左の列から見つけて○をつけます。

②私は動物が大好きなのでこの仕事をしています。私を左の列から見つけて□をつけます。

③私は本が好きなのでこの仕事をしています。私を真ん中の列から見つけて×をつけます。

④私は歯の治療をします。私を右の列から見つけて◎をつけます。

⑤私はおいしい食べ物を作る仕事をしています。私を右の列から見つけて△をつけます。



※1. このプリントは、しながわ・目黒こどもスクールのウェブサイトでダウンロードができます。無断複写・引用はご遠慮ください。

※2. このプリントを活用したオンライン授業のスケジュールは、しながわ・目黒こどもスクールのウェブサイトでご確認ください。



# おうちで、やろう。

Study at home. 小学校受験の家庭学習教材

常識：生活6

①～⑤のお話を聞いて答えましょう。

①私はおいしい食べ物を作っている仕事をしています。私を上から3段目にいる人の中から見つけて○をつけます。

②私は電車を運転しています。私を上から2段目にいる人の中から見つけて△をつけます。

③私はお客さんにあった服装を考える仕事をしています。私を一番下の段にいる人の中から見つけて×をつけます。

④私はおいしいものを作ってみんなを喜ばせる仕事をしています。私を一番上の段にいる人の中から見つけて◎をつけます。

⑤私は人や町を守る仕事をしています。私を上から4段目にいる人の中から見つけて□をつけます。



※1. このプリントは、しながわ・目黒こどもスクールのウェブサイトダウンロードができます。無断複写・引用はご遠慮ください。

※2. このプリントを活用したオンライン授業のスケジュールは、しながわ・目黒こどもスクールのウェブサイトでご確認ください。

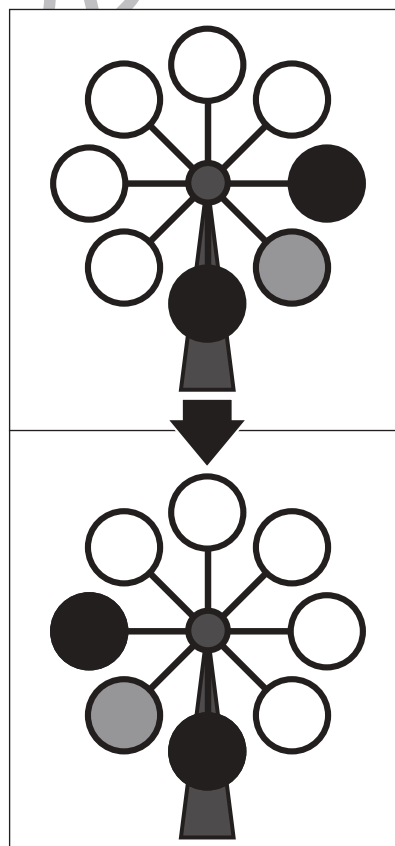
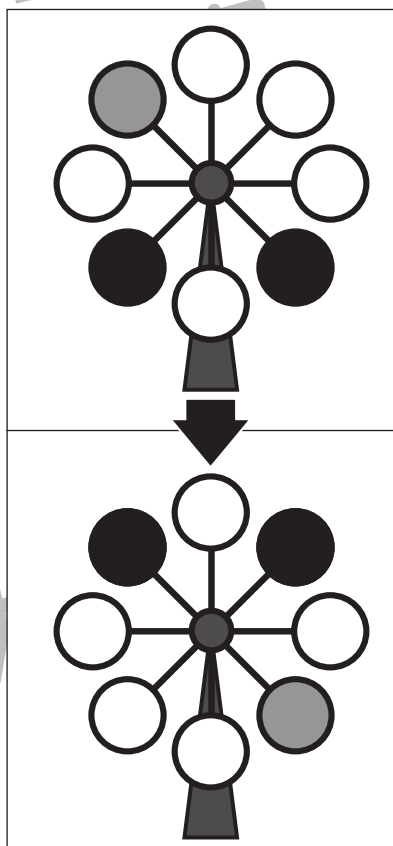
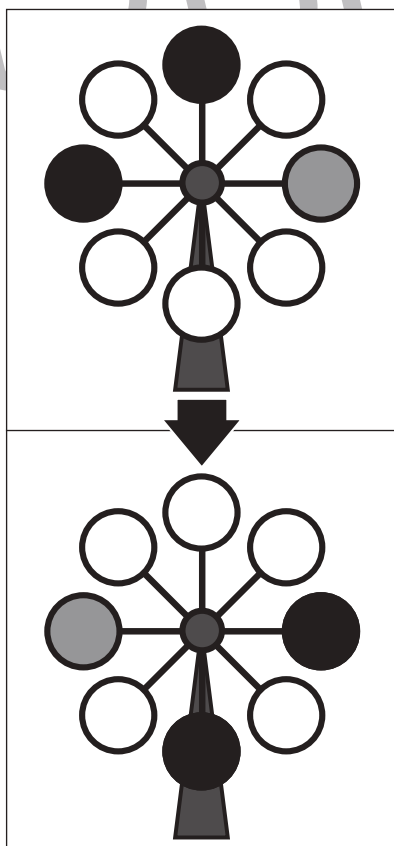
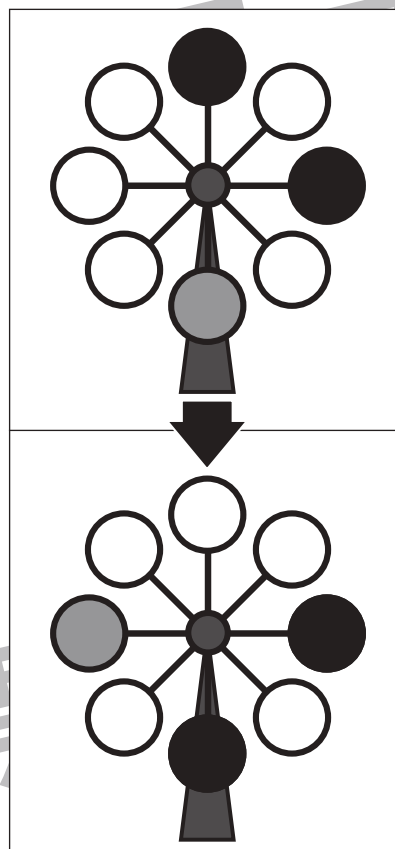
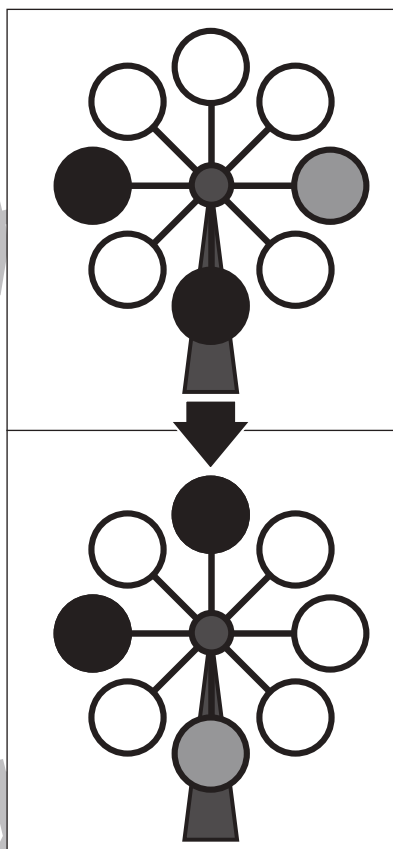
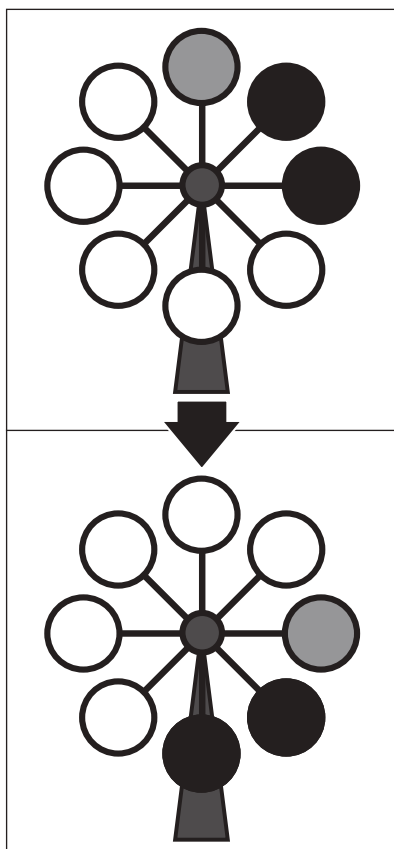


# おうちで、やろう。

Study at home. 小学校受験の家庭学習教材

## 推理：回転5

上の観覧車が矢印の下のように回ったとき、灰色の場所はわかりますが、黒丸の場所がわかりません。  
黒丸の場所を考えて塗ります。



※1. このプリントは、しながわ・目黒こどもスクールのウェブサイトでダウンロードができます。無断複写・引用はご遠慮ください。  
 ※2. このプリントを活用したオンライン授業のスケジュールは、しながわ・目黒こどもスクールのウェブサイトでご確認ください。

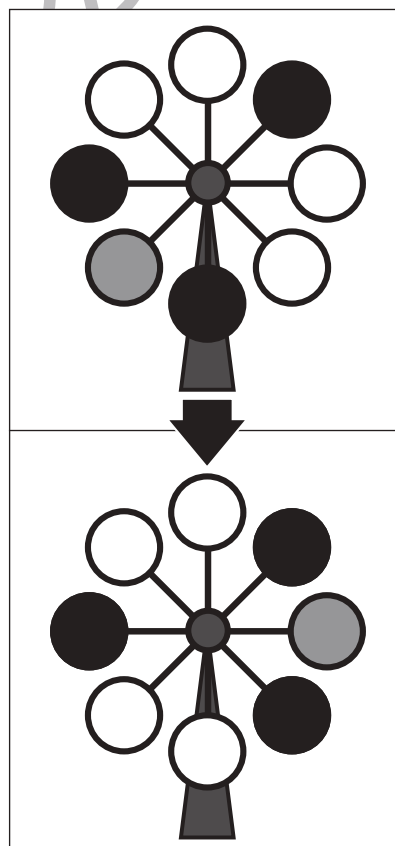
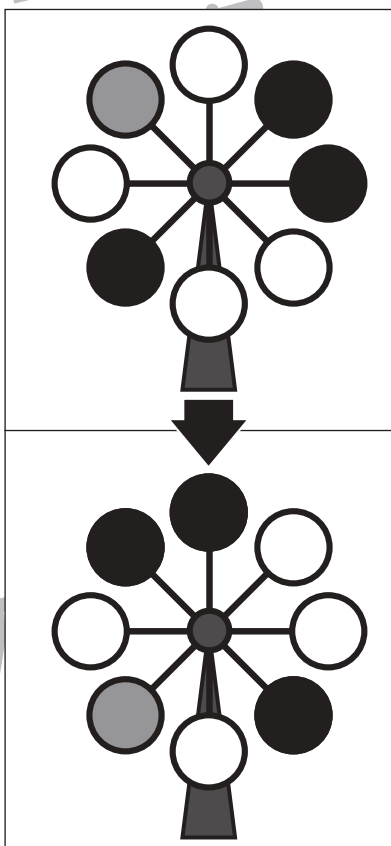
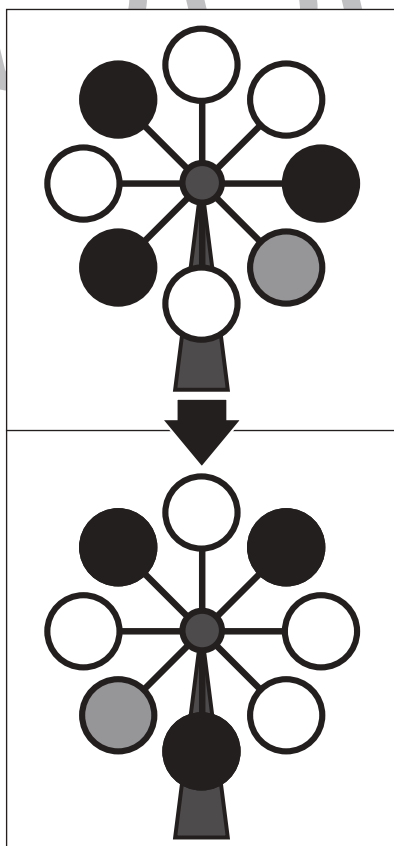
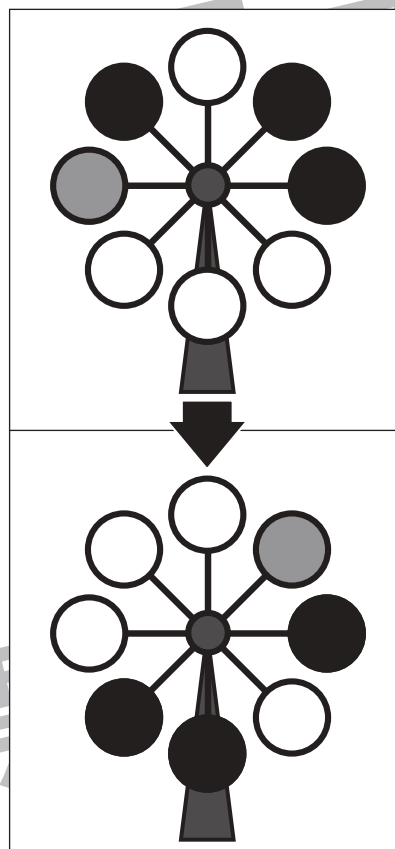
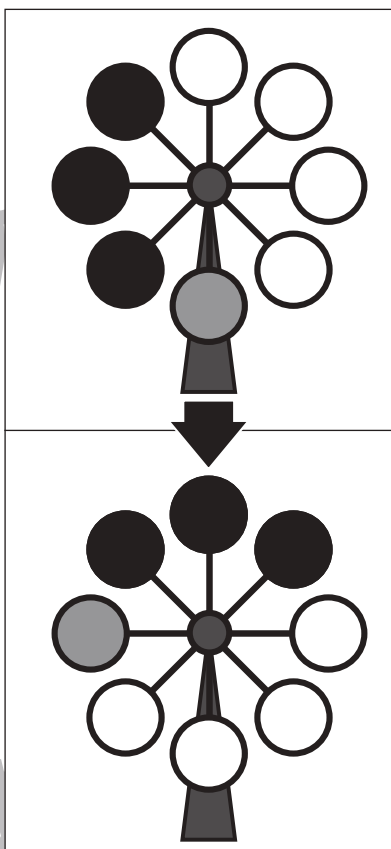
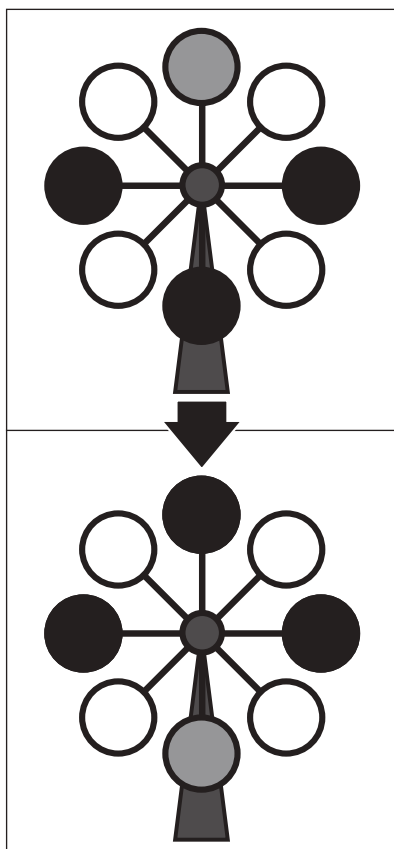


# おうちで、やろう。

Study at home. 小学校受験の家庭学習教材

## 推理：回転6

上の観覧車が矢印の下のように回ったとき、灰色の場所はわかりますが、黒丸の場所がわかりません。  
黒丸の場所を考えて塗ります。



※1. このプリントは、しながわ・目黒こどもスクールのウェブサイトでダウンロードができます。無断複写・引用はご遠慮ください。  
 ※2. このプリントを活用したオンライン授業のスケジュールは、しながわ・目黒こどもスクールのウェブサイトでご確認ください。



# おうちで、やろう。

Study at home. 小学校受験の家庭学習教材

## 推理：回転7

上の観覧車が矢印の下のように回ったとき、灰色の場所はわかりますが、黒丸の場所がわかりません。  
黒丸の場所を考えて塗ります。

※1. このプリントは、しながわ・目黒こどもスクールのウェブサイトでダウンロードができます。無断複写・引用はご遠慮ください。

※2. このプリントを活用したオンライン授業のスケジュールは、しながわ・目黒こどもスクールのウェブサイトでご確認ください。



# おうちで、よろう。

Study at home. 小学校受験の家庭学習教材

数量：広さ 11

横に並んだ3つのマスの灰色の部分の広さを比べます。3つの中で広さが違うものを見つけて○をつけます。


※1. このプリントは、しながわ・目黒こどもスクールのウェブサイトでダウンロードができます。無断複写・引用はご遠慮ください。  
 ※2. このプリントを活用したオンライン授業のスケジュールは、しながわ・目黒こどもスクールのウェブサイトでご確認ください。



# おうちで、やろう。

Study at home. 小学校受験の家庭学習教材

数量：広さ 12

横に並んだ3つのマスの灰色の部分の広さを比べます。3つの中で広さが違うものを見つけて○をつけます。


※1. このプリントは、しながわ・目黒こどもスクールのウェブサイトでダウンロードができます。無断複写・引用はご遠慮ください。  
 ※2. このプリントを活用したオンライン授業のスケジュールは、しながわ・目黒こどもスクールのウェブサイトでご確認ください。



# おうちで、やろう。

Study at home. 小学校受験の家庭学習教材

数量：広さ 13

横に並んだ3つのマスの灰色の部分の広さを比べます。3つの中で広さが違うものを見つけて○をつけます。


※1. このプリントは、しながわ・目黒こどもスクールのウェブサイトでダウンロードができます。無断複写・引用はご遠慮ください。  
 ※2. このプリントを活用したオンライン授業のスケジュールは、しながわ・目黒こどもスクールのウェブサイトでご確認ください。