



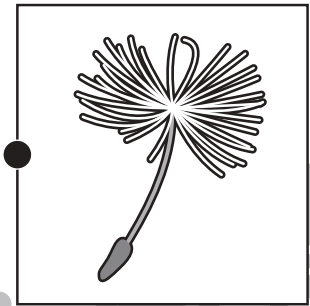



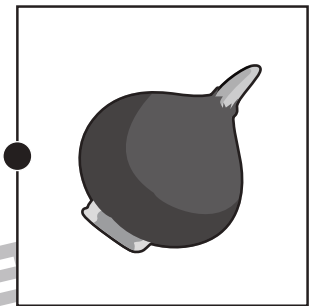





# おうちで、やろう。

Study at home. 小学校受験の家庭学習教材

## 常識：植物1

左の花の種や球根を右から選んで点と点をむすびます。



※1. このプリントは、しながわ・目黒こどもスクールのウェブサイトでダウンロードができます。無断複写・引用はご遠慮ください。  
※2. このプリントを活用したオンライン授業のスケジュールは、しながわ・目黒こどもスクールウェブサイトでご確認ください。



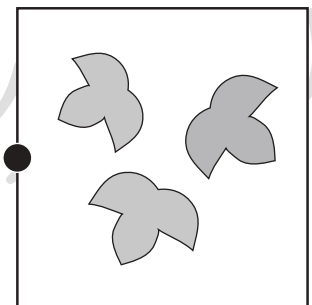

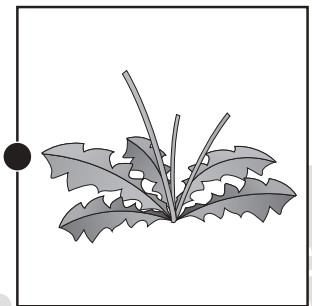
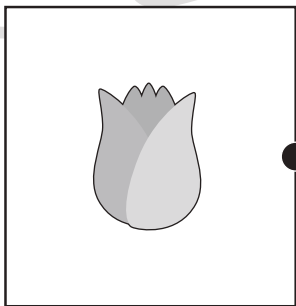
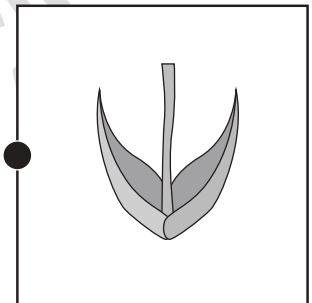
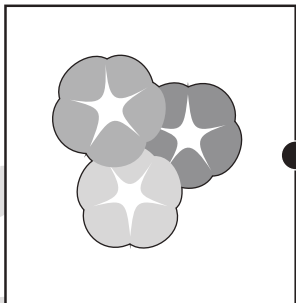


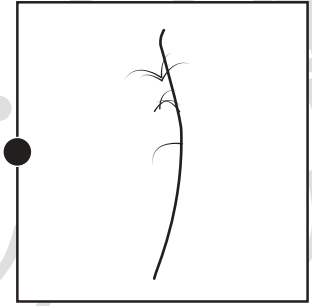



# おうちで、やろう。

Study at home. 小学校受験の家庭学習教材

## 常識：植物2

左の花の葉っぱを右から選んで点と点をむすびます。



※1. このプリントは、しながわ・目黒こどもスクールのウェブサイトでダウンロードができます。無断複写・引用はご遠慮ください。  
※2. このプリントを活用したオンライン授業のスケジュールは、しながわ・目黒こどもスクールのウェブサイトでご確認ください。



# おうちで、やろう。

Study at home. 小学校受験の家庭学習教材

図形：オセロ7

オセロは同じ色で挟むと、挟んだコマをひっくり返すことができます。この約束で、●を ♪ のマークが書かれているマスへ置きました。ひっくり返って●になるところを選んで、○の中に ( / ) 斜め線を描きましょう。また、●と○どちらのコマが多くなったかを考えて、右枠のコマの下の点線をなぞりましょう。 ※ ♪ に置いた●も忘れずに数えます。



	♪	○	○	●
○	○			
○		○		
●			●	

どちらのコマがおおいかな

しろ

くろ

○	○	○	○	♪
				○
				○
				○
		○	○	●

どちらのコマがおおいかな

しろ

くろ

○	○	♪	○	○
	○	○		
●		○		
		●		
		●		

どちらのコマがおおいかな

しろ

くろ

			○	
○		○		
○	○			
♪	○	○	●	○

どちらのコマがおおいかな

しろ

くろ

●			○	○
○		○	○	○
○	○			○
♪	○	○	○	●
○				●

どちらのコマがおおいかな

しろ

くろ

●			○	○
●	○	○	♪	○
		●	○	
	●	●	○	
○	○	○	○	

どちらのコマがおおいかな

しろ

くろ

※1. このプリントは、しながわ・目黒こどもスクールのウェブサイトでダウンロードができます。無断複写・引用はご遠慮ください。  
※2. このプリントを活用したオンライン授業のスケジュールは、しながわ・目黒こどもスクールのウェブサイトでご確認ください。





# おうちで、やろう。

Study at home. 小学校受験の家庭学習教材

図形：オセロ 8

オセロは同じ色で挟むと、挟んだコマをひっくり返すことができます。この約束で、●を ♪ のマークが書かれているマスへ置きました。ひっくり返って●になるところを選んで、○の中に ( / ) 斜め線を描きましょう。また、●と○どちらのコマが多くなったかを考えて、右枠のコマの下の点線をなぞりましょう。 ※ ♪ に置いた●も忘れずに数えます。



○	♪	○	○	●	
○	○	○			
	○		○		
	○			○	
○	○				●
○	○				

どちらのコマがおおいかな

しろ

くろ

		●			
○		○		○	
	○	○	○		
		♪	○	○	●
○			○	○	○

どちらのコマがおおいかな

しろ

くろ

○					○
●				●	○
●	●	○	○	○	♪
				○	○
			○		○
		●			●

どちらのコマがおおいかな

しろ

くろ

○				○	○
○			○		
●		○			
○	●				
♪	○	○	●	○	○

どちらのコマがおおいかな

しろ

くろ

○		●			●
○	○	○			
		♪			
		○	○		
●		○		○	
○	○	●			●

どちらのコマがおおいかな

しろ

くろ

○	○		●		○
○			○		
○		○	○		
	○		○		○
		○	○	○	
●	○	○	♪	○	●

どちらのコマがおおいかな

しろ

くろ

※1. このプリントは、しながわ・目黒こどもスクールのウェブサイトでダウンロードができます。無断複写・引用はご遠慮ください。  
※2. このプリントを活用したオンライン授業のスケジュールは、しながわ・目黒こどもスクールのウェブサイトでご確認ください。



# おうちで、やろう。

Study at home. 小学校受験の家庭学習教材

図形：オセロ 9

オセロは同じ色で挟むと、挟んだコマをひっくり返すことができます。この約束で、●を♁のマークが書かれているマスへ置きました。ひっくり返って●になるところを選んで、○の中に( / ) 斜め線を描きましょう。また、●と○どちらのコマが多くなったかを考えて、右枠のコマの下の点線をなぞりましょう。 ※ ♁に置いた●も忘れずに数えます。



	○	○	●	○	○
○			○		
	○		○		
		○	○	○	○
●	○	○	♁	○	●
○				○	○

どちらのコマがおおいかな

しろ

くろ

○				○	●
		○		○	○
		○	○		○
○	○	♁	○	○	●
	○	○	○		
○		●		●	

どちらのコマがおおいかな

しろ

くろ

○	○	○	○	○	●
○	○	○			○
○	○	○			○
○			●		○
○				○	○
	●	○	○	○	♁

どちらのコマがおおいかな

しろ

くろ

○			●		
●			○		○
○	○		○	○	●
	○	○	○	○	
			♁		
○	○	○	○	○	○

どちらのコマがおおいかな

しろ

くろ

○	○		○		
●	○	♁	○	●	
	○	○	○		
●		○		●	○
○		●	○	○	○
○		○			○

どちらのコマがおおいかな

しろ

くろ

	○	○	○		
○			○		
●	○	○	○	♁	○
○			○	○	
○		○		○	
○	●	○	○	●	○

どちらのコマがおおいかな

しろ

くろ

※1. このプリントは、しながわ・目黒こどもスクールのウェブサイトでダウンロードができます。無断複写・引用はご遠慮ください。  
※2. このプリントを活用したオンライン授業のスケジュールは、しながわ・目黒こどもスクールのウェブサイトでご確認ください。




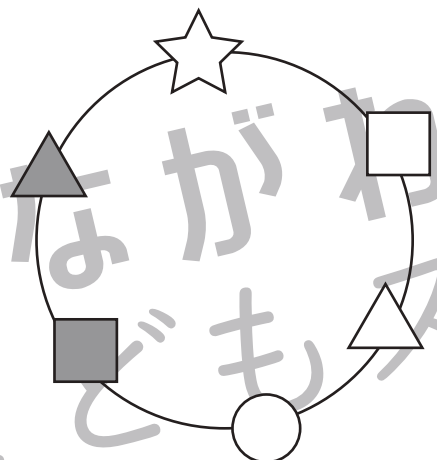

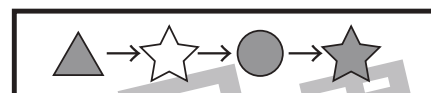
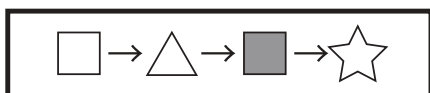
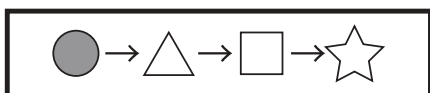
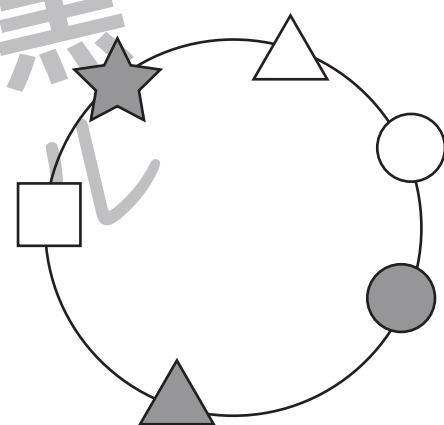

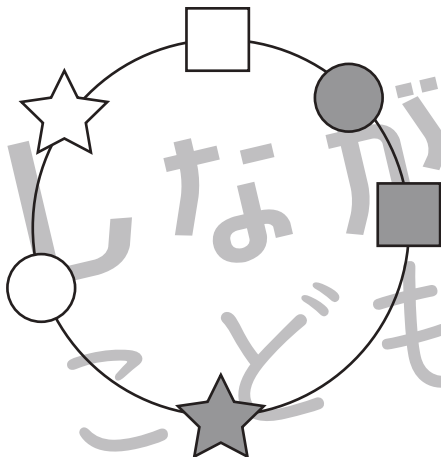
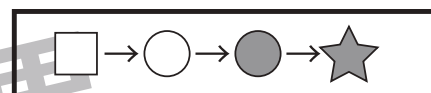
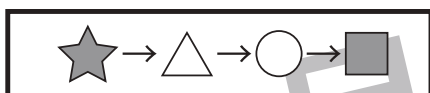
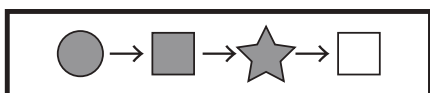
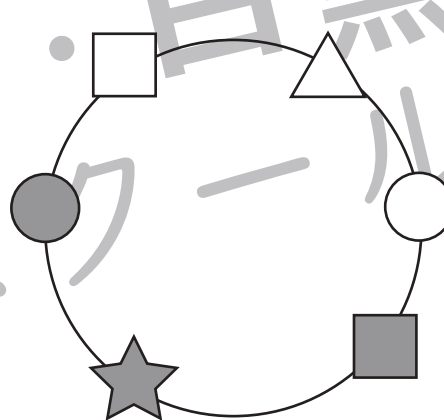

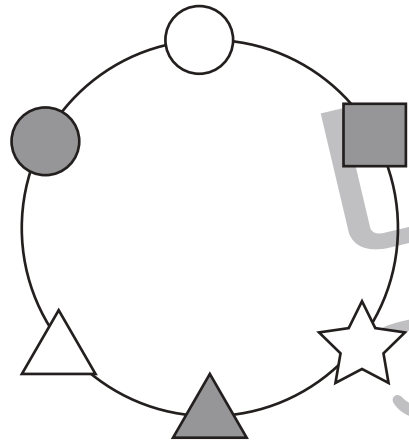
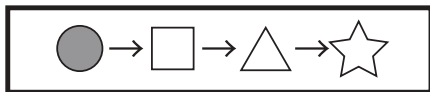
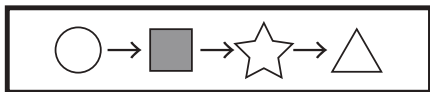


# おうちで、やろう。

Study at home. 小学校受験の家庭学習教材

## 図形：移動 20

上の太い四角の中がお手本です。お手本の順番に下の丸の中にある記号を結びます。約束の記号は左から順番に見ていきます。



※1. このプリントは、しながわ・目黒こどもスクールのウェブサイトでダウンロードができます。無断複写・引用はご遠慮ください。

※2. このプリントを活用したオンライン授業のスケジュールは、しながわ・目黒こどもスクールのウェブサイトでご確認ください。



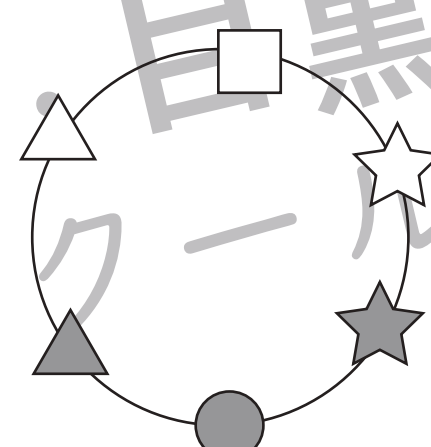
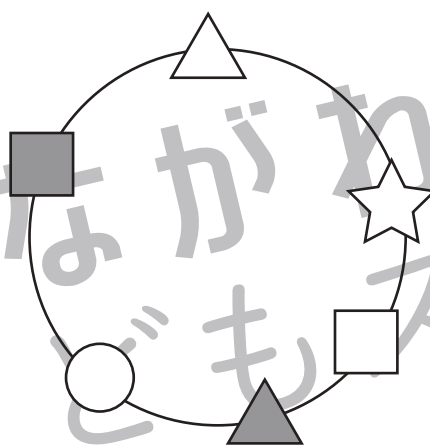
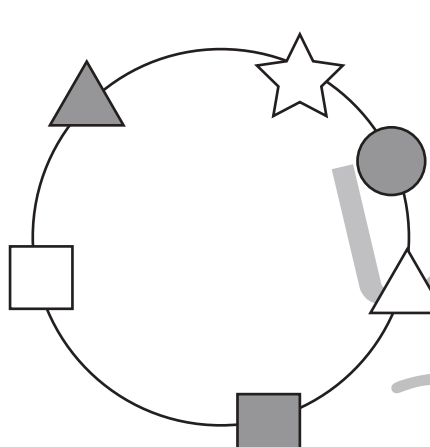
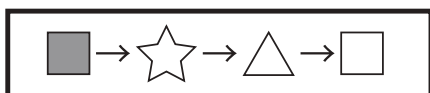
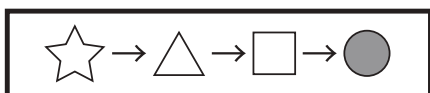
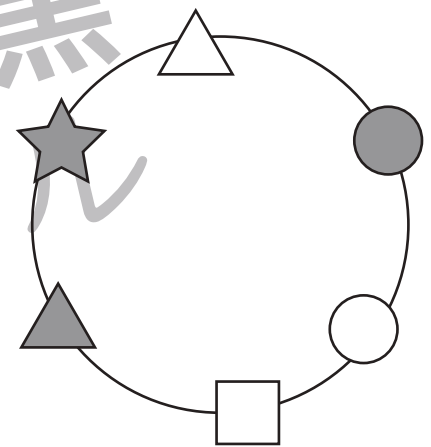

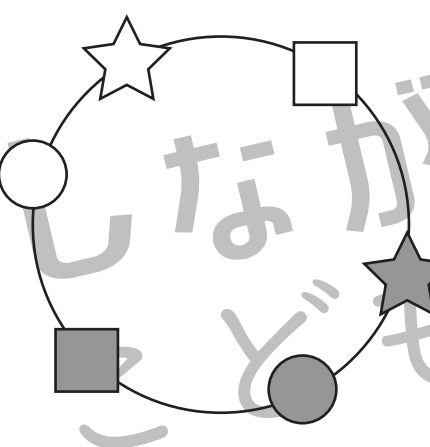
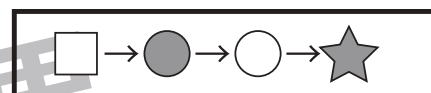
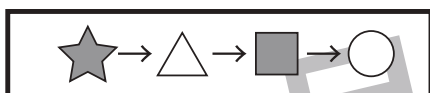
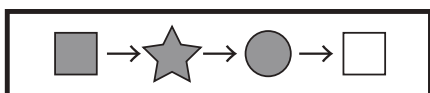
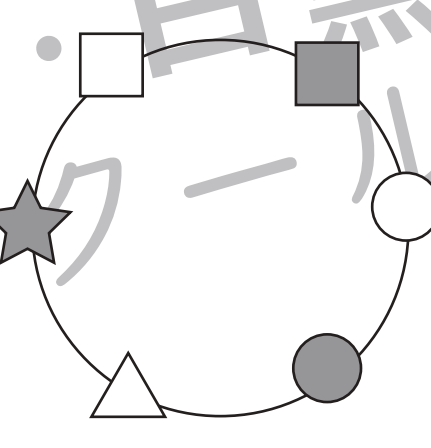

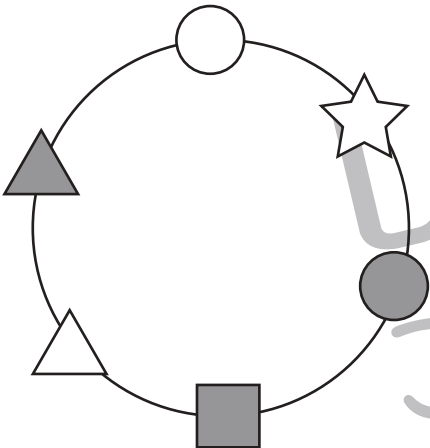
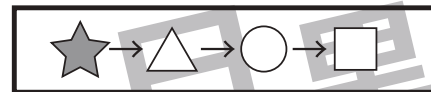
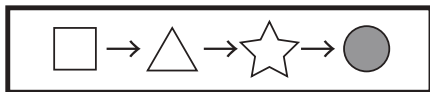
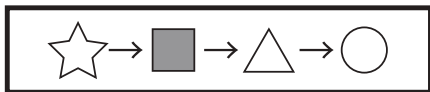


# おうちで、やろう。

Study at home. 小学校受験の家庭学習教材

## 図形：移動 21

上の太い四角の中がお手本です。お手本の順番に下の丸の中にある記号を結びます。約束の記号は左から順番に見ていきます。



※1. このプリントは、しながわ・目黒こどもスクールのウェブサイトからダウンロードできます。無断複写・引用はご遠慮ください。  
※2. このプリントを活用したオンライン授業のスケジュールは、しながわ・目黒こどもスクールのウェブサイトでご確認ください。






# おうちで、やろう。


Study at home. 小学校受験の家庭学習教材


推理：積み木 10

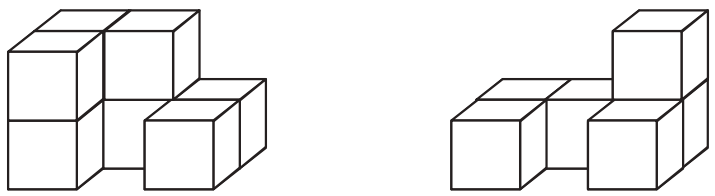
左の四角の中の2種類の積み木の数をかぞえます。

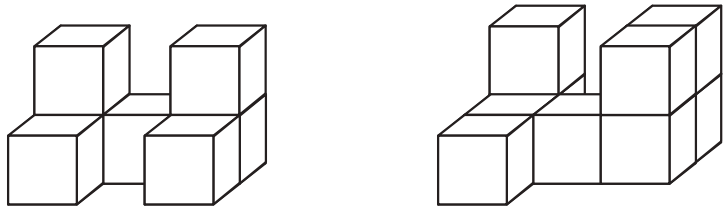
この2種類の積み木の数の違いを考えてその数だけ一番右の四角に○をかきます。

	
---	--

	
--	--

	
---	--

	
---	--

	
---	--

※1. このプリントは、しながわ・目黒こどもスクールのウェブサイトからダウンロードできます。無断複写・引用はご遠慮ください。

※2. このプリントを活用したオンライン授業のスケジュールは、しながわ・目黒こどもスクールのウェブサイトでご確認ください。





# おうちで、やろう。

Study at home. 小学校受験の家庭学習教材

## 推理：積み木 11

左の四角の中の2種類の積み木の数をかぞえます。

この2種類の積み木の数の違いを考えてその数だけ一番右の四角に○をかきます。

--	--	--

--	--	--

--	--	--

--	--	--

--	--	--

※1. このプリントは、しながわ・目黒こどもスクールのウェブサイトでダウンロードができます。無断複写・引用はご遠慮ください。

※2. このプリントを活用したオンライン授業のスケジュールは、しながわ・目黒こどもスクールのウェブサイトでご確認ください。



# おうちで、やろう。

Study at home. 小学校受験の家庭学習教材

## 図形：点図形 24

左のお手本と同じになるように右の四角に線をかきます。 ※このプリントに解答はありません。


※1. このプリントは、しながわ・目黒こどもスクールのウェブサイトでダウンロードができます。無断複写・引用はご遠慮ください。

※2. このプリントを活用したオンライン授業のスケジュールは、しながわ・目黒こどもスクールのウェブサイトでご確認ください。