

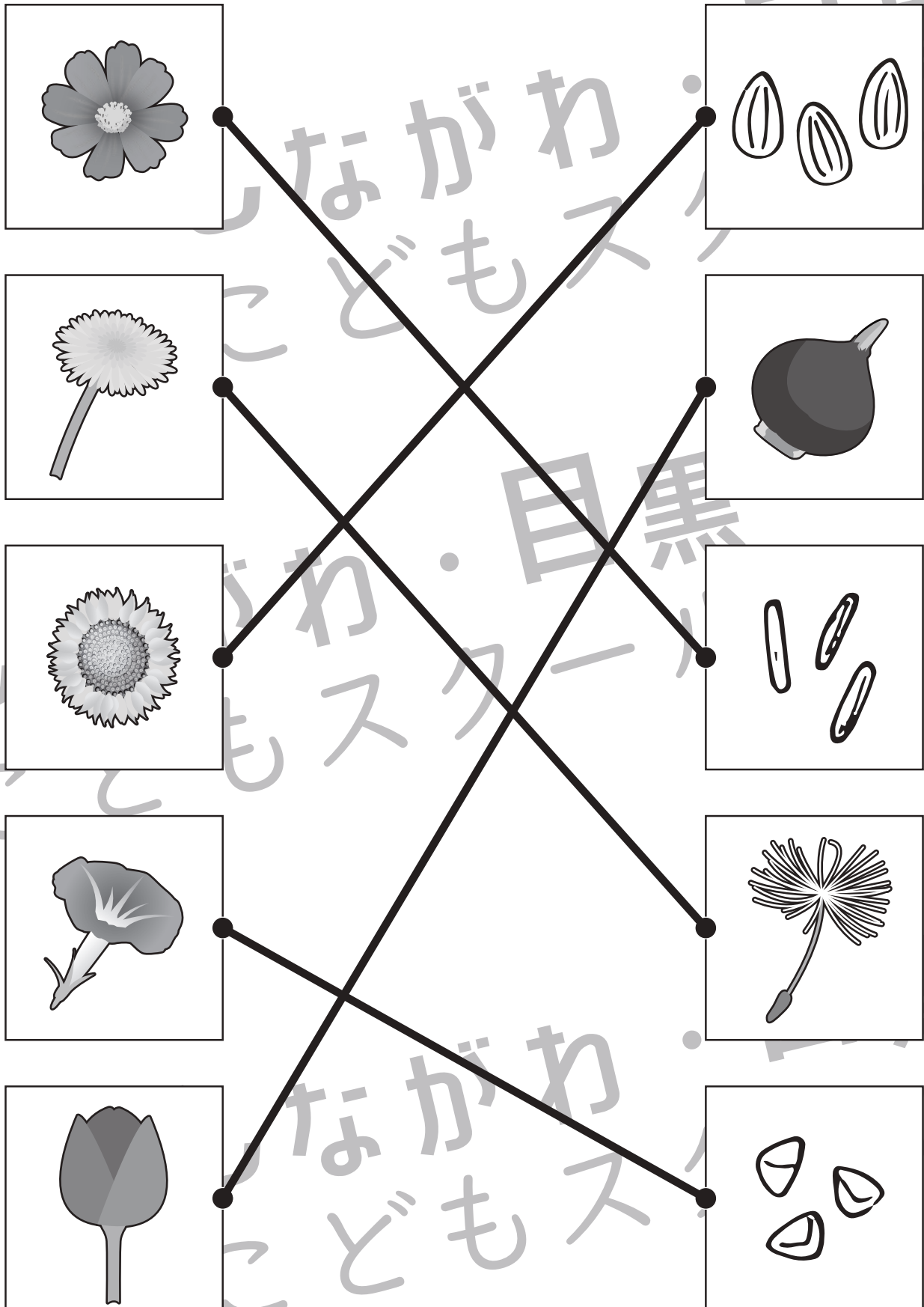


おうちで、やろう。

Study at home. 小学校受験の家庭学習教材

常識：植物1

左の花の種や球根を右から選んで点と点をむすびます。



※1. このプリントは、しながわ・目黒こどもスクールのウェブサイトでダウンロードができます。無断複写・引用はご遠慮ください。

※2. このプリントを活用したオンライン授業のスケジュールは、しながわ・目黒こどもスクールのウェブサイトでご確認ください。

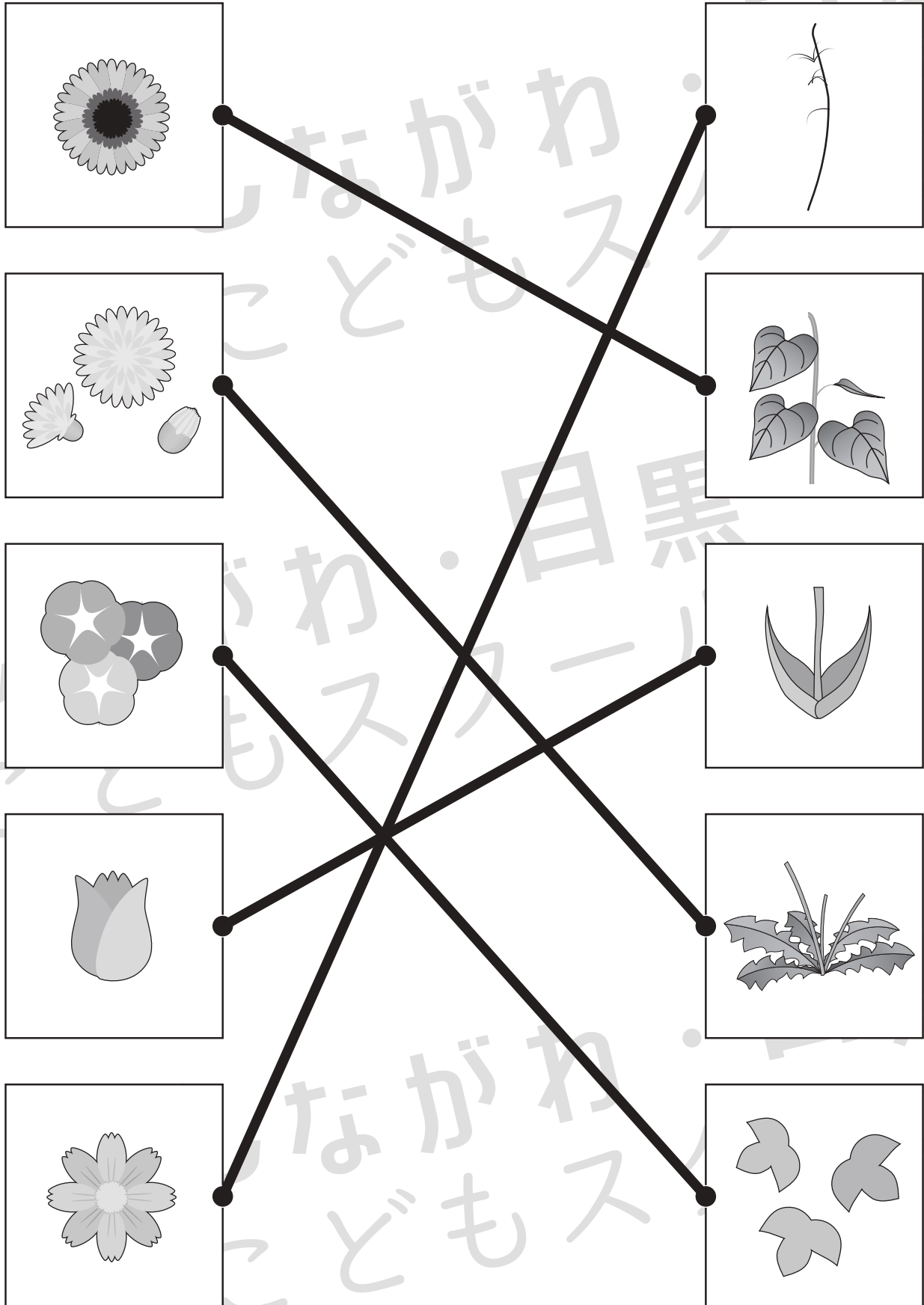


おうちで、やろう。

Study at home. 小学校受験の家庭学習教材

常識：植物2

左の花の葉っぱを右から選んで点と点をむすびます。



※1. このプリントは、しながわ・目黒こどもスクールのウェブサイトでダウンロードができます。無断複写・引用はご遠慮ください。
※2. このプリントを活用したオンライン授業のスケジュールは、しながわ・目黒こどもスクールのウェブサイトでご確認ください。





おうちで、やろう。

Study at home. 小学校受験の家庭学習教材

図形：オセロ7

オセロは同じ色で挟むと、挟んだコマをひっくり返すことができます。この約束で、●を ♪ のマークが書かれているマスへ置きました。ひっくり返って●になるところを選んで、○の中に (/) 斜め線を描きましょう。また、●と○どちらのコマが多くなったかを考えて、右枠のコマの下の点線をなぞりましょう。 ※ ♪ に置いた●も忘れずに数えます。



♪	/	/	●	
/	/			
/		/		
●			●	

どちらのコマがおおいかな

しろ

くろ

○	○	○	○	♪
				/
				/
				/
		○	○	●

どちらのコマがおおいかな

しろ

くろ

○	○	♪	○	○
	/	/		
●		/		
		●		
		●		

どちらのコマがおおいかな

しろ

くろ

			○	
○		○		
○	○			
♪	/	/	●	○

どちらのコマがおおいかな

しろ

くろ

●			○	○
/		○	○	○
/	○			○
♪	/	/	/	●
○				●

どちらのコマがおおいかな

しろ

くろ

●			○	○
●	/	/	♪	○
		●	○	
	●	●	○	
○	○	○	○	

どちらのコマがおおいかな

しろ

くろ

※1. このプリントは、しながわ・目黒こどもスクールのウェブサイトでダウンロードができます。無断複写・引用はご遠慮ください。
※2. このプリントを活用したオンライン授業のスケジュールは、しながわ・目黒こどもスクールのウェブサイトでご確認ください。





おうちで、やろう。

Study at home. 小学校受験の家庭学習教材

図形：オセロ 8

オセロは同じ色で挟むと、挟んだコマをひっくり返すことができます。この約束で、●を ♪ のマークが書かれているマスへ置きました。ひっくり返って●になるところを選んで、○の中に (/) 斜め線を描きましょう。また、●と○どちらのコマが多くなったかを考えて、右側のコマの下の点線をなぞりましょう。 ※ ♪ に置いた●も忘れずに数えます。



○	♪	○	○	●	
○	○	○			
	○		○		
	○			○	
○	○				●
○	○				

どちらのコマがおおいかな

しろ

くろ

		●			
○		○		○	
	○	○	○		
		♪	○	○	●
○			○	○	○

どちらのコマがおおいかな

しろ

くろ

○					○
●				●	○
●	●	○	○	○	♪
				○	○
			○		○
		●			●

どちらのコマがおおいかな

しろ

くろ

○				○	○
○			○		
●		○			
○	●				
♪	○	○	●	○	○

どちらのコマがおおいかな

しろ

くろ

○		●			●
○	○	○			
		♪			
		○	○		
●		○		○	
○	○	●			●

どちらのコマがおおいかな

しろ

くろ

○	○		●		○
○			○		
○		○	○		
	○		○		○
		○	○	○	
●	○	○	♪	○	●

どちらのコマがおおいかな

しろ

くろ

※1. このプリントは、しながわ・目黒こどもスクールのウェブサイトでダウンロードができます。無断複写・引用はご遠慮ください。
※2. このプリントを活用したオンライン授業のスケジュールは、しながわ・目黒こどもスクールのウェブサイトでご確認ください。



おうちで、やろう。

Study at home. 小学校受験の家庭学習教材

図形：オセロ 9

オセロは同じ色で挟むと、挟んだコマをひっくり返すことができます。この約束で、●を ♪ のマークが書かれているマスへ置きました。ひっくり返って●になるところを選んで、○の中に (/) 斜め線を描きましょう。また、●と○どちらのコマが多くなったかを考えて、右側のコマの下の点線をなぞりましょう。 ※ ♪ に置いた●も忘れずに数えます。



	○	○	●	○	○
○			/		
	○		/		
		○	/	○	○
●	/	/	♪	/	●
○				○	○

どちらのコマがおおいかな

しろ

くろ

○				○	●
		○		/	○
		○	/		○
○	○	●	/	/	●
	○	/	/		
○		●		●	

どちらのコマがおおいかな

しろ

くろ

○	○	○	○	○	●
○	○	○			/
○	○	○			/
○			●		/
○				/	/
	●	/	/	/	♪

どちらのコマがおおいかな

しろ

くろ

○			●		
●			/		○
○	/		/	○	●
	○	/	/	/	
			♪		
○	○	○	○	○	○

どちらのコマがおおいかな

しろ

くろ

○	○		○		
●	/	♪	/	●	
	/	/	/		
●		/		●	○
○		●	○	○	○
○		○			○

どちらのコマがおおいかな

しろ

くろ

	○	○	○		
○					
●	/	/	/	♪	○
○			/	/	
○		/		/	
○	●	○	○	●	○

どちらのコマがおおいかな

しろ

くろ

※1. このプリントは、しながわ・目黒こどもスクールのウェブサイトでダウンロードができます。無断複写・引用はご遠慮ください。
※2. このプリントを活用したオンライン授業のスケジュールは、しながわ・目黒こどもスクールのウェブサイトでご確認ください。



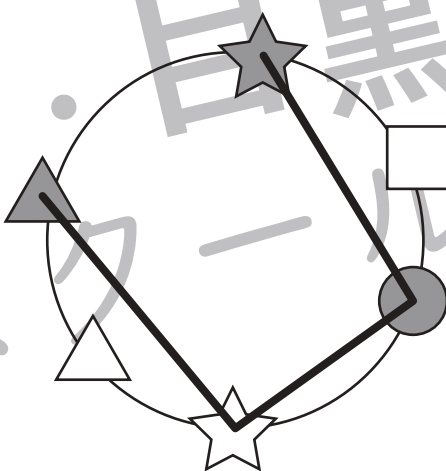
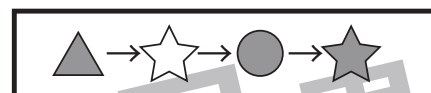
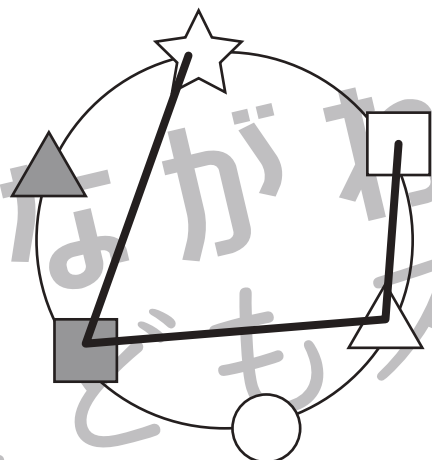
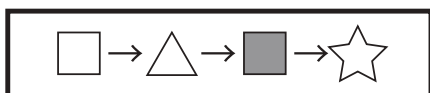
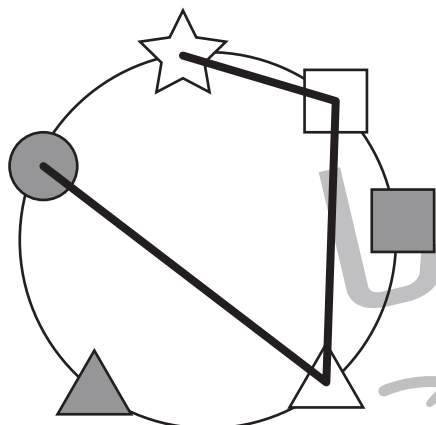
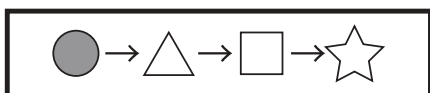
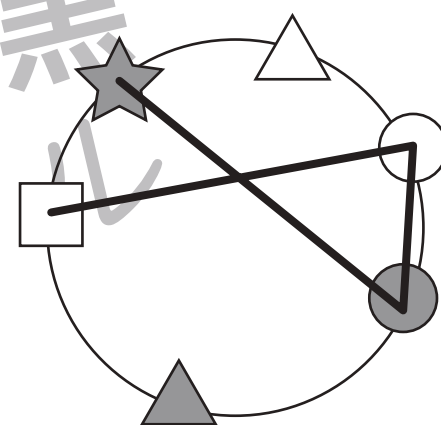
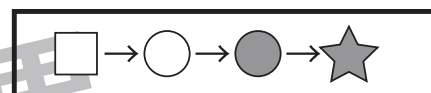
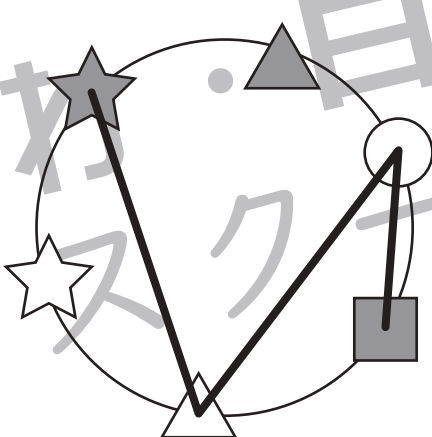
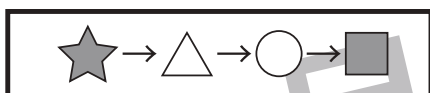
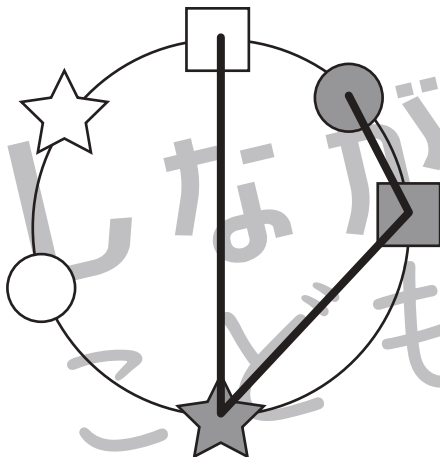
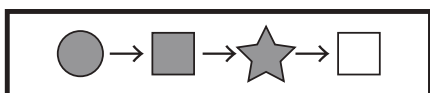
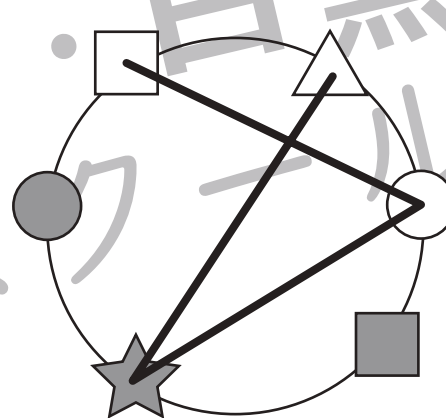
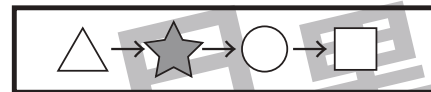
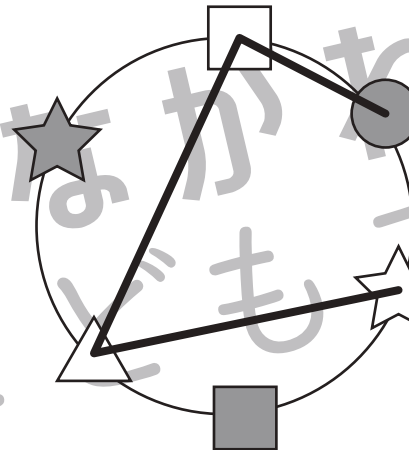
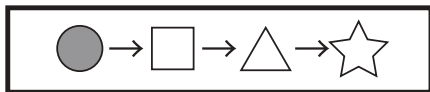
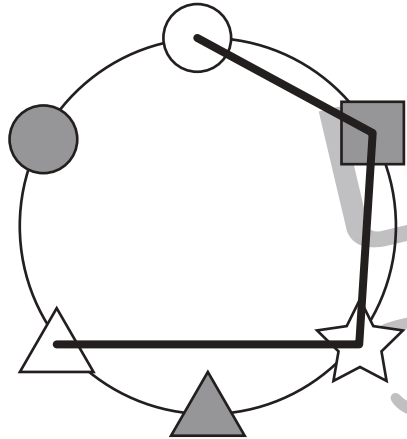
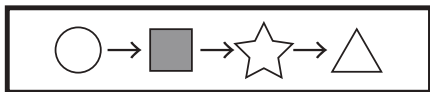


おうちで、やろう。

Study at home. 小学校受験の家庭学習教材

図形：移動 20

上の太い四角の中がお手本です。お手本の順番に下の丸の中にある記号を結びます。約束の記号は左から順番に見ていきます。



※1. このプリントは、しながわ・目黒こどもスクールのウェブサイトでダウンロードができます。無断複写・引用はご遠慮ください。
※2. このプリントを活用したオンライン授業のスケジュールは、しながわ・目黒こどもスクールのウェブサイトでご確認ください。



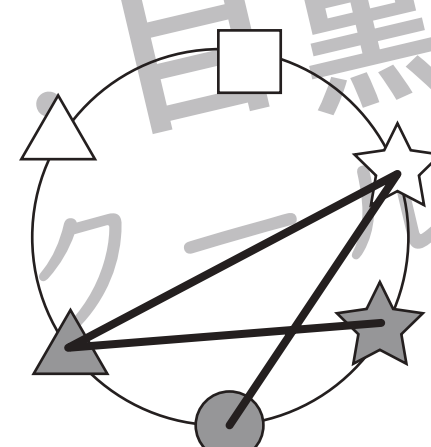
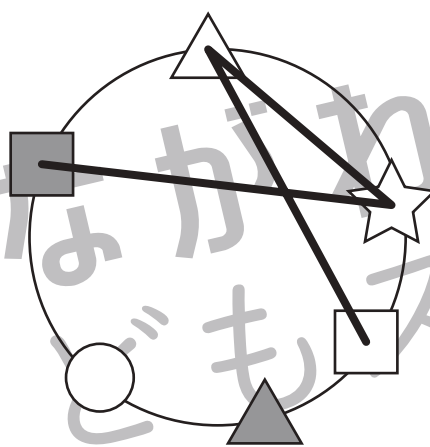
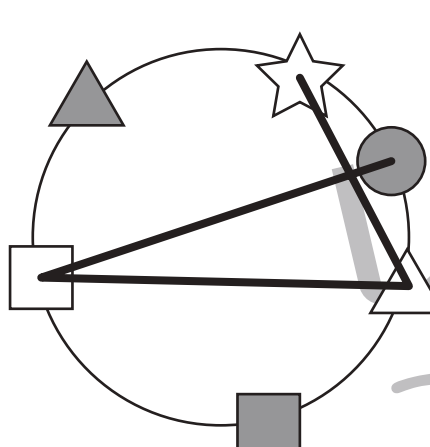
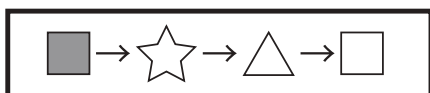
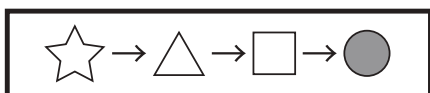
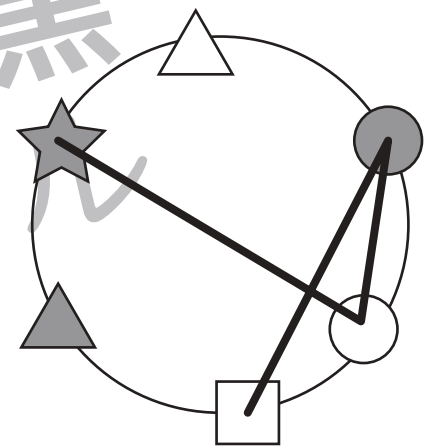
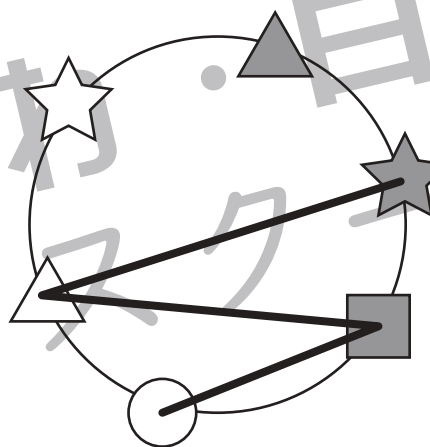
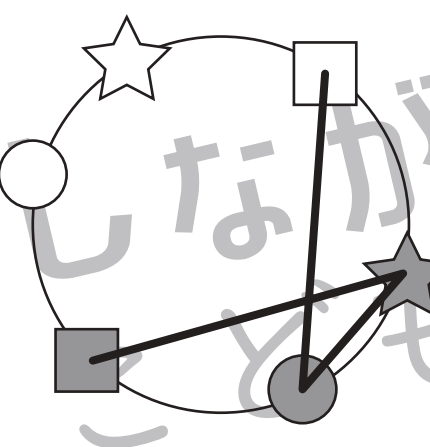
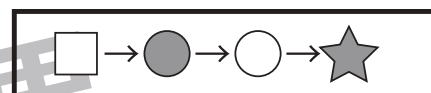
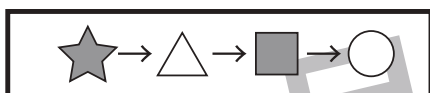
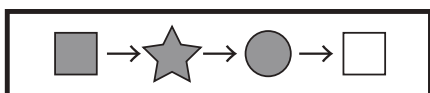
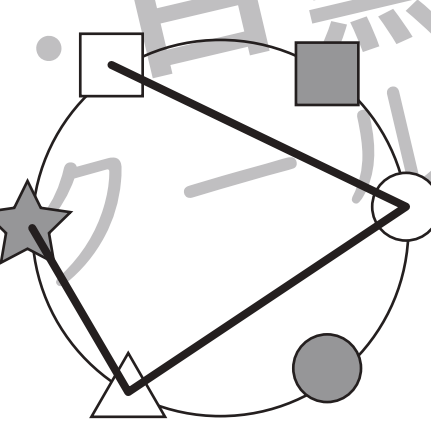
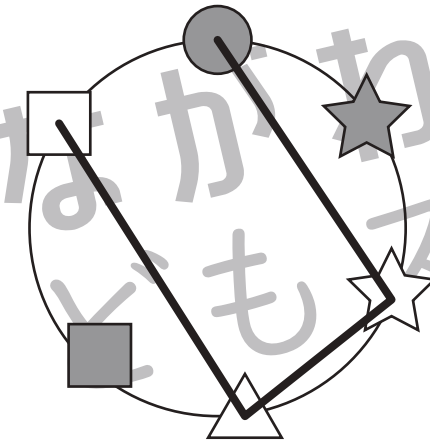
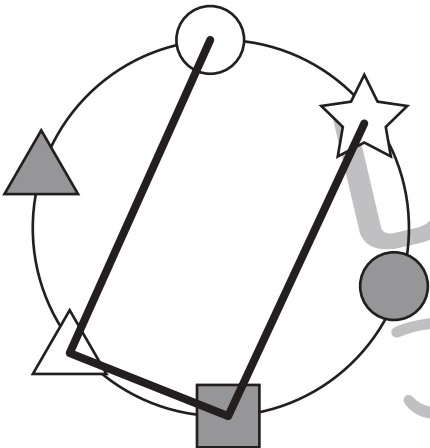
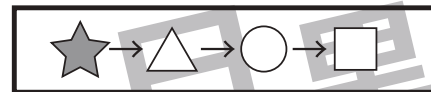
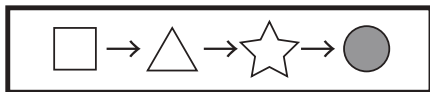
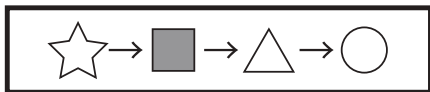


おうちで、やろう。

Study at home. 小学校受験の家庭学習教材

図形：移動 21

上の太い四角の中がお手本です。お手本の順番に下の丸の中にある記号を結びます。約束の記号は左から順番に見ていきます。



※1. このプリントは、しながわ・目黒こどもスクールのウェブサイトでダウンロードができます。無断複写・引用はご遠慮ください。
※2. このプリントを活用したオンライン授業のスケジュールは、しながわ・目黒こどもスクールのウェブサイトでご確認ください。






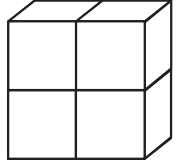
おうちで、やろう。

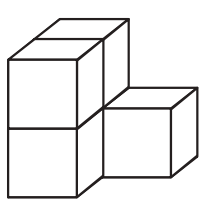
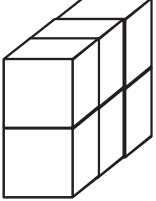
Study at home. 小学校受験の家庭学習教材

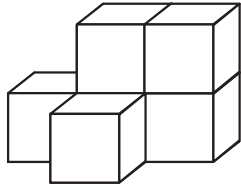
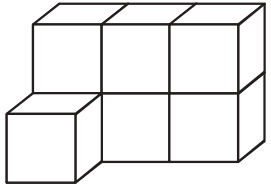
推理：積み木 10

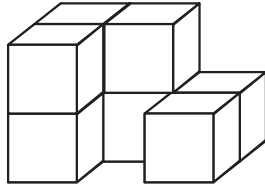
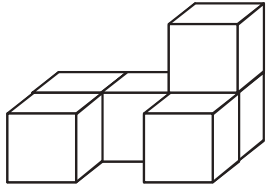
左の四角の中の2種類の積み木の数をかぞえます。

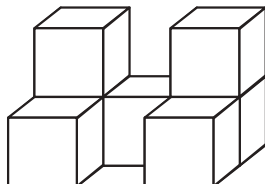
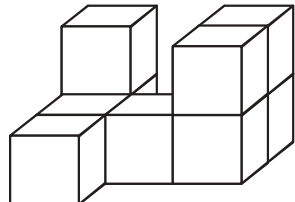
この2種類の積み木の数の違いを考えてその数だけ一番右の四角に○をかきます。

		$\bigcirc \times 1$
---	---	---------------------

		$\bigcirc \times 1$
--	--	---------------------

		$\bigcirc \times 1$
---	---	---------------------

		$\bigcirc \times 2$
---	---	---------------------

		$\bigcirc \times 2$
---	---	---------------------

※1. このプリントは、しながわ・目黒こどもスクールのウェブサイトダウンロードができます。無断複写・引用はご遠慮ください。

※2. このプリントを活用したオンライン授業のスケジュールは、しながわ・目黒こどもスクールのウェブサイトでご確認ください。



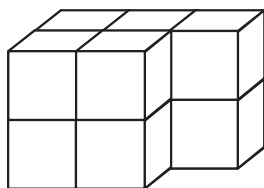
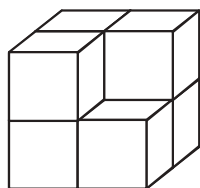
おうちで、やろう。

Study at home. 小学校受験の家庭学習教材

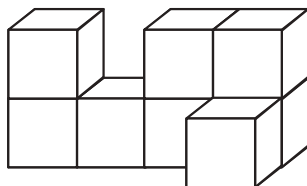
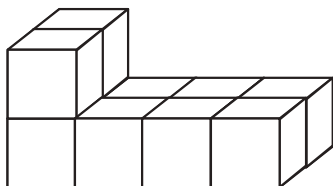
推理：積み木 11

左の四角の中の2種類の積み木の数をかぞえます。

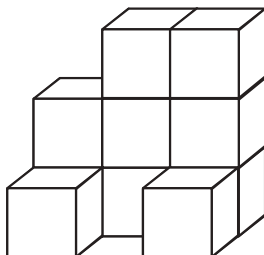
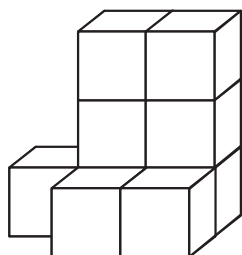
この2種類の積み木の数の違いを考えてその数だけ一番右の四角に○をかきます。



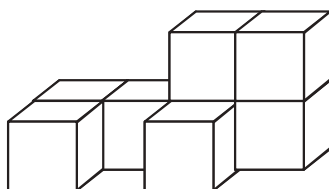

$$\bigcirc \times 3$$



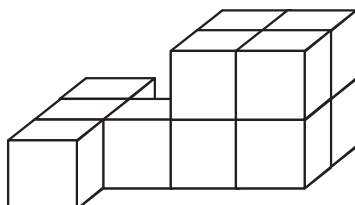
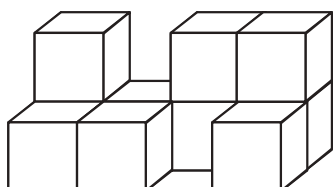
$$\bigcirc \times 2$$



$$\bigcirc \times 1$$



$$\bigcirc \times 3$$



$$\bigcirc \times 2$$

※1. このプリントは、しながわ・目黒こどもスクールのウェブサイトでダウンロードができます。無断複写・引用はご遠慮ください。

※2. このプリントを活用したオンライン授業のスケジュールは、しながわ・目黒こどもスクールのウェブサイトでご確認ください。

