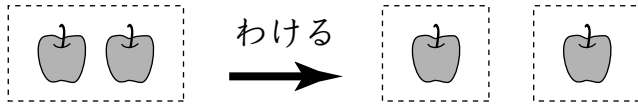


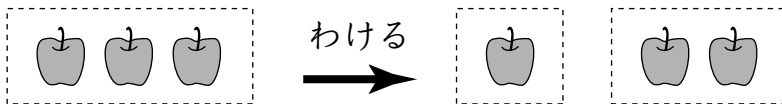
いくつと いくつ … 2から4まで

2つに わけて みよう。

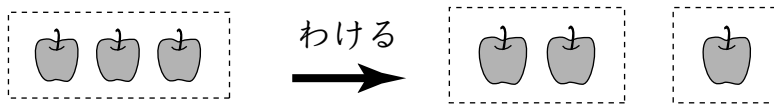


2つ は 1つと1つ に わけられるね。

3つで やって みよう。

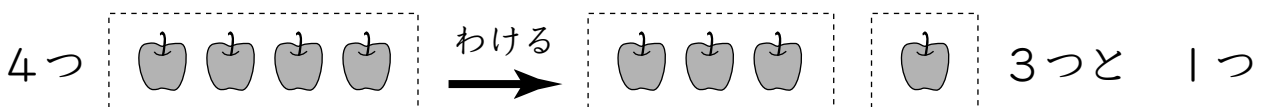
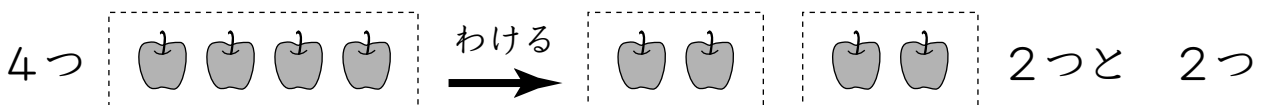
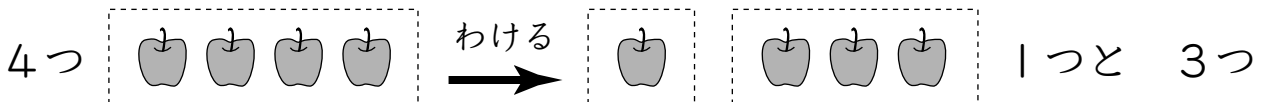


3つ は 1つと 2つ に わけられるね。



3つ は 2つ と 1つ にも わけられるね。

4つで やって みよう。



4つは、1つと 3つにも、2つと 2つにも、
3つと 1つにも わけられるんだね。



いくつと いくつ … すうじだけで かんがえよう

すうじだけで かんがえよう。

2は 1と 1に わけられる。



3は 1と 2に わけられる。



3は 2と 1にも わけられる。



4は 1と 3に わけられる。




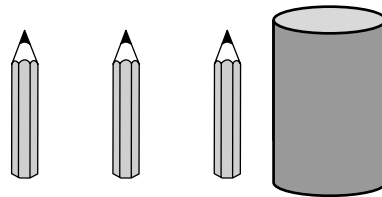
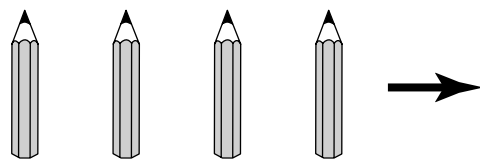

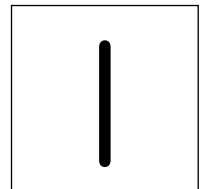
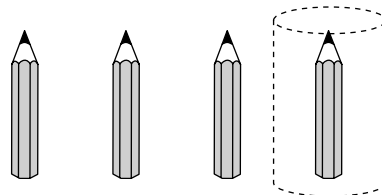
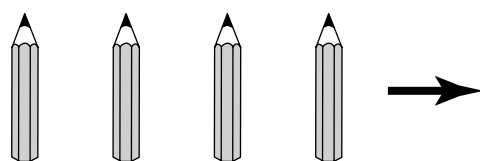
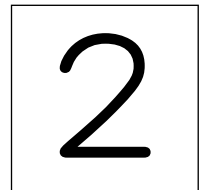
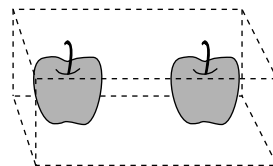
4は 2と 2にも わけられる。




4は 3と 1にも わけられる。



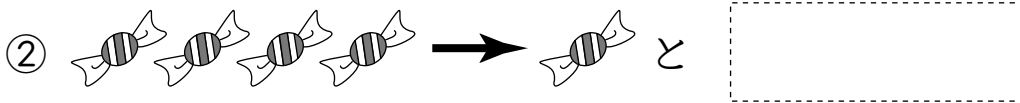

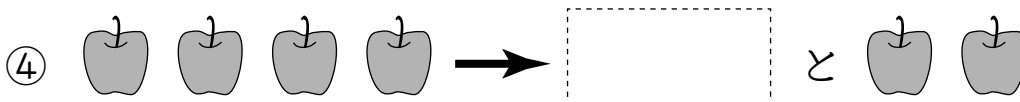
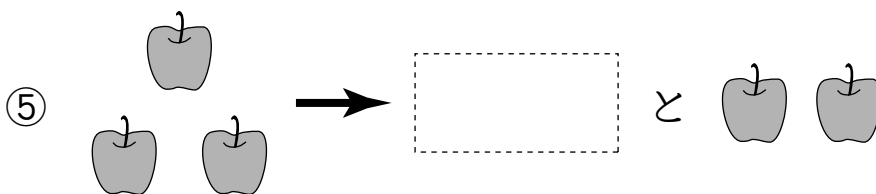
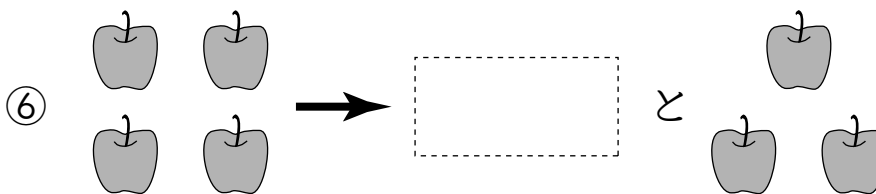
れいだい **A** かくれて いる かずを かこう。

かいとう **A**

2つに わけました。□は いくつ？



こたえ

 つ つ つ つ つ つ



2つに わけました。□に あてはまる かずを かこう。

① 3は 2 と

② 2は 1 と

③ 4は 2 と


④ 3は 1 と

⑤ 4は 1 と

⑥ 4は 3 と

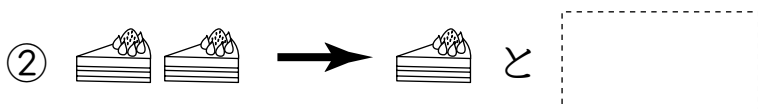


2つに わけました。□は いくつ？




こたえ


つ



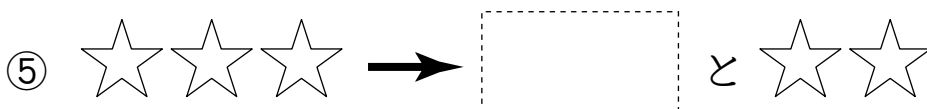
つ




つ



つ



つ



つ



2つに わけました。□に あてはまる かずを かこう。

① 2は 1 と

② 4は 1 と

③ 3は □ と 2

④ 4は 3 と

⑤ 4は □ と 2

⑥ 3は 1 と




1 2つに わけました。□は いくつ？

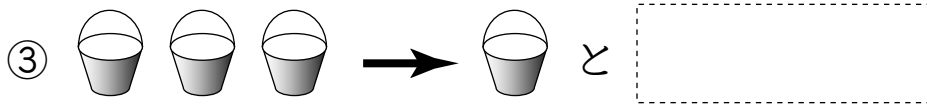


こたえ

つ



つ



つ



つ



2 2つに わけました。□に あてはまる かずを かこう。

① 4は 1 と

② 4は 2 と

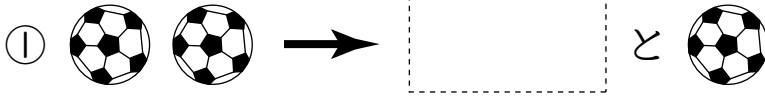
③ 2は □ と 1

④ 3は 1 と

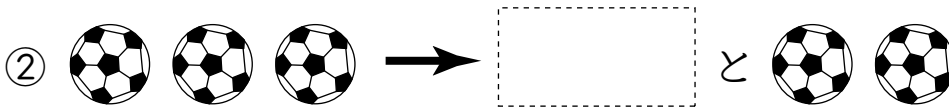


1 2つに わけました。□は いくつ？

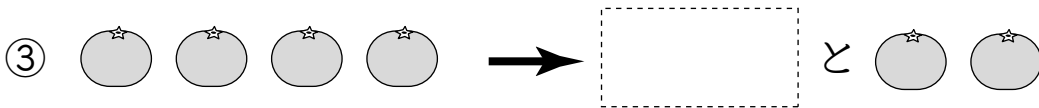
こたえ



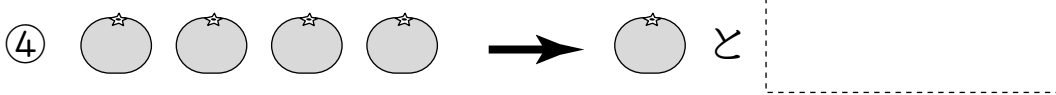
つ



つ



つ



つ



2 2つに わけました。□に あてはまる かずを かこう。

① 3は 2 と

② 2は 1 と

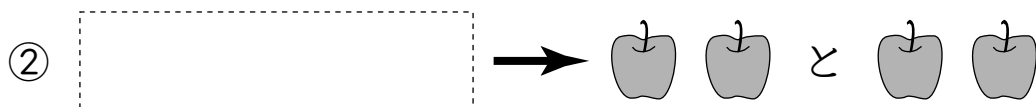
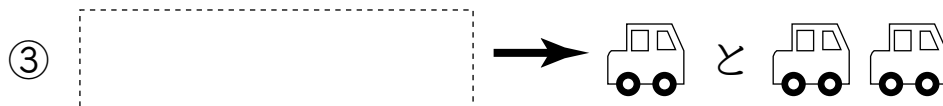
③ 4は 2 と

④ 4は 3 と

1 2つに わけました。□は いくつ？



こたえ

 つ つ つ つ

2 4この みかんを 2つに わけました。

① 1つと いくつに わけられるでしょう。

こたえ

 つ

② 2つと いくつに わけられるでしょう。

 つ



1 2つに わけました。□に あてはまる かずを かこう。

① は 2 と 2

② は 1 と 2

③ は 3 と 1

2 3つに わけました。□に あてはまる かずを かこう。

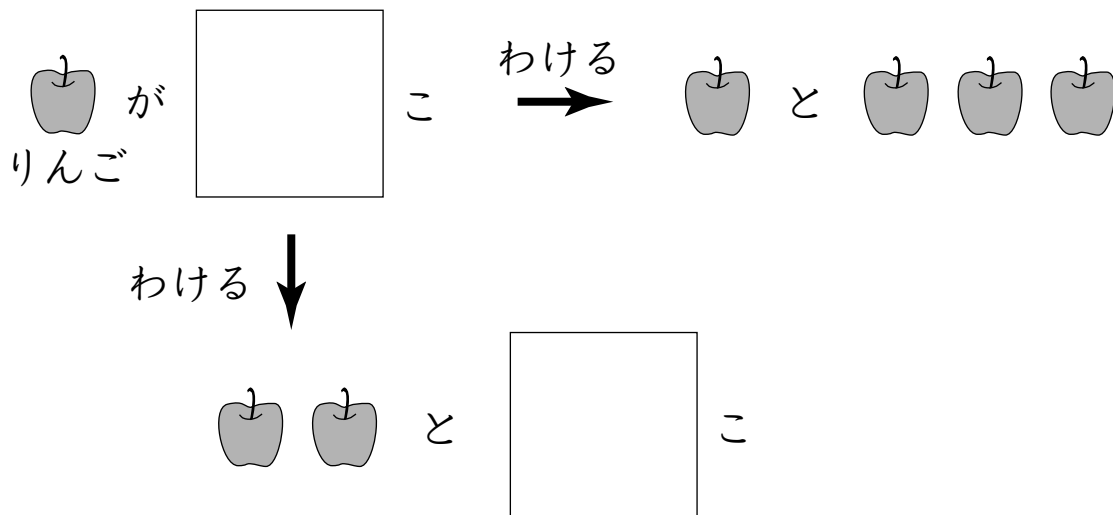
① 3は 1 と 1 と

② 4は 2 と 1 と

③ 4は 1 と と 2


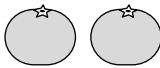
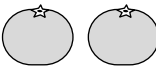


3 いくつかのりんごを2つにわけました。
□にあてはまるかずをかこう。



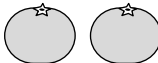


1 2つに わけました。□は いくつ？

こたえ

①  →  と 




つ

②  →  と 

つ

③  →  と 


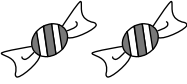
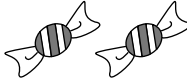
つ

④  →  と 

つ


2 いくつかの あめを 2つに わけました。

□に あてはまる かずを かこう。

 が こ  と 

わける →

わける ↓

 と こ