
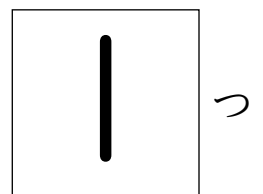
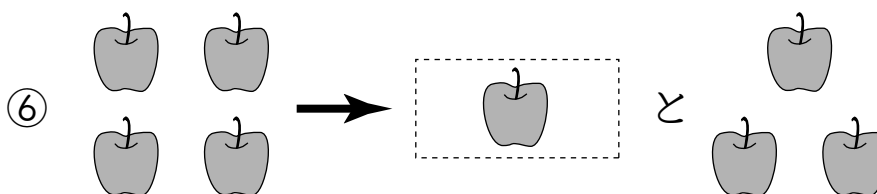
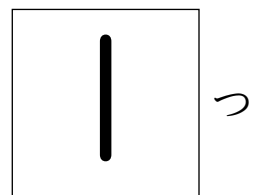
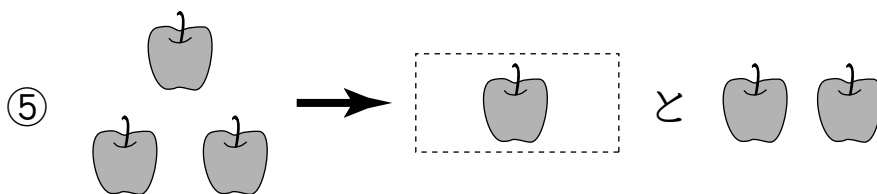
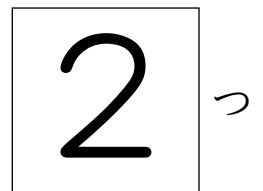

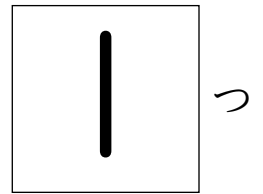

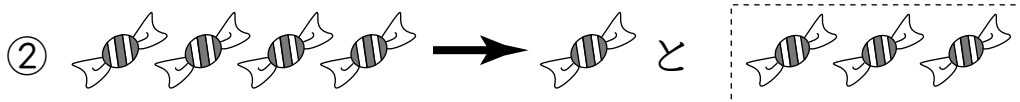
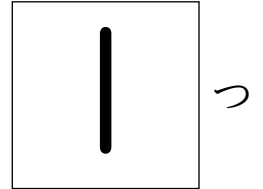


2つに わけました。□は いくつ？



こたえ




2つに わけました。□に あてはまる かずを かこう。

[せつめい]

① 3は 2 と

1




② 2は 1 と

1



③ 4は 2 と

2



④ 3は 1 と

2




⑤ 4は 1 と

3



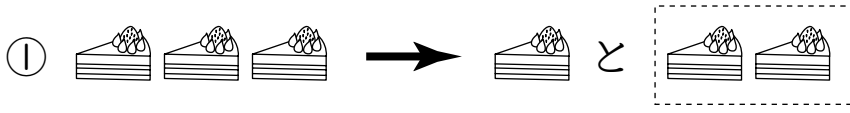
⑥ 4は 3 と

1

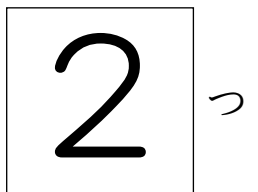

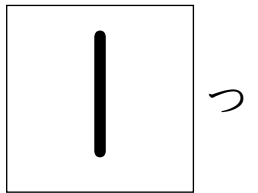
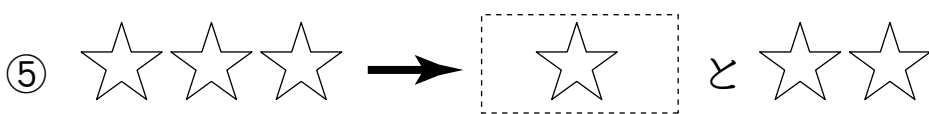
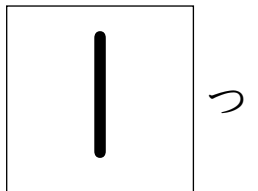

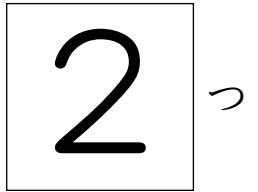

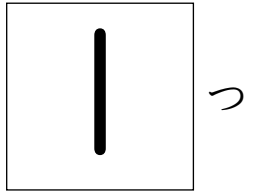
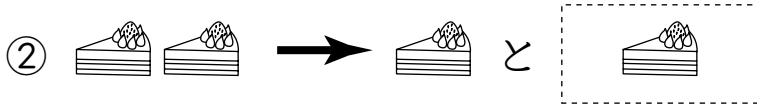
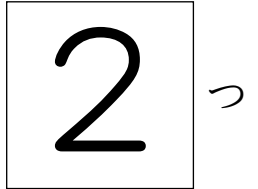




2つに わけました。□は いくつ？



こたえ





2つに わけました。□に あてはまる かずを かこう。

[せつめい]

① 2は 1 と

□
1



② 4は 1 と

□
3



③ 3は □ と 2

□
1




④ 4は 3 と

□
1



⑤ 4は □ と 2

□
2



⑥ 3は 1 と

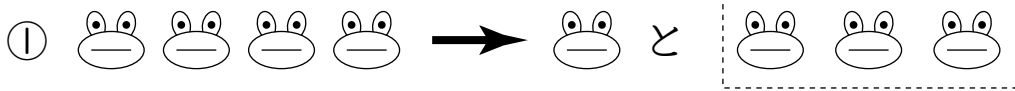
□
2






1 2つに わけました。□は いくつ？

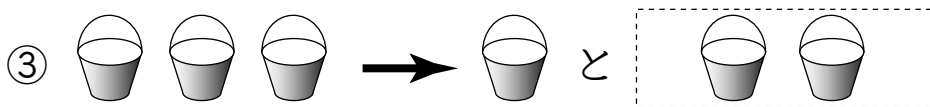
こたえ



3 つ



1 つ



2 つ



1 つ



2 2つに わけました。□に あてはまる かずを かこう。

[せつめい]

① 4は 1 と

3



② 4は 2 と

2



③ 2は □ と 1

1



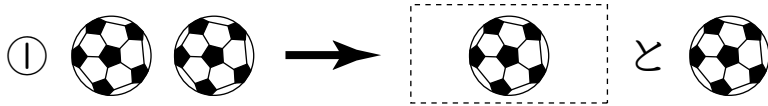
④ 3は 1 と

2



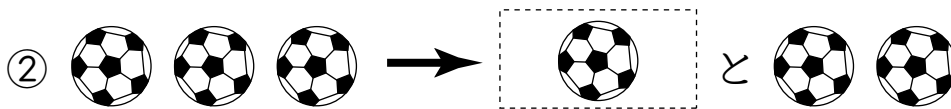


1 2つに わけました。□は いくつ？

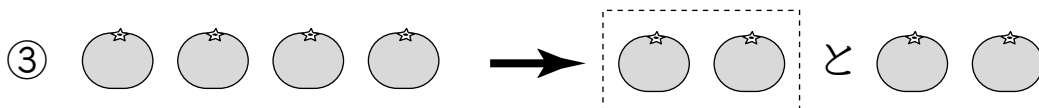


こたえ

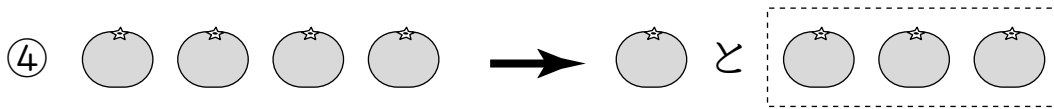
1	つ
---	---



1	つ
---	---



2	つ
---	---



3	つ
---	---




2 2つに わけました。□に あてはまる かずを かこう。

[せつめい]

① 3は 2 と

□
|



② 2は 1 と

□
|




③ 4は 2 と

□
2



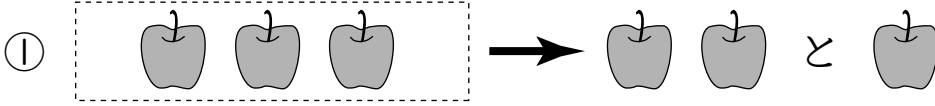
④ 4は 3 と

□
|

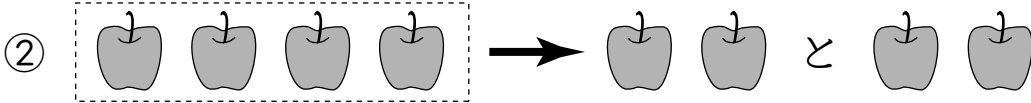


1 2つに わけました。□は いくつ?

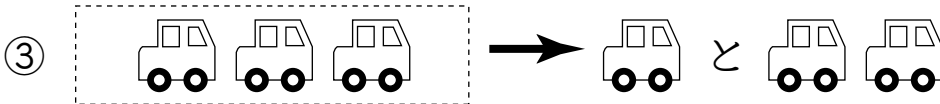
こたえ



3 つ



4 つ



3 つ



2 つ

2 4この みかんを 2つに わけました。

こたえ

① 1つと いくつに わけられるでしょう。



3 つ

② 2つと いくつに わけられるでしょう。




2 つ




1 2つに わけました。□に あてはまる かずを かこう。

[せつめい]


①




は 2 と 2




②



は 1 と 2



③



は 3 と 1

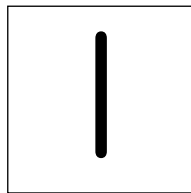


2 3つに わけました。□に あてはまる かずを かこう。

[せつめい]

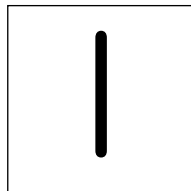
①

3は 1 と 1 と



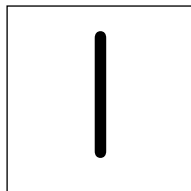
②

4は 2 と 1 と



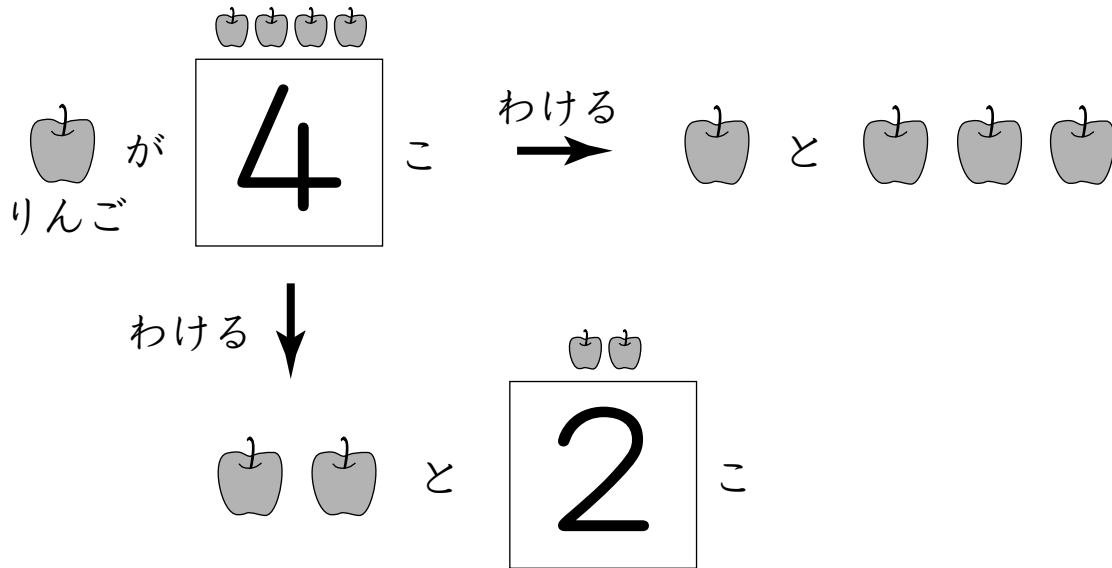
③

4は 1 と □ と 2



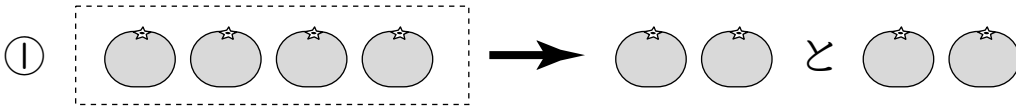


3 いくつかのりんごを2つにわけました。
□にあてはまるかずをかこう。

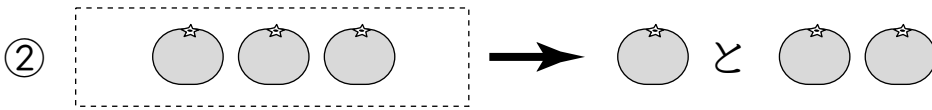


1 2つに わけました。□は いくつ？

こたえ



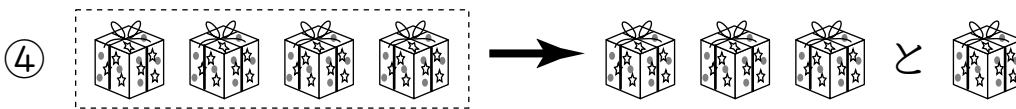
4 つ



3 つ



2 つ



4 つ

2 いくつかの あめを 2つに わけました。

□に あてはまる かずを かこう。

