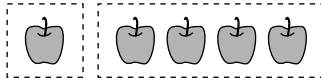



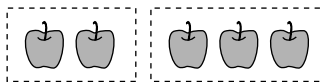
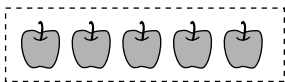
## いくつと いくつ … 5と6

2つに わけて みよう。

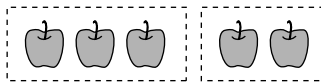
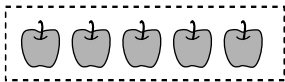
5つで やって みよう。



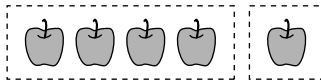
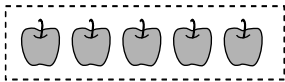
1つと 4つ



2つと 3つ

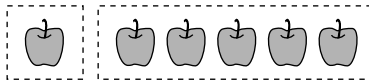
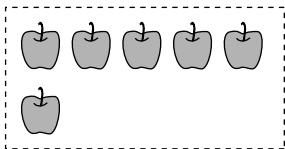


3つと 2つ

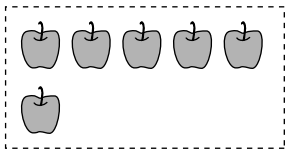


4つと 1つ

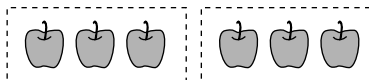
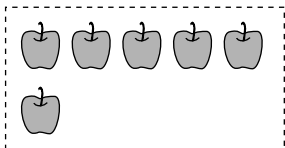
6つで やって みよう。



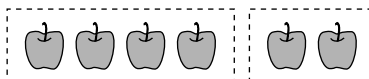
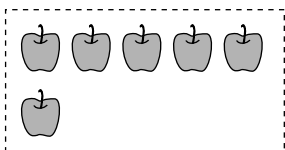
1つと 5つ



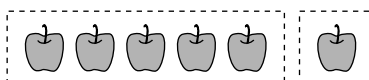
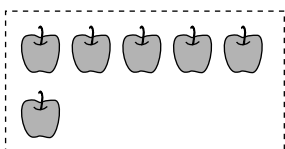
2つと 4つ



3つと 3つ



4つと 2つ



5つと 1つ

## いくつと いくつ … すうじだけで かんがえよう

---

すうじだけで かんがえよう

5は 1と 4に わけられる。



5は 2と 3にも わけられる。



5は 3と 2にも わけられる。



5は 4と 1にも わけられる。



6は 1と 5に わけられる。



6は 2と 4にも わけられる。



6は 3と 3にも わけられる。




6は 4と 2にも わけられる。


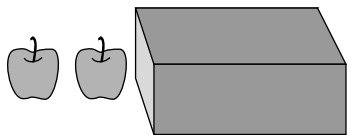



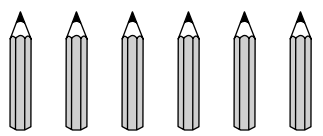
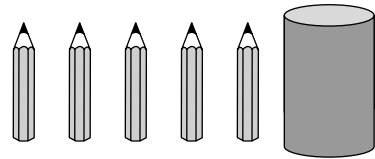

6は 5と 1にも わけられる。


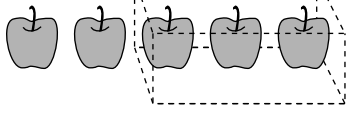



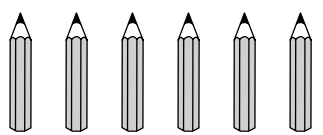
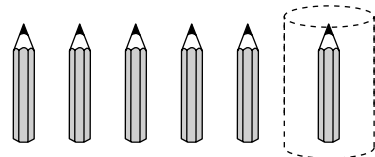
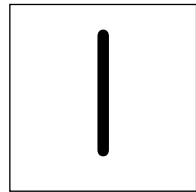
# いくつと いくつ ... すうじだけで かんがえよう

れいだい  かくれて いる かずを かこう。

 →  





 →  

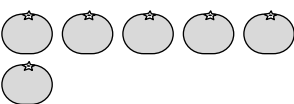



こたえ  →  


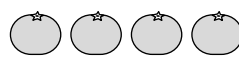


 →  

2つに わけました。□は いくつ？

こたえ

①  →  と   つ

②  →  と   つ

③  →  と   つ

④  →  と   つ

⑤  →  と   つ

⑥  →  と   つ

⑦  →  と   つ



2つに わけました。 □に あてはまる かずを かこう。

① 5は 2 と

② 6は 4 と

③ 5は 1 と

④ 5は 3 と

⑤ 6は  と 5




⑥ 6は  と 3

⑦ 5は  と 4







2つに わけました。□は いくつ？


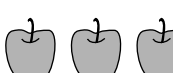

こたえ

①  →  と 




つ

②   
 →  と 




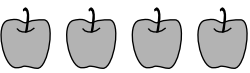
つ

③  →  と 




つ

④  →  と 





つ

⑤   
 →  と 

つ

⑥  →  と 

つ

⑦   
 →  と 

つ



2つに わけました。 □に あてはまる かずを かこう。

① 5は 4 と

② 6は 3 と

③ 5は 3 と

④ 5は 1 と

⑤ 6は  と 5



⑥ 6は  と 4





⑦ 5は  と 2







1 2つに わけました。 □は いくつ？

こたえ

①  →  と   つ

②  →  と   つ

③  →  と   つ

④  →  と   つ





2 2つに わけました。 □に あてはまる かずを かこう。

① 6は 4 と




② 5は 2 と

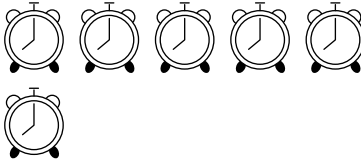


③ 5は  と 1




④ 6は  と 3






1 2つに わけました。 □は いくつ？

①  →  と  こたえ  
□ つ

②  →  と  こたえ  
□ つ

③  →  と  こたえ  
□ つ

④  →  と  こたえ  
□ つ



2 2つに わけました。 □に あてはまる かずを かこう。

① 5は 1 と

② 6は 3 と

③ 6は


と 4

④ 5は


と 2

1 2つに わけました。 □は いくつ？


こたえ




つ



つ



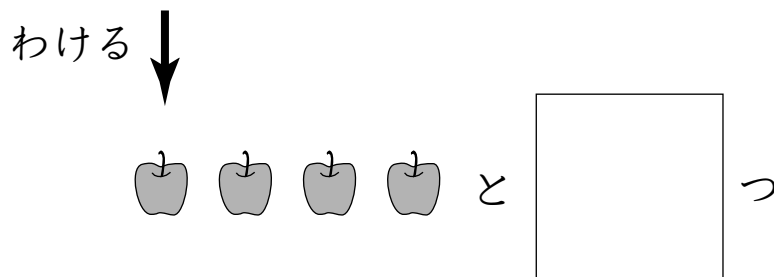
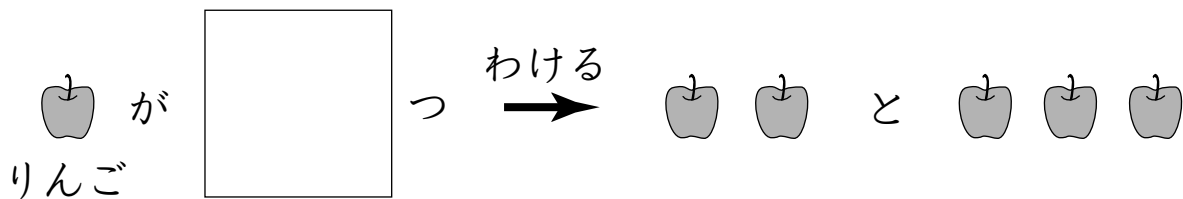
つ



つ

2 いくつかの りんごを 2つに わけました。

□に あてはまる かずを かこう。



1 2つに わけました。□に あてはまる かずを かこう。

①

は 3 と 1

②

は 2 と 4

③

は 3 と 2

④

は 5 と 1

2 5この みかんを 2つに わけました。

① 1つと いくつに わけられるでしょう。

つ

② 2つと いくつに わけられるでしょう。



つ

③ 3つと いくつに わけられるでしょう。


つ

1 2つに わけました。 □は いくつ？



こたえ




つ



つ



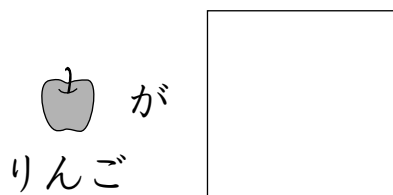
つ



つ

2 いくつかの りんごを 2つに わけました。

□に あてはまる かずを かこう。



わける



わける

