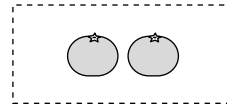


2つに わけました。□は いくつ？

①



と

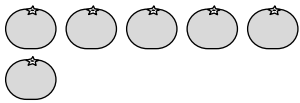


こたえ

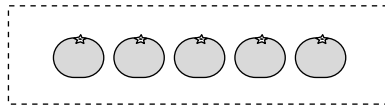
2

つ

②



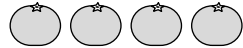
と



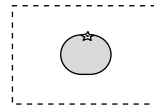
5

つ

③



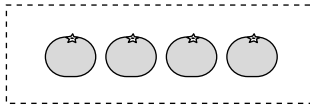
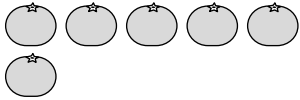
と



1

つ

④



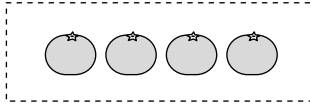
と



4

つ

⑤



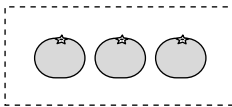
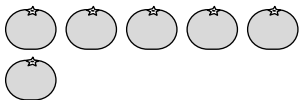
と



4

つ

⑥



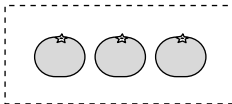
と



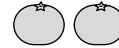
3

つ

⑦



と



3

つ

2つに わけました。 □に あてはまる かずを かこう。

[せつめい]


① 5は 2 と

3




② 6は 4 と

2




③ 5は 1 と

4



④ 5は 3 と


2



⑤ 6は

1


と 5



⑥ 6は

3


と 3



⑦ 5は

1

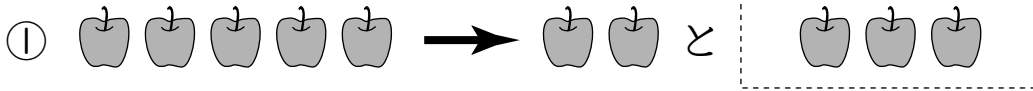
と 4



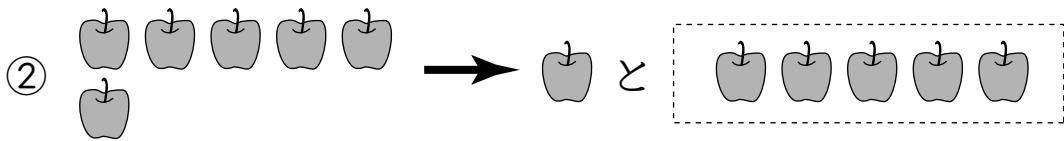


2つに わけました。□は いくつ？

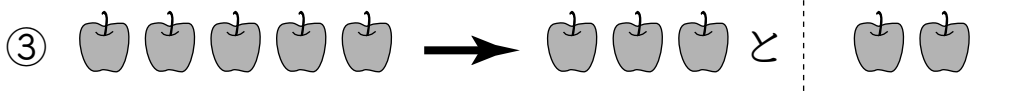
こたえ



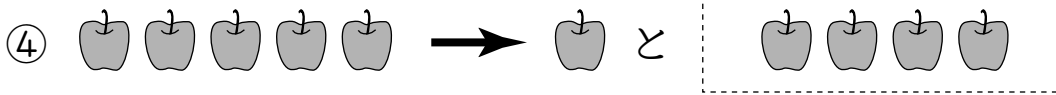
3 つ



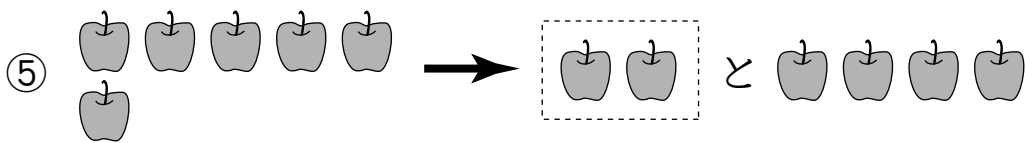
5 つ




2 つ



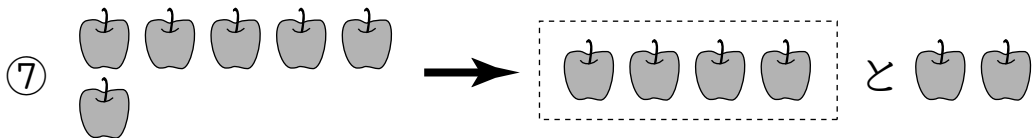
4 つ



2 つ



2 つ



4 つ




2つに わけました。 □に あてはまる かずを かこう。

[せつめい]


① 5は 4 と

1




② 6は 3 と

3



③ 5は 3 と

2




④ 5は 1 と

4




⑤ 6は □ と 5

1



⑥ 6は □ と 4

2




⑦ 5は □ と 2

3





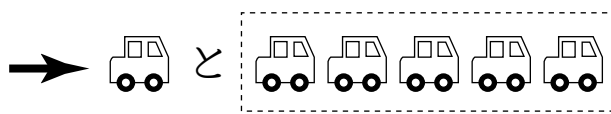

1 2つに わけました。 □は いくつ？



こたえ


2

つ





5

つ



4

つ



3

つ




2 2つに わけました。 □に あてはまる かずを かこう。

[せつめい]

① 6は 4 と

2



② 5は 2 と

3



③ 5は

4

と 1



④ 6は




3




と 3











1 2つに わけました。 □は いくつ？

①  →  と  こたえ  
**1** つ

②  →  と  **4** つ

③  →  と  **3** つ

④  →  と  **2** つ



2 2つに わけました。□に あてはまる かずを かこう。

[せつめい]

① 5は 1 と

4



② 6は 3 と

3



③ 6は と 4

2



④ 5は と 2

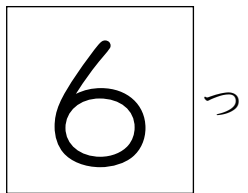
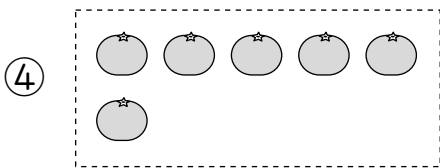
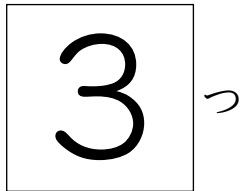
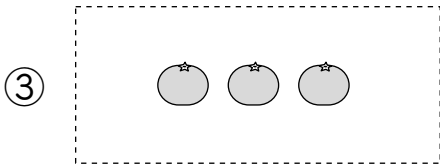
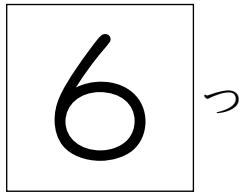
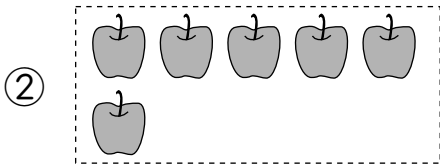
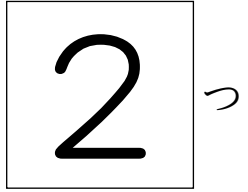

3





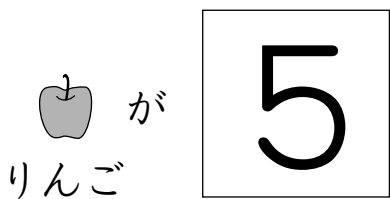
1 2つに わけました。 □は いくつ？

こたえ

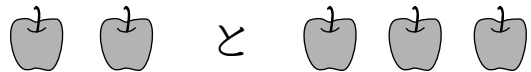


2 いくつかの りんごを 2つに わけました。

□に あてはまる かずを かこう。



わける





わける







1 2つに わけました。□に あてはまる かずを かこう。

① 4 は 3 と 1 [せつめい] 

② 6 は 2 と 4 

③ 5 は 3 と 2 

④ 6 は 5 と 1 

2 5この みかんを 2つに わけました。




① 1つと いくつに わけられるでしょう。 4 っ


② 2つと いくつに わけられるでしょう。 3 っ

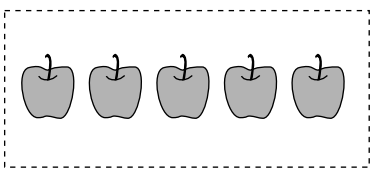


③ 3つと いくつに わけられるでしょう。 2 っ


1 2つに わけました。 □は いくつ？

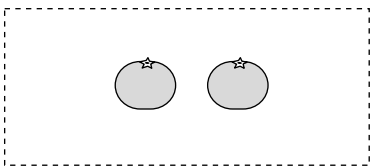


こたえ


①  →  と 

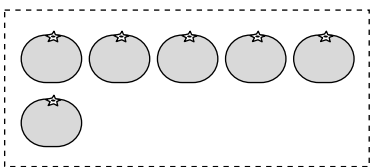
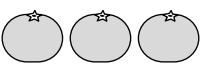
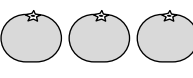
 つ


②  →  と 

 つ



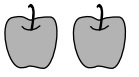

③  →  と 



 つ

④  →  と 

 つ

2 いくつかの りんごを 2つに わけました。  
□に あてはまる かずを かこう。

  
りんご が  つ わける →  と 

わける ↓  
 と  つ