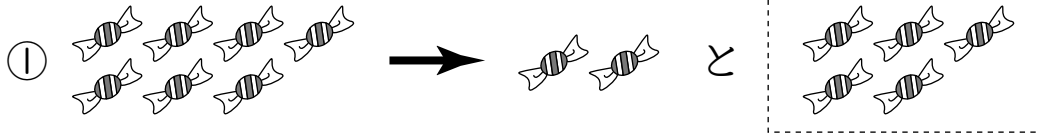
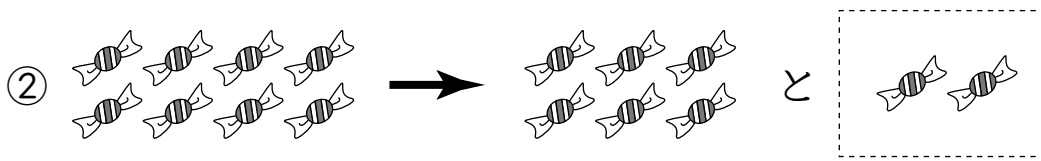


2つに わけました。□は いくつ？




こたえ

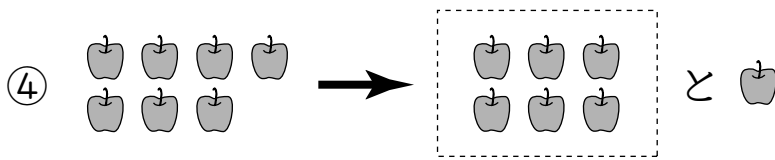
5 つ



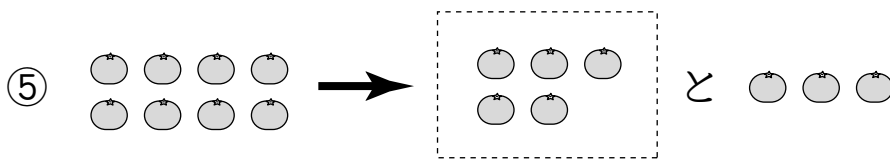
2 つ



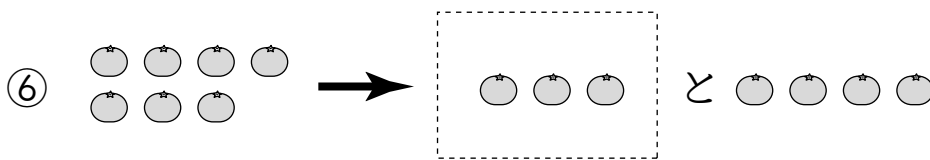
4 つ



6 つ



5 つ



3 つ

2つに わけました。□に あてはまる かずを かこう。

[せつめい]

① 7は 1 と

6




② 8は 3 と

5



③ 8は 2 と 6

2



④ 7は 4 と

3




⑤ 8は 4 と 4

4



⑥ 7は 2 と 5


2






2つに わけました。□は いくつ？


こたえ



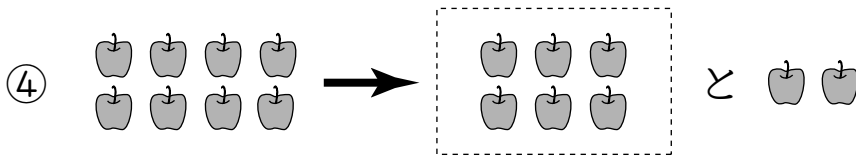
3 つ



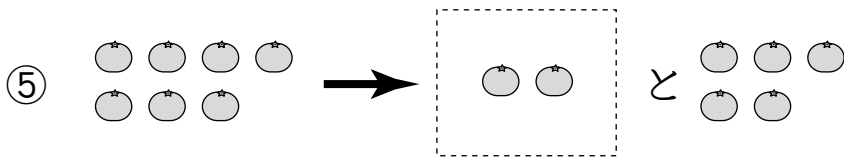
7 つ



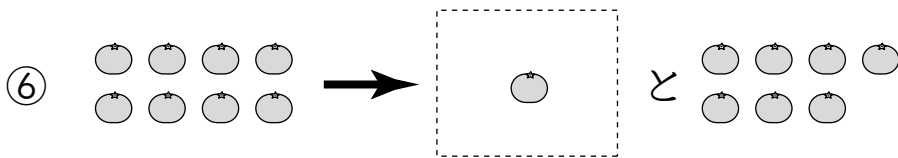
4 つ



6 つ



2 つ



1 つ



2つに わけました。□に あてはまる かずを かこう。

① 8は □ と 7

□ containing the number 1

[せつめい]



② 7は 6 と □

□ containing the number 1




③ 7は 3 と □

□ containing the number 4



④ 8は □ と 5

□ containing the number 3



⑤ 7は □ と 1

□ containing the number 6



⑥ 8は 2 と □

□ containing the number 6





1 2つに わけました。□は いくつ？

①  →  と  こたえ 6 つ


②  →  と  こたえ 3 つ


③  →  と  こたえ 3 つ


④  →  と  こたえ 1 つ


2 2つに わけました。□に あてはまる かずを かこう。

[せつめい]

① 7は 5 と 2 

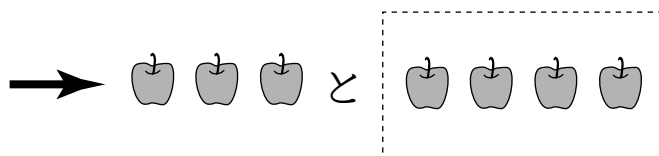

② 8は 3 と 5 

③ 7は 6 と 1 

④ 8は 4 と 4 

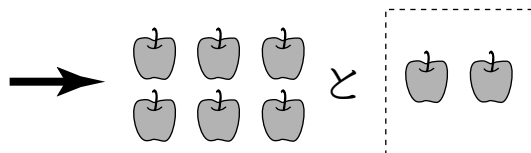



1 2つに わけました。□は いくつ？

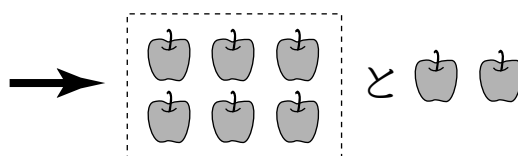



こたえ

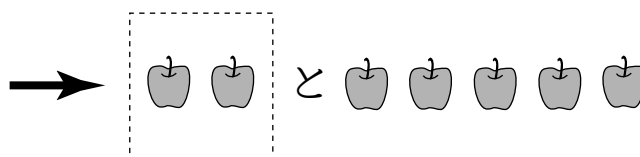

**4** つ



**2** つ



**6** つ



**2** つ

2 2つに わけました。□に あてはまる かずを かこう。

[せつめい]

① 8は


**5**

と 3



② 7は 6 と

**1**



③ 7は

**5**

と 2



④ 8は 7 と

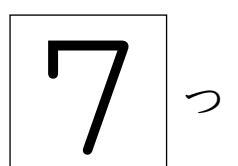
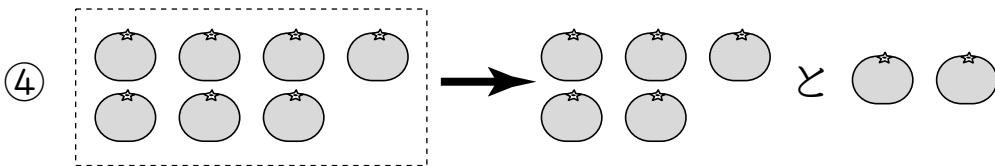
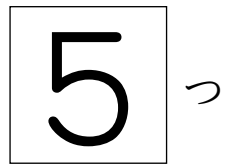
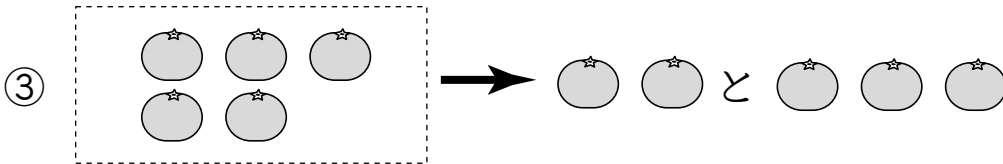
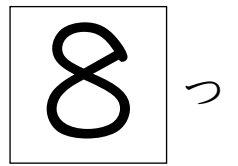
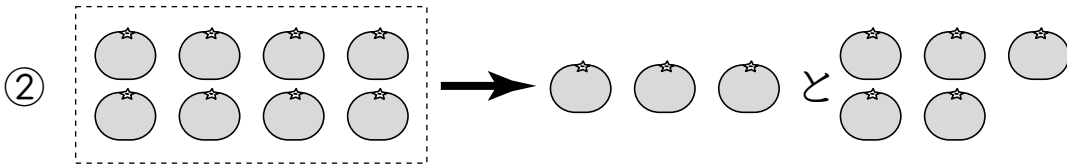
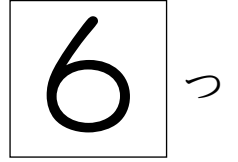
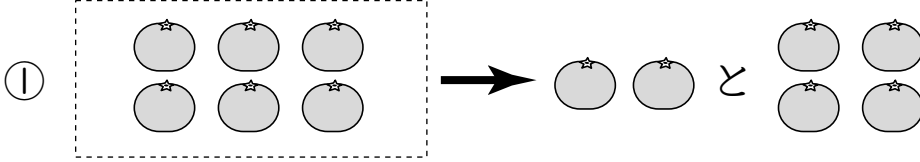
**1**





1 2つに わけました。□は いくつ？

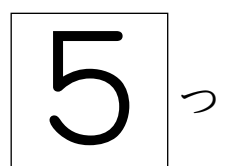
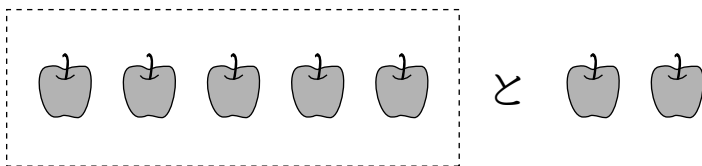
こたえ



2 いくつかの りんごを 2つに わけました。  
□は いくつ？



りんごは あわせて 7つだね。





1 2つに わけました。□に あてはまる かずを かこう。

[せつめい]

① 6 は 3 と 3

② 5 は 1 と 4

③ 8 は 6 と 2

④ 7 は 4 と 3

2 8この みかんを 2つに わけました。

① 3つと いくつに わけられるでしょう。 5 っ

② 4つと いくつに わけられるでしょう。 4 っ

③ 7つと いくつに わけられるでしょう。 1 っ



1 2つに わけました。□に あてはまる かずを かこう。  
[せつめい]

① 4 は 2 と 2

② 8 は 7 と 1

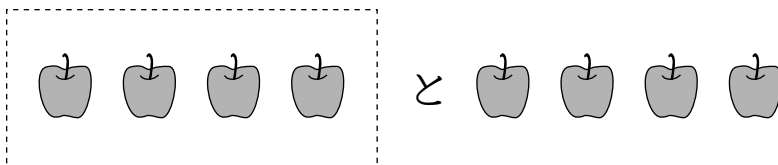
③ 5 は 1 と 4

④ 7 は 2 と 5

2 いくつかの りんごを 2つに わけました。  
□は いくつ?



りんごは あわせて 8つだね。



4 つ