



おうちで、やろう。

Study at home. 小学校受験の家庭学習教材

言語：音の理解 22

左の四角の中の絵の名前の中に「ば」「び」「ぶ」「ぺ」「ぼ」が入っている音の場所を考えます。右の四角の中には音の数だけ〇が並んでいます。一番左がはじめの音、一番右が終りの音になるように並んでいるとき、「ば」「び」「ぶ」「ぺ」「ぼ」の音が入っている音の場所の〇を塗ります。

--	--

--	--

--	--

--	--

--	--

※1. このプリントは、しながわ・目黒こどもスクールのウェブサイトでダウンロードができます。無断複写・引用はご遠慮ください。

※2. このプリントを活用したオンライン授業のスケジュールは、しながわ・目黒こどもスクールのウェブサイトでご確認ください。



おうちで、やろう。

Study at home. 小学校受験の家庭学習教材

言語：音の理解 23

左の四角の中の絵の名前の中に「ば」「び」「ぶ」「べ」「ぼ」が入っている音の場所を考えます。右の四角の中には音の数だけ〇が並んでいます。一番左がはじめの音、一番右が終りの音になるように並んでいるとき、「ば」「び」「ぶ」「べ」「ぼ」の音が入っている音の場所の〇を塗ります。

--	--

--	--

--	--

--	--

--	--

※1. このプリントは、しながわ・目黒こどもスクールのウェブサイトでダウンロードができます。無断複写・引用はご遠慮ください。

※2. このプリントを活用したオンライン授業のスケジュールは、しながわ・目黒こどもスクールのウェブサイトでご確認ください。



おうちで、よろう。

Study at home. 小学校受験の家庭学習教材

図形：回転 29

右のお手本を矢印の方向へ 1 回ずつ倒した時の見え方を考えて順番に空いている四角に○をかきます。

Row 1: A sequence of five 2x2 grids. The first four are empty. The fifth has a white circle in the top-left cell. Curved arrows above each grid point from the top-right to the top-left, indicating a 90-degree counter-clockwise rotation.

Row 2: A sequence of five 2x2 grids. The first four are empty. The fifth has a white circle in the bottom-right cell. Curved arrows above each grid point from the top-right to the top-left, indicating a 90-degree counter-clockwise rotation.

Row 3: A sequence of five 2x2 grids. The first four are empty. The fifth has a black circle in the top-left cell and a white circle in the top-right cell. Curved arrows above each grid point from the top-right to the top-left, indicating a 90-degree counter-clockwise rotation.

Row 4: A sequence of five 2x2 grids. The first four are empty. The fifth has a black circle in the top-right cell and a white circle in the bottom-left cell. Curved arrows above each grid point from the top-right to the top-left, indicating a 90-degree counter-clockwise rotation.

※1. このプリントは、しながわ・目黒こどもスクールのウェブサイトダウンロードができます。無断複写・引用はご遠慮ください。

※2. このプリントを活用したオンライン授業のスケジュールは、しながわ・目黒こどもスクールのウェブサイトでご確認ください。



おうちで、よろう。

Study at home. 小学校受験の家庭学習教材

図形：回転 30

右のお手本を矢印の方向へ 1 回ずつ倒した時の見え方を考えて順番に空いている四角に○をかきます。

Row 1: A sequence of five 2x2 grids. The first four are empty. The fifth has a triangle in the top-right cell. Curved arrows above each grid point from the top-right to the top-left, indicating a 30-degree counter-clockwise rotation.

Row 2: A sequence of five 2x2 grids. The first four are empty. The fifth has a triangle in the bottom-left cell. Curved arrows above each grid point from the top-right to the top-left, indicating a 30-degree counter-clockwise rotation.

Row 3: A sequence of five 2x2 grids. The first four are empty. The fifth has a circle in the bottom-left cell and an inverted triangle in the bottom-right cell. Curved arrows above each grid point from the top-right to the top-left, indicating a 30-degree counter-clockwise rotation.

Row 4: A sequence of five 2x2 grids. The first four are empty. The fifth has a triangle in the top-left cell and a circle in the bottom-right cell. Curved arrows above each grid point from the top-right to the top-left, indicating a 30-degree counter-clockwise rotation.

※1. このプリントは、しながわ・目黒こどもスクールのウェブサイトでダウンロードができます。無断複写・引用はご遠慮ください。
 ※2. このプリントを活用したオンライン授業のスケジュールは、しながわ・目黒こどもスクールのウェブサイトでご確認ください。

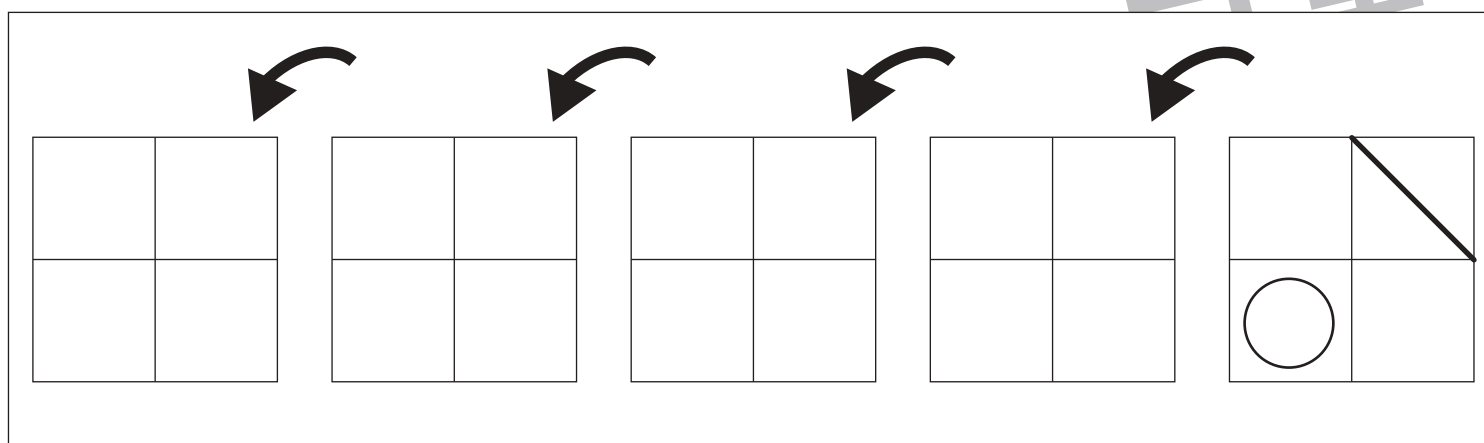
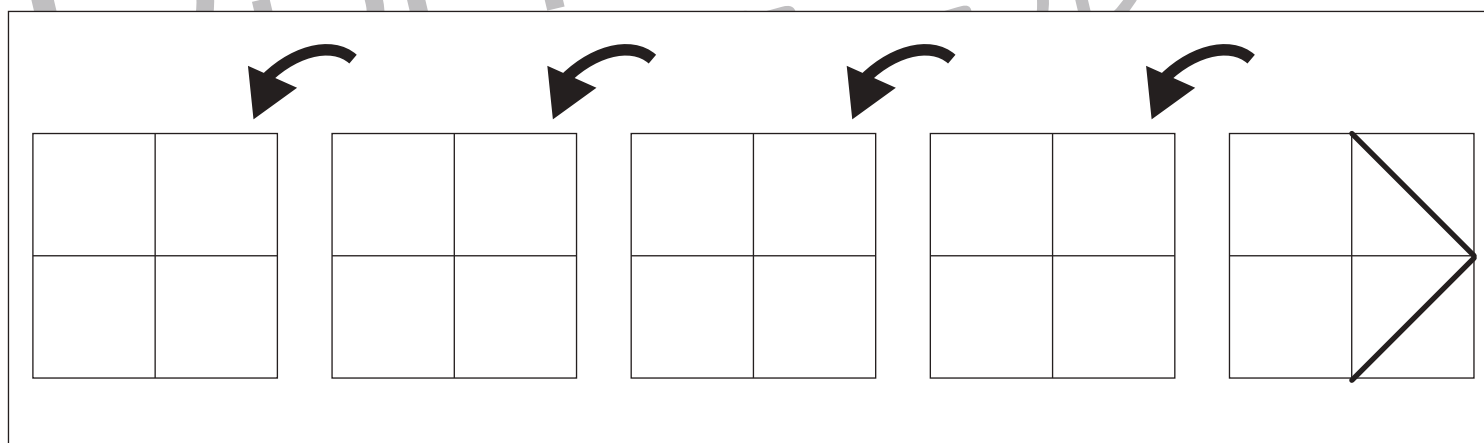
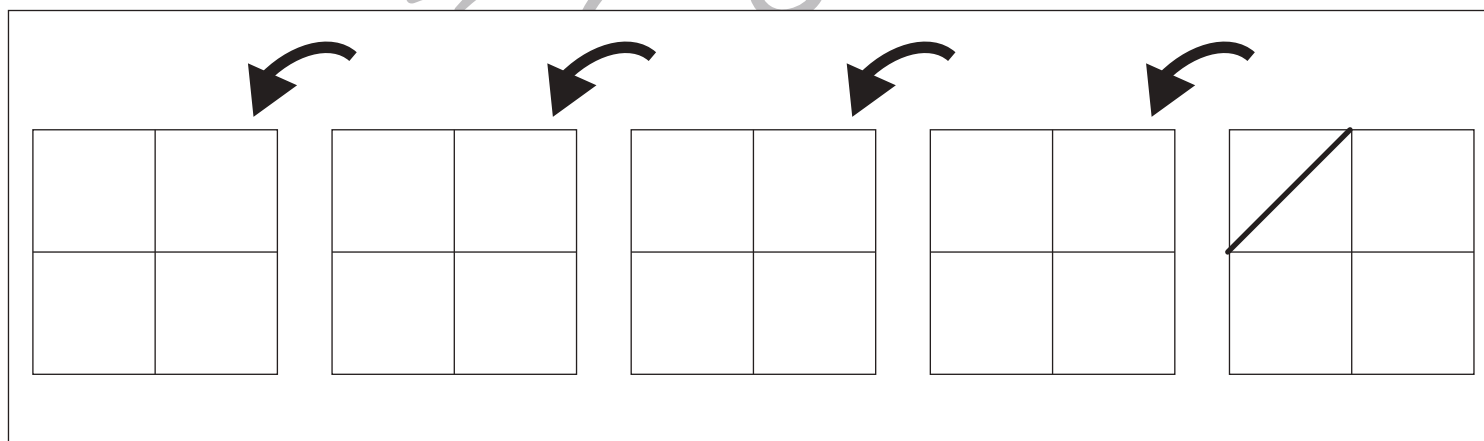
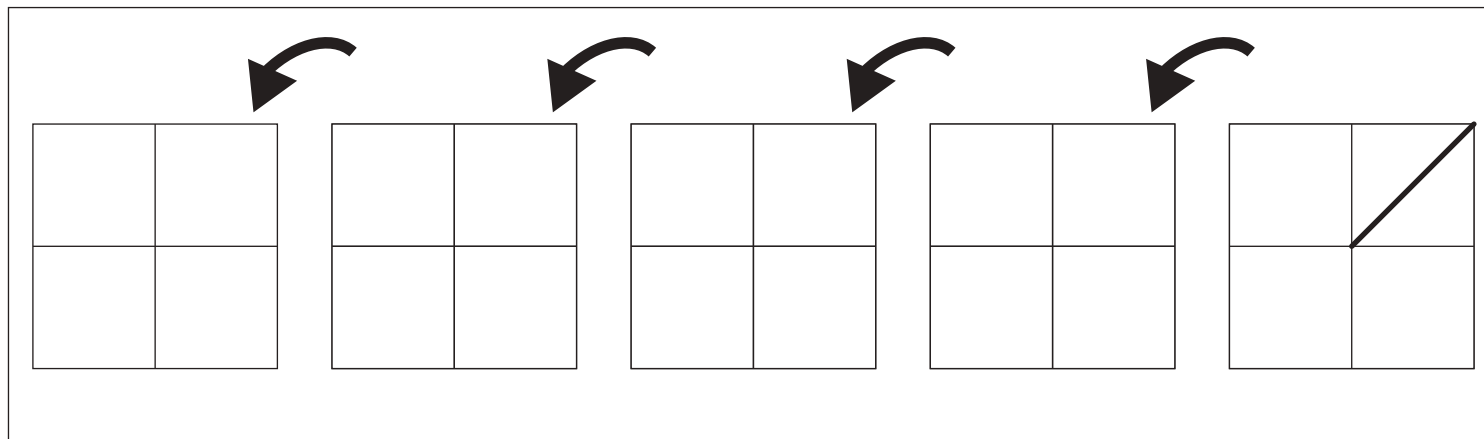


おうちで、よろう。

Study at home. 小学校受験の家庭学習教材

図形：回転 31

右のお手本を矢印の方向へ1回ずつ倒した時の見え方を考えて順番に空いている四角に○をかきます。



※1. このプリントは、しながわ・目黒こどもスクールのウェブサイトでダウンロードができます。無断複写・引用はご遠慮ください。

※2. このプリントを活用したオンライン授業のスケジュールは、しながわ・目黒こどもスクールのウェブサイトでご確認ください。



おうちで、よろう。

Study at home. 小学校受験の家庭学習教材

図形：回転 32

右のお手本を矢印の方向へ 1 回倒した時の見え方を考えて左の四角にかきます。

※ 1. このプリントは、しながわ・目黒こどもスクールのウェブサイトでダウンロードができます。無断複写・引用はご遠慮ください。

※ 2. このプリントを活用したオンライン授業のスケジュールは、しながわ・目黒こどもスクールのウェブサイトでご確認ください。



おうちで、やろう。

Study at home. 小学校受験の家庭学習教材

図形：注意力 1

左の四角の中には色々な形のビーズがあります。このビーズをひもに通してプレスレットを作ります。
左の四角の中のビーズを通してできるプレスレットを右の中から選んで○をつけます。

--	--

--	--

--	--

--	--

--	--

※1. このプリントは、しながわ・目黒こどもスクールのウェブサイトでダウンロードができます。無断複写・引用はご遠慮ください。

※2. このプリントを活用したオンライン授業のスケジュールは、しながわ・目黒こどもスクールのウェブサイトでご確認ください。



おうちで、やろう。

Study at home. 小学校受験の家庭学習教材

図形：注意力2

左の四角の中には色々な形のビーズがあります。このビーズをひもに通してブレスレットを作ります。
左の四角の中のビーズを通してできるブレスレットを右の中から選んで○をつけます。

--	--	--	--	--

--	--	--	--	--

--	--	--	--	--

--	--	--	--	--

--	--	--	--	--

※1. このプリントは、しながわ・目黒こどもスクールのウェブサイトでダウンロードができます。無断複写・引用はご遠慮ください。

※2. このプリントを活用したオンライン授業のスケジュールは、しながわ・目黒こどもスクールのウェブサイトでご確認ください。





おうちで、やろう。

Study at home. 小学校受験の家庭学習教材

推理：左右 1

①右手をあげている女の人に○をつけます。

②左手をあげているおじいちゃんに○、右手をあげているおばあちゃんに×をつけます。



※1. このプリントは、しながわ・目黒こどもスクールのウェブサイトでダウンロードができます。無断複写・引用はご遠慮ください。

※2. このプリントを活用したオンライン授業のスケジュールは、しながわ・目黒こどもスクールのウェブサイトでご確認ください。





おうちで、やろう。

Study at home. 小学校受験の家庭学習教材

図形：点図形 25

左のお手本と同じになるように右の四角に線をかきます。 ※このプリントに解答はありません。

※1. このプリントは、しながわ・目黒こどもスクールのウェブサイトでダウンロードができます。無断複写・引用はご遠慮ください。

※2. このプリントを活用したオンライン授業のスケジュールは、しながわ・目黒こどもスクールのウェブサイトでご確認ください。