



# おうちで、やろう。

Study at home. 小学校受験の家庭学習教材

## 言語：音の理解 22

左の四角の中の絵の名前の中に「ば」「び」「ぶ」「ぺ」「ぼ」が入っている音の場所を考えます。右の四角の中には音の数だけ○が並んでいます。一番左がはじめの音、一番右が終りの音になるように並んでいるとき、「ば」「び」「ぶ」「ぺ」「ぼ」の音が入っている音の場所の○を塗ります。

	● ○ ○
--	-------

	● ○ ○ ○
--	---------

	● ○ ○ ○
--	---------

	○ ○ ○ ● ○ ○
--	-------------

	● ○ ○
--	-------

※1. このプリントは、しながわ・目黒こどもスクールのウェブサイトでダウンロードができます。無断複写・引用はご遠慮ください。

※2. このプリントを活用したオンライン授業のスケジュールは、しながわ・目黒こどもスクールのウェブサイトでご確認ください。



# おうちで、やろう。

Study at home. 小学校受験の家庭学習教材

## 言語：音の理解 23

左の四角の中の絵の名前の中に「ば」「び」「ぶ」「ぺ」「ぼ」が入っている音の場所を考えます。右の四角の中には音の数だけ○が並んでいます。一番左がはじめの音、一番右が終りの音になるように並んでいるとき、「ば」「び」「ぶ」「ぺ」「ぼ」の音が入っている音の場所の○を塗ります。

	● ○
--	-----

	○ ○ ○ ●
--	---------

	● ○ ○
--	-------

	○ ○ ○ ○ ●
--	-----------

	● ○ ○ ○ ● ○
--	-------------

※1. このプリントは、しながわ・目黒こどもスクールのウェブサイトでダウンロードができます。無断複写・引用はご遠慮ください。

※2. このプリントを活用したオンライン授業のスケジュールは、しながわ・目黒こどもスクールのウェブサイトでご確認ください。



# おうちで、やろう。

Study at home. 小学校受験の家庭学習教材

図形：回転 29

右のお手本を矢印の方向へ 1 回ずつ倒した時の見え方を考えて順番に空いている四角に○をかきます。

Row 1: A sequence of 5 2x2 grids. The first grid has a white circle in the top-left cell. Curved arrows above the grids point from right to left, indicating a 90-degree counter-clockwise rotation for each step.

Row 2: A sequence of 5 2x2 grids. The first grid has a white circle in the bottom-right cell. Curved arrows above the grids point from right to left, indicating a 90-degree counter-clockwise rotation for each step.

Row 3: A sequence of 5 2x2 grids. The first grid has a black circle in the top-left cell and a white circle in the top-right cell. Curved arrows above the grids point from right to left, indicating a 90-degree counter-clockwise rotation for each step.

Row 4: A sequence of 5 2x2 grids. The first grid has a white circle in the bottom-left cell and a black circle in the top-right cell. Curved arrows above the grids point from right to left, indicating a 90-degree counter-clockwise rotation for each step.

※ 1. このプリントは、しながわ・目黒こどもスクールのウェブサイトからダウンロードできます。無断複写・引用はご遠慮ください。

※ 2. このプリントを活用したオンライン授業のスケジュールは、しながわ・目黒こどもスクールのウェブサイトでご確認ください。



# おうちで、やろう。

Study at home. 小学校受験の家庭学習教材

図形：回転 30

右のお手本を矢印の方向へ 1 回ずつ倒した時の見え方を考えて順番に空いている四角に○をかきます。

Row 1: A sequence of five 2x2 grids. The first grid has a triangle in the top-right cell. Curved arrows above the grids indicate a 30-degree clockwise rotation. The second grid has the triangle in the bottom-right cell. The third grid has the triangle in the bottom-left cell. The fourth grid has the triangle in the top-left cell. The fifth grid has the triangle in the top-right cell.

Row 2: A sequence of five 2x2 grids. The first grid has a triangle in the bottom-left cell. Curved arrows above the grids indicate a 30-degree clockwise rotation. The second grid has the triangle in the top-left cell. The third grid has the triangle in the top-right cell. The fourth grid has the triangle in the bottom-right cell. The fifth grid has the triangle in the bottom-left cell.

Row 3: A sequence of five 2x2 grids. The first grid has a circle in the bottom-left cell and a triangle in the bottom-right cell. Curved arrows above the grids indicate a 30-degree clockwise rotation. The second grid has the circle in the top-left cell and the triangle in the bottom-left cell. The third grid has the circle in the top-right cell and the triangle in the top-right cell. The fourth grid has the circle in the bottom-right cell and the triangle in the top-right cell. The fifth grid has the circle in the bottom-left cell and the triangle in the bottom-right cell.

Row 4: A sequence of five 2x2 grids. The first grid has a triangle in the top-left cell and a circle in the bottom-right cell. Curved arrows above the grids indicate a 30-degree clockwise rotation. The second grid has the triangle in the top-right cell and the circle in the bottom-left cell. The third grid has the triangle in the top-right cell and the circle in the bottom-right cell. The fourth grid has the triangle in the bottom-left cell and the circle in the top-right cell. The fifth grid has the triangle in the top-left cell and the circle in the bottom-right cell.

※1. このプリントは、しながわ・目黒こどもスクールのウェブサイトでダウンロードができます。無断複写・引用はご遠慮ください。  
 ※2. このプリントを活用したオンライン授業のスケジュールは、しながわ・目黒こどもスクールのウェブサイトでご確認ください。

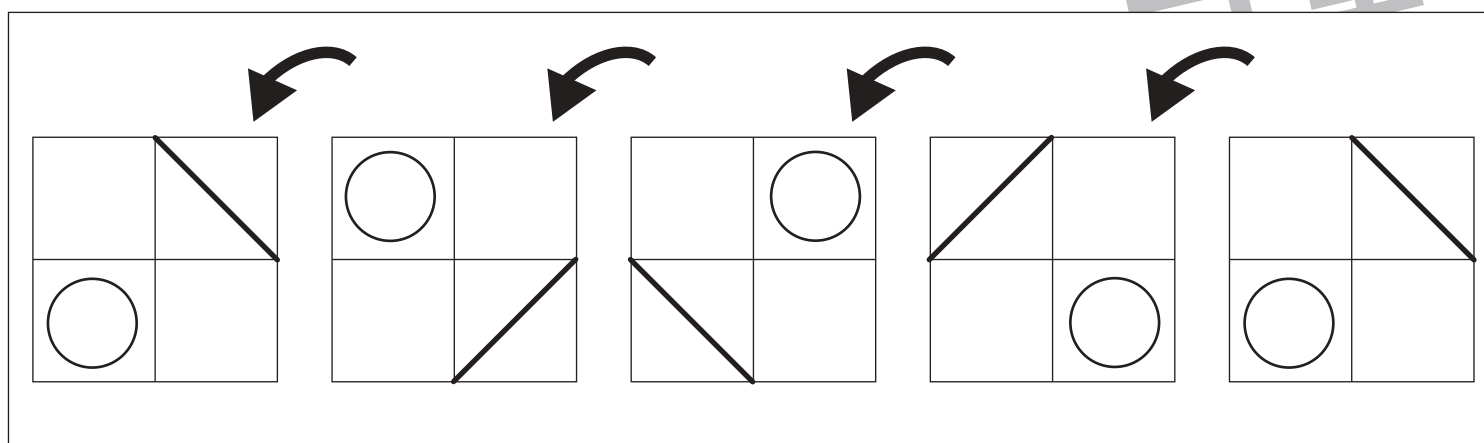
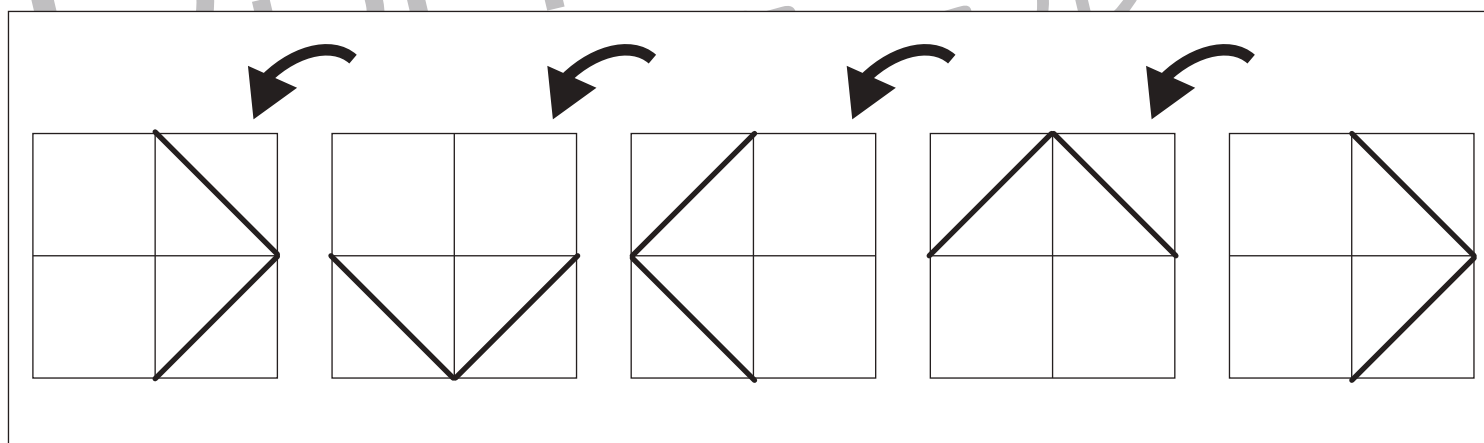
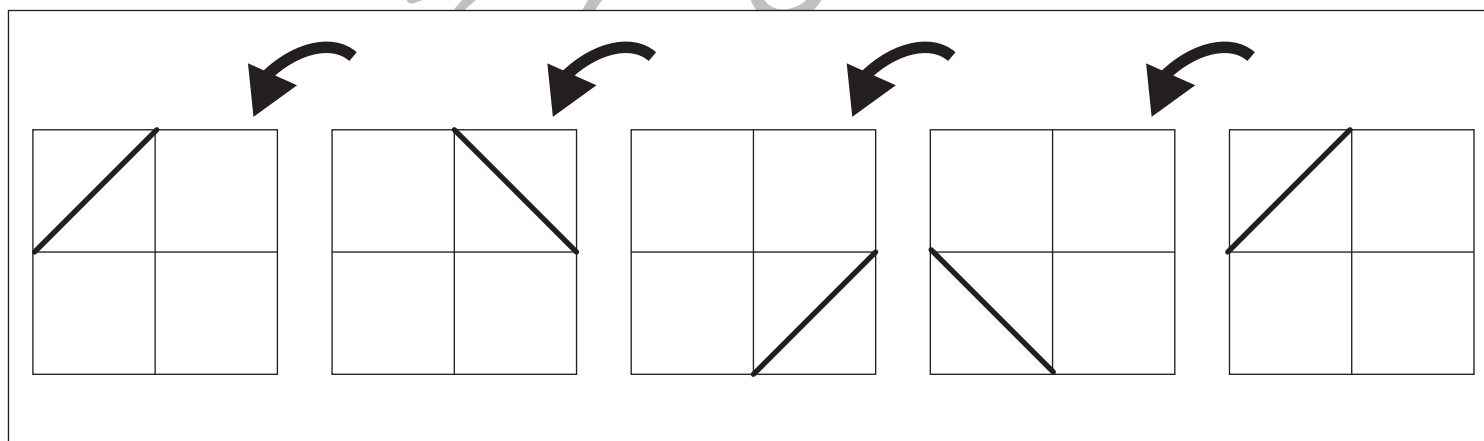
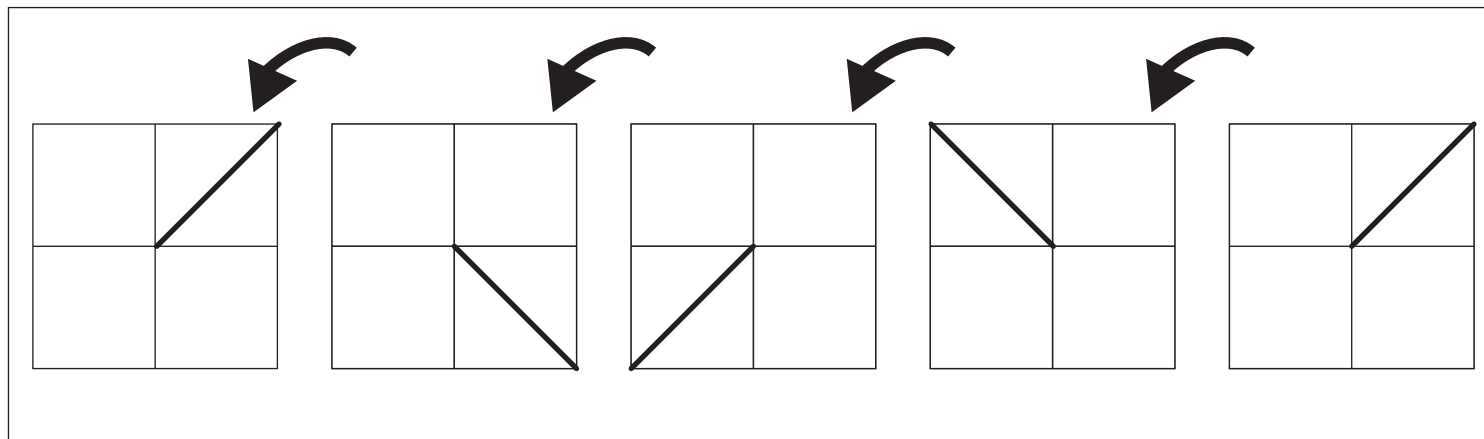


# おうちで、よろう。

Study at home. 小学校受験の家庭学習教材

## 図形：回転 31

右のお手本を矢印の方向へ1回ずつ倒した時の見え方を考えて順番に空いている四角に○をかきます。



※1. このプリントは、しながわ・目黒こどもスクールのウェブサイトからダウンロードできます。無断複写・引用はご遠慮ください。

※2. このプリントを活用したオンライン授業のスケジュールは、しながわ・目黒こどもスクールのウェブサイトでご確認ください。



# おうちで、よろう。

Study at home. 小学校受験の家庭学習教材

## 図形：回転 32

右のお手本を矢印の方向へ 1 回倒した時の見え方を考えて左の四角にかきます。

Figure 32: A 5x2 grid of 20 square puzzles. Each puzzle consists of a 2x2 grid divided into four quadrants. An arrow indicates a 90-degree clockwise rotation of the entire 2x2 grid. The goal is to determine the appearance of the 2x2 grid after the rotation and draw it in the original positions.


※1. このプリントは、しながわ・目黒こどもスクールのウェブサイトからダウンロードできます。無断複写・引用はご遠慮ください。  
 ※2. このプリントを活用したオンライン授業のスケジュールは、しながわ・目黒こどもスクールのウェブサイトでご確認ください。



# おうちで、やろう。

Study at home. 小学校受験の家庭学習教材

図形：注意力 1

左の四角の中には色々な形のビーズがあります。このビーズをひもに通してプレスレットを作ります。  
左の四角の中のビーズを通してできるプレスレットを右の中から選んで○をつけます。

--	--	--	--	--

--	--	--	--	--

--	--	--	--	--

--	--	--	--	--

--	--	--	--	--

※1. このプリントは、しながわ・目黒こどもスクールのウェブサイトでダウンロードができます。無断複写・引用はご遠慮ください。  
 ※2. このプリントを活用したオンライン授業のスケジュールは、しながわ・目黒こどもスクールのウェブサイトでご確認ください。



# おうちで、やろう。

Study at home. 小学校受験の家庭学習教材

図形：注意力2

左の四角の中には色々な形のビーズがあります。このビーズをひもに通してブレスレットを作ります。  
左の四角の中のビーズを通してできるブレスレットを右の中から選んで○をつけます。

--	--	--	--	--

--	--	--	--	--

--	--	--	--	--

--	--	--	--	--

--	--	--	--	--

※1. このプリントは、しながわ・目黒こどもスクールのウェブサイトでダウンロードができます。無断複写・引用はご遠慮ください。

※2. このプリントを活用したオンライン授業のスケジュールは、しながわ・目黒こどもスクールのウェブサイトでご確認ください。





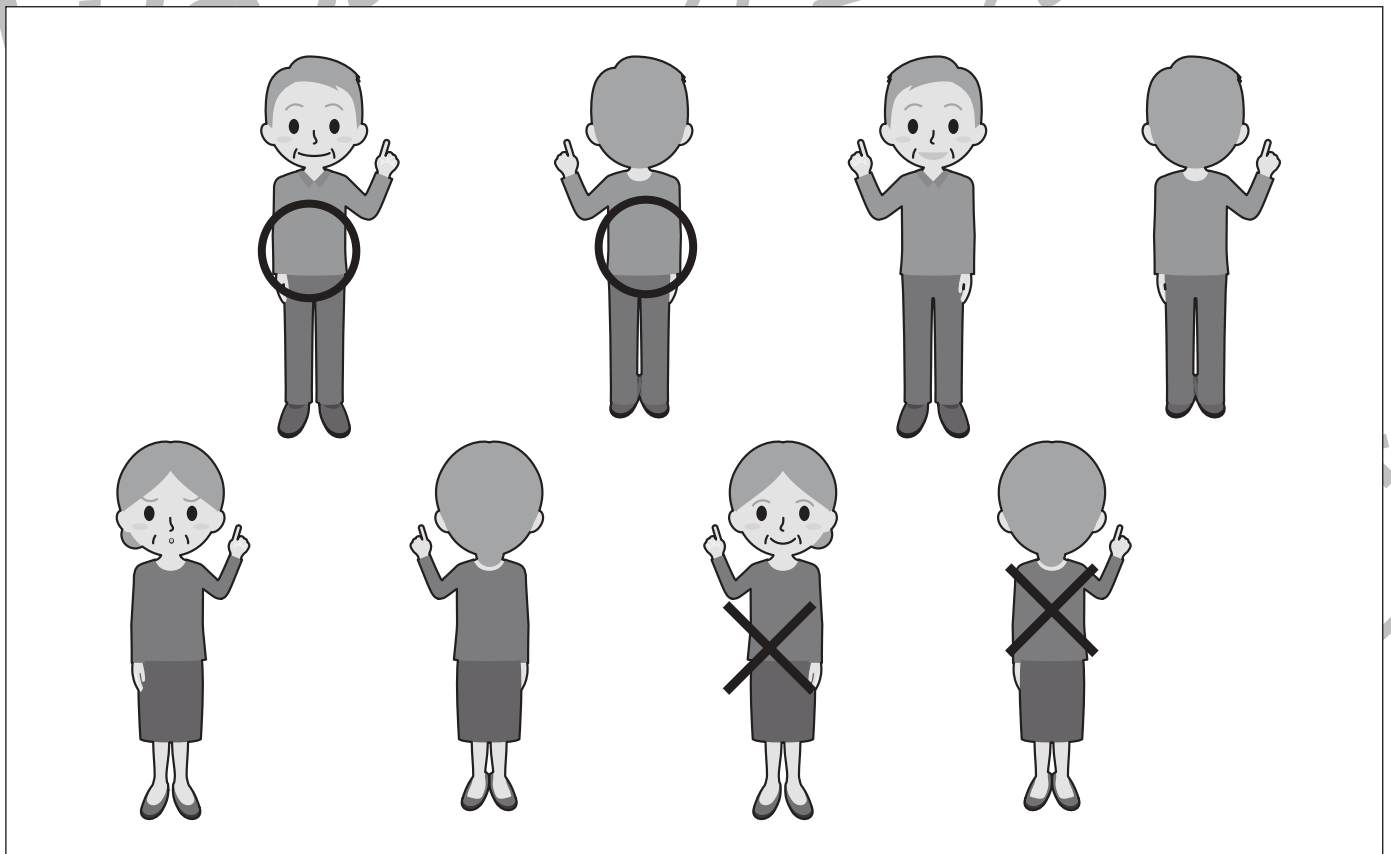

# おうちで、やろう。

Study at home. 小学校受験の家庭学習教材

推理：左右 1

①右手をあげている女の人に○をつけます。

②左手をあげているおじいちゃんに○、右手をあげているおばあちゃんに×をつけます。



※1. このプリントは、しながわ・目黒こどもスクールのウェブサイトでダウンロードができます。無断複写・引用はご遠慮ください。

※2. このプリントを活用したオンライン授業のスケジュールは、しながわ・目黒こどもスクールのウェブサイトでご確認ください。