



# おうちで、やろう。

Study at home. 小学校受験の家庭学習教材

## 記憶：心情理解 1

別紙【記憶 - 心情理解 (本文)】を使用します。

問題用紙を裏返しにして、お家の方にお話の本文を読んでもらってから、①～⑥までの問題に取り組みましょう。

①

②

③

④

⑤

⑥

※1. このプリントは、しながわ・目黒こどもスクールのウェブサイトからダウンロードできます。無断複写・引用はご遠慮ください。

※2. このプリントを活用したオンライン授業のスケジュールは、しながわ・目黒こどもスクールのウェブサイトでご確認ください。


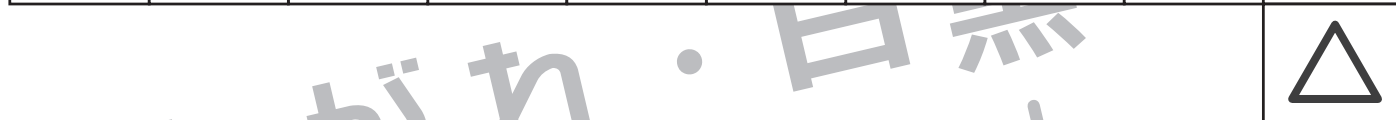
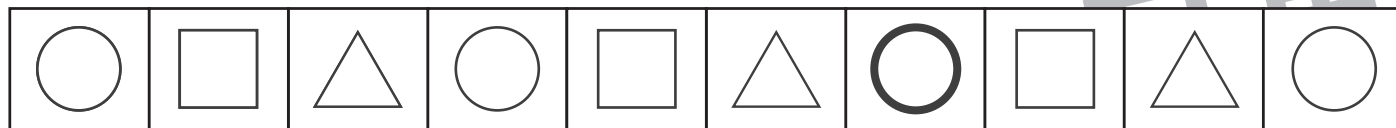


# おうちで、やろう。

Study at home. 小学校受験の家庭学習教材

## 推理：系列完成 11

記号がある順番通りに並んでいます。空いている四角に入る記号を考えてその記号をかきます。



※1. このプリントは、しながわ・目黒こどもスクールのウェブサイトでダウンロードができます。無断複写・引用はご遠慮ください。  
 ※2. このプリントを活用したオンライン授業のスケジュールは、しながわ・目黒こどもスクールのウェブサイトでご確認ください。

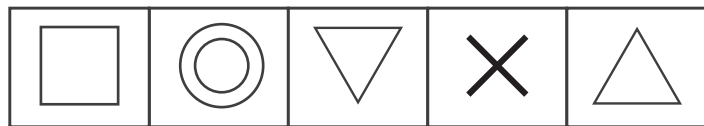
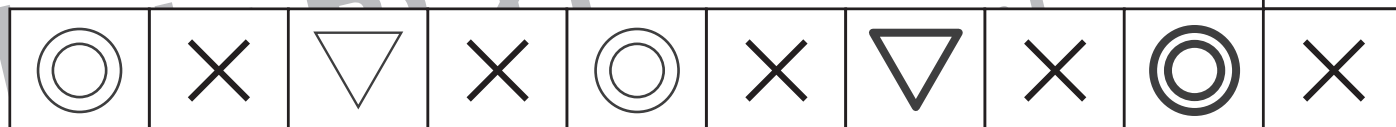
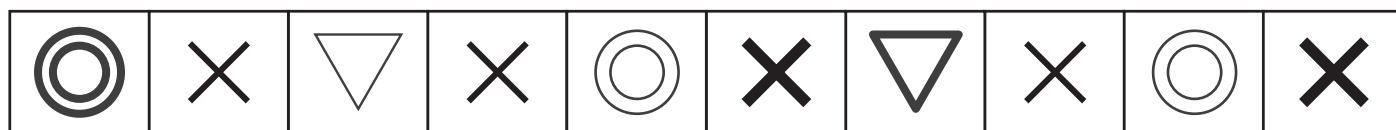
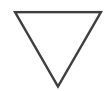
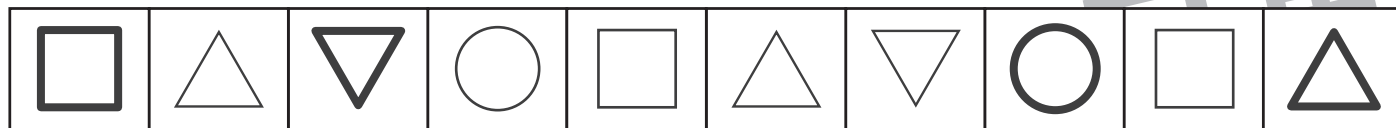


# おうちで、やろう。

Study at home. 小学校受験の家庭学習教材

## 推理：系列完成 12

記号がある順番通りに並んでいます。空いている四角に入る記号を考えてその記号をかきます。



※1. このプリントは、しながわ・目黒こどもスクールのウェブサイトでダウンロードができます。無断複写・引用はご遠慮ください。  
 ※2. このプリントを活用したオンライン授業のスケジュールは、しながわ・目黒こどもスクールのウェブサイトでご確認ください。

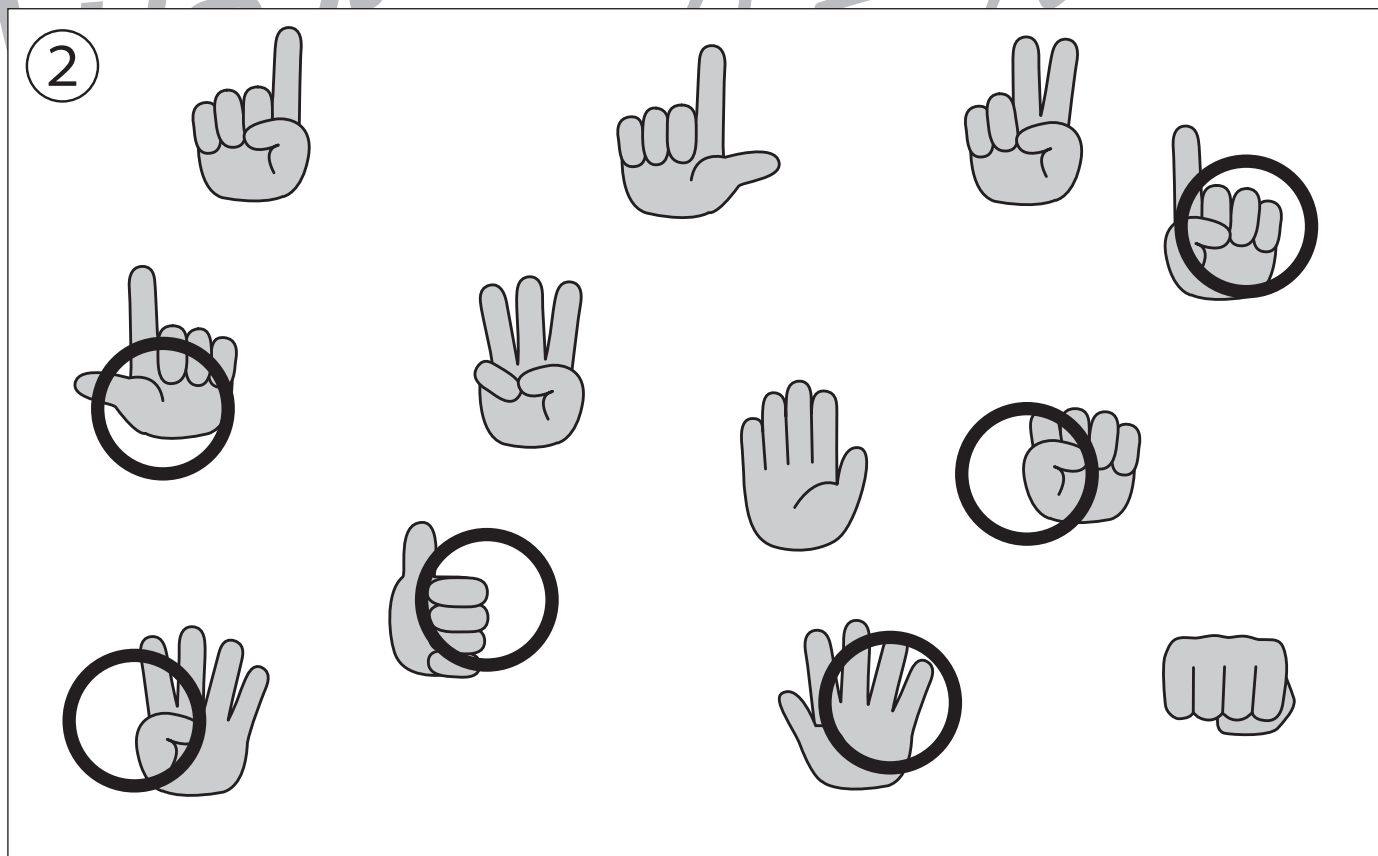
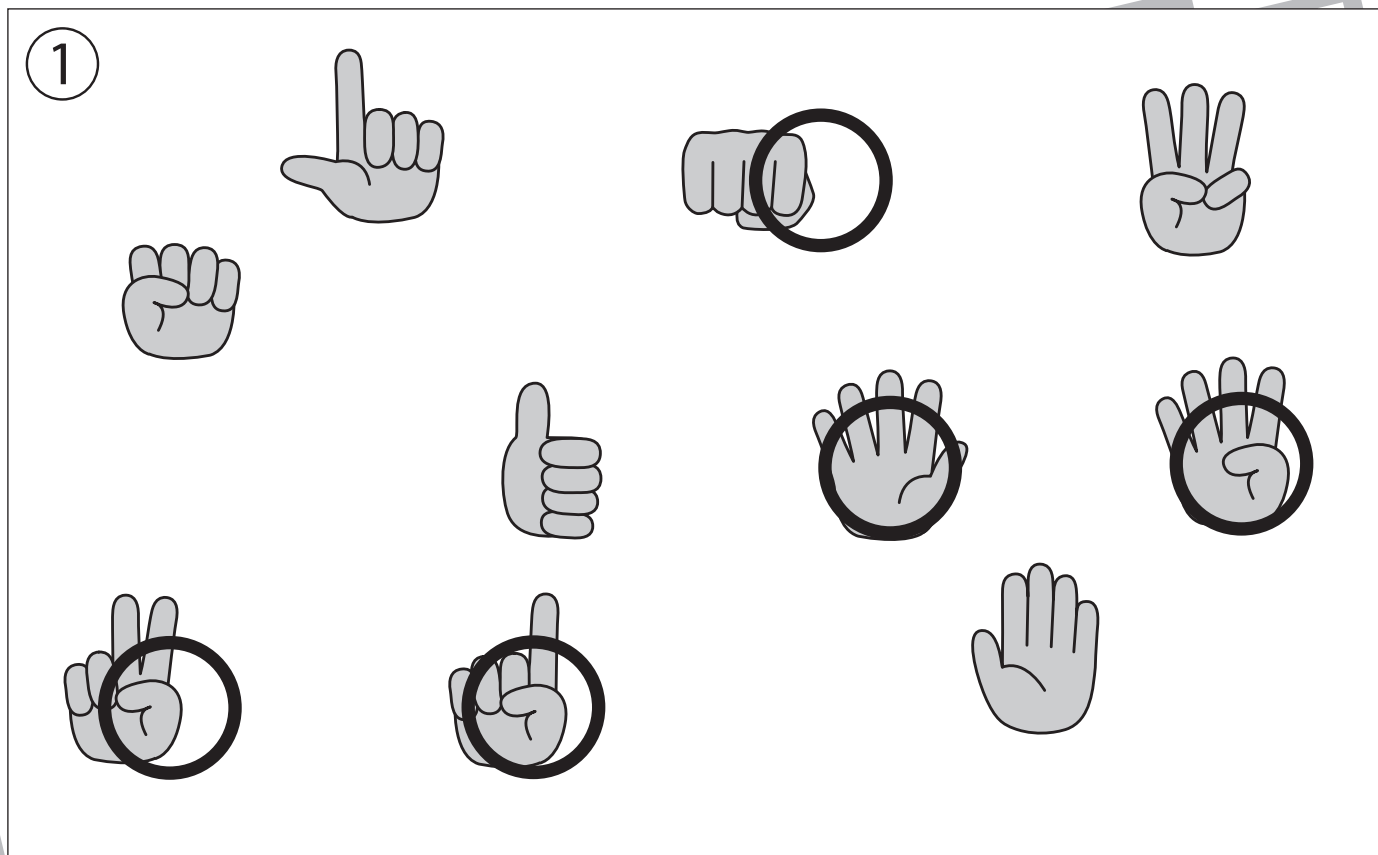


# おうちで、やろう。

Study at home. 小学校受験の家庭学習教材

推理：左右2

①右手に○をつけます。 ②左手に○をつけます。



※1. このプリントは、しながわ・目黒こどもスクールのウェブサイトでダウンロードができます。無断複写・引用はご遠慮ください。

※2. このプリントを活用したオンライン授業のスケジュールは、しながわ・目黒こどもスクールのウェブサイトでご確認ください。


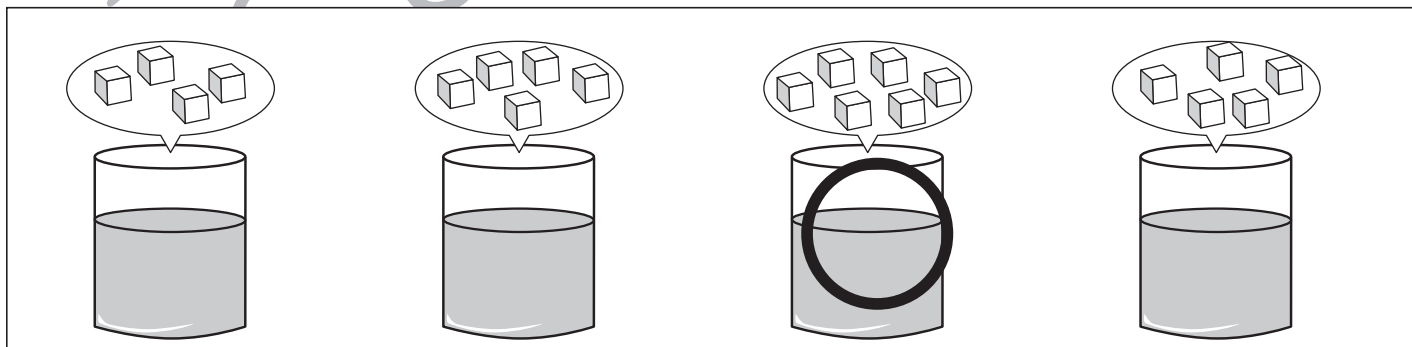
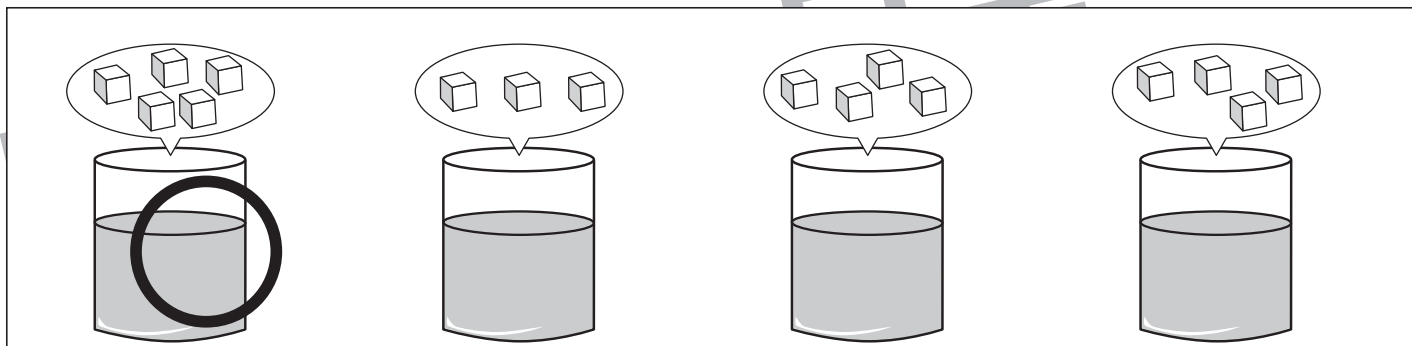
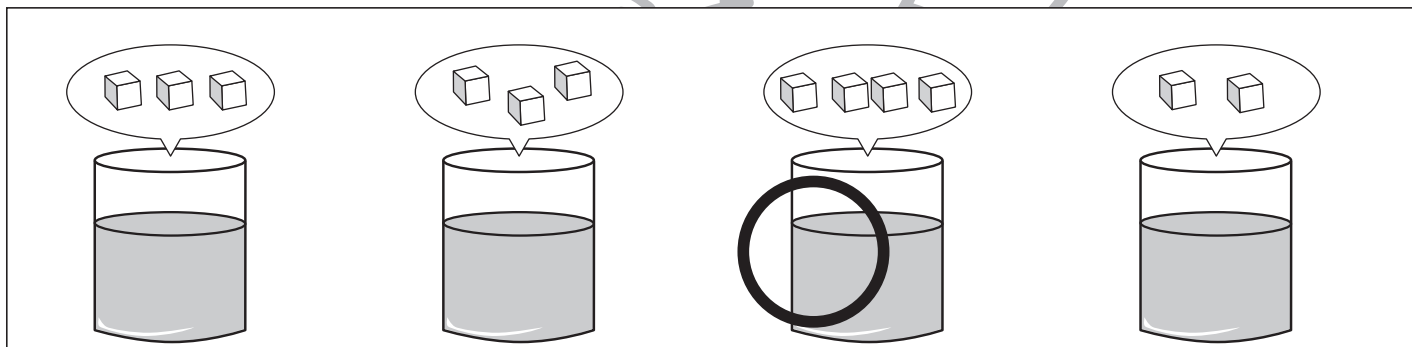
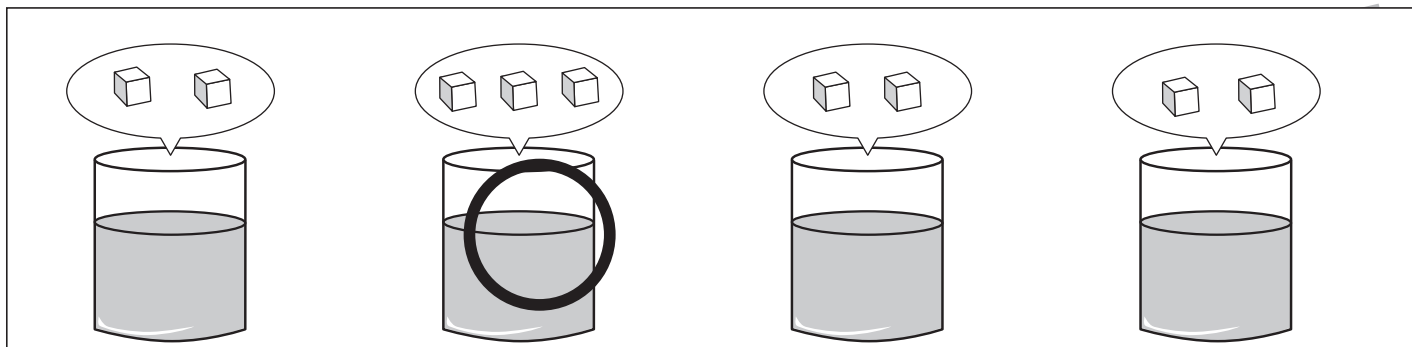


# おうちで、やろう。

Study at home. 小学校受験の家庭学習教材

推理：濃度 1

それぞれの四角の中のコップには同じ量の水が入っています。このコップに上の吹き出しの中の角砂糖を入れます。入れた砂糖が全部溶けた後、一番甘くなるコップに○をつけます。



※1. このプリントは、しながわ・目黒こどもスクールのウェブサイトからダウンロードできます。無断複写・引用はご遠慮ください。

※2. このプリントを活用したオンライン授業のスケジュールは、しながわ・目黒こどもスクールのウェブサイトでご確認ください。


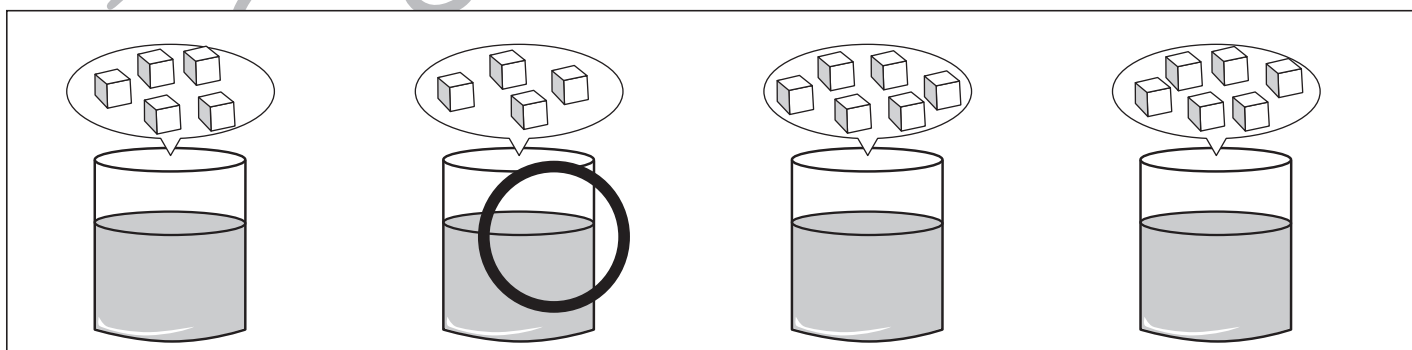
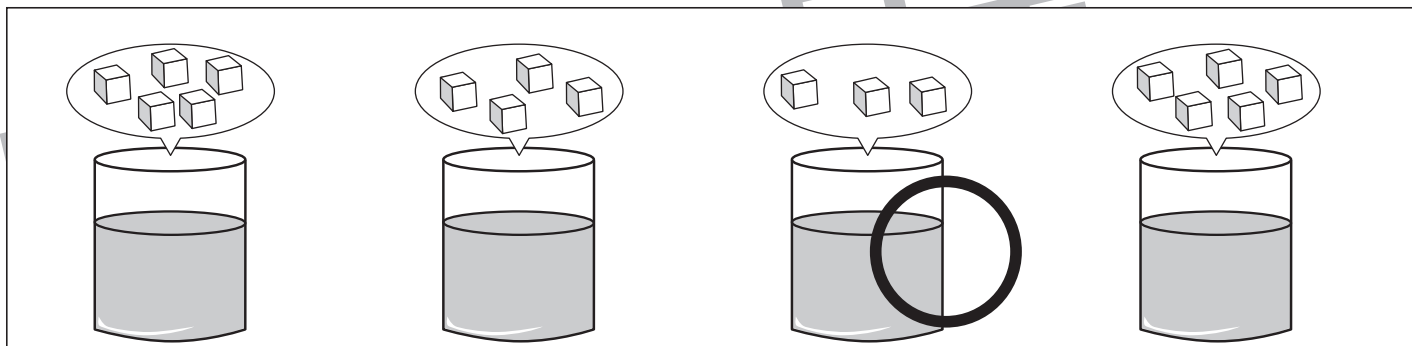
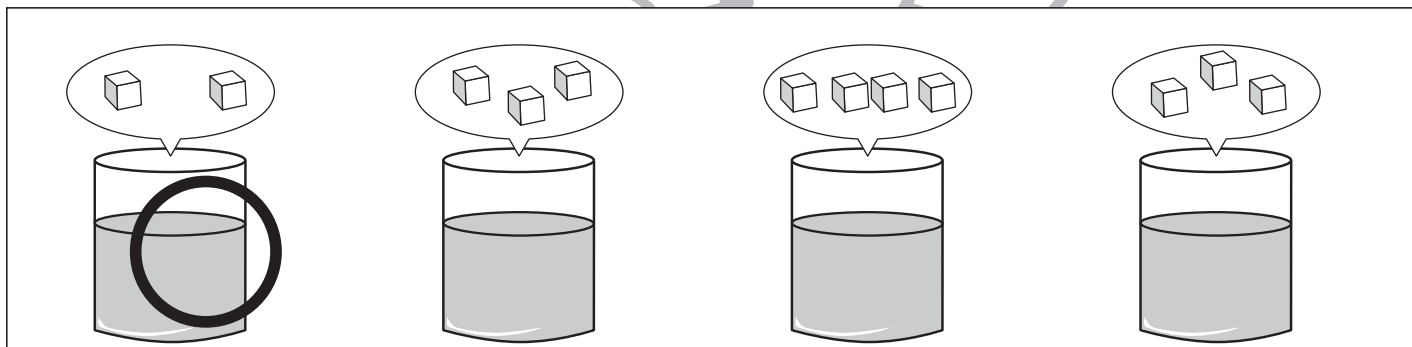
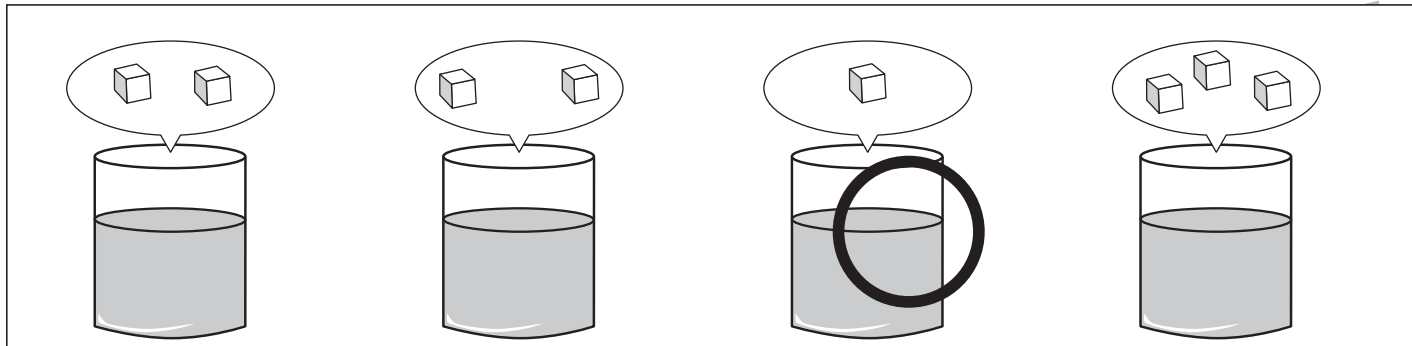


# おうちで、やろう。

Study at home. 小学校受験の家庭学習教材

## 推理：濃度2

それぞれの四角の中のコップには同じ量の水が入っています。このコップに上の吹き出しの中の角砂糖を入れます。入れた砂糖が全部溶けた後、一番甘くないコップに○をつけます。



※1. このプリントは、しながわ・目黒こどもスクールのウェブサイトからダウンロードできます。無断複写・引用はご遠慮ください。

※2. このプリントを活用したオンライン授業のスケジュールは、しながわ・目黒こどもスクールのウェブサイトでご確認ください。


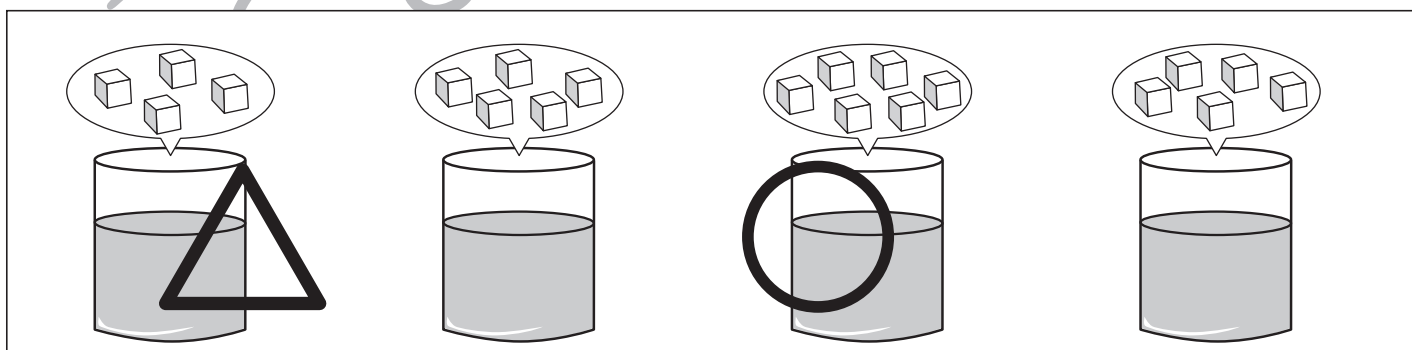
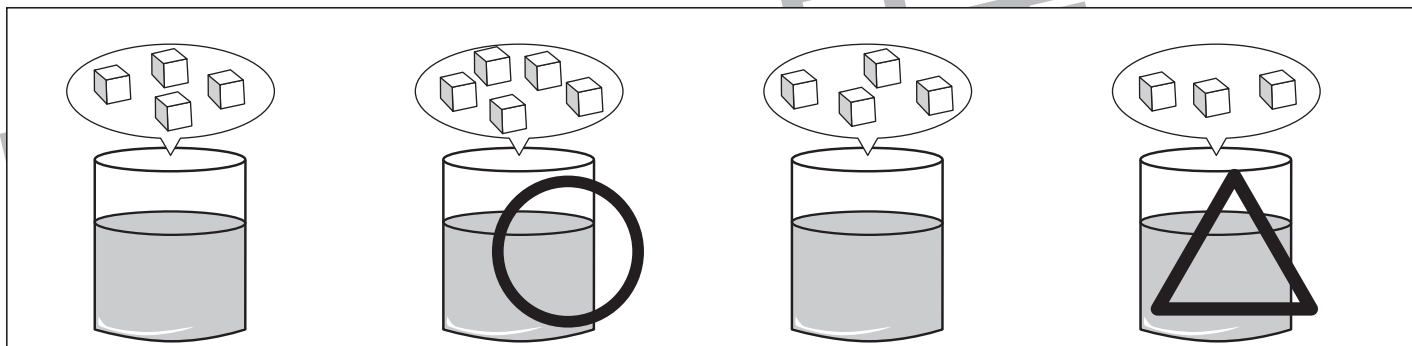
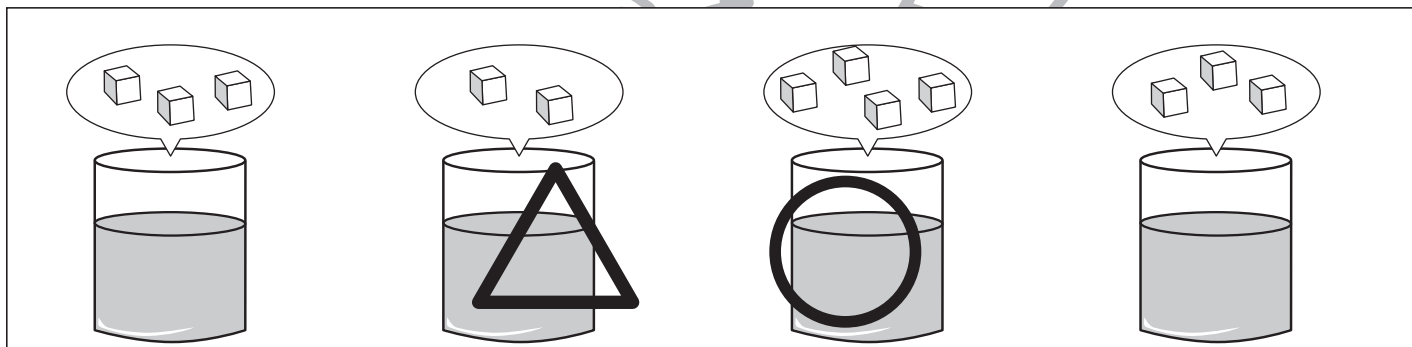
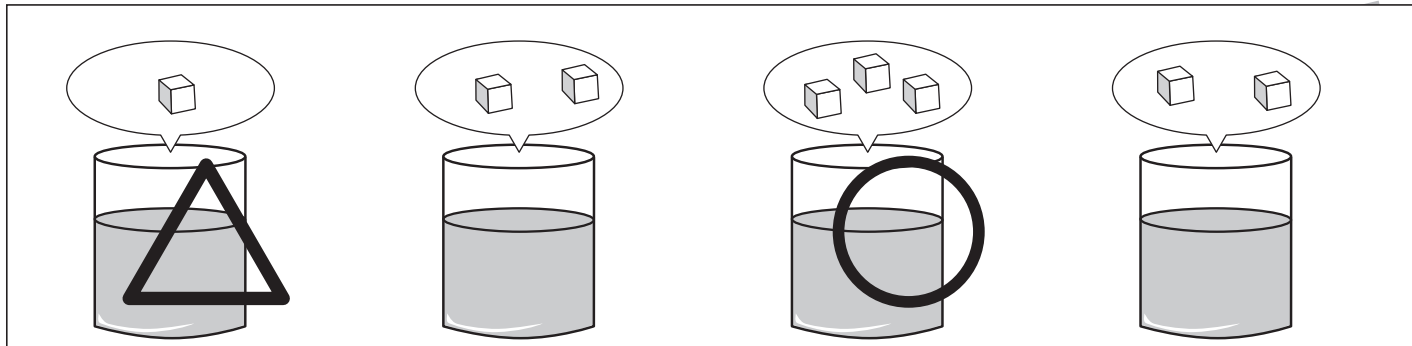


# おうちで、やろう。

Study at home. 小学校受験の家庭学習教材

推理：濃度3

それぞれの四角の中のコップには同じ量の水が入っています。このコップに上の吹き出しの中の数角砂糖を入れます。入れた砂糖が全部溶けた後、一番甘いコップに○、一番甘くないコップに△をつけます。



※1. このプリントは、しながわ・目黒こどもスクールのウェブサイトでダウンロードができます。無断複写・引用はご遠慮ください。

※2. このプリントを活用したオンライン授業のスケジュールは、しながわ・目黒こどもスクールのウェブサイトでご確認ください。



# おうちで、やろう。

Study at home. 小学校受験の家庭学習教材

数量：サイコロ8

左の四角の中にあるウサギがサイコロを何回か振って出た目の数だけ進みます。サイコロの出た目は右の四角の中に3つあります。宝箱にちょうど止まるサイコロの順番はどれですか。右の3つの中から1つ見つけて太い四角の中に○をつけます。


		→		→	
		→		→	
<b>○</b>		→		→	


<b>○</b>		→		→		→	
		→		→		→	
		→		→		→	


		→		→		→		→	
<b>○</b>		→		→		→		→	
		→		→		→		→	


		→		→		→		→	
		→		→		→		→	
<b>○</b>		→		→		→		→	

※1. このプリントは、しながわ・目黒こどもスクールのウェブサイトでダウンロードができます。無断複写・引用はご遠慮ください。

※2. このプリントを活用したオンライン授業のスケジュールは、しながわ・目黒こどもスクールのウェブサイトでご確認ください。





# おうちで、やろう。

Study at home. 小学校受験の家庭学習教材

## 数量：サイコロ9

左の四角の中にあるウサギがサイコロを何回か振って出た目の数だけ進みます。サイコロの出た目は右の四角の中に3つあります。宝箱にちょうど止まるサイコロの順番はどれですか。右の3つの中から1つ見つけて太い四角の中に○をつけます。

	<table border="1"> <tr> <td data-bbox="836 388 987 528">○</td> <td data-bbox="987 388 1523 528"> </td> </tr> <tr> <td data-bbox="836 528 987 668"></td> <td data-bbox="987 528 1523 668"> </td> </tr> <tr> <td data-bbox="836 668 987 803"></td> <td data-bbox="987 668 1523 803"> </td> </tr> </table>	○					
○							
	<table border="1"> <tr> <td data-bbox="836 803 987 943"></td> <td data-bbox="987 803 1523 943"> </td> </tr> <tr> <td data-bbox="836 943 987 1083">○</td> <td data-bbox="987 943 1523 1083"> </td> </tr> <tr> <td data-bbox="836 1083 987 1216"></td> <td data-bbox="987 1083 1523 1216"> </td> </tr> </table>			○			
○							
	<table border="1"> <tr> <td data-bbox="836 1216 987 1356"></td> <td data-bbox="987 1216 1523 1356"> </td> </tr> <tr> <td data-bbox="836 1356 987 1496">○</td> <td data-bbox="987 1356 1523 1496"> </td> </tr> <tr> <td data-bbox="836 1496 987 1630"></td> <td data-bbox="987 1496 1523 1630"> </td> </tr> </table>			○			
○							
	<table border="1"> <tr> <td data-bbox="836 1630 987 1770"></td> <td data-bbox="987 1630 1523 1770"> </td> </tr> <tr> <td data-bbox="836 1770 987 1910"></td> <td data-bbox="987 1770 1523 1910"> </td> </tr> <tr> <td data-bbox="836 1910 987 2043">○</td> <td data-bbox="987 1910 1523 2043"> </td> </tr> </table>					○	
○							

※1. このプリントは、しながわ・目黒こどもスクールのウェブサイトでダウンロードができます。無断複写・引用はご遠慮ください。

※2. このプリントを活用したオンライン授業のスケジュールは、しながわ・目黒こどもスクールのウェブサイトでご確認ください。

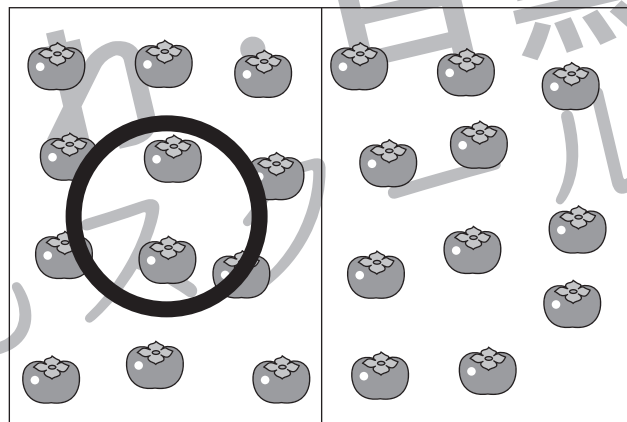

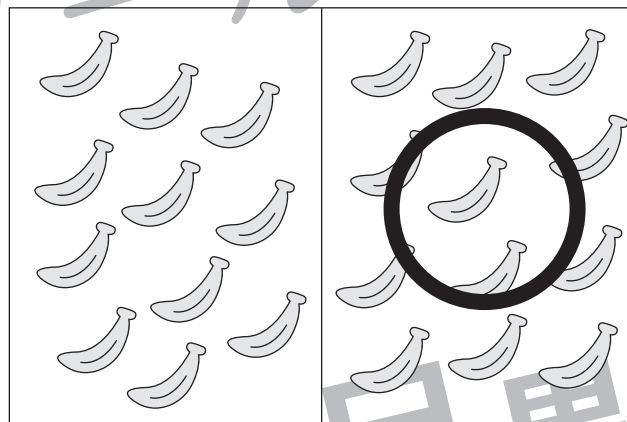
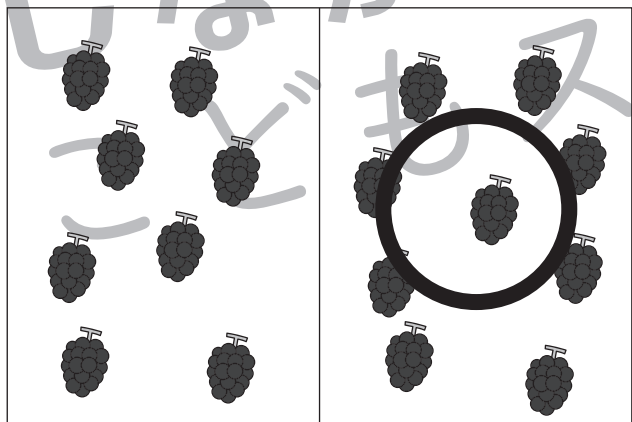


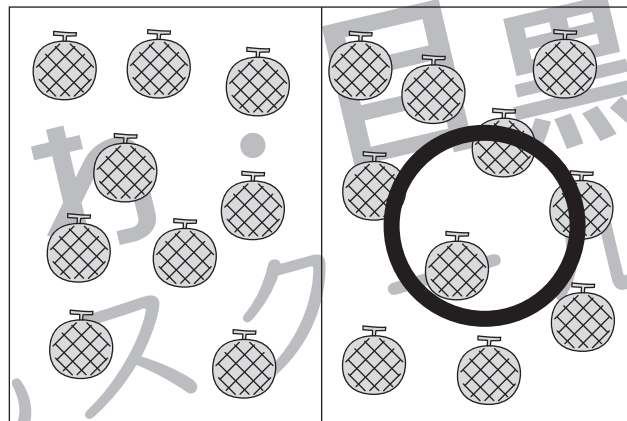
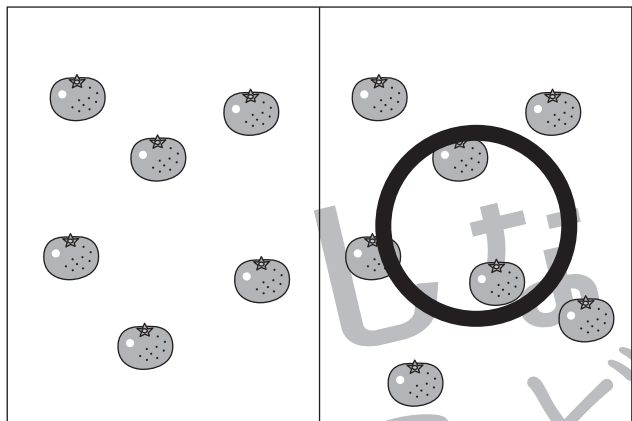


# おうちで、やろう。

Study at home. 小学校受験の家庭学習教材

処理：多少1

横に並んだ2つの四角の中の果物のうち数が多い方の四角に○をつけます。  
この問題はスピードを意識して取り組む練習をしてみましょう。(1分30秒～2分)



※1. このプリントは、しながわ・目黒こどもスクールのウェブサイトからダウンロードできます。無断複写・引用はご遠慮ください。  
 ※2. このプリントを活用したオンライン授業のスケジュールは、しながわ・目黒こどもスクールのウェブサイトでご確認ください。