



おうちで、やろう。

Study at home. 小学校受験の家庭学習教材

左のお手本を真ん中の太い線の上に鏡を置いて見た時の見え方を考えます。右の○のうち黒くなる○を塗ります。

| | | | | | | |
|--|--|--|--|--|--|--|
| | | | | | | |
| | | | | | | |
| | | | | | | |
| | | | | | | |
| | | | | | | |

※1. このプリントは、しながわ・目黒こどもスクールのウェブサイトでダウンロードができます。無断複写・引用はご遠慮ください。
 ※2. このプリントを活用したオンライン授業のスケジュールは、しながわ・目黒こどもスクールのウェブサイトでご確認ください。



おうちで、やろう。

Study at home. 小学校受験の家庭学習教材

図形：鏡 15

左のお手本を真ん中の太い線の上に鏡を置いて見た時の見え方を考えます。右の○のうち黒くなる○を塗ります。

| | | | | | | | | |
|--|--|--|--|--|--|--|--|--|
| | | | | | | | | |
| | | | | | | | | |
| | | | | | | | | |
| | | | | | | | | |
| | | | | | | | | |

※1. このプリントは、しながわ・目黒こどもスクールのウェブサイトでダウンロードができます。無断複写・引用はご遠慮ください。
 ※2. このプリントを活用したオンライン授業のスケジュールは、しながわ・目黒こどもスクールのウェブサイトでご確認ください。



おうちで、やろう。

Study at home. 小学校受験の家庭学習教材

図形：鏡 16

左のお手本を真ん中の太い線の上に鏡を置いて見た時の見え方を考えます。右の○のうち黒くなる○を塗ります。

| | | | | | | |
|--|--|--|--|--|--|--|
| | | | | | | |
| | | | | | | |
| | | | | | | |
| | | | | | | |
| | | | | | | |

※1. このプリントは、しながわ・目黒こどもスクールのウェブサイトからダウンロードできます。無断複写・引用はご遠慮ください。
 ※2. このプリントを活用したオンライン授業のスケジュールは、しながわ・目黒こどもスクールのウェブサイトでご確認ください。








おうちで、やろう。

Study at home. 小学校受験の家庭学習教材

推理：四方観察 15

左の太い四角の中の積み木がお手本です。このお手本を男の子の方（右側）から見たときの見え方を考えます。このとき、積み木はいくつ見えますか。その数だけ右の四角に○をかきます。



※1. このプリントは、しながわ・目黒こどもスクールのウェブサイトでダウンロードができます。無断複写・引用はご遠慮ください。

※2. このプリントを活用したオンライン授業のスケジュールは、しながわ・目黒こどもスクールのウェブサイトでご確認ください。










おうちで、やろう。

Study at home. 小学校受験の家庭学習教材

推理：四方観察 16

左の太い四角の中の積み木がお手本です。このお手本を女の子の方（左側）から見たときの見え方を考えます。このとき、積み木はいくつ見えますか。その数だけ右の四角に○をかきます。



※1. このプリントは、しながわ・目黒こどもスクールのウェブサイトでダウンロードができます。無断複写・引用はご遠慮ください。

※2. このプリントを活用したオンライン授業のスケジュールは、しながわ・目黒こどもスクールのウェブサイトでご確認ください。










おうちで、やろう。

Study at home. 小学校受験の家庭学習教材

推理：四方観察 17

左の太い四角の中の積み木がお手本です。このお手本を女の子の方（後ろ）から見たときの見え方を考えます。このとき、積み木はいくつ見えますか。その数だけ右の四角に○をかきます。



※1. このプリントは、しながわ・目黒こどもスクールのウェブサイトでダウンロードができます。無断複写・引用はご遠慮ください。
※2. このプリントを活用したオンライン授業のスケジュールは、しながわ・目黒こどもスクールのウェブサイトでご確認ください。


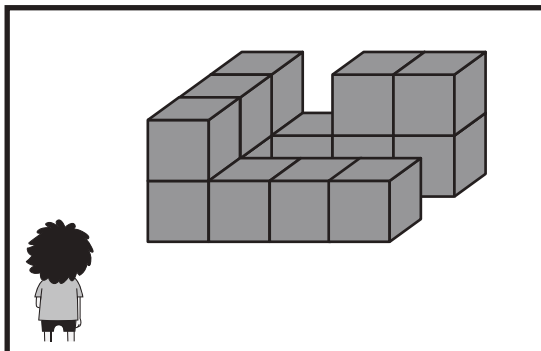

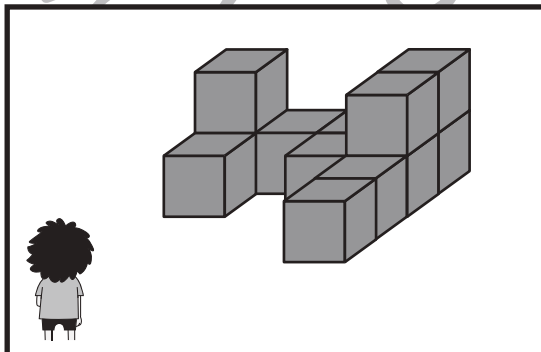

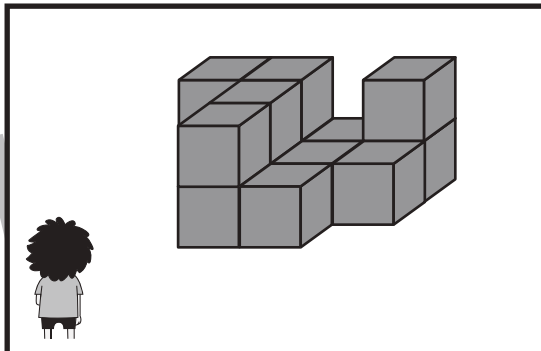

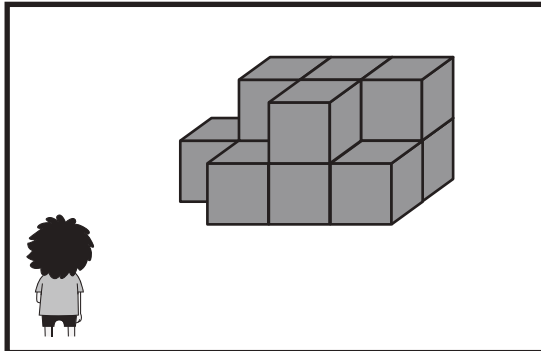

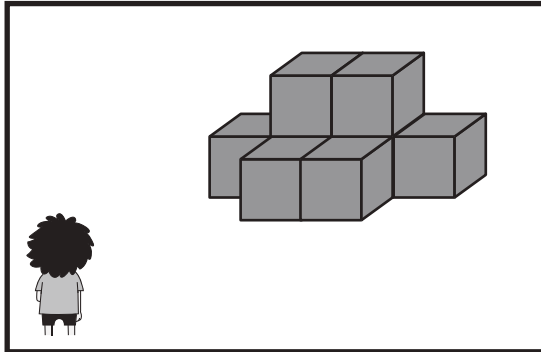


おうちで、やろう。

Study at home. 小学校受験の家庭学習教材

推理：四方観察 18

左の太い四角の中の積み木がお手本です。このお手本を男の子が上からのぞいて（上から）見たときの見え方を考えます。このとき、積み木はいくつ見えますか。その数だけ右の四角に○をかきます。



※1. このプリントは、しながわ・目黒こどもスクールのウェブサイトでダウンロードができます。無断複写・引用はご遠慮ください。
※2. このプリントを活用したオンライン授業のスケジュールは、しながわ・目黒こどもスクールのウェブサイトでご確認ください。



おうちで、やろう。

Study at home. 小学校受験の家庭学習教材

推理：濃度 4

それぞれの四角の中のコップには同じ量の水が入っています。このコップに上の吹き出しの中の角砂糖を入れます。入れた砂糖が全部溶けた後、一番甘いコップに○をつけます。

| | | | |
|--|--|--|--|
| | | | |
| | | | |
| | | | |
| | | | |
| | | | |

※1. このプリントは、しながわ・目黒こどもスクールのウェブサイトでダウンロードができます。無断複写・引用はご遠慮ください。

※2. このプリントを活用したオンライン授業のスケジュールは、しながわ・目黒こどもスクールのウェブサイトでご確認ください。



おうちで、やろう。

Study at home. 小学校受験の家庭学習教材

推理：濃度5

それぞれの四角の中のコップには同じ量の水が入っています。このコップに上の吹き出しの中の角砂糖を入れます。入れた砂糖が全部溶けた後、一番甘くないコップに○をつけます。

| | | | |
|--|--|--|--|
| | | | |
| | | | |
| | | | |
| | | | |
| | | | |

※1. このプリントは、しながわ・目黒こどもスクールのウェブサイトでダウンロードができます。無断複写・引用はご遠慮ください。

※2. このプリントを活用したオンライン授業のスケジュールは、しながわ・目黒こどもスクールのウェブサイトでご確認ください。

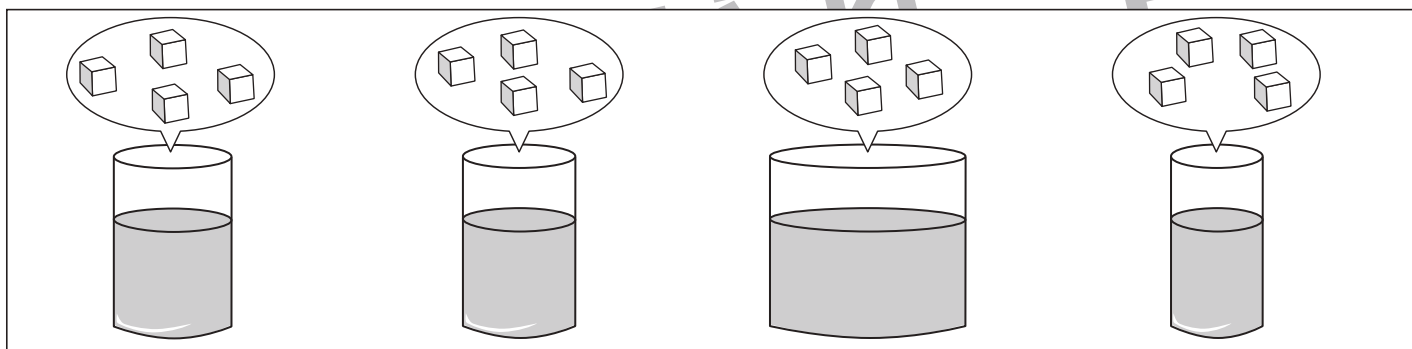
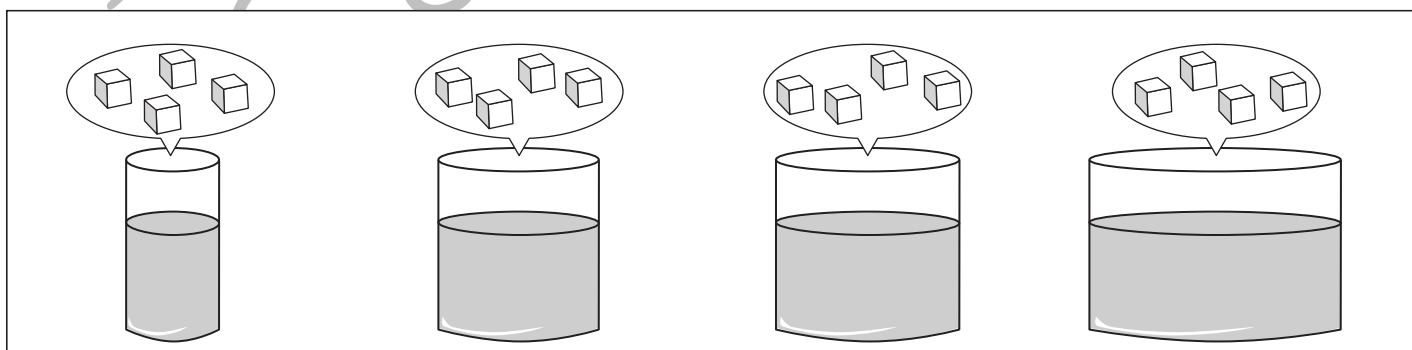
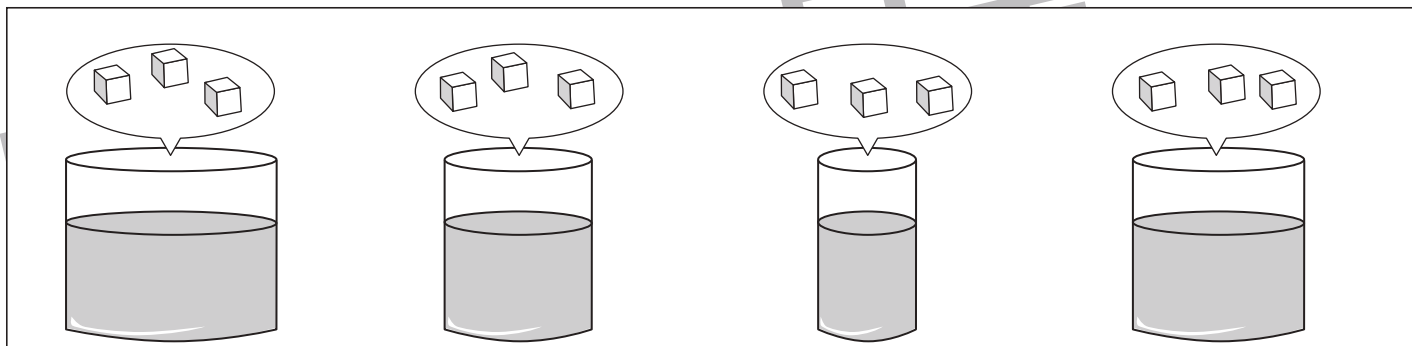
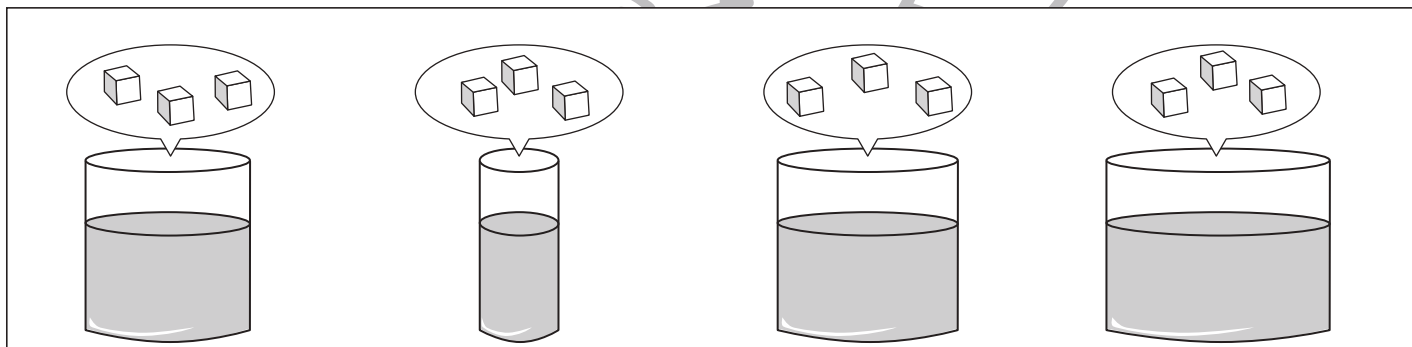
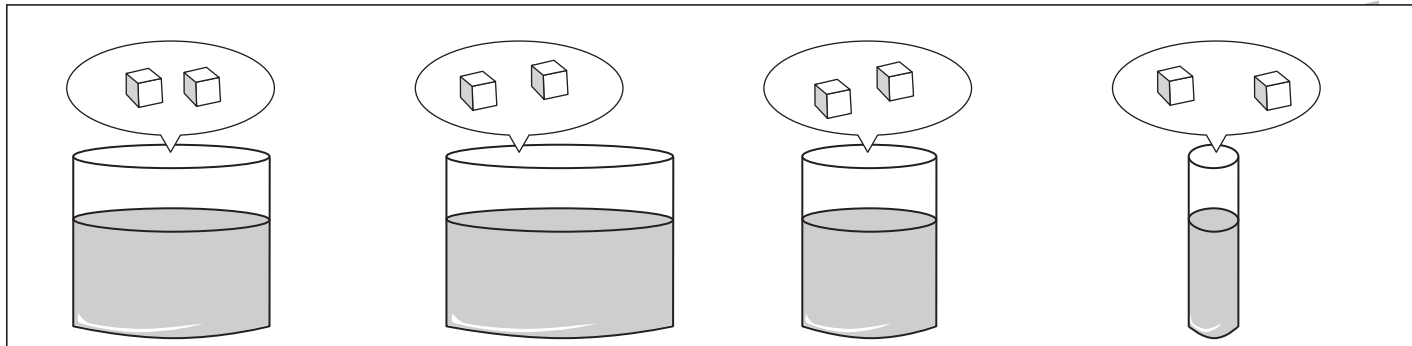


おうちで、やろう。

Study at home. 小学校受験の家庭学習教材

推理：濃度6

それぞれの四角の中のコップには同じ量の水が入っています。このコップに上の吹き出しの中の水砂糖を入れます。入れた砂糖が全部溶けた後、一番甘いコップに○、一番甘くないコップに×をつけます。



※1. このプリントは、しながわ・目黒こどもスクールのウェブサイトでダウンロードができます。無断複写・引用はご遠慮ください。

※2. このプリントを活用したオンライン授業のスケジュールは、しながわ・目黒こどもスクールのウェブサイトでご確認ください。