



おうちで、やろう。

Study at home. 小学校受験の家庭学習教材

図形：同図形発見 1

左の四角の中と同じ形を右の四角の中から見つけて○をつけます。
形はまわっています。

--	--	--	--	--

--	--	--	--	--

--	--	--	--	--

--	--	--	--	--

--	--	--	--	--

※1. このプリントは、しながわ・目黒こどもスクールのウェブサイトでダウンロードができます。無断複写・引用はご遠慮ください。
 ※2. このプリントを活用したオンライン授業のスケジュールは、しながわ・目黒こどもスクールのウェブサイトでご確認ください。



おうちで、やろう。

Study at home. 小学校受験の家庭学習教材

図形：同図形発見2

左の四角の中と同じ形を右の四角の中から見つけて○をつけます。
形はまわっています。

--	--	--	--	--

--	--	--	--	--

--	--	--	--	--

--	--	--	--	--

--	--	--	--	--

※1. このプリントは、しながわ・目黒こどもスクールのウェブサイトでダウンロードができます。無断複写・引用はご遠慮ください。

※2. このプリントを活用したオンライン授業のスケジュールは、しながわ・目黒こどもスクールのウェブサイトでご確認ください。



おうちで、やろう。

Study at home. 小学校受験の家庭学習教材

図形：同図形発見3

左の四角の中と同じ形を右の四角の中から見つけて○をつけます。
形はまわっています。

--	--	--	--	--

--	--	--	--	--

--	--	--	--	--

--	--	--	--	--

--	--	--	--	--

※1. このプリントは、しながわ・目黒こどもスクールのウェブサイトでダウンロードができます。無断複写・引用はご遠慮ください。
 ※2. このプリントを活用したオンライン授業のスケジュールは、しながわ・目黒こどもスクールのウェブサイトでご確認ください。



おうちで、やろう。

Study at home. 小学校受験の家庭学習教材

推理：系列完成 13

記号がある順番通りに並んでいます。空いている四角に入る記号を考えてその記号をかきます。

	×	×		△	×	×	○		×
									×
△	○		×		○	×		△	○

◎	/			◎	/	▷	/		/
									▷
◎		▷		◎	/		/	◎	/

×		×	◎		×	◎	×	◎	/
									×
/		◎	×						◎
◎									
×	◎	×		◎		◎	×	/	

※1. このプリントは、しながわ・目黒こどもスクールのウェブサイトでダウンロードができます。無断複写・引用はご遠慮ください。
 ※2. このプリントを活用したオンライン授業のスケジュールは、しながわ・目黒こどもスクールのウェブサイトでご確認ください。



おうちで、やろう。

Study at home. 小学校受験の家庭学習教材

推理：系列完成 13

記号がある順番通りに並んでいます。空いている四角に入る記号を考えてその記号をかきます。

/	\	—			\	—		/	\
									—
/			\	/		—		/	

→	→		↓	→	→	↑	↓		→
									↑
	↓	↑		→	↓		→	→	

●		●● ●●	●●●● ●●●●	●	●	●●	●●●●		●
	●		●● ●●						●
●●●● ●●●●									●● ●●
●● ●●		●	●		●● ●●	●●		●	●●●● ●●●●

※1. このプリントは、しながわ・目黒こどもスクールのウェブサイトでダウンロードができます。無断複写・引用はご遠慮ください。
 ※2. このプリントを活用したオンライン授業のスケジュールは、しながわ・目黒こどもスクールのウェブサイトでご確認ください。

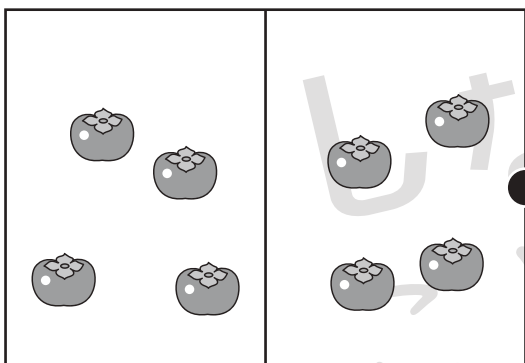






おうちで、やろう。

Study at home. 小学校受験の家庭学習教材

数量：合わせた数 9

左の2つの四角の果物の数を合わせるといくつになりますか。
合わせた数と同じ数の星を右の四角の中からみつけて点と点を線で結びます。



※1. このプリントは、しながわ・目黒こどもスクールのウェブサイトでダウンロードができます。無断複写・引用はご遠慮ください。
※2. このプリントを活用したオンライン授業のスケジュールは、しながわ・目黒こどもスクールのウェブサイトでご確認ください。




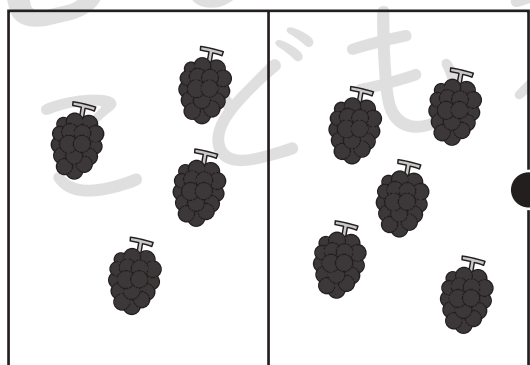


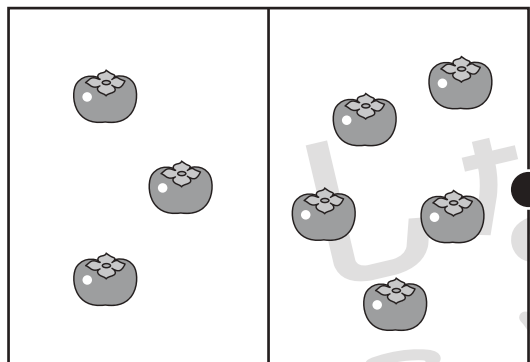


おうちで、やろう。

Study at home. 小学校受験の家庭学習教材

数量：合わせた数 10

左の2つの四角の果物の数を合わせるといくつになりますか。
合わせた数と同じ数の星を右の四角の中からみつけて点と点を線で結びます。



※1. このプリントは、しながわ・目黒こどもスクールのウェブサイトでダウンロードができます。無断複写・引用はご遠慮ください。
※2. このプリントを活用したオンライン授業のスケジュールは、しながわ・目黒こどもスクールのウェブサイトでご確認ください。



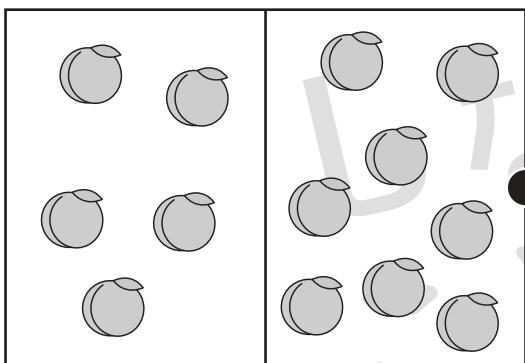

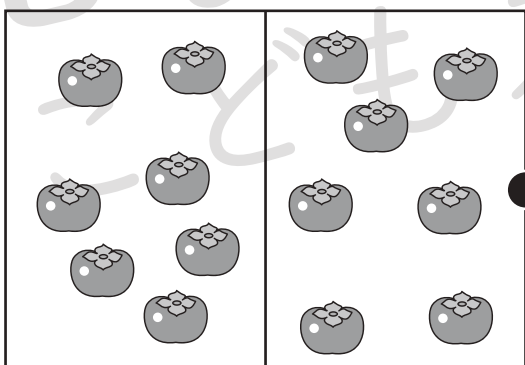




おうちで、やろう。

Study at home. 小学校受験の家庭学習教材

数量：合わせた数 11

左の2つの四角の果物の数を合わせるといくつになりますか。
合わせた数と同じ数の星を右の四角の中からみつけて点と点を線で結びます。



※1. このプリントは、しながわ・目黒こどもスクールのウェブサイトでダウンロードができます。無断複写・引用はご遠慮ください。
※2. このプリントを活用したオンライン授業のスケジュールは、しながわ・目黒こどもスクールのウェブサイトでご確認ください。

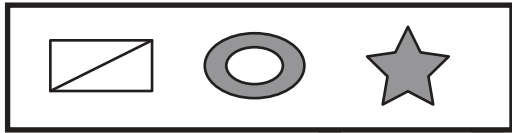


おうちで、やろう。

Study at home. 小学校受験の家庭学習教材

処理能力：抹消5

上の太い四角の中の絵がお手本です。下のマスの中からお手本の絵をみつけて斜め線（/）をつけていきます。お手本を見つけるときは、一番上の段の左からはじめて、右端まで見ます。1段目ができたら2段目の左から右。次に3段目の左から右と順番に印をつけていきます。この問題はできるだけ早く印をつけます。それぞれ40秒以内を目指し取り組みましょう。





※1. このプリントは、しながわ・目黒こどもスクールのウェブサイトでダウンロードができます。無断複写・引用はご遠慮ください。
※2. このプリントを活用したオンライン授業のスケジュールは、しながわ・目黒こどもスクールのウェブサイトでご確認ください。



おうちで、やろう。

Study at home. 小学校受験の家庭学習教材

図形：点図形 26

左のお手本と同じになるように右の四角に線をかきます。 ※このプリントに解答はありません。

※1. このプリントは、しながわ・目黒こどもスクールのウェブサイトでダウンロードができます。無断複写・引用はご遠慮ください。

※2. このプリントを活用したオンライン授業のスケジュールは、しながわ・目黒こどもスクールのウェブサイトでご確認ください。