




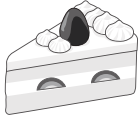
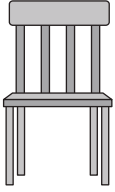




おうちで、やろう。

Study at home. 小学校受験の家庭学習教材








言語：音の理解 24

矢印の左の3つの絵のはじめの音をつなげてできる言葉は何ですか。矢印の右の四角から選んで○をつけます。
3つの絵のはじめの音は左から順番につなげます。


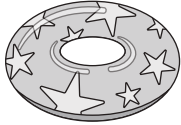





①

			→			
						



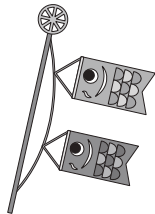


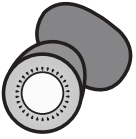

②

			→			
						

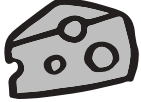


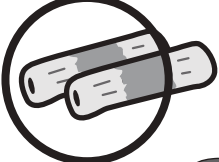



③

			→			
						

④

			→			
						

⑤

			→			
						

※1. このプリントは、しながわ・目黒こどもスクールのウェブサイトでダウンロードができます。無断複写・引用はご遠慮ください。
※2. このプリントを活用したオンライン授業のスケジュールは、しながわ・目黒こどもスクールのウェブサイトでご確認ください。





おうちで、やろう。

Study at home. 小学校受験の家庭学習教材

言語：音の理解 25

矢印の左の四角の中の絵のはじめの音をつなげてできる言葉は何ですか。つなげる順番も考えて、矢印の右の四角から正しいものを選んで○をつけます。

①		→	
②		→	
③		→	
④		→	
⑤		→	

※1. このプリントは、しながわ・目黒こどもスクールのウェブサイトからダウンロードができます。無断複写・引用はご遠慮ください。

※2. このプリントを活用したオンライン授業のスケジュールは、しながわ・目黒こどもスクールのウェブサイトでご確認ください。


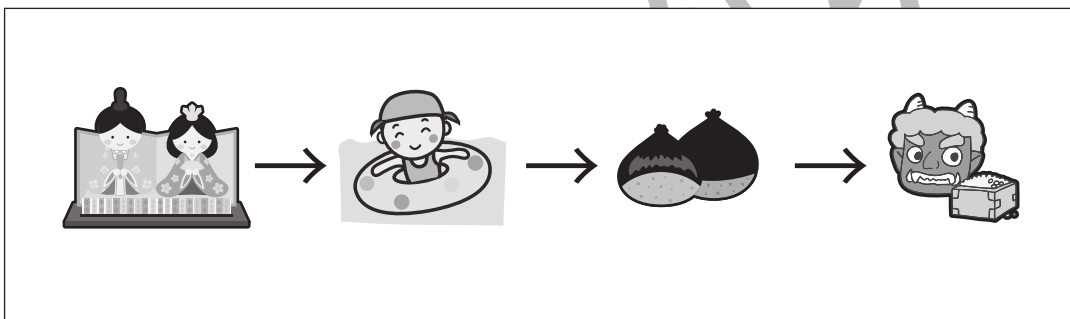

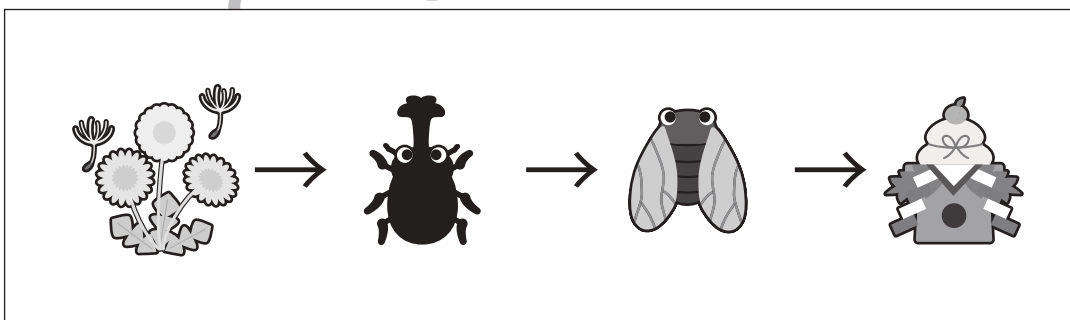

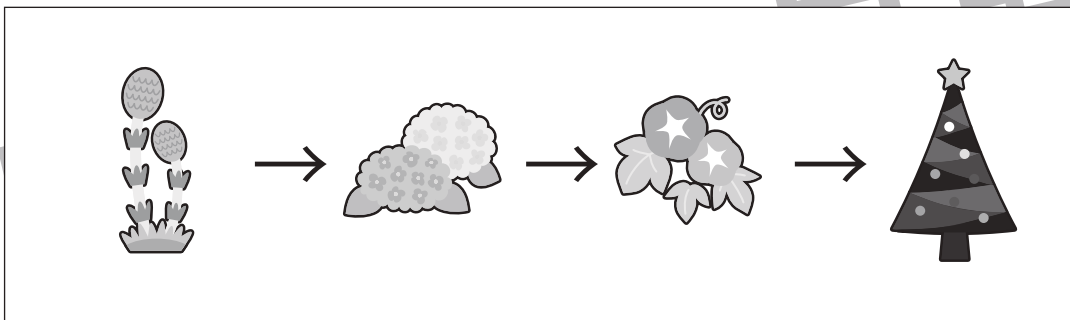



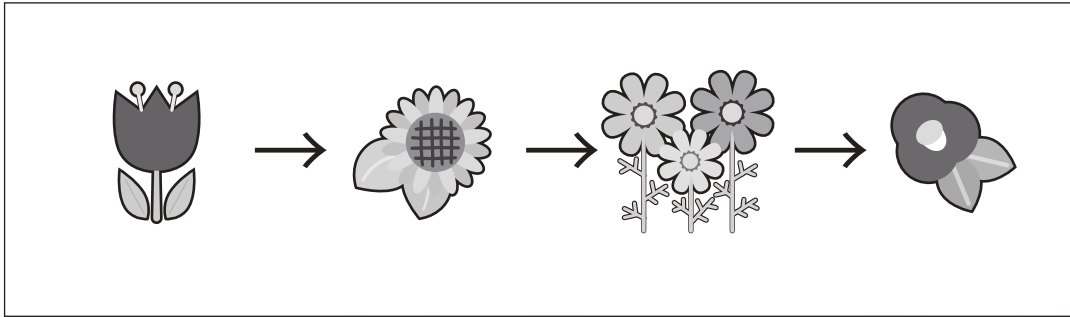


おうちで、やろう。

Study at home. 小学校受験の家庭学習教材

常識：季節 9

左から季節の順番が春→夏→秋→冬となっているときは○、季節の順番が間違っているときは×を右の四角の中にかきます。



※1. このプリントは、しながわ・目黒こどもスクールのウェブサイトでダウンロードができます。無断複写・引用はご遠慮ください。
※2. このプリントを活用したオンライン授業のスケジュールは、しながわ・目黒こどもスクールのウェブサイトでご確認ください。





おうちで、やろう。

Study at home. 小学校受験の家庭学習教材

図形：鏡 17

左のお手本を真ん中の太い線の上に鏡を置いて見た時の見え方を考えます。右の○のうち黒くなる○を塗ります。

※1. このプリントは、しながわ・目黒こどもスクールのウェブサイトでダウンロードができます。無断複写・引用はご遠慮ください。
 ※2. このプリントを活用したオンライン授業のスケジュールは、しながわ・目黒こどもスクールのウェブサイトでご確認ください。



おうちで、やろう。

Study at home. 小学校受験の家庭学習教材

図形：鏡 18

左のお手本を真ん中の太い線の上に鏡を置いて見た時の見え方を考えます。右の○のうち黒くなる○を塗ります。

※1. このプリントは、しながわ・目黒こどもスクールのウェブサイトでダウンロードができます。無断複写・引用はご遠慮ください。
 ※2. このプリントを活用したオンライン授業のスケジュールは、しながわ・目黒こどもスクールのウェブサイトでご確認ください。



おうちで、やろう。

Study at home. 小学校受験の家庭学習教材

図形：鏡 19

左のお手本を真ん中の太い線の上に鏡を置いて見た時の見え方を考えます。右の○のうち黒くなる○を塗ります。

※1. このプリントは、しながわ・目黒こどもスクールのウェブサイトでダウンロードができます。無断複写・引用はご遠慮ください。
 ※2. このプリントを活用したオンライン授業のスケジュールは、しながわ・目黒こどもスクールのウェブサイトでご確認ください。



おうちで、やろう。

Study at home. 小学校受験の家庭学習教材

数量：合わせた数 12

左の白丸と右の灰色の丸の数を合わせて8になるように点と点をむすびます。

4 white circles	2 grey circles
3 white circles	3 grey circles
5 white circles	4 grey circles
2 white circles	5 grey circles

※1. このプリントは、しながわ・目黒こどもスクールのウェブサイトでダウンロードができます。無断複写・引用はご遠慮ください。

※2. このプリントを活用したオンライン授業のスケジュールは、しながわ・目黒こどもスクールのウェブサイトでご確認ください。



おうちで、やろう。

Study at home. 小学校受験の家庭学習教材

数量：合わせた数 13

左の白丸と右の灰色の丸の数を合わせて 10 になるように点と点をむすびます。

6 white dots	4 grey dots
5 white dots	4 grey dots
3 white dots	6 grey dots
6 white dots	6 grey dots

※1. このプリントは、しながわ・目黒こどもスクールのウェブサイトでダウンロードができます。無断複写・引用はご遠慮ください。

※2. このプリントを活用したオンライン授業のスケジュールは、しながわ・目黒こどもスクールのウェブサイトでご確認ください。



おうちで、やろう。

Study at home. 小学校受験の家庭学習教材

数量：合わせた数 14

左の白丸と右の灰色の丸の数を合わせて 15 になるように点と点をむすびます。

10 white circles	8 grey circles
8 white circles	5 grey circles
9 white circles	6 grey circles
11 white circles	9 grey circles

※1. このプリントは、しながわ・目黒こどもスクールのウェブサイトでダウンロードができます。無断複写・引用はご遠慮ください。
※2. このプリントを活用したオンライン授業のスケジュールは、しながわ・目黒こどもスクールのウェブサイトでご確認ください。