







# おうちで、やろう。

Study at home. 小学校受験の家庭学習教材

言語：言葉3

それぞれの問題の言葉に合う絵を選んで○をつけます。

①「こえる」という言葉に合う絵に○をつけます。 ②「きる」という言葉に合う絵に○をつけます。 ③「おりする」という言葉に合う絵に○をつけます。 ④「とどく」という言葉に合う絵に○をつけます。 ⑤「かける」という言葉に合う絵に○をつけます。



※1. このプリントは、しながわ・目黒こどもスクールのウェブサイトからダウンロードできます。無断複写・引用はご遠慮ください。

※2. このプリントを活用したオンライン授業のスケジュールは、しながわ・目黒こどもスクールのウェブサイトでご確認ください。



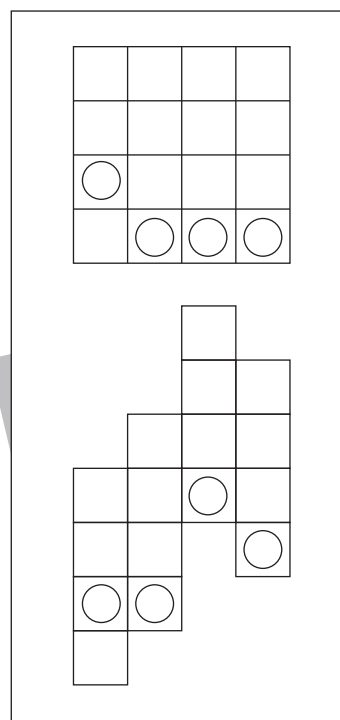
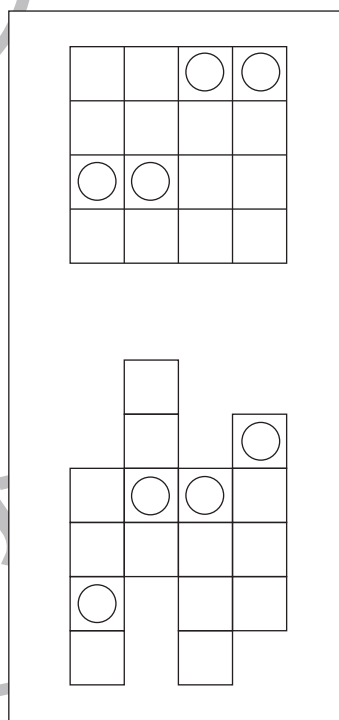
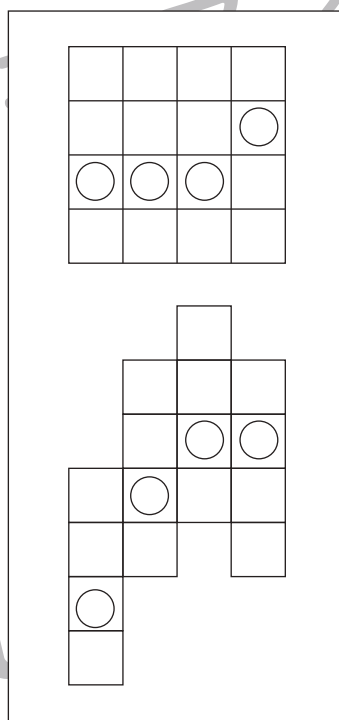
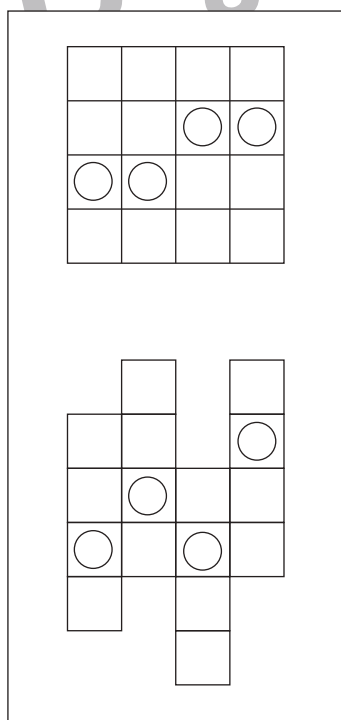
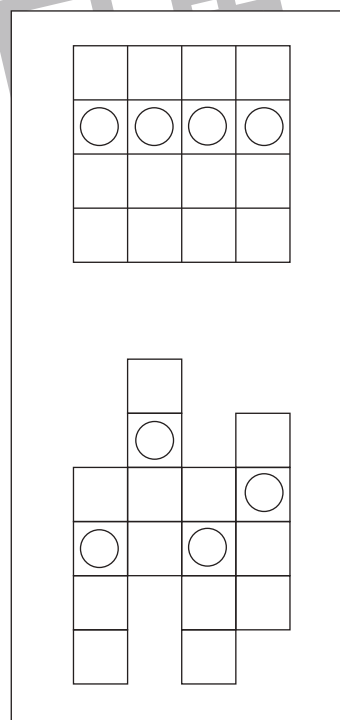
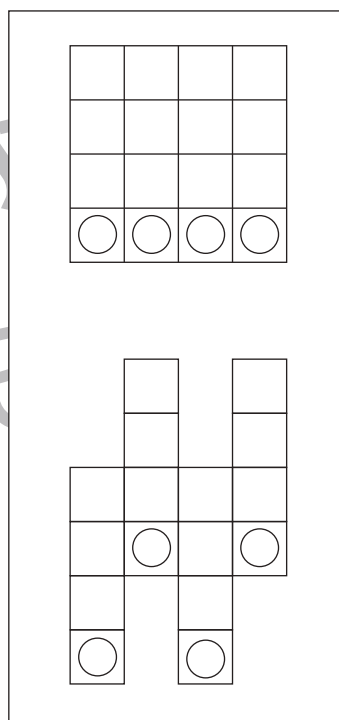
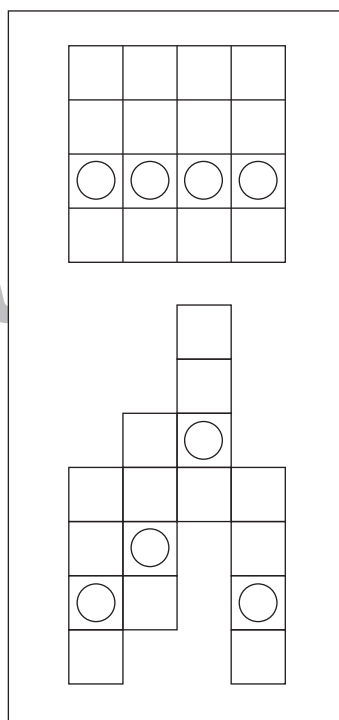
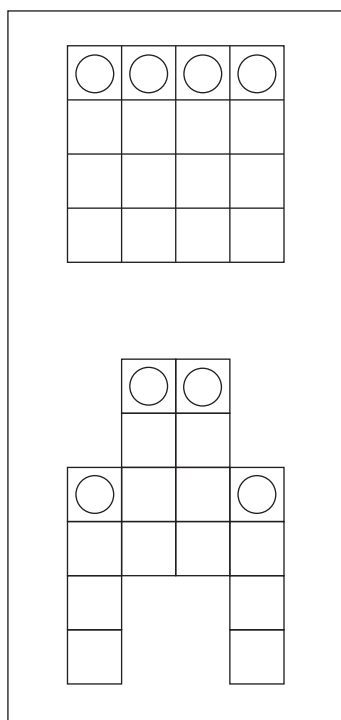


# おうちで、やろう。

Study at home. 小学校受験の家庭学習教材

## 図形：移動 22

上の四角がお手本です。このお手本の○を下の四角の同じ場所にかきます。ただし、下の四角はマスがずれています。どのマスにかけばよいのかを考えましょう。



※1. このプリントは、しながわ・目黒こどもスクールのウェブサイトでダウンロードができます。無断複写・引用はご遠慮ください。  
 ※2. このプリントを活用したオンライン授業のスケジュールは、しながわ・目黒こどもスクールのウェブサイトでご確認ください。

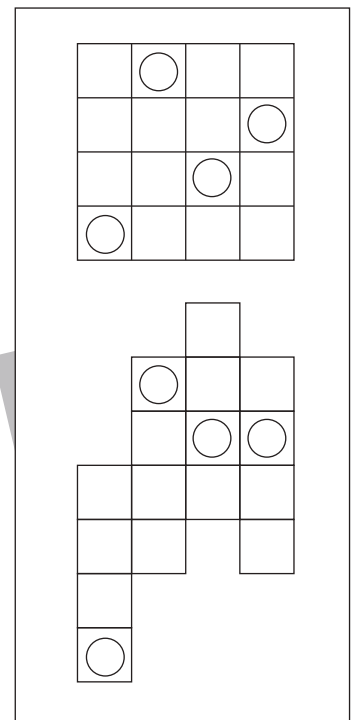
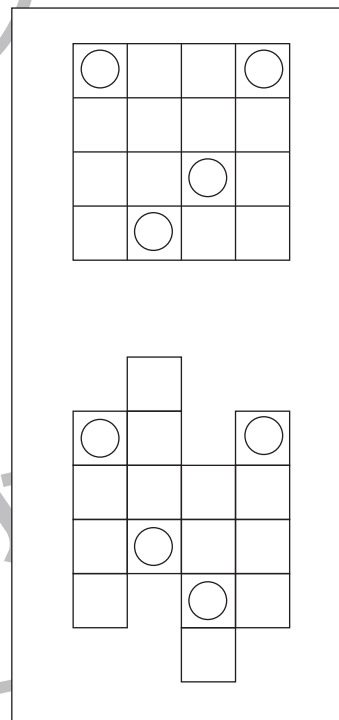
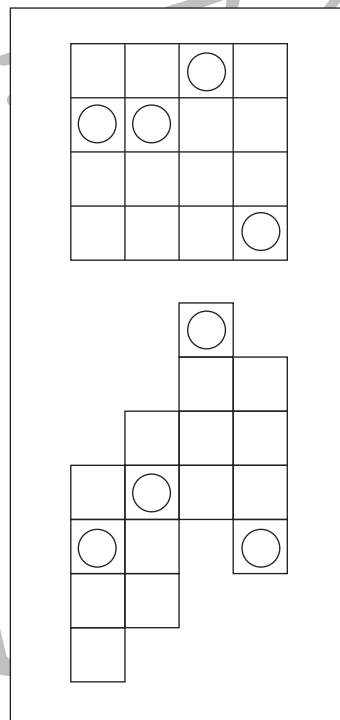
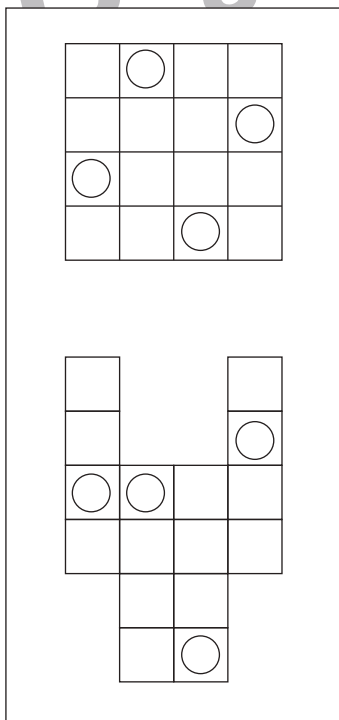
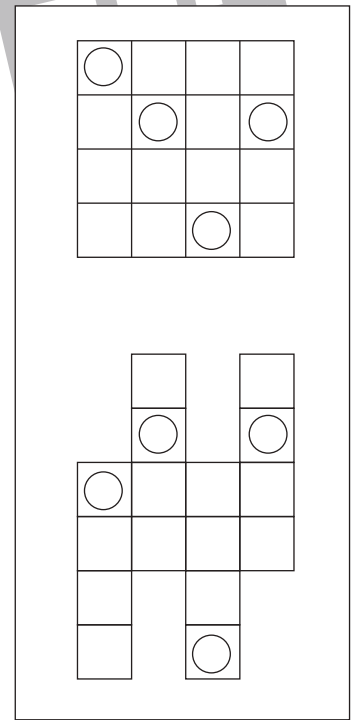
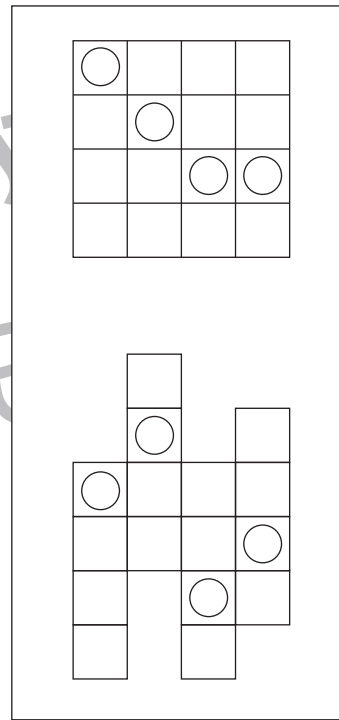
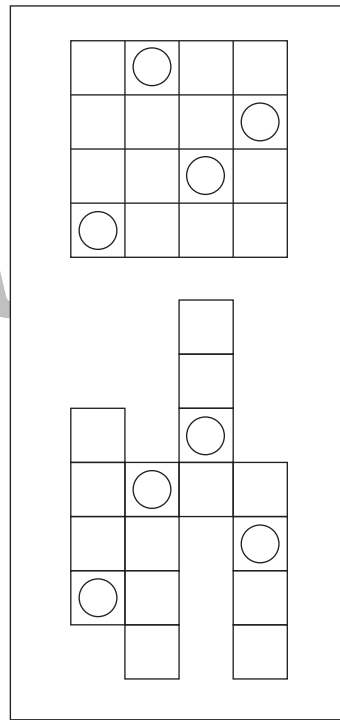
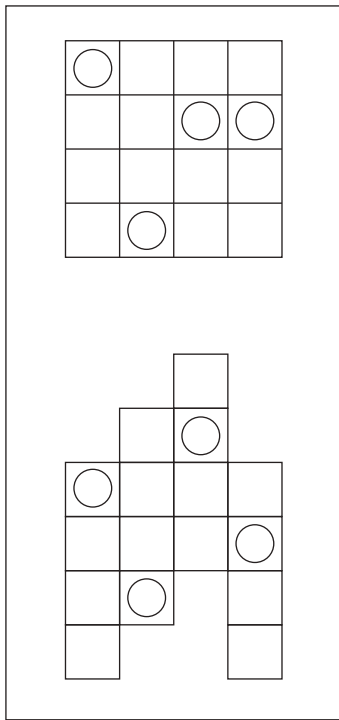


# おうちで、やろう。

Study at home. 小学校受験の家庭学習教材

## 図形：移動 23

上の四角がお手本です。このお手本の○を下の四角の同じ場所にかきます。ただし、下の四角はマスがずれています。どのマスにかけばよいのかを考えましょう。



※1. このプリントは、しながわ・目黒こどもスクールのウェブサイトでダウンロードができます。無断複写・引用はご遠慮ください。  
 ※2. このプリントを活用したオンライン授業のスケジュールは、しながわ・目黒こどもスクールのウェブサイトでご確認ください。

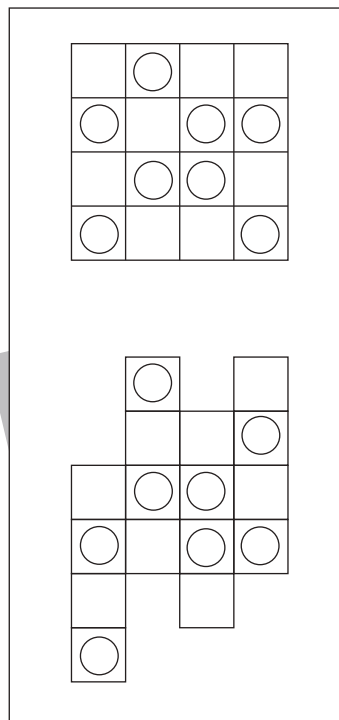
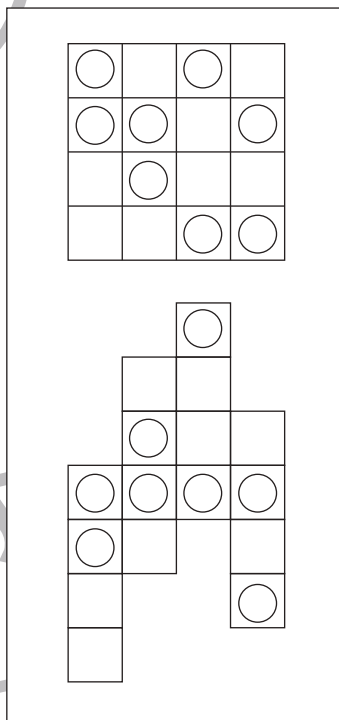
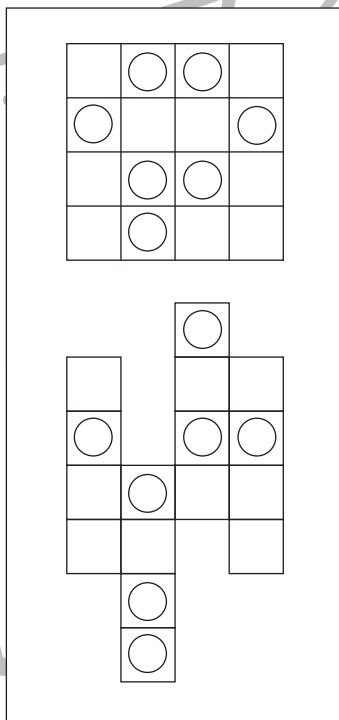
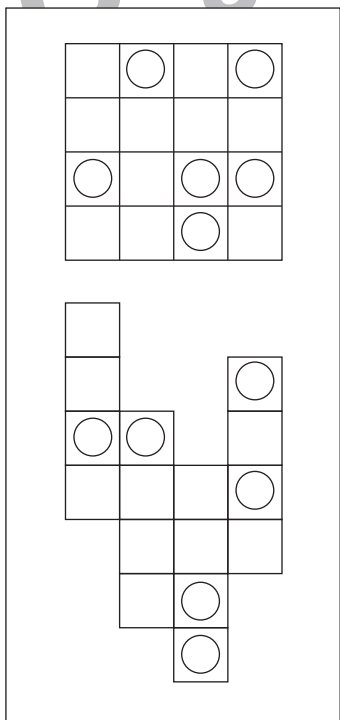
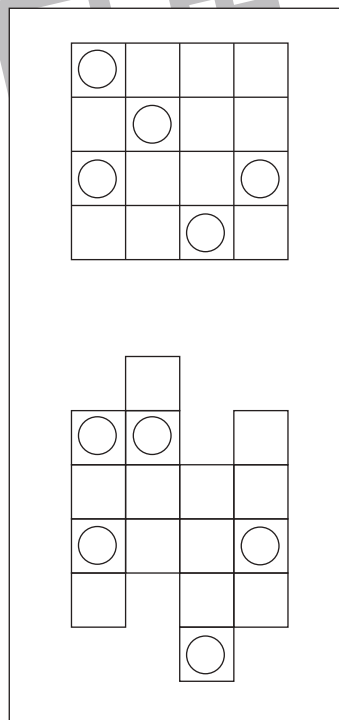
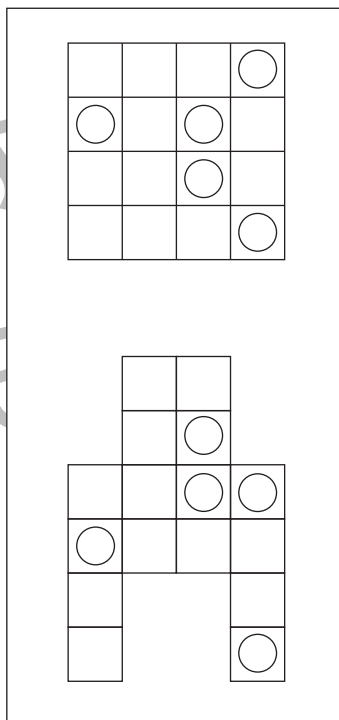
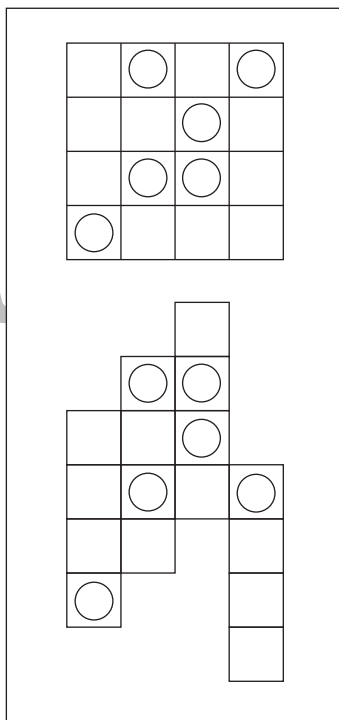
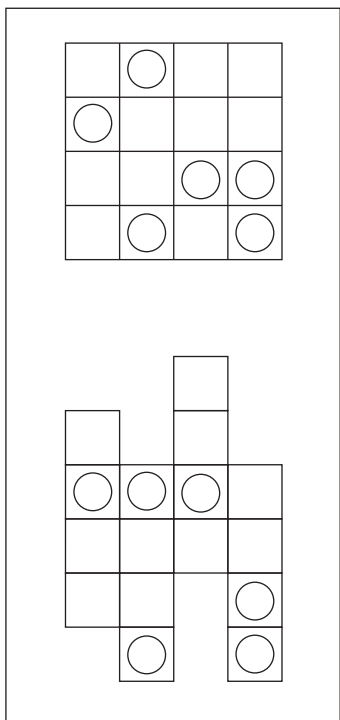


# おうちで、やろう。

Study at home. 小学校受験の家庭学習教材

## 図形：移動 24

上の四角がお手本です。このお手本の○を下の四角の同じ場所にかきます。ただし、下の四角はマスがずれています。どのマスにかけばよいのかを考えましょう。



※1. このプリントは、しながわ・目黒こどもスクールのウェブサイトでダウンロードができます。無断複写・引用はご遠慮ください。  
 ※2. このプリントを活用したオンライン授業のスケジュールは、しながわ・目黒こどもスクールのウェブサイトでご確認ください。




# おうちで、やろう。

Study at home. 小学校受験の家庭学習教材


## 推理：隠れた絵 4

左のスケッチブックに描かれている絵は、決まった順番で並んでいます。ところが、灰色の模様でいくつか隠れてしまいました。点線の下の中四角の中の絵はいくつ隠れていますか。その数だけ→の右に○をかきます。




 → ○ × 2

 → ○ × 6




 → ○ × 4

 → ○ × 3



 → ○ × 4

 → ○ × 3



 → ○ × 3

 → ○ × 4

※1. このプリントは、しながわ・目黒こどもスクールのウェブサイトでダウンロードができます。無断複写・引用はご遠慮ください。  
 ※2. このプリントを活用したオンライン授業のスケジュールは、しながわ・目黒こどもスクールのウェブサイトでご確認ください。



# おうちで、やろう。

Study at home. 小学校受験の家庭学習教材

## 推理：隠れた絵5

左のスケッチブックに描かれている絵は、決まった順番で並んでいます。ところが、灰色の模様でいくつか隠れてしまいました。点線の下の中四角の中の絵はいくつ隠れていますか。その数だけ→の右に○をかきます。

→ ○ × 3	→ ○ × 5

→ ○ × 5	→ ○ × 4

→ ○ × 5	→ ○ × 2

→ ○ × 1	→ ○ × 5

※1. このプリントは、しながわ・目黒こどもスクールのウェブサイトでダウンロードができます。無断複写・引用はご遠慮ください。  
※2. このプリントを活用したオンライン授業のスケジュールは、しながわ・目黒こどもスクールのウェブサイトでご確認ください。

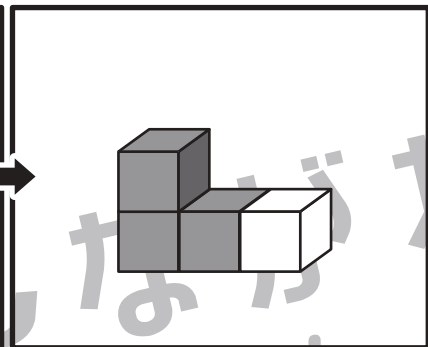



# おうちで、やろう。

Study at home. 小学校受験の家庭学習教材

## 推理：積み木 12



左枠にいくつかの積み木があります。この積み木をつかってお友だちが遊んだ後、矢印の先にある数まで積み木が減ってしまいました。お友だちが遊んでいる最中に、白と黒の積み木はそれぞれいくつ積み木が無くなってしまったのでしょうか。その数だけ右枠に○を描きましょう。



$$\bigcirc \times 3$$



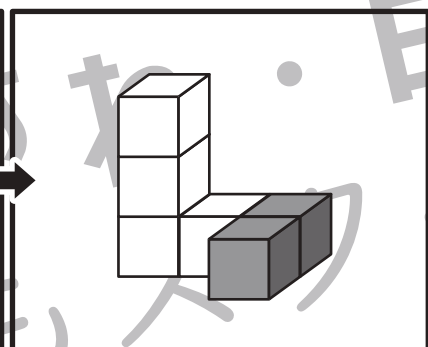

$$\bigcirc \times 2$$



$$\bigcirc \times 1$$



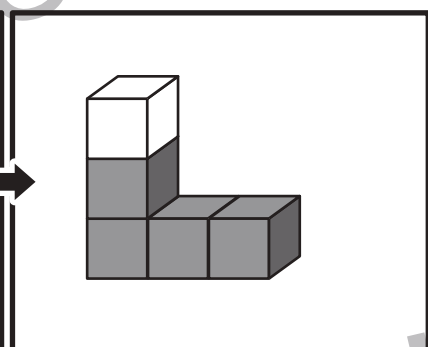

$$\bigcirc \times 3$$



$$\bigcirc \times 2$$



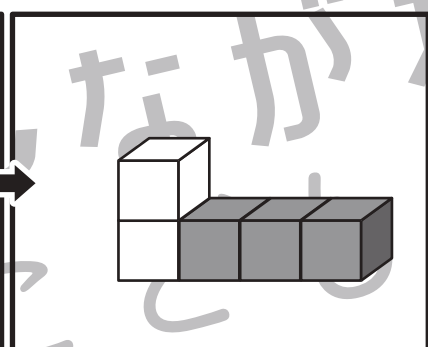

$$\bigcirc \times 1$$



$$\bigcirc \times 2$$



$$\bigcirc \times 3$$



$$\bigcirc \times 2$$



$$\bigcirc \times 4$$

※1. このプリントは、しながわ・目黒こどもスクールのウェブサイトからダウンロードできます。無断複写・引用はご遠慮ください。

※2. このプリントを活用したオンライン授業のスケジュールは、しながわ・目黒こどもスクールのウェブサイトでご確認ください。







# おうちで、よろう。

Study at home. 小学校受験の家庭学習教材

## 推理：積み木 13

左枠にいくつかの積み木があります。この積み木をつかってお友だちが遊んだ後、矢印の先にある数まで積み木が減ってしまいました。お友だちが遊んでいる最中に、白と黒の積み木はそれぞれいくつ積み木が無くなってしまったのでしょうか。その数だけ右枠に○を描きましょう。

		<div style="display: flex; align-items: center;"> ○ × 3</div> <hr style="border-top: 1px dashed black;"/> <div style="display: flex; align-items: center;"> ○ × 3</div>
		<div style="display: flex; align-items: center;"> ○ × 2</div> <hr style="border-top: 1px dashed black;"/> <div style="display: flex; align-items: center;"> ○ × 3</div>
		<div style="display: flex; align-items: center;"> ○ × 4</div> <hr style="border-top: 1px dashed black;"/> <div style="display: flex; align-items: center;"> ○ × 1</div>
		<div style="display: flex; align-items: center;"> ○ × 4</div> <hr style="border-top: 1px dashed black;"/> <div style="display: flex; align-items: center;"> ○ × 3</div>
		<div style="display: flex; align-items: center;"> ○ × 2</div> <hr style="border-top: 1px dashed black;"/> <div style="display: flex; align-items: center;"> ○ × 3</div>

※1. このプリントは、しながわ・目黒こどもスクールのウェブサイトでダウンロードができます。無断複写・引用はご遠慮ください。

※2. このプリントを活用したオンライン授業のスケジュールは、しながわ・目黒こどもスクールのウェブサイトでご確認ください。





# おうちで、やろう。

Study at home. 小学校受験の家庭学習教材

## 推理：積み木 14

左枠にいくつかの積み木があります。この積み木をつかってお友だちが遊んだ後、矢印の先にある数まで積み木が減ってしまいました。お友だちが遊んでいる最中に、白と黒の積み木はそれぞれいくつ積み木が無くなってしまったのでしょうか。その数だけ右枠に○を描きましょう。

		<div style="display: flex; align-items: center;"> <math>\bigcirc \times 2</math> </div> <hr style="border-top: 1px dashed black;"/> <div style="display: flex; align-items: center;"> <math>\bigcirc \times 4</math> </div>
		<div style="display: flex; align-items: center;"> <math>\bigcirc \times 3</math> </div> <hr style="border-top: 1px dashed black;"/> <div style="display: flex; align-items: center;"> <math>\bigcirc \times 3</math> </div>
		<div style="display: flex; align-items: center;"> <math>\bigcirc \times 3</math> </div> <hr style="border-top: 1px dashed black;"/> <div style="display: flex; align-items: center;"> <math>\bigcirc \times 5</math> </div>
		<div style="display: flex; align-items: center;"> <math>\bigcirc \times 4</math> </div> <hr style="border-top: 1px dashed black;"/> <div style="display: flex; align-items: center;"> <math>\bigcirc \times 4</math> </div>
		<div style="display: flex; align-items: center;"> <math>\bigcirc \times 4</math> </div> <hr style="border-top: 1px dashed black;"/> <div style="display: flex; align-items: center;"> <math>\bigcirc \times 4</math> </div>

※1. このプリントは、しながわ・目黒こどもスクールのウェブサイトでダウンロードができます。無断複写・引用はご遠慮ください。

※2. このプリントを活用したオンライン授業のスケジュールは、しながわ・目黒こどもスクールのウェブサイトでご確認ください。