

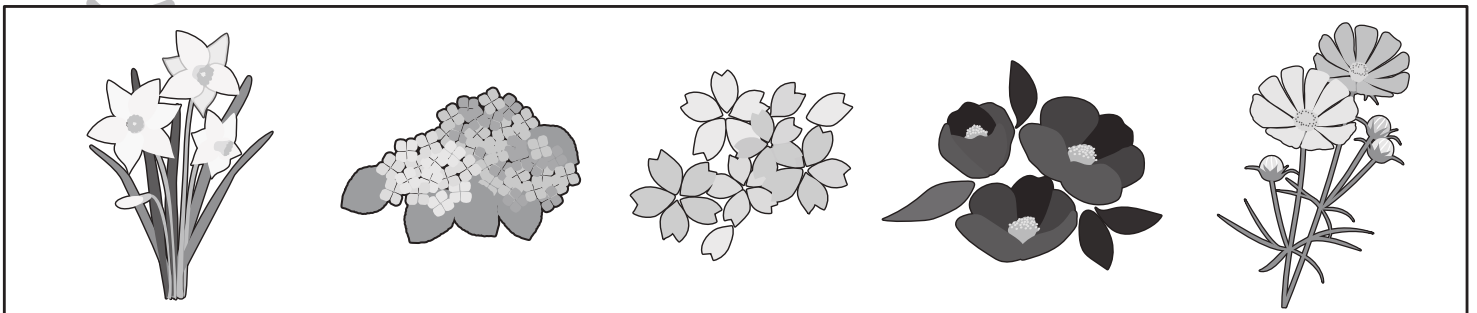
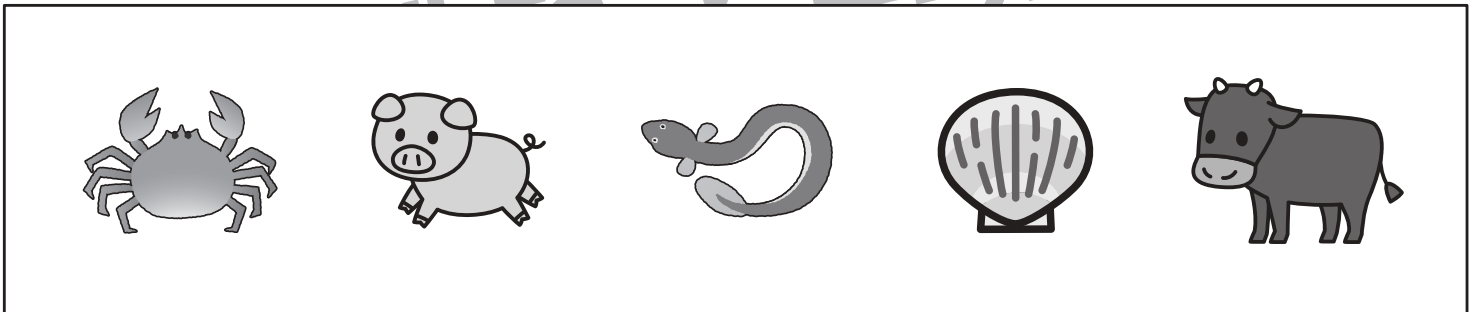




# おうちで、やろう。

Study at home. 小学校受験の家庭学習教材

## 常識：行事4

- ①大晦日に食べると縁起が良いと言われているお料理に○をつけます。
- ②お盆飾りに使われる野菜に○をつけます。
- ③土用の丑の日に食べるものに○をつけます。
- ④梅雨と同じ季節のお花に○をつけます。
- ⑤七夕の行事の時に使わないものに○をつけます。



※1. このプリントは、しながわ・目黒こどもスクールのウェブサイトでダウンロードができます。無断複写・引用はご遠慮ください。  
 ※2. このプリントを活用したオンライン授業のスケジュールは、しながわ・目黒こどもスクールのウェブサイトでご確認ください。


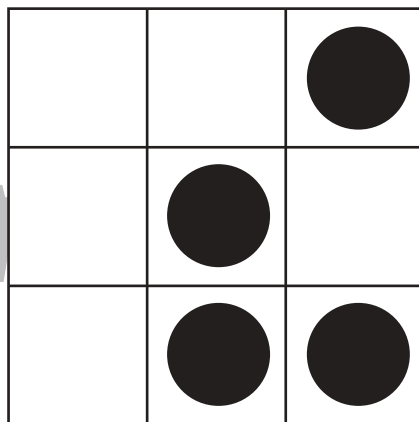


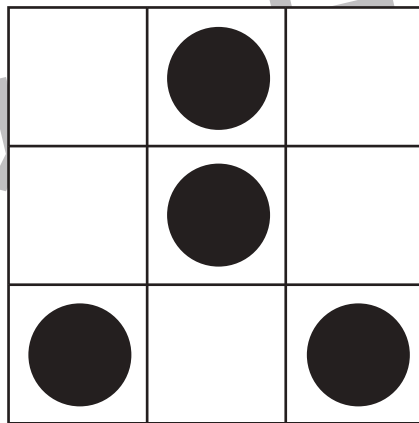


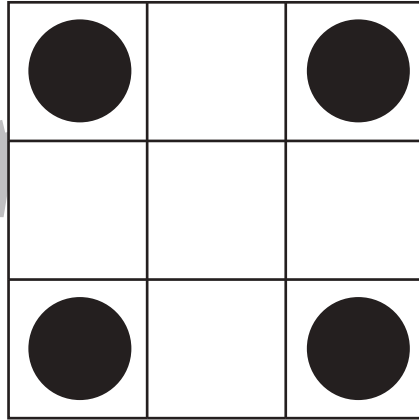



# おうちで、やろう。

Study at home. 小学校受験の家庭学習教材

## 図形：ビンゴ4

空いているどこかのマスに●を1つだけかくと縦・横・斜めのどこかに3つの●の列が2列できます。  
●の列が2列できるように空いているマスに1つだけ●をかきます。



※1. このプリントは、しながわ・目黒こどもスクールのウェブサイトでダウンロードができます。無断複写・引用はご遠慮ください。  
※2. このプリントを活用したオンライン授業のスケジュールは、しながわ・目黒こどもスクールのウェブサイトでご確認ください。






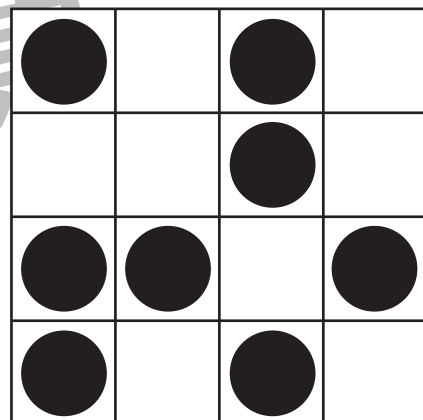

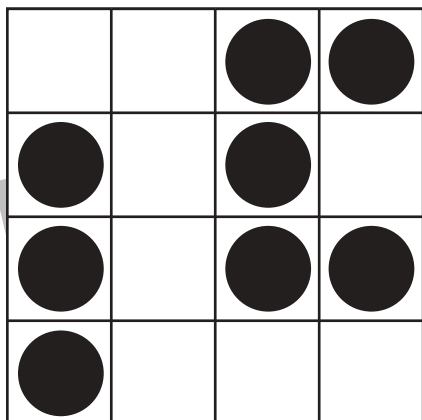





# おうちで、やろう。

Study at home. 小学校受験の家庭学習教材

図形：ビンゴ5

空いているどこかのマスに●を1つだけかくと縦・横・斜めのどこかに4つの●の列が2列できます。  
●の列が2列できるように空いているマスに1つだけ●をかきます。



※1. このプリントは、しながわ・目黒こどもスクールのウェブサイトでダウンロードができます。無断複写・引用はご遠慮ください。  
※2. このプリントを活用したオンライン授業のスケジュールは、しながわ・目黒こどもスクールのウェブサイトでご確認ください。














# おうちで、やろう。

Study at home. 小学校受験の家庭学習教材

図形：ビンゴ6

空いているどこかのマスに●を1つだけかくと縦・横・斜めのどこかに5つの●の列が2列できます。  
●の列が2列できるように空いているマスに1つだけ●をかきます。



※1. このプリントは、しながわ・目黒こどもスクールのウェブサイトでダウンロードができます。無断複写・引用はご遠慮ください。  
※2. このプリントを活用したオンライン授業のスケジュールは、しながわ・目黒こどもスクールのウェブサイトでご確認ください。


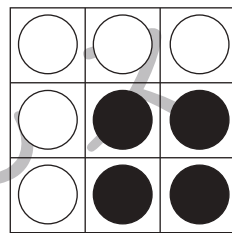
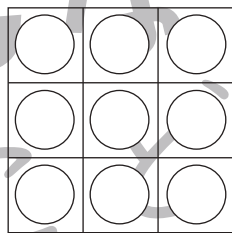

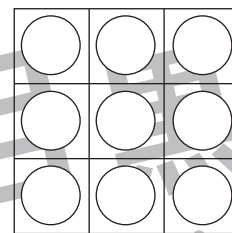



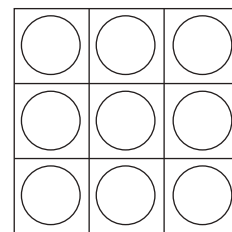
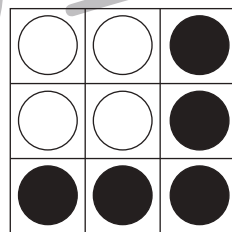
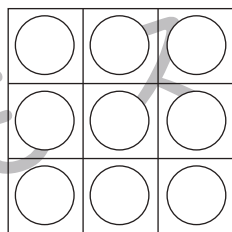

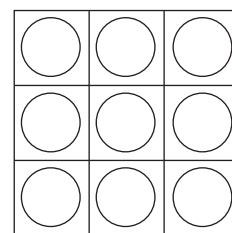
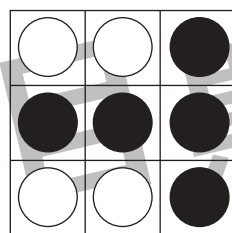
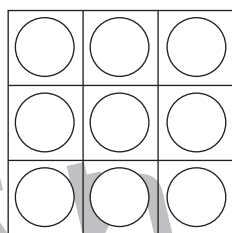
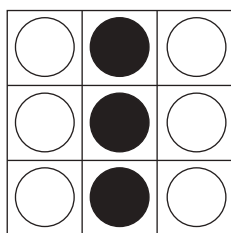
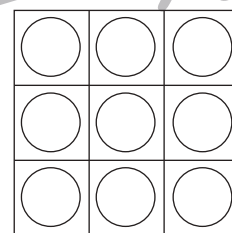
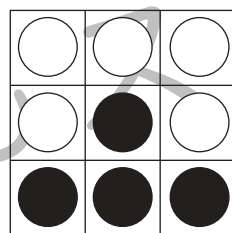

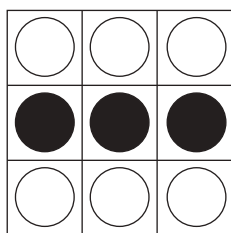
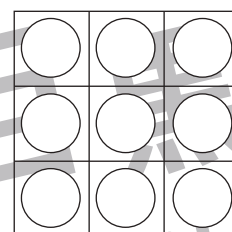
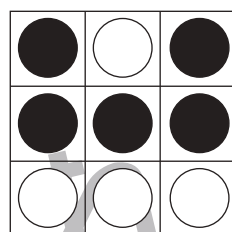
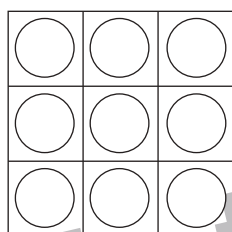
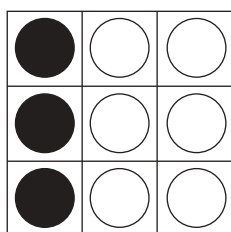


# おうちで、よろう。

Study at home. 小学校受験の家庭学習教材

図形：回転 36

左のお手本を矢印の方向へ1度倒した時の見え方を考えて右の○を塗ります。



※1. このプリントは、しながわ・目黒こどもスクールのウェブサイトでダウンロードができます。無断複写・引用はご遠慮ください。  
※2. このプリントを活用したオンライン授業のスケジュールは、しながわ・目黒こどもスクールのウェブサイトでご確認ください。




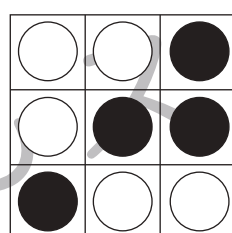


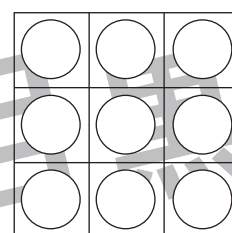

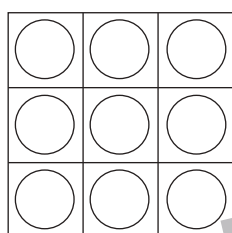

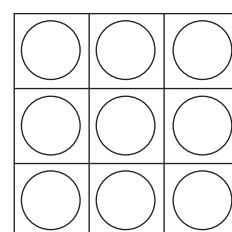
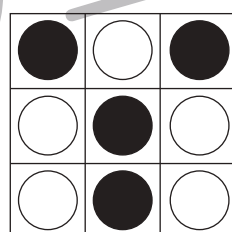
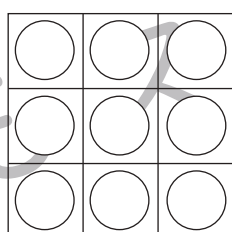

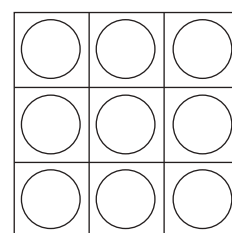
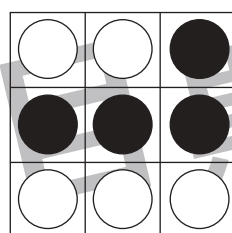
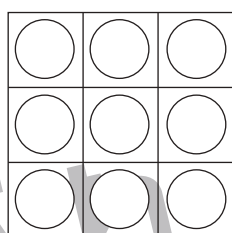

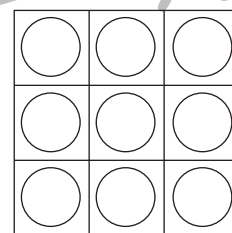
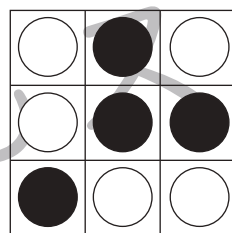


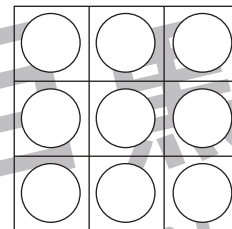
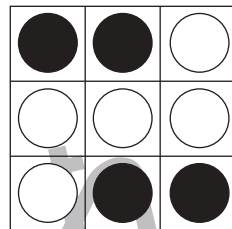
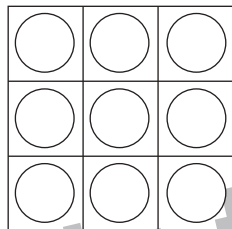



# おうちで、やろう。

Study at home. 小学校受験の家庭学習教材

図形：回転 37

左のお手本を矢印の方向へ 1 度倒した時の見え方を考えて右の○を塗ります。



※1. このプリントは、しながわ・目黒こどもスクールのウェブサイトでダウンロードができます。無断複写・引用はご遠慮ください。  
※2. このプリントを活用したオンライン授業のスケジュールは、しながわ・目黒こどもスクールのウェブサイトでご確認ください。




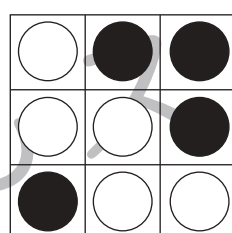


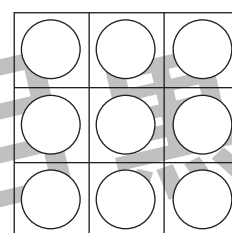

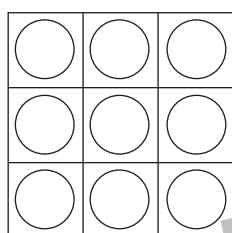

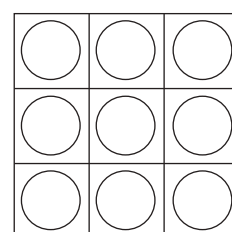
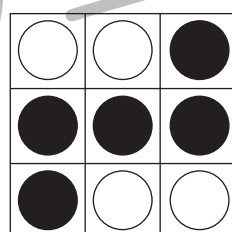
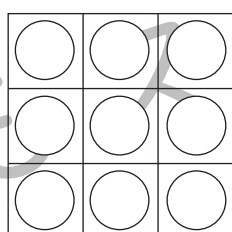

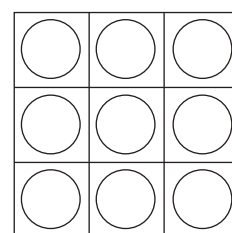
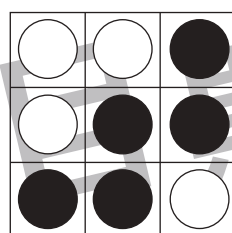
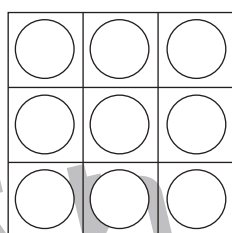

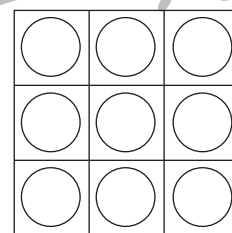
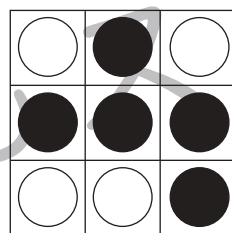


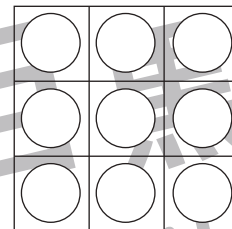
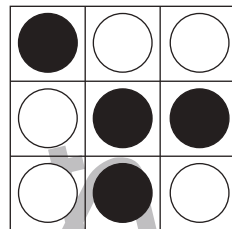
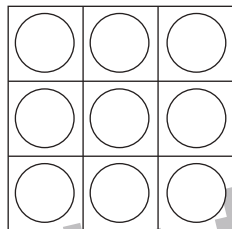



# おうちで、よろう。

Study at home. 小学校受験の家庭学習教材

図形：回転 38

左のお手本を矢印の方向へ 1 度倒した時の見え方を考えて右の○を塗ります。



※1. このプリントは、しながわ・目黒こどもスクールのウェブサイトでダウンロードができます。無断複写・引用はご遠慮ください。  
※2. このプリントを活用したオンライン授業のスケジュールは、しながわ・目黒こどもスクールのウェブサイトでご確認ください。








# おうちで、やろう。

Study at home. 小学校受験の家庭学習教材

数量：ならびかた1

四角の中の絵の並び方を考えます。黒い矢印のついている方が前、白い矢印は後ろです。それぞれお話のとおりにならびかたをつけてみましょう。

- ① 前から3番目の絵に○をつけましょう。
- ② 前から2番目の絵に○をつけましょう。
- ③ 前から3番目と4番目までの絵を○で囲みましょう。
- ④ 後ろから4番目と5番目と6番目までの絵を○で囲みましょう。
- ⑤ いちばん後ろから5番目までの絵を○で囲みましょう。



※1. このプリントは、しながわ・目黒こどもスクールのウェブサイトでダウンロードができます。無断複写・引用はご遠慮ください。  
 ※2. このプリントを活用したオンライン授業のスケジュールは、しながわ・目黒こどもスクールのウェブサイトでご確認ください。










# おうちで、やろう。

Study at home. 小学校受験の家庭学習教材

数量：ならびかた2

四角の中の絵の並び方を考えます。黒い矢印のついている方が前、白い矢印は後ろです。それぞれお話のとおりにならびかたを答えをつけましょう。

- ① 先頭の絵に○を、いちばん後ろの絵に△をつけましょう。
- ② 前から2番目の絵に○を、前から4番目の絵に△をつけましょう。
- ③ 上の段の前から4番目の絵に○を、上の段の後ろから3番目の絵に△をつけましょう。
- ④ 下の段の後ろから2番目の絵に○を、上の段の後ろから5番目の絵に△をつけましょう。
- ⑤ 後ろから3番目と、前から3番目の絵に○をつけましょう。



※1. このプリントは、しながわ・目黒こどもスクールのウェブサイトでダウンロードができます。無断複写・引用はご遠慮ください。  
 ※2. このプリントを活用したオンライン授業のスケジュールは、しながわ・目黒こどもスクールのウェブサイトでご確認ください。




# おうちで、やろう。

Study at home. 小学校受験の家庭学習教材

処理：計数9

上の四角の中の絵の数をかぞえて、下の四角の同じ絵の右にその数だけ〇をかきます。  
この問題はスピードを意識して取り組む練習をしてみましょう。(1分～1分30秒)




※1. このプリントは、しながわ・目黒こどもスクールのウェブサイトでダウンロードができます。無断複写・引用はご遠慮ください。  
※2. このプリントを活用したオンライン授業のスケジュールは、しながわ・目黒こどもスクールのウェブサイトでご確認ください。