








おうちで、やろう。

Study at home. 小学校受験の家庭学習教材

常識：生き物2

質問をよく聞いてお答えに○をつけます。

- ①左の絵のおうちに住んでいる虫に○をつけます。
- ②左の絵の匂いをかくと死んでしまう虫に○をつけます。
- ③左の絵のおうちに住んでいる生き物に○をつけます。
- ④建物の屋根の下などにおうちを作る生き物に○をつけます。
- ⑤水の上をスイスイ歩くことができる動物に○をつけます。



※1. このプリントは、しながわ・目黒こどもスクールのウェブサイトからダウンロードできます。無断複写・引用はご遠慮ください。

※2. このプリントを活用したオンライン授業のスケジュールは、しながわ・目黒こどもスクールのウェブサイトでご確認ください。



おうちで、やろう。

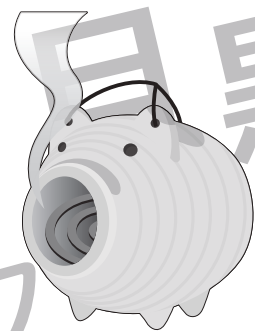



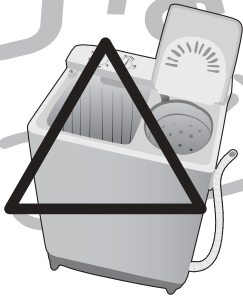

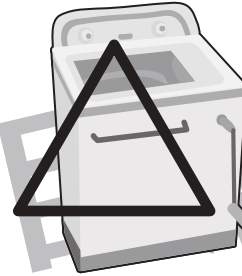


Study at home. 小学校受験の家庭学習教材

常識：生活 7

下の絵は今、皆さんがよく見ているものや今はあまり見ないですが、昔に使っていたものがあります

①下の絵の中で涼しくなるために使うものを見つけて○をつけます。

②下の絵の中で洗濯するときに使うものに△をつけます。



※1. このプリントは、しながわ・目黒こどもスクールのウェブサイトでダウンロードができます。無断複写・引用はご遠慮ください。

※2. このプリントを活用したオンライン授業のスケジュールは、しながわ・目黒こどもスクールのウェブサイトでご確認ください。

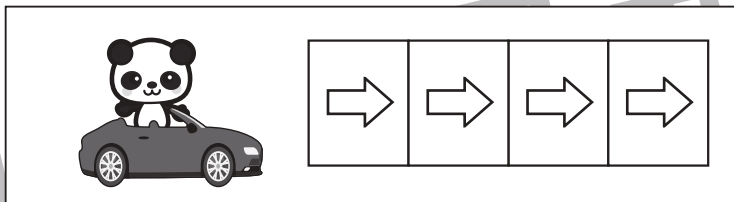



おうちで、やろう。

Study at home. 小学校受験の家庭学習教材

推理：移動1

上の四角がお約束です。ウサギが車に乗ったら2マス、パンダが車に乗ったら4マス進みます。下のように吹き出しの中の動物たちが順番に乗った車はどこに止まりますか。最後に車が止まったマスに○をつけます。



Scenario 1: Rabbit moves 2 spaces.

				○										
--	--	--	--	---	--	--	--	--	--	--	--	--	--	--

Scenario 2: Panda moves 4 spaces.

				○										
--	--	--	--	---	--	--	--	--	--	--	--	--	--	--

Scenario 3: Rabbit moves 2 spaces, then Panda moves 4 spaces.

										○				
--	--	--	--	--	--	--	--	--	--	---	--	--	--	--

Scenario 4: Panda moves 4 spaces, then Rabbit moves 2 spaces, then Rabbit moves 2 spaces.

										○				
--	--	--	--	--	--	--	--	--	--	---	--	--	--	--

※1. このプリントは、しながわ・目黒こどもスクールのウェブサイトからダウンロードできます。無断複写・引用はご遠慮ください。
※2. このプリントを活用したオンライン授業のスケジュールは、しながわ・目黒こどもスクールのウェブサイトでご確認ください。


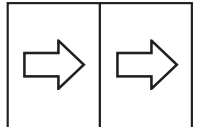

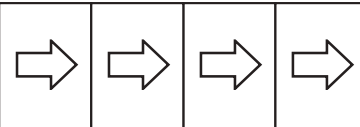

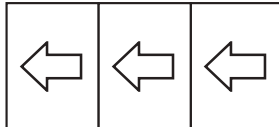


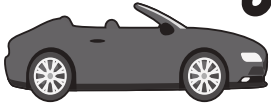

おうちで、やろう。

Study at home. 小学校受験の家庭学習教材

推理：移動2

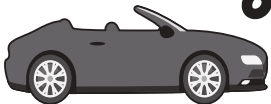

上の四角がお約束です。ウサギが車に乗ったら2マス、パンダが車に乗ったら4マス進みます。ブタが車に乗ったら3マス下がります。下のよう吹き出しの中の動物たちが順番に乗った車はどこに止まりますか。最後に車が止まったマスに○をつけます。

					
--	---	---	--	---	---



→

○														
---	--	--	--	--	--	--	--	--	--	--	--	--	--	--

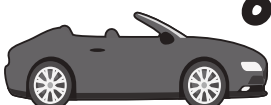

→

		○												
--	--	---	--	--	--	--	--	--	--	--	--	--	--	--

→

						○								
--	--	--	--	--	--	---	--	--	--	--	--	--	--	--

→

			○											
--	--	--	---	--	--	--	--	--	--	--	--	--	--	--

※1. このプリントは、しながわ・目黒こどもスクールのウェブサイトダウンロードできます。無断複写・引用はご遠慮ください。
※2. このプリントを活用したオンライン授業のスケジュールは、しながわ・目黒こどもスクールのウェブサイトでご確認ください。






おうちで、やろう。

Study at home. 小学校受験の家庭学習教材

推理：移動3

上の四角がお約束です。イヌが車に乗ったら2マス進み、ブタが車に乗ったら4マス進みます。ウサギが車に乗ったら1マス下がり、パンダが車に乗ったら3マス下がります。下のように吹き出しの中の動物たちが順番に乗った車はどこに止まりますか。最後に車が止まったマスに○をつけます。



Car on the left, thought bubble with Pig, Rabbit, Dog.

				○										
--	--	--	--	---	--	--	--	--	--	--	--	--	--	--

Car on the left, thought bubble with Pig, Pig, Panda.

				○										
--	--	--	--	---	--	--	--	--	--	--	--	--	--	--

Car on the left, thought bubble with Pig, Panda, Rabbit, Dog.

	○													
--	---	--	--	--	--	--	--	--	--	--	--	--	--	--

Car on the left, thought bubble with Pig, Rabbit, Dog, Dog, Panda, Pig.

								○						
--	--	--	--	--	--	--	--	---	--	--	--	--	--	--

※1. このプリントは、しながわ・目黒こどもスクールのウェブサイトでダウンロードができます。無断複写・引用はご遠慮ください。
※2. このプリントを活用したオンライン授業のスケジュールは、しながわ・目黒こどもスクールのウェブサイトでご確認ください。



おうちで、やろう。

Study at home. 小学校受験の家庭学習教材

推理：重さの置き換え3

天秤に果物をのせて重さ比べをしました。上の太い四角の中が約束です。この約束のとき、それぞれの天秤の右側にイチゴをいくつのおせばつり合いますか。のせるイチゴの数だけ四角の中に○をかきます。

※1. このプリントは、しながわ・目黒こどもスクールのウェブサイトでダウンロードができます。無断複写・引用はご遠慮ください。

※2. このプリントを活用したオンライン授業のスケジュールは、しながわ・目黒こどもスクールのウェブサイトでご確認ください。



おうちで、やろう。

Study at home. 小学校受験の家庭学習教材

推理：重さの置き換え4

天秤に果物をのせて重さ比べをしました。上の太い四角の中が約束です。この約束のとき、それぞれの天秤の右側にリンゴをいくつのおせばつり合いますか。のせるリンゴの数だけ四角の中に○をかきます。

※1. このプリントは、しながわ・目黒こどもスクールのウェブサイトでダウンロードができます。無断複写・引用はご遠慮ください。

※2. このプリントを活用したオンライン授業のスケジュールは、しながわ・目黒こどもスクールのウェブサイトでご確認ください。



おうちで、やろう。

Study at home. 小学校受験の家庭学習教材

推理：重さの置き換え5

天秤に果物をのせて重さ比べをしました。上の太い四角の中が約束です。この約束のとき、それぞれの天秤の右側に四角の中にある果物をいくつのせればつり合いますか。のせる果物の数だけ四角の中に○をかきます。

※1. このプリントは、しながわ・目黒こどもスクールのウェブサイトでダウンロードができます。無断複写・引用はご遠慮ください。

※2. このプリントを活用したオンライン授業のスケジュールは、しながわ・目黒こどもスクールのウェブサイトでご確認ください。








おうちで、やろう。

Study at home. 小学校受験の家庭学習教材

数量：ならびかた3

四角の中の絵の並び方を考えます。黒い矢印のついている方が前、白い矢印は後ろです。それぞれお話のとおりにならびかたをつけてみましょう。

- ①. 先頭から前から4番目までのひよこを○で囲みます。
- ②. 後ろから2番目から後ろから6番目までのひよこを○で囲みます。
- ③. 上の段の前から2番目から前から7番目までのひよこを○で囲みます。
- ④. 上の段の一番後ろから後ろから4番目までのひよこを○で囲み、下の段の先頭から前から3番目までのひよこを□で囲みます。
- ⑤. 上の段の先頭から前から4番目までのひよこを○で囲み、下の段の一番後ろから後ろから2番目までのひよこを□で囲みます。



※1. このプリントは、しながわ・目黒こどもスクールのウェブサイトでダウンロードができます。無断複写・引用はご遠慮ください。

※2. このプリントを活用したオンライン授業のスケジュールは、しながわ・目黒こどもスクールのウェブサイトでご確認ください。



















































































































おうちで、やろう。

Study at home. 小学校受験の家庭学習教材

処理能力：置き換え5

上の太い四角の中の絵がお手本です。上の絵の時に下の四角にそれぞれの記号をかきます。問題は一番上の段の左からはじめて、右端まで見ます。1段目ができたら2段目の左から右。次に3段目の左から右と順番に記号をかきます。この問題はできるだけ早く印をつけます。それぞれ1分以内を目指し取り組みましょう。

※1. このプリントは、しながわ・目黒こどもスクールのウェブサイトでダウンロードができます。無断複写・引用はご遠慮ください。
※2. このプリントを活用したオンライン授業のスケジュールは、しながわ・目黒こどもスクールのウェブサイトでご確認ください。

