


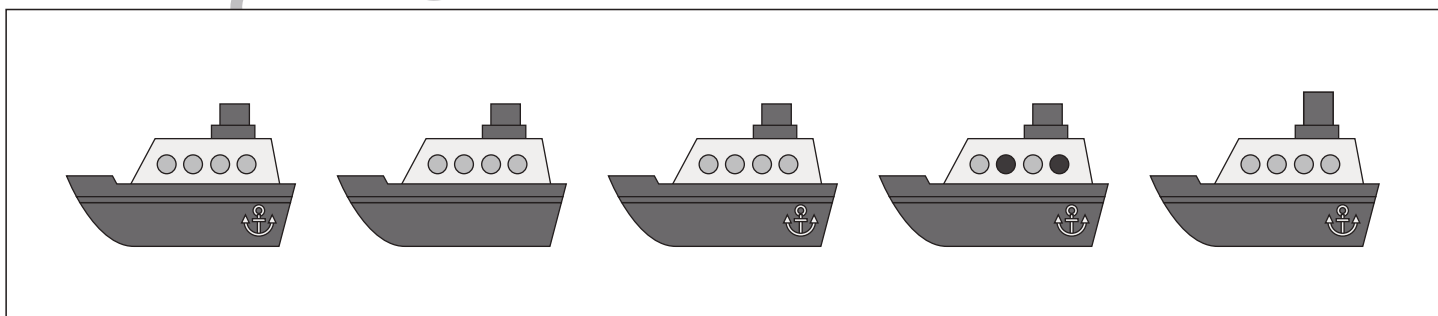


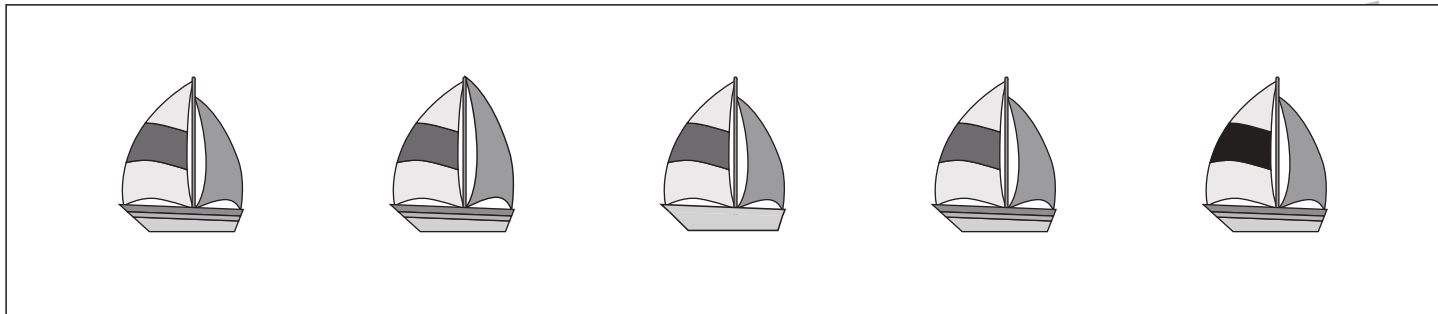


おうちで、やろう。

Study at home. 小学校受験の家庭学習教材

図形：同図形4

四角の中の5つの絵のうち同じ絵を2つ見つけて○をつけます。



※1. このプリントは、しながわ・目黒こどもスクールのウェブサイトでダウンロードができます。無断複写・引用はご遠慮ください。
※2. このプリントを活用したオンライン授業のスケジュールは、しながわ・目黒こどもスクールのウェブサイトでご確認ください。







おうちで、やろう。

Study at home. 小学校受験の家庭学習教材

図形：同図形5

四角の中の5つの絵のうち同じ絵を2つ見つけて○をつけます。



※1. このプリントは、しながわ・目黒こどもスクールのウェブサイトからダウンロードできます。無断複写・引用はご遠慮ください。
※2. このプリントを活用したオンライン授業のスケジュールは、しながわ・目黒こどもスクールのウェブサイトでご確認ください。




おうちで、やろう。

Study at home. 小学校受験の家庭学習教材

図形：同図形6

四角の中の5つの絵のうち同じ絵を2つ見つけて○をつけます。



※1. このプリントは、しながわ・目黒こどもスクールのウェブサイトからダウンロードできます。無断複写・引用はご遠慮ください。
※2. このプリントを活用したオンライン授業のスケジュールは、しながわ・目黒こどもスクールのウェブサイトでご確認ください。







おうちで、やろう。



Study at home. 小学校受験の家庭学習教材

推理：観覧車 1

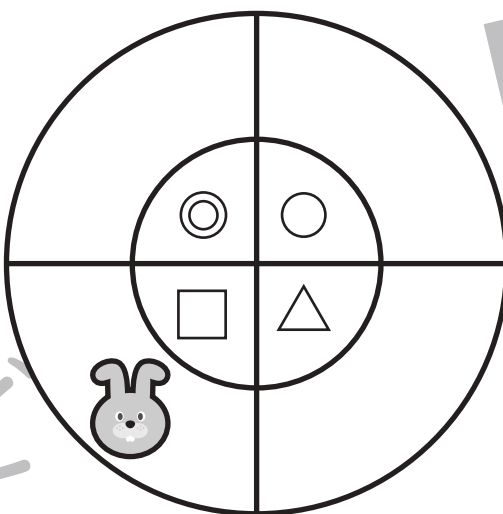

大きな丸の中には動物が、その中の小さな丸の中にはマークが描かれています。1匹の動物が矢印の方向に進んだとき、他の動物はどのマークの場所に止まるかを考えて、右の四角の中にマークをかきましょう。



| | |
|--|--|
| | |
| | |
| | |



| | |
|--|--|
| | |
| | |
| | |



| | |
|--|--|
| | |
| | |
| | |

※1. このプリントは、しながわ・目黒こどもスクールのウェブサイトからダウンロードできます。無断複写・引用はご遠慮ください。
 ※2. このプリントを活用したオンライン授業のスケジュールは、しながわ・目黒こどもスクールのウェブサイトでご確認ください。





おうちで、やろう。



Study at home. 小学校受験の家庭学習教材

推理：観覧車2



大きな丸の中には動物が、その中の小さな丸の中にはマークが描かれています。1匹の動物が矢印の方向に進んだとき、他の動物はどのマークの場所に止まるかを考えて、右の四角の中にマークをかきましょう。



| | |
|--|--|
| | |
| | |
| | |



| | |
|--|--|
| | |
| | |
| | |



| | |
|--|--|
| | |
| | |
| | |

※1. このプリントは、しながわ・目黒こどもスクールのウェブサイトからダウンロードできます。無断複写・引用はご遠慮ください。

※2. このプリントを活用したオンライン授業のスケジュールは、しながわ・目黒こどもスクールのウェブサイトでご確認ください。





おうちで、やろう。



Study at home. 小学校受験の家庭学習教材

推理：観覧車3



大きな丸の中には動物が、その中の小さな丸の中にはマークが描かれています。1匹の動物が矢印の方向に進んだとき、他の動物はどのマークの場所に止まるかを考えて、右の四角の中にマークをかきましょう。



| | |
|--|--|
| | |
| | |
| | |



| | |
|--|--|
| | |
| | |
| | |



| | |
|--|--|
| | |
| | |
| | |

※1. このプリントは、しながわ・目黒こどもスクールのウェブサイトからダウンロードできます。無断複写・引用はご遠慮ください。

※2. このプリントを活用したオンライン授業のスケジュールは、しながわ・目黒こどもスクールのウェブサイトでご確認ください。

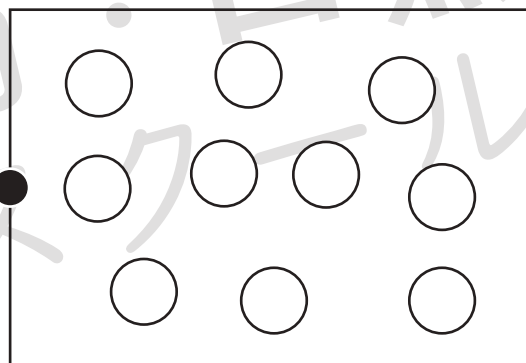
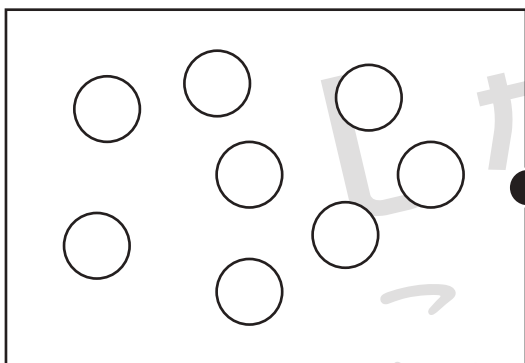
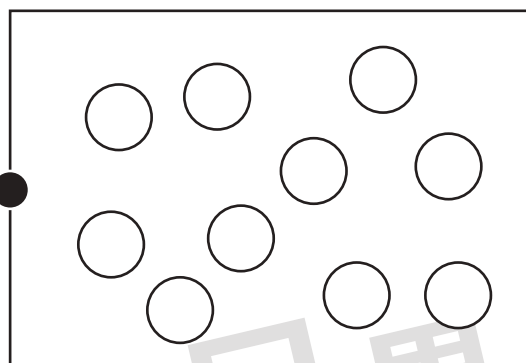
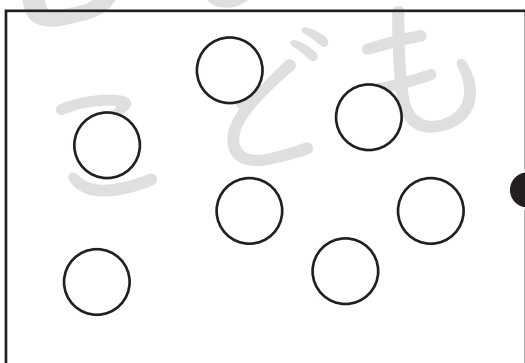
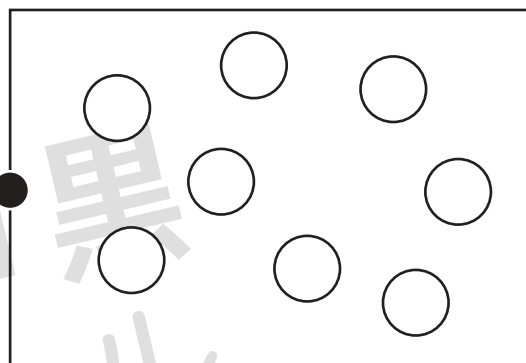
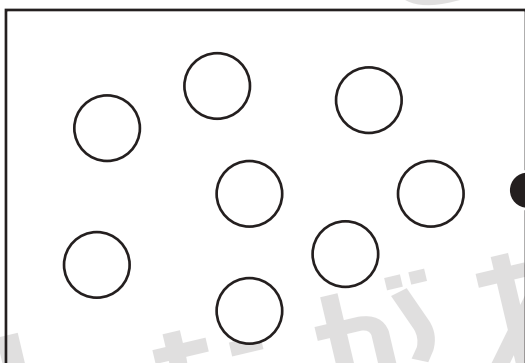
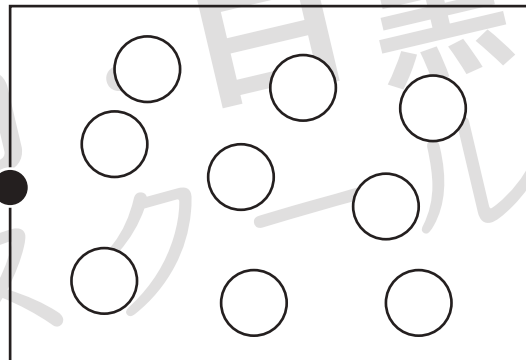
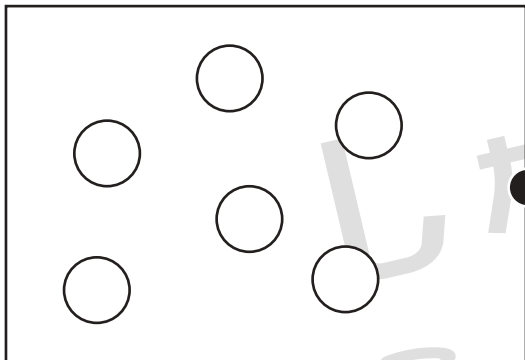


おうちで、やろう。

Study at home. 小学校受験の家庭学習教材

数量：加減 17

左の四角の丸の中にそれぞれ2つ丸を入れるといくつになりますか。右の四角の中から見つけて点と点を線で結びます。



※1. このプリントは、しながわ・目黒こどもスクールのウェブサイトでダウンロードができます。無断複写・引用はご遠慮ください。

※2. このプリントを活用したオンライン授業のスケジュールは、しながわ・目黒こどもスクールのウェブサイトでご確認ください。



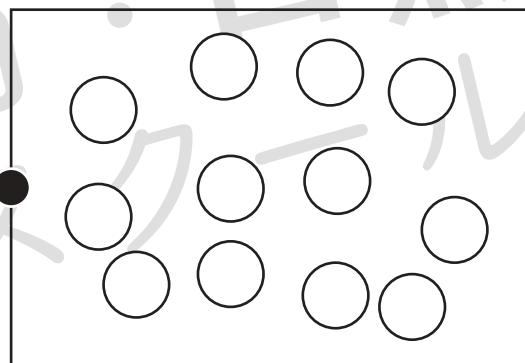
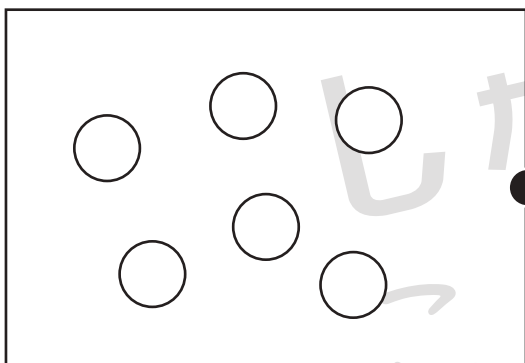
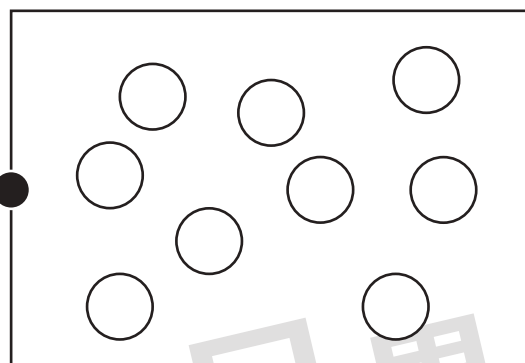
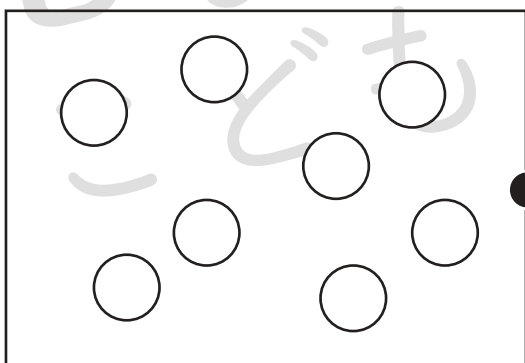
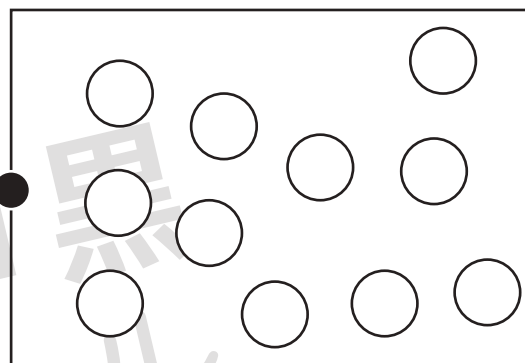
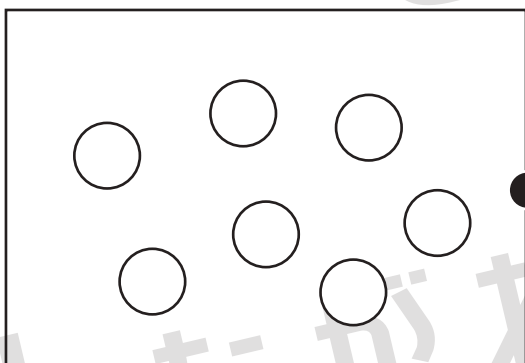
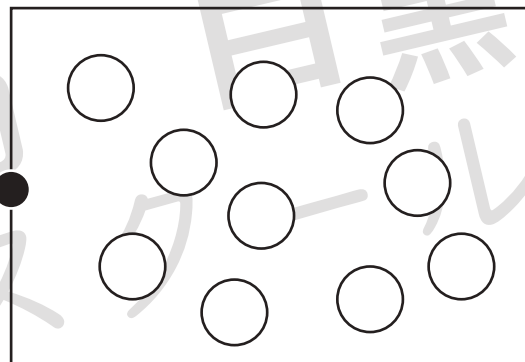
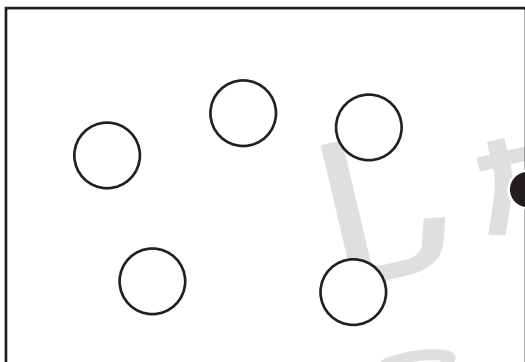


おうちで、やろう。

Study at home. 小学校受験の家庭学習教材

数量：加減 18

左の四角の丸の中にそれぞれ4つ丸を入れるといくつになりますか。右の四角の中から見つけて点と点を線で結びます。



※1. このプリントは、しながわ・目黒こどもスクールのウェブサイトでダウンロードができます。無断複写・引用はご遠慮ください。
※2. このプリントを活用したオンライン授業のスケジュールは、しながわ・目黒こどもスクールのウェブサイトでご確認ください。



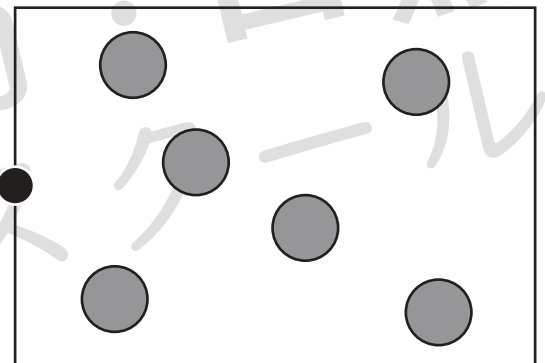
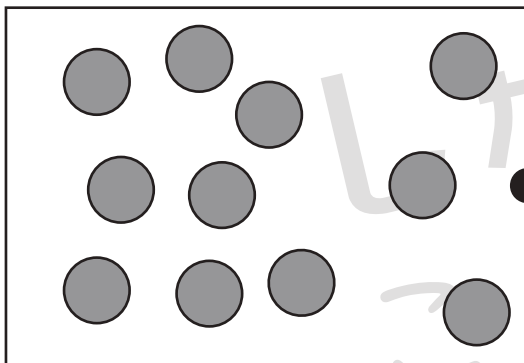
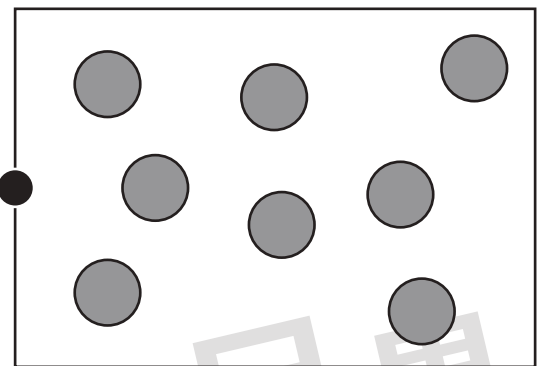
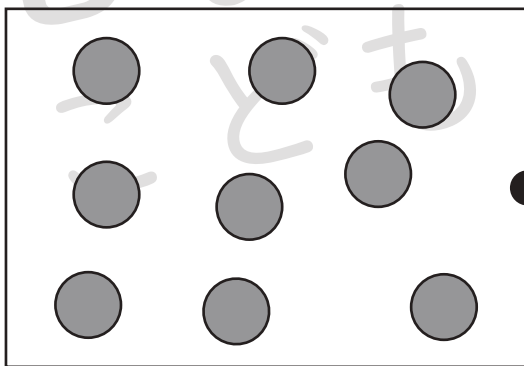
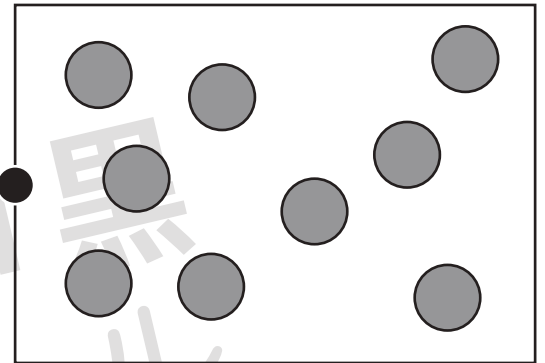
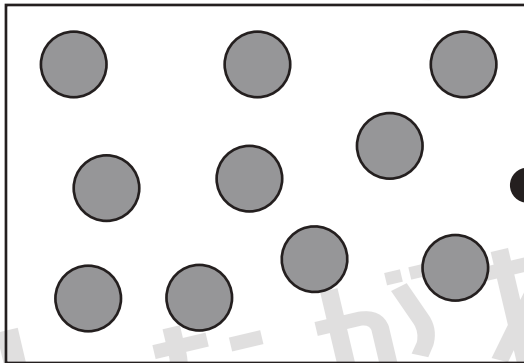
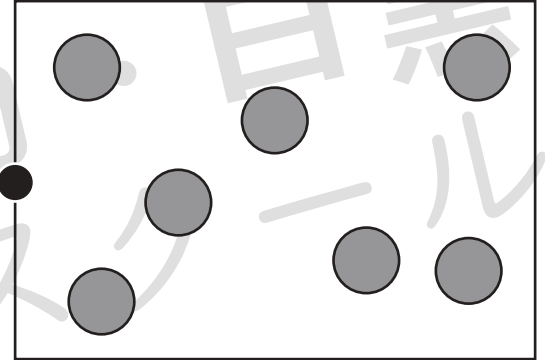
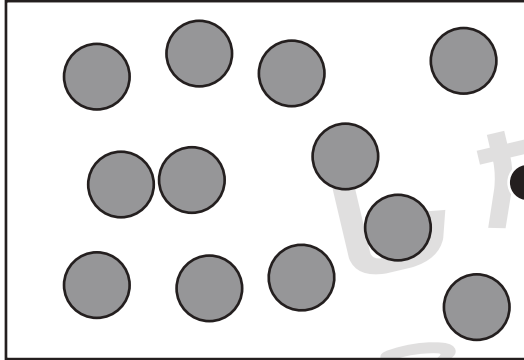


おうちで、やろう。

Study at home. 小学校受験の家庭学習教材

数量：加減 19

左の四角の丸の中にそれぞれ3つ丸をとるといくつになりますか。右の四角の中から見つけて点と点を線で結びます。



※1. このプリントは、しながわ・目黒こどもスクールのウェブサイトでダウンロードができます。無断複写・引用はご遠慮ください。
※2. このプリントを活用したオンライン授業のスケジュールは、しながわ・目黒こどもスクールのウェブサイトでご確認ください。



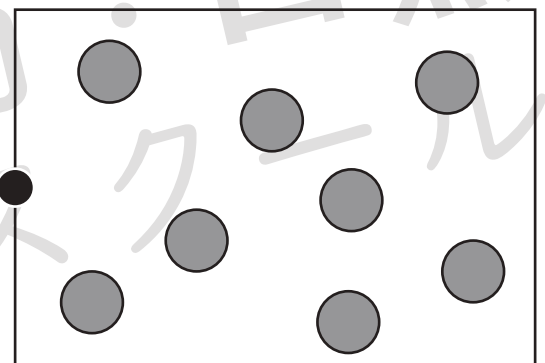
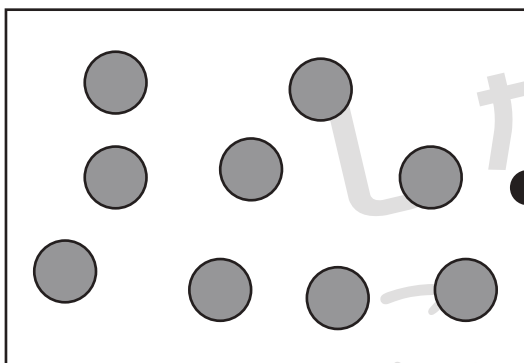
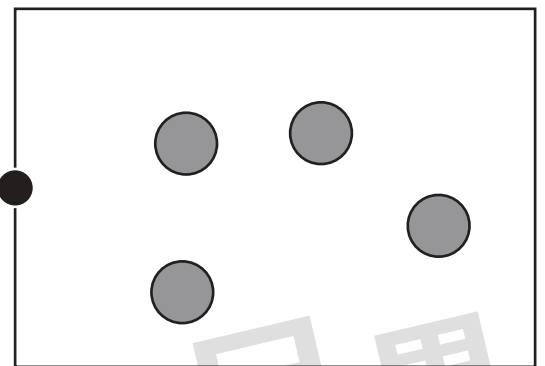
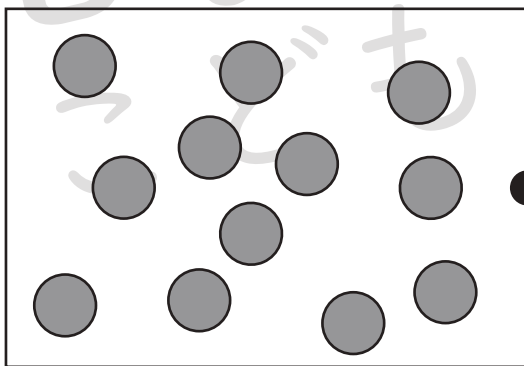
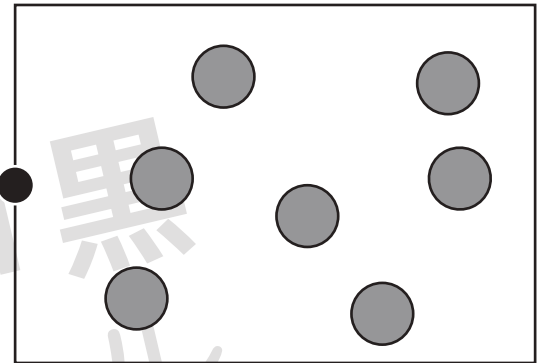
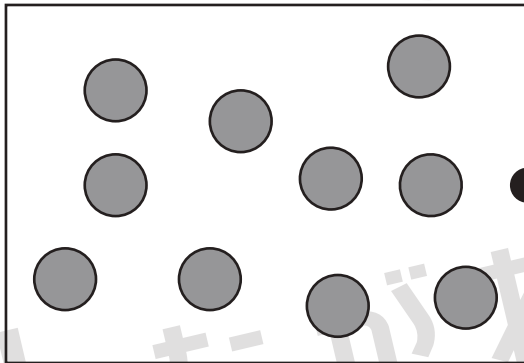
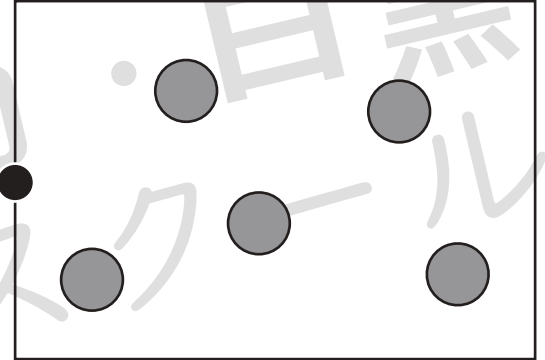
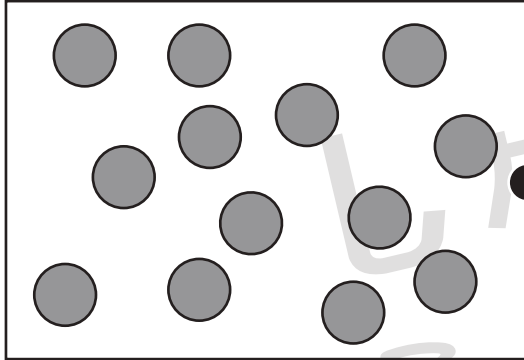


おうちで、やろう。

Study at home. 小学校受験の家庭学習教材

数量：加減 20

左の四角の丸の中にそれぞれ5つ丸をとるといくつになりますか。右の四角の中から見つけて点と点を線で結びます。



※1. このプリントは、しながわ・目黒こどもスクールのウェブサイトでダウンロードができます。無断複写・引用はご遠慮ください。
※2. このプリントを活用したオンライン授業のスケジュールは、しながわ・目黒こどもスクールのウェブサイトでご確認ください。