

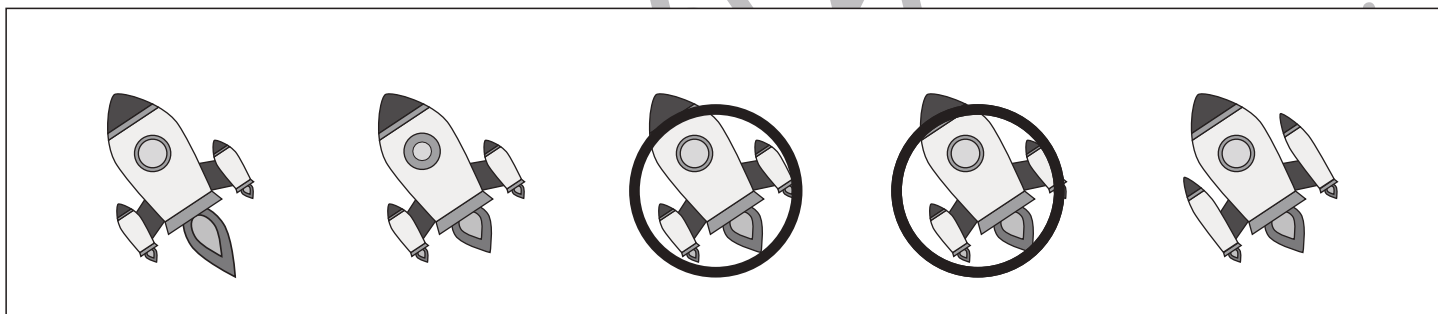
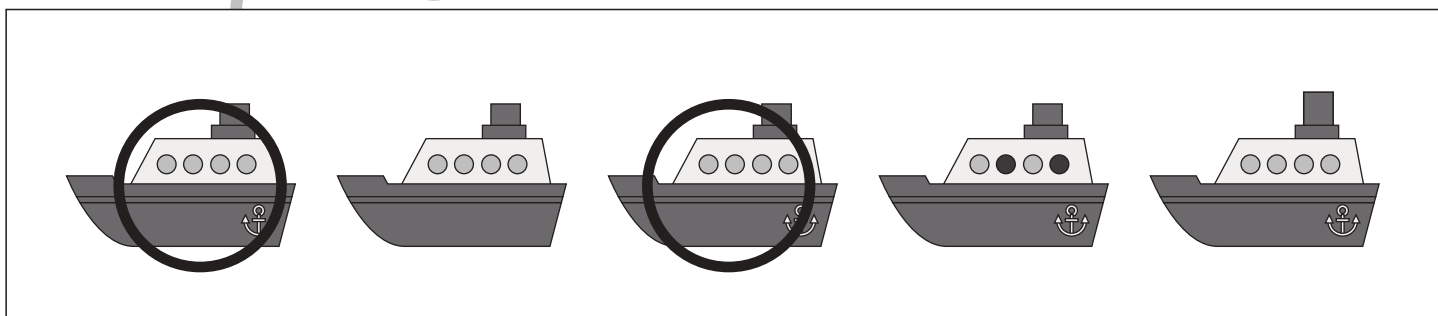

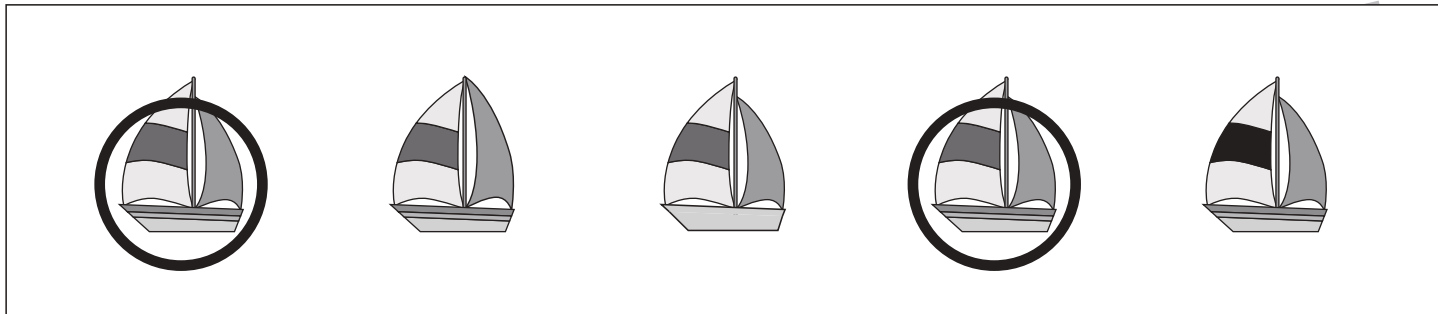


# おうちで、やろう。

Study at home. 小学校受験の家庭学習教材

図形：同図形4

四角の中の5つの絵のうち同じ絵を2つ見つけて○をつけます。



※1. このプリントは、しながわ・目黒こどもスクールのウェブサイトでダウンロードができます。無断複写・引用はご遠慮ください。  
※2. このプリントを活用したオンライン授業のスケジュールは、しながわ・目黒こどもスクールのウェブサイトでご確認ください。






# おうちで、やろう。

Study at home. 小学校受験の家庭学習教材

図形：同図形5

四角の中の5つの絵のうち同じ絵を2つ見つけて○をつけます。



※1. このプリントは、しながわ・目黒こどもスクールのウェブサイトからダウンロードできます。無断複写・引用はご遠慮ください。  
※2. このプリントを活用したオンライン授業のスケジュールは、しながわ・目黒こどもスクールのウェブサイトでご確認ください。






# おうちで、やろう。

Study at home. 小学校受験の家庭学習教材

図形：同図形6

四角の中の5つの絵のうち同じ絵を2つ見つけて○をつけます。



※1. このプリントは、しながわ・目黒こどもスクールのウェブサイトからダウンロードできます。無断複写・引用はご遠慮ください。  
※2. このプリントを活用したオンライン授業のスケジュールは、しながわ・目黒こどもスクールのウェブサイトでご確認ください。









# おうちで、やろう。

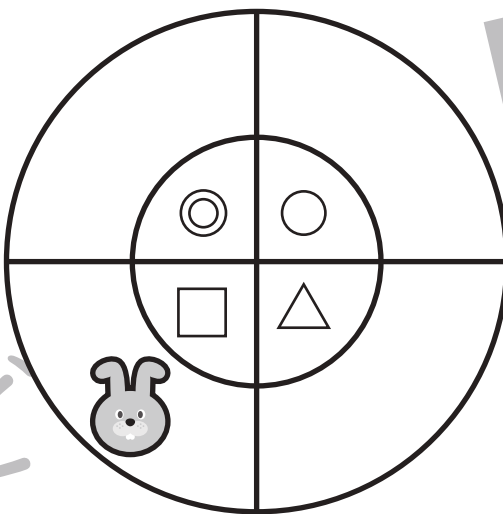

Study at home. 小学校受験の家庭学習教材

## 推理：観覧車 1

大きな丸の中には動物が、その中の小さな丸の中にはマークが描かれています。1匹の動物が矢印の方向に進んだとき、他の動物はどのマークの場所に止まるかを考えて、右の四角の中にマークをかきましょう。




※1. このプリントは、しながわ・目黒こどもスクールのウェブサイトからダウンロードできます。無断複写・引用はご遠慮ください。

※2. このプリントを活用したオンライン授業のスケジュールは、しながわ・目黒こどもスクールのウェブサイトでご確認ください。







# おうちで、やろう。

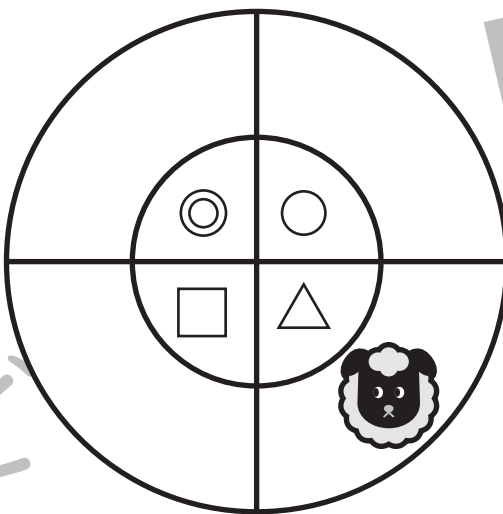

Study at home. 小学校受験の家庭学習教材

## 推理：観覧車2

大きな丸の中には動物が、その中の小さな丸の中にはマークが描かれています。1匹の動物が矢印の方向に進んだとき、他の動物はどのマークの場所に止まるかを考えて、右の四角の中にマークをかきましょう。




※1. このプリントは、しながわ・目黒こどもスクールのウェブサイトからダウンロードできます。無断複写・引用はご遠慮ください。

※2. このプリントを活用したオンライン授業のスケジュールは、しながわ・目黒こどもスクールのウェブサイトでご確認ください。







# おうちで、やろう。



Study at home. 小学校受験の家庭学習教材

推理：観覧車3

大きな丸の中には動物が、その中の小さな丸の中にはマークが描かれています。1匹の動物が矢印の方向に進んだとき、他の動物はどのマークの場所に止まるかを考えて、右の四角の中にマークをかきましょう。




※1. このプリントは、しながわ・目黒こどもスクールのウェブサイトからダウンロードできます。無断複写・引用はご遠慮ください。

※2. このプリントを活用したオンライン授業のスケジュールは、しながわ・目黒こどもスクールのウェブサイトでご確認ください。





# おうちで、やろう。

Study at home. 小学校受験の家庭学習教材

数量：加減 17

左の四角の丸の中にそれぞれ2つ丸を入れるといくつになりますか。右の四角の中から見つけて点と点を線で結びます。

The image shows a matching exercise. On the left, there are four rectangular boxes, each containing a different number of circles. On the right, there are four rectangular boxes, each containing a different number of circles. Four black lines connect dots on the right boxes to dots on the left boxes. The connections are as follows: the top-right box (3 circles) connects to the top-left box (3 circles); the second box from the top-right (5 circles) connects to the second box from the top-left (5 circles); the third box from the top-right (6 circles) connects to the third box from the top-left (6 circles); and the bottom-right box (8 circles) connects to the bottom-left box (8 circles).

※1. このプリントは、しながわ・目黒こどもスクールのウェブサイトでダウンロードができます。無断複写・引用はご遠慮ください。  
※2. このプリントを活用したオンライン授業のスケジュールは、しながわ・目黒こどもスクールのウェブサイトでご確認ください。





# おうちで、よろう。

Study at home. 小学校受験の家庭学習教材

数量：加減 18

左の四角の丸の中にそれぞれ4つ丸を入れるといくつになりますか。右の四角の中から見つけて点と点を線で結びます。

The image shows a matching exercise. On the left, there are four boxes, each containing a different number of circles: 4, 5, 6, and 7. On the right, there are four boxes, each containing a different number of circles: 8, 9, 10, and 11. Lines connect the boxes to their corresponding counts: the box with 4 circles is connected to the box with 8 circles, the box with 5 circles is connected to the box with 9 circles, the box with 6 circles is connected to the box with 10 circles, and the box with 7 circles is connected to the box with 11 circles.

※1. このプリントは、しながわ・目黒こどもスクールのウェブサイトでダウンロードができます。無断複写・引用はご遠慮ください。  
 ※2. このプリントを活用したオンライン授業のスケジュールは、しながわ・目黒こどもスクールのウェブサイトでご確認ください。





# おうちで、やろう。

Study at home. 小学校受験の家庭学習教材

数量：加減 19

左の四角の丸の中にそれぞれ3つ丸をとるといくつになりますか。右の四角の中から見つけて点と点を線で結びます。

The image shows a 4x2 grid of boxes. Each box contains 10 circles. The left column has 10 boxes with 10 circles each. The right column has 10 boxes with 10 circles each. Four black dots are placed at the center of the second, third, fourth, and fifth rows. Lines connect these dots in a crisscross pattern: the top dot connects to the bottom-right dot, the second dot connects to the bottom-left dot, the third dot connects to the top-right dot, and the fourth dot connects to the top-left dot.

※1. このプリントは、しながわ・目黒こどもスクールのウェブサイトでダウンロードができます。無断複写・引用はご遠慮ください。

※2. このプリントを活用したオンライン授業のスケジュールは、しながわ・目黒こどもスクールのウェブサイトでご確認ください。



# おうちで、やろう。

Study at home. 小学校受験の家庭学習教材

数量：加減 20

左の四角の丸の中にそれぞれ5つ丸をとるといくつになりますか。右の四角の中から見つけて点と点を線で結びます。

The image shows a matching exercise. On the left, there are four boxes, each containing 5 dots. On the right, there are four boxes containing 5, 6, 7, and 8 dots respectively. Lines connect the boxes to their corresponding dot counts: the top-left box connects to the 5-dot box on the right, the second box from the top-left connects to the 6-dot box, the third box connects to the 7-dot box, and the bottom-most box connects to the 8-dot box.

※1. このプリントは、しながわ・目黒こどもスクールのウェブサイトでダウンロードができます。無断複写・引用はご遠慮ください。

※2. このプリントを活用したオンライン授業のスケジュールは、しながわ・目黒こどもスクールのウェブサイトでご確認ください。