



# おうちで、やろう。

Study at home. 小学校受験の家庭学習教材

## 指示の聞き取り 11

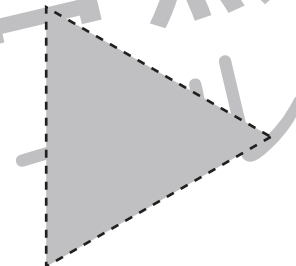

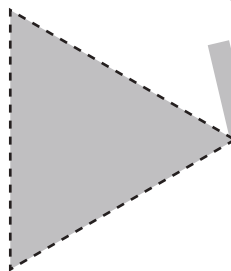

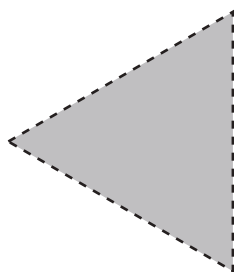

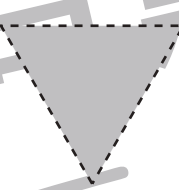
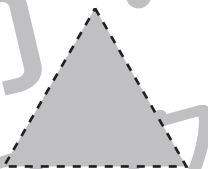



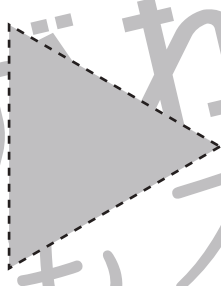

下の四角の中には丸、三角、四角の形があります。①～③の指示通りにすばやくきれいになぞります。

①四角をすべて黒のクーピーでなぞります。

②好きな左向き三角を緑のクーピーでなぞります。

③丸は小さい順に3つだけ青のクーピーでなぞります。一番大きい丸は茶色のクーピーでなぞります。

※このプリントに解答はありません。



※1. このプリントは、しながわ・目黒こどもスクールのウェブサイトでダウンロードができます。無断複写・引用はご遠慮ください。

※2. このプリントを活用したオンライン授業のスケジュールは、しながわ・目黒こどもスクールのウェブサイトでご確認ください。



# おうちで、やろう。

Study at home. 小学校受験の家庭学習教材

## 図形：移動 25

左の四角がお手本です。このお手本の○を左に1マス、△を上へ1マス動かします。  
動かした後の場所を考えて、右の四角の中にそれぞれの記号をかきます。


※1. このプリントは、しながわ・目黒こどもスクールのウェブサイトでダウンロードができます。無断複写・引用はご遠慮ください。  
※2. このプリントを活用したオンライン授業のスケジュールは、しながわ・目黒こどもスクールのウェブサイトでご確認ください。



# おうちで、やろう。

Study at home. 小学校受験の家庭学習教材

## 図形：移動 26

左の四角がお手本です。このお手本の○を右に1マス、△を下へ1マス動かします。  
動かした後の場所を考えて、右の四角の中にそれぞれの記号をかきます。

<table border="1"><tr><td></td><td>○</td><td></td></tr><tr><td>△</td><td>○</td><td>△</td></tr><tr><td></td><td></td><td></td></tr></table>		○		△	○	△				<table border="1"><tr><td></td><td></td><td></td></tr><tr><td></td><td></td><td></td></tr><tr><td></td><td></td><td></td></tr></table>										<table border="1"><tr><td>△</td><td>○</td><td></td></tr><tr><td></td><td>○</td><td>△</td></tr><tr><td></td><td></td><td></td></tr></table>	△	○			○	△				<table border="1"><tr><td></td><td></td><td></td></tr><tr><td></td><td></td><td></td></tr><tr><td></td><td></td><td></td></tr></table>									
	○																																						
△	○	△																																					
△	○																																						
	○	△																																					
<table border="1"><tr><td>△</td><td></td><td></td></tr><tr><td>○</td><td>○</td><td>△</td></tr><tr><td></td><td></td><td></td></tr></table>	△			○	○	△				<table border="1"><tr><td></td><td></td><td></td></tr><tr><td></td><td></td><td></td></tr><tr><td></td><td></td><td></td></tr></table>										<table border="1"><tr><td></td><td>△</td><td></td></tr><tr><td>△</td><td>○</td><td></td></tr><tr><td>○</td><td></td><td></td></tr></table>		△		△	○		○			<table border="1"><tr><td></td><td></td><td></td></tr><tr><td></td><td></td><td></td></tr><tr><td></td><td></td><td></td></tr></table>									
△																																							
○	○	△																																					
	△																																						
△	○																																						
○																																							
<table border="1"><tr><td></td><td>○</td><td></td></tr><tr><td>○</td><td>△</td><td>△</td></tr><tr><td></td><td></td><td></td></tr></table>		○		○	△	△				<table border="1"><tr><td></td><td></td><td></td></tr><tr><td></td><td></td><td></td></tr><tr><td></td><td></td><td></td></tr></table>										<table border="1"><tr><td>○</td><td>○</td><td>△</td></tr><tr><td></td><td>△</td><td></td></tr><tr><td></td><td></td><td></td></tr></table>	○	○	△		△					<table border="1"><tr><td></td><td></td><td></td></tr><tr><td></td><td></td><td></td></tr><tr><td></td><td></td><td></td></tr></table>									
	○																																						
○	△	△																																					
○	○	△																																					
	△																																						
<table border="1"><tr><td></td><td></td><td></td></tr><tr><td>△</td><td>○</td><td>△</td></tr><tr><td>○</td><td></td><td></td></tr></table>				△	○	△	○			<table border="1"><tr><td></td><td></td><td></td></tr><tr><td></td><td></td><td></td></tr><tr><td></td><td></td><td></td></tr></table>										<table border="1"><tr><td>○</td><td>△</td><td></td></tr><tr><td></td><td>○</td><td>△</td></tr><tr><td></td><td></td><td></td></tr></table>	○	△			○	△				<table border="1"><tr><td></td><td></td><td></td></tr><tr><td></td><td></td><td></td></tr><tr><td></td><td></td><td></td></tr></table>									
△	○	△																																					
○																																							
○	△																																						
	○	△																																					
<table border="1"><tr><td>△</td><td></td><td></td></tr><tr><td></td><td>○</td><td>△</td></tr><tr><td>○</td><td></td><td></td></tr></table>	△				○	△	○			<table border="1"><tr><td></td><td></td><td></td></tr><tr><td></td><td></td><td></td></tr><tr><td></td><td></td><td></td></tr></table>										<table border="1"><tr><td></td><td></td><td>△</td></tr><tr><td>○</td><td>△</td><td></td></tr><tr><td></td><td>○</td><td></td></tr></table>			△	○	△			○		<table border="1"><tr><td></td><td></td><td></td></tr><tr><td></td><td></td><td></td></tr><tr><td></td><td></td><td></td></tr></table>									
△																																							
	○	△																																					
○																																							
		△																																					
○	△																																						
	○																																						

※1. このプリントは、しながわ・目黒こどもスクールのウェブサイトでダウンロードができます。無断複写・引用はご遠慮ください。  
※2. このプリントを活用したオンライン授業のスケジュールは、しながわ・目黒こどもスクールのウェブサイトでご確認ください。



# おうちで、やろう。

Study at home. 小学校受験の家庭学習教材

## 推理：条件推理 2

左の太い四角の中がお手本です。このお手本はコップの中に水が入っていて、上から丸いボールを入れて落ちていく途中の様子です。このままボールがまっすぐ落ちたときどうなりますか。正しいものを右の4つの中から選んで○をつけます。


※1. このプリントは、しながわ・目黒こどもスクールのウェブサイトからダウンロードできます。無断複写・引用はご遠慮ください。

※2. このプリントを活用したオンライン授業のスケジュールは、しながわ・目黒こどもスクールのウェブサイトでご確認ください。



# おうちで、やろう。

Study at home. 小学校受験の家庭学習教材

## 推理：条件推理3

左の太い四角の中がお手本です。このお手本はコップの中に水が入っていて、上から丸いボールを入れて落ちていく途中の様子です。このままボールがまっすぐ落ちたときどうなりますか。正しいものを右の4つの中から選んで○をつけます。


※1. このプリントは、しながわ・目黒こどもスクールのウェブサイトでダウンロードができます。無断複写・引用はご遠慮ください。

※2. このプリントを活用したオンライン授業のスケジュールは、しながわ・目黒こどもスクールのウェブサイトでご確認ください。



# おうちで、やろう。

Study at home. 小学校受験の家庭学習教材

## 推理：条件推理4

左の太い四角の中がお手本です。このお手本はコップの中に水が入っていて、上から丸いボールを入れて落ちていく途中の様子です。このままボールがまっすぐ落ちたときどうなりますか。正しいものを右の4つの中から選んで○をつけます。


※1. このプリントは、しながわ・目黒こどもスクールのウェブサイトからダウンロードできます。無断複写・引用はご遠慮ください。

※2. このプリントを活用したオンライン授業のスケジュールは、しながわ・目黒こどもスクールのウェブサイトでご確認ください。



# おうちで、やろう。

Study at home. 小学校受験の家庭学習教材

数量：数列1

下の野菜は決まったルールで並んでいます。どんな約束なのかを考えて、空いている四角に入る数だけ○をかきます。


※1. このプリントは、しながわ・目黒こどもスクールのウェブサイトでダウンロードができます。無断複写・引用はご遠慮ください。

※2. このプリントを活用したオンライン授業のスケジュールは、しながわ・目黒こどもスクールのウェブサイトでご確認ください。



# おうちで、やろう。

Study at home. 小学校受験の家庭学習教材

## 数量：数列2

下の野菜は決まったルールで並んでいます。どんな約束なのかを考えて、空いている四角に入る数だけ○をかきます。


※1. このプリントは、しながわ・目黒こどもスクールのウェブサイトからダウンロードできます。無断複写・引用はご遠慮ください。

※2. このプリントを活用したオンライン授業のスケジュールは、しながわ・目黒こどもスクールのウェブサイトでご確認ください。





# おうちで、やろう。

Study at home. 小学校受験の家庭学習教材

数量：数列3

下の果物は決まったルールで並んでいます。どんな約束なのかを考えて、空いている四角に入る数だけ〇をかきます。


※1. このプリントは、しながわ・目黒こどもスクールのウェブサイトでダウンロードができます。無断複写・引用はご遠慮ください。

※2. このプリントを活用したオンライン授業のスケジュールは、しながわ・目黒こどもスクールのウェブサイトでご確認ください。











# おうちで、やろう。

Study at home. 小学校受験の家庭学習教材

処理：加減1

左の四角の中の星の数より2つ多い数だけ右の四角に○をかきます。  
この問題はスピードを意識して取り組む練習をしてみましょう。(1分～1分30秒)



※1. このプリントは、しながわ・目黒こどもスクールのウェブサイトでダウンロードができます。無断複写・引用はご遠慮ください。  
※2. このプリントを活用したオンライン授業のスケジュールは、しながわ・目黒こどもスクールのウェブサイトでご確認ください。