



おうちで、やろう。

Study at home. 小学校受験の家庭学習教材

指示の聞き取り 12

それぞれの設問に答えましょう。指示は1度ですべて読み上げます。しっかり聞いて取り組みましょう。

- ①鉛筆で左から右へ向かって○、×、△の順番で3回かきます。枠の中に入るように大きさにも注意しましょう。
- ②鉛筆で左から右へ向かって○、×、×の順番で3回かきます。枠の中に入るように大きさにも注意しましょう。
- ③鉛筆で左から右へ向かって○、△、○の順番で3回かきます。枠の中に入るように大きさにも注意しましょう。
- ④鉛筆で左から右へ向かって×、○、×、◎の順番で3回かきます。枠の中に入るように大きさにも注意しましょう。

①



②



③



④



※1. このプリントは、しながわ・目黒こどもスクールのウェブサイトでダウンロードができます。無断複写・引用はご遠慮ください。
 ※2. このプリントを活用したオンライン授業のスケジュールは、しながわ・目黒こどもスクールのウェブサイトでご確認ください。



おうちで、やろう。

Study at home. 小学校受験の家庭学習教材

図形：鏡 20

左のお手本の紙の太い線の上に鏡を立てて置きました。このとき女の子が見ている様子を右の中から選んで○をつけます。

※1. このプリントは、しながわ・目黒こどもスクールのウェブサイトでダウンロードができます。無断複写・引用はご遠慮ください。

※2. このプリントを活用したオンライン授業のスケジュールは、しながわ・目黒こどもスクールのウェブサイトでご確認ください。



おうちで、やろう。

Study at home. 小学校受験の家庭学習教材

左のお手本の紙の太い線の上に鏡を立てて置きました。このとき女の子が見ている様子を右の中から選んで○をつけます。

※1. このプリントは、しながわ・目黒こどもスクールのウェブサイトでダウンロードができます。無断複写・引用はご遠慮ください。

※2. このプリントを活用したオンライン授業のスケジュールは、しながわ・目黒こどもスクールのウェブサイトでご確認ください。





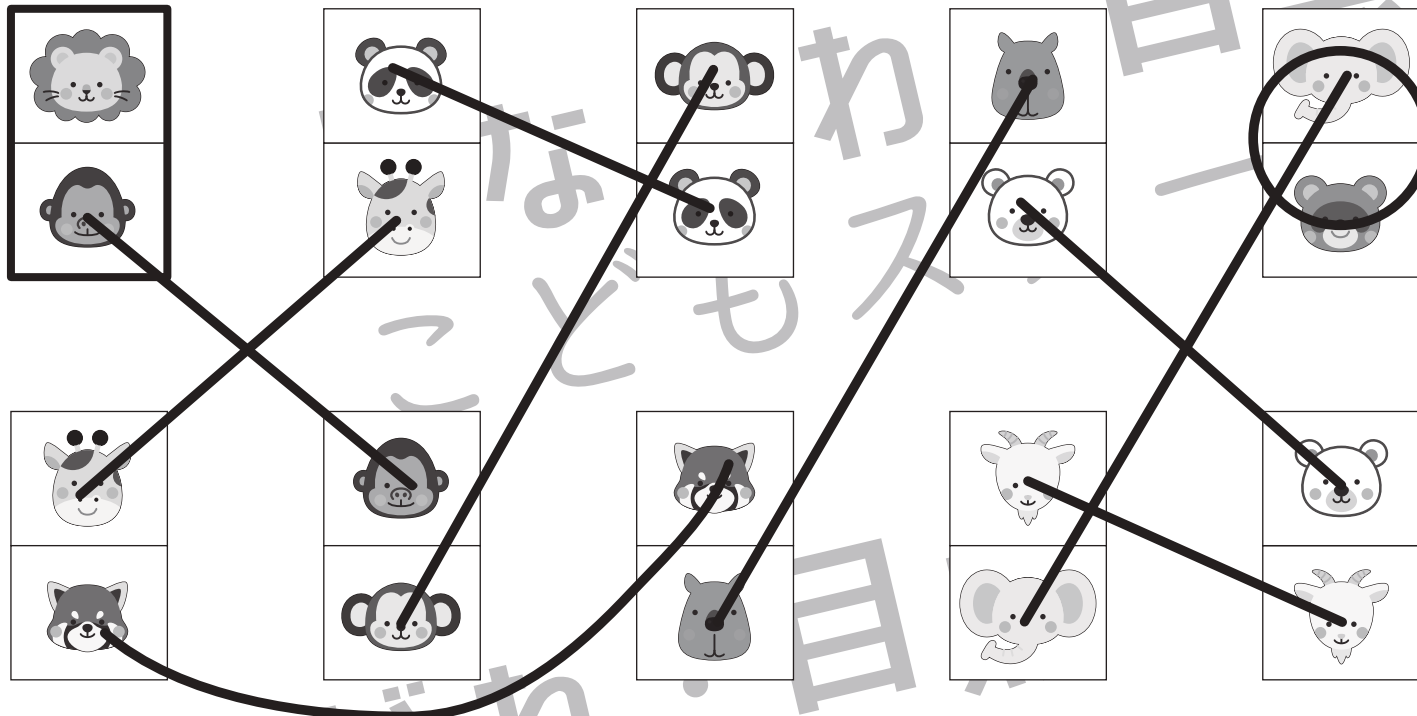
おうちで、やろう。

Study at home. 小学校受験の家庭学習教材

推理：条件推理5

これは動物探し迷路です。太い四角がスタートです。四角の中には2種類の動物がいます。次のマスに進むにはそれぞれの四角の下にいる動物を考えます。進めるのは同じ動物がいる四角です。この約束で進んでいって最後の四角に○をつけます。

※上段の問題は線が引いていますが、解答に線は必要ありません。



※1. このプリントは、しながわ・目黒こどもスクールのウェブサイトでダウンロードができます。無断複写・引用はご遠慮ください。
 ※2. このプリントを活用したオンライン授業のスケジュールは、しながわ・目黒こどもスクールのウェブサイトでご確認ください。




おうちで、やろう。

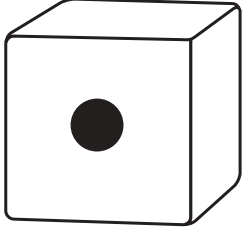
Study at home. 小学校受験の家庭学習教材

数量：サイコロ 10


サイコロは表の目と裏の目の数を合わせると7になります。それぞれの四角の中のサイコロの目が表のとき、裏の目を考えてその数だけ下の四角に○をかきます。




○ × 1




○ × 6




○ × 4



○ × 2



○ × 3



○ × 5





おうちで、やろう。

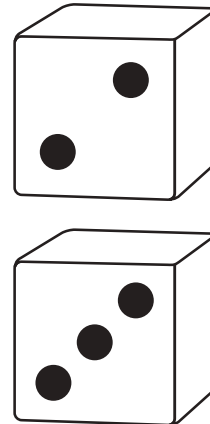
Study at home. 小学校受験の家庭学習教材


数量：サイコロ 11


サイコロは表の目と裏の目の数を合わせると7になります。それぞれの四角の中の2つのサイコロの目が表のとき、裏の目を合わせるといくつになりますか。その数だけ下の四角に○をかきます。

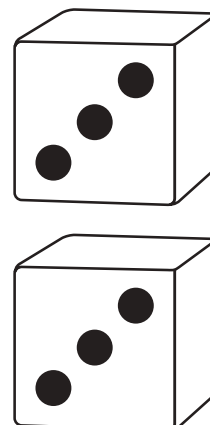

$\bigcirc \times 4$


$\bigcirc \times 4$


$\bigcirc \times 9$


$\bigcirc \times 8$


$\bigcirc \times 8$


$\bigcirc \times 8$

※1. このプリントは、しながわ・目黒こどもスクールのウェブサイトでダウンロードができます。無断複写・引用はご遠慮ください。
※2. このプリントを活用したオンライン授業のスケジュールは、しながわ・目黒こどもスクールのウェブサイトでご確認ください。





おうちで、やろう。

Study at home. 小学校受験の家庭学習教材

数量：サイコロ 12

サイコロは表の目と裏の目の数を合わせると7になります。それぞれの四角の中の2つのサイコロの目が表のとき、裏の目を合わせるといくつになりますか。その数だけ下の四角に○をかきます。

$\bigcirc \times 7$

$\bigcirc \times 4$

$\bigcirc \times 7$

$\bigcirc \times 5$

$\bigcirc \times 12$

$\bigcirc \times 11$

※1. このプリントは、しながわ・目黒こどもスクールのウェブサイトでダウンロードができます。無断複写・引用はご遠慮ください。
※2. このプリントを活用したオンライン授業のスケジュールは、しながわ・目黒こどもスクールのウェブサイトでご確認ください。










おうちで、やろう。

Study at home. 小学校受験の家庭学習教材

処理：加減2

左の四角の中の星の数より2つ少ない数だけ右の四角に○をかきます。
この問題はスピードを意識して取り組む練習をしてみましょう。(1分～1分30秒)



※1. このプリントは、しながわ・目黒こどもスクールのウェブサイトでダウンロードができます。無断複写・引用はご遠慮ください。
※2. このプリントを活用したオンライン授業のスケジュールは、しながわ・目黒こどもスクールのウェブサイトでご確認ください。