



# おうちで、やろう。

Study at home. 小学校受験の家庭学習教材

## 図形：移動 27

丸で囲んである点から上の四角の矢印を左から順番に進むと○の場所につきます。このとき、残りの空いている2つの四角にどの向きの矢印があればよいですか。進む方向の矢印をかきます。矢印は左(←)、右(→)、下(↓)、上(↑)の4つをかきます。

※解答は一例です。他の進み方でも○につく場合は正解となります。

→	↓	↓	→	↓	←
●	●	●	●	●	●
●	○	●	●	●	●
●	●	●	●	●	●
●	●	●	●	●	●
●	●	○	●	●	●

↑	↑	↑	→	→	↓
●	●	●	●	●	●
●	●	○	●	●	●
●	●	●	●	●	●
○	●	●	●	●	●
●	●	●	●	●	●

←	←	↓	↓	←	↑
●	●	●	●	●	●
●	●	●	●	○	●
○	●	●	●	●	●
●	●	●	●	●	●
●	●	●	●	●	●

↑	←	↓	↓	→	↓
●	●	●	●	●	●
●	●	●	●	●	●
●	●	○	●	●	●
●	●	●	●	●	●
●	●	●	○	●	●

※1. このプリントは、しながわ・目黒こどもスクールのウェブサイトでダウンロードができます。無断複写・引用はご遠慮ください。

※2. このプリントを活用したオンライン授業のスケジュールは、しながわ・目黒こどもスクールのウェブサイトでご確認ください。



# おうちで、やろう。

Study at home. 小学校受験の家庭学習教材

## 図形：移動 28

丸で囲んである点から上の四角の矢印を左から順番に進むと○の場所につきます。このとき、残りの空いている2つの四角にどの向きの矢印があればよいですか。進む方向の矢印をかきます。矢印は左(←)、右(→)、下(↓)、上(↑)の4つをかきます。

※解答は一例です。他の進み方でも○につく場合は正解となります。

↑	→	↓	←	←	→
●	●	●	●	●	●
●	●	●	●	●	●
●	●	○	●	●	●
●	○	●	●	●	●
●	●	●	●	●	●

↑	←	↑	→	→	↑
●	●	●	●	●	○
●	●	●	●	●	●
●	●	●	●	●	●
●	●	●	○	●	●
●	●	●	●	●	●

←	←	↓	←	↑	→
●	●	●	●	●	●
●	●	●	●	●	●
●	●	○	●	○	●
●	●	●	●	●	●
●	●	●	●	●	●

↑	→	↑	→	→	↓
●	●	●	●	●	●
●	●	●	●	●	●
●	●	●	●	●	○
●	○	●	●	●	●
●	●	●	●	●	●

※1. このプリントは、しながわ・目黒こどもスクールのウェブサイトでダウンロードができます。無断複写・引用はご遠慮ください。

※2. このプリントを活用したオンライン授業のスケジュールは、しながわ・目黒こどもスクールのウェブサイトでご確認ください。



# おうちで、やろう。

Study at home. 小学校受験の家庭学習教材

## 図形：移動 29

丸で囲んである点から上の四角の矢印を左から順番に進むと○の場所につきます。このとき、残りの空いている2つの四角にどの向きの矢印があればよいですか。進む方向の矢印をかきます。矢印は左(←)、右(→)、下(↓)、上(↑)、斜め(↘、↙、↗、↖)の8つをかきます。※解答は一例です。他の進み方でも○につく場合は正解となります。

→	↙	→	↗	↑	↗
---	---	---	---	---	---

↖	→	↑	↖	↗	→
---	---	---	---	---	---

↑	↗	↑	↘	↘	←
---	---	---	---	---	---

↓	↘	↙	↖	→	↑
---	---	---	---	---	---

※1. このプリントは、しながわ・目黒こどもスクールのウェブサイトでダウンロードができます。無断複写・引用はご遠慮ください。  
※2. このプリントを活用したオンライン授業のスケジュールは、しながわ・目黒こどもスクールのウェブサイトでご確認ください。



# おうちで、やろう。

Study at home. 小学校受験の家庭学習教材

## 図形：移動 30

丸で囲んである点から上の四角の矢印を左から順番に進むと○の場所につきます。このとき、残りの空いている2つの四角にどの向きの矢印があればよいですか。進む方向の矢印をかきます。矢印は左(←)、右(→)、下(↓)、上(↑)、斜め(↘、↗、↙、↖)の8つをかきます。※解答は一例です。他の進み方でも○につく場合は正解となります。

↙	↙	→	↗	↘	↑
---	---	---	---	---	---

↘	→	↗	↖	←	↓
---	---	---	---	---	---

↑	↖	↖	↓	↙	↙
---	---	---	---	---	---

↖	↗	↘	↘	↙	↙
---	---	---	---	---	---

※1. このプリントは、しながわ・目黒こどもスクールのウェブサイトでダウンロードができます。無断複写・引用はご遠慮ください。  
※2. このプリントを活用したオンライン授業のスケジュールは、しながわ・目黒こどもスクールのウェブサイトでご確認ください。

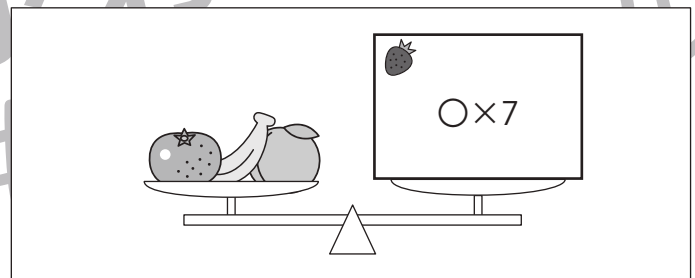

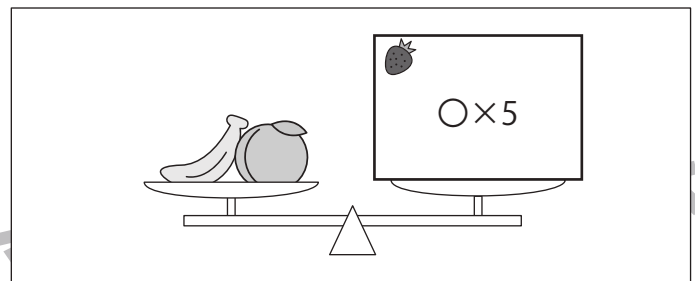



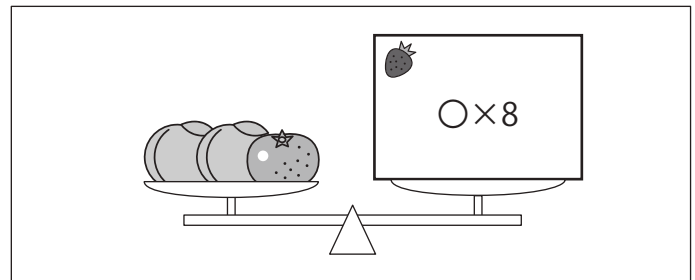





# おうちで、やろう。

Study at home. 小学校受験の家庭学習教材

## 推理：重さの置き換え 6

天秤に果物をのせて重さ比べをしました。上の太い四角の中が約束です。この約束のとき、それぞれの天秤の右側にいちごをいくつのおせばつり合いますか。のせる果物の数だけ四角の中に○をかきます。



※1. このプリントは、しながわ・目黒こどもスクールのウェブサイトでダウンロードができます。無断複写・引用はご遠慮ください。

※2. このプリントを活用したオンライン授業のスケジュールは、しながわ・目黒こどもスクールのウェブサイトでご確認ください。



# おうちで、やろう。

Study at home. 小学校受験の家庭学習教材

## 推理：重さの置き換え7

天秤に果物をのせて重さ比べをしました。上の太い四角の中が約束です。この約束のとき、それぞれの天秤の右側にあるくだものをいくつのせればつり合いますか。のせる果物の数だけ四角の中に○をかきます。


※1. このプリントは、しながわ・目黒こどもスクールのウェブサイトでダウンロードができます。無断複写・引用はご遠慮ください。

※2. このプリントを活用したオンライン授業のスケジュールは、しながわ・目黒こどもスクールのウェブサイトでご確認ください。

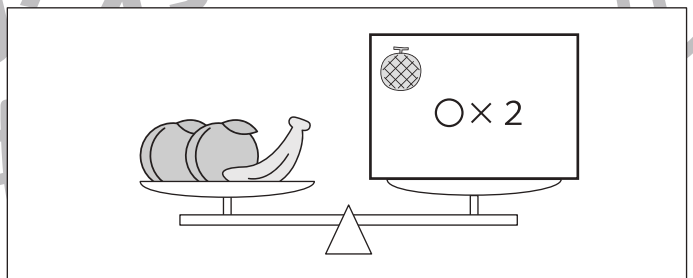


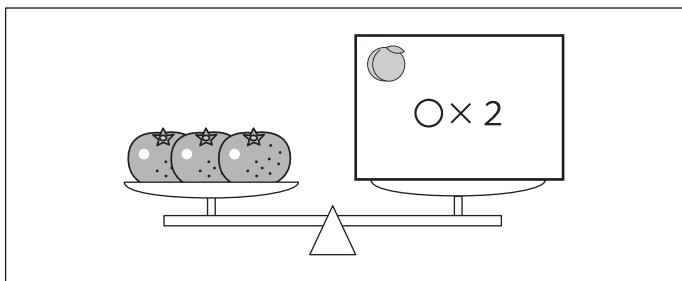


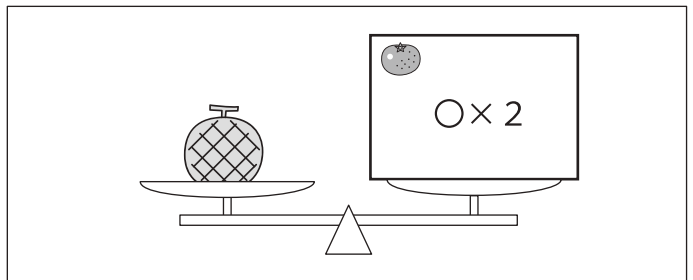
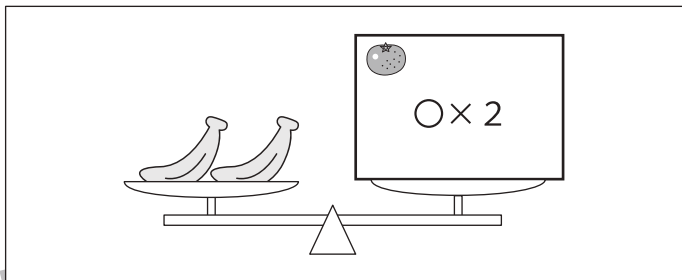




# おうちで、やろう。

Study at home. 小学校受験の家庭学習教材

## 推理：重さの置き換え8

天秤に果物をのせて重さ比べをしました。上の太い四角の中が約束です。この約束のとき、それぞれの天秤の右側にある果物をいくつかのせればつり合いますか。のせる果物の数だけ四角の中に○をかきます。



※1. このプリントは、しながわ・目黒こどもスクールのウェブサイトでダウンロードができます。無断複写・引用はご遠慮ください。

※2. このプリントを活用したオンライン授業のスケジュールは、しながわ・目黒こどもスクールのウェブサイトでご確認ください。



# おうちで、やろう。

Study at home. 小学校受験の家庭学習教材

数量：サイコロ 13

サイコロは表の目と裏の目の数を合わせると7になります。それぞれの四角の中の3つのサイコロの目が表のとき、裏の目を合わせるといくつになりますか。その数だけ下の四角に○をかきます。

○ × 7

○ × 6

○ × 10

○ × 9

○ × 8

○ × 10

※1. このプリントは、しながわ・目黒こどもスクールのウェブサイトでダウンロードができます。無断複写・引用はご遠慮ください。  
 ※2. このプリントを活用したオンライン授業のスケジュールは、しながわ・目黒こどもスクールのウェブサイトでご確認ください。





# おうちで、やろう。

Study at home. 小学校受験の家庭学習教材

数量：サイコロ 14

サイコロは表の目と裏の目の数を合わせると7になります。それぞれの四角の中の3つのサイコロの目が表のとき、裏の目を合わせるといくつになりますか。その数だけ下の四角に○をかきます。

○×13

○×11

○×12

○×14

○×10

○×14

※1. このプリントは、しながわ・目黒こどもスクールのウェブサイトでダウンロードができます。無断複写・引用はご遠慮ください。  
 ※2. このプリントを活用したオンライン授業のスケジュールは、しながわ・目黒こどもスクールのウェブサイトでご確認ください。