

2つに わけました。□に あてはまる かずを かこう。

① 5は 2 と

3

[せつめい]



② 7は 6 と

1



③ 7は 3 と

4



④ 10は 4 と

6



⑤ 6は 1 と

5



⑥ 6は 2 と

4



⑦ 9は 3 と

6



⑧ 8は 3 と

5



⑨ 10は 5 と

5

[せつめい]




⑩ 9は 2 と

7



⑪ 8は 6 と

2



⑫ 5は 1 と

4



2つに わけました。□に あてはまる かずを かこう。

[せつめい]

① 10は

8

と 2



② 9は

3

と 6



③ 8は

5


と 3



④ 6は

1

と 5



⑤ 6は

5

と 1



⑥ 5は

4

と 1



⑦ 7は

3

と 4




⑧ 8は

5


と 3




⑨ 9は 2 と 7 [せつめい]




⑩ 7は 4 と 3



⑪ 5は 3 と 2



⑫ 10は 6 と 4



2つに わけました。□に あてはまる かずを かこう。

① 10は 6 と

4

[せつめい]




② 7は 1 と

6



③ 8は 5 と

3



④ 9は 2 と

7




⑤ 9は 3 と

6



⑥ 5は 3 と

2



⑦ 6は 1 と

5



⑧ 8は 1 と

7



⑨ 7は 3 と

4

[せつめい]



⑩ 6は 4 と

2



⑪ 5は 2 と

3




⑫ 10は 6 と


4





2つに わけました。□に あてはまる かずを かこう。


① 9は 7 と 2 [せつめい]





② 10は 9 と 1 


③ 5は 2 と 3 



④ 8は 4 と 4 



⑤ 6は 2 と 4 



⑥ 6は 3 と 3 



⑦ 7は 6 と 1 

⑧ 5は 3 と 2 

⑨ 10は  と 3 

⑩ 9は  と 2 

⑪ 8は  と 2 

⑫ 7は  と 6 

[せつめい]





2つに わけました。□に あてはまる かずを かこう。

[せつめい]

① 6は 2 と

4



② 10は と 4

6



③ 9は と 2

7



④ 8は 3 と

5



⑤ 5は と 1

4



⑥ 10は 5 と

5




⑦ 7は 3 と

4



⑧ 9は と 6

3





2つに わけました。□に あてはまる かずを かこう。

① 6は 3 と 3

[せつめい]



② 9は 2 と 7



③ 8は 2 と 6




④ 7は 4 と 3



⑤ 5は 2 と 3



⑥ 6は 2 と 4



⑦ 10は 3 と 7



⑧ 8は 4 と 4





1 3つに わけました。□に あてはまる かずを かこう。

① 10は 2 と 3 と

5

[せつめい]



② 8は 1 と 3 と

4



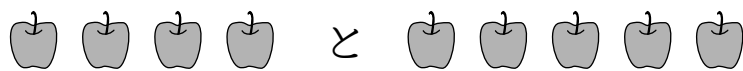
③ 5は 1 と 3 と

1



2 9この りんごを 2つに わけました。

① 4つと いくつに わけられるでしょう。



こたえ

5

つ

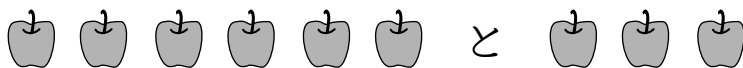
② 2つと いくつに わけられるでしょう。



7

つ

③ 6つと いくつに わけられるでしょう。



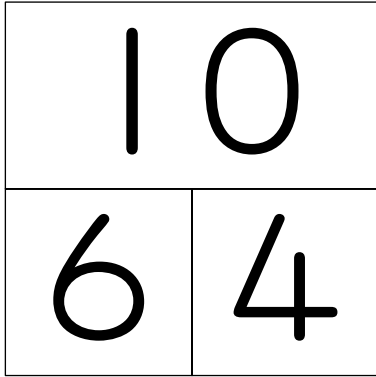
3

つ

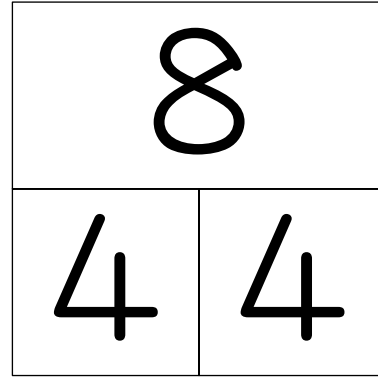


1 うえの だんの かずを わけましょう。

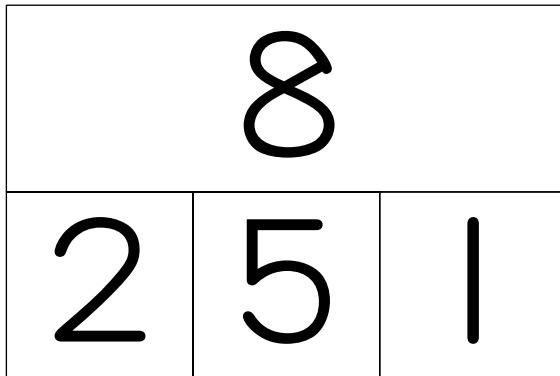
①



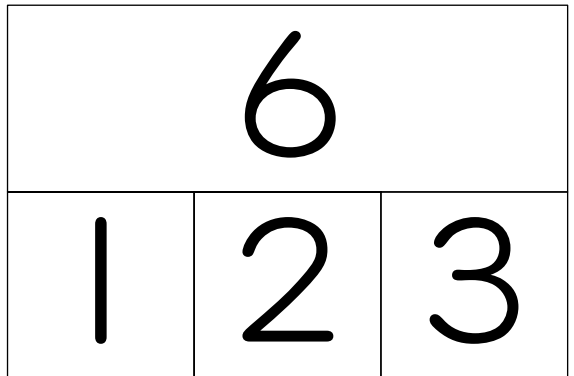
②



③




④

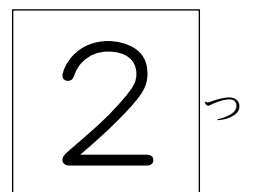


2 7この りんごを 2つに わけました。

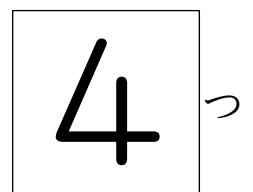
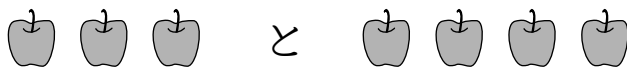
① 5つ と いくつに わけられるでしょう。



こたえ

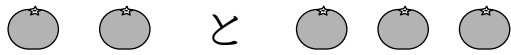


② 3つ と いくつに わけられるでしょう。

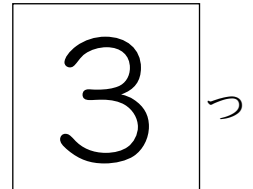


1 5この みかんを 2つに わけました。したの もんだいに 答えましょう。

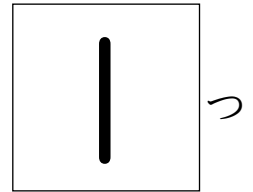
① 2つと いくつに わけられるでしょう。



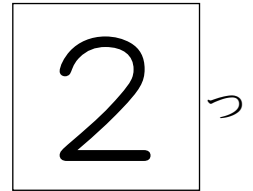
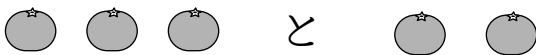
答え



② 4つと いくつに わけられるでしょう。

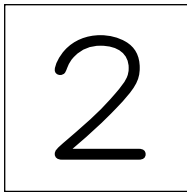


③ 3つと いくつに わけられるでしょう。



2 3つに わけました。□に あてはまる かずを かこう。

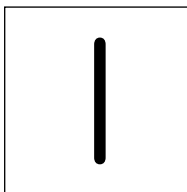
① 9は 3 と 4 と



[せつめい]



② 7は 2 と 4 と



③ 6は 1 と 2 と

