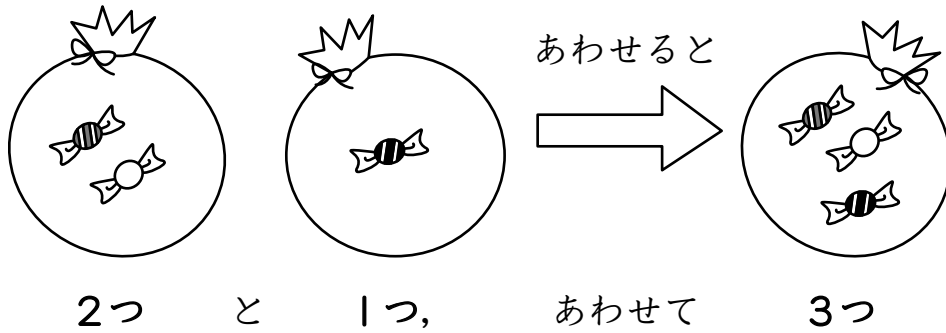


たしざんの しき

あわせて いくつ？

ふたつの ふくろに あめが はいって います。

あわせて いくつに なるのかな。



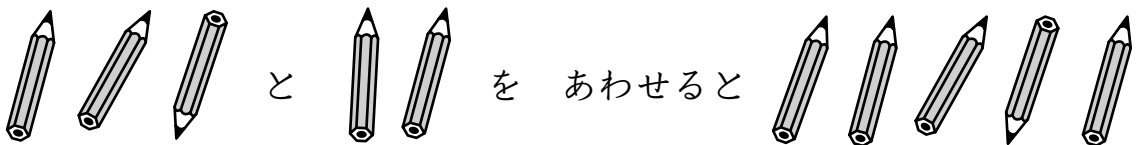
2 と 1 を あわせると 3 になる ことを

$$2 + 1 = 3$$

(2 たす 1 は 3)

と かきます。 これを たしざんと いいます。

れいだい えを たしざんの しきに なおそう。





こたえ $3 + 2 = 5$

たしざんの しき

いろいろ やって みよう。


れいだい えを たしざんの しきに なおそう。



こたえ

- ① $2 + 3 = 5$ 2 と 3 を あわせると 5 に なります。
- ② $3 + 1 = 4$ 3 と 1 を あわせると 4 に なります。
- ③ $6 + 3 = 9$ 6 と 3 を あわせると 9 に なります。

たしざんの しきが かけたかな。







えを たしざんの しきに なおそう。

①  と   を あわせると   

しき

②   と    を あわせると     

しき

③     と  を あわせると     

しき




④   と   を あわせると    

しき




⑤  と  を あわせると  

しき




えを たしざんの しきに なおそう。

①  と  を あわせると 




しき

②  と  を あわせると 




しき

③  と  を あわせると 

しき

④  と  を あわせると 

しき

⑤  と  を あわせると 

しき



えを たしざんの しきに なおそう。

①  と  を あわせると 

しき

②  と  を あわせると 

しき

③  と  を あわせると 

しき

④  と  を あわせると 


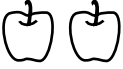

しき

⑤  と  を あわせると 



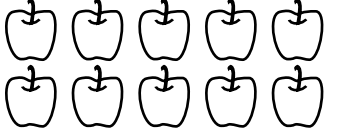
しき





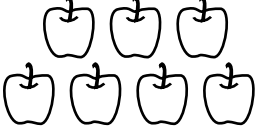
えを たしざんの しきに なおそう。

①  と  を あわせると 




しき

②  と  を あわせると 

しき

③  と  を あわせると 

しき

④  と  を あわせると 



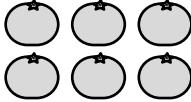
しき

⑤  と  を あわせると 

しき



えを たしざんの しきに なおそう。

①  と  を あわせると 

しき

②  と  を あわせると 

しき

③  と  を あわせると 

しき

④  と  を あわせると 

しき

⑤  と  を あわせると 



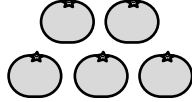
しき

⑥  と  を あわせると 

しき





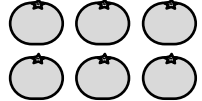
えを たしざんの しきに なおそう。

①  と  を あわせると 

しき

②  と  を あわせると 

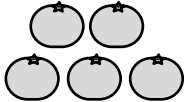
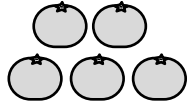
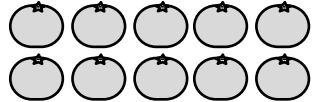
しき

③  と  を あわせると 


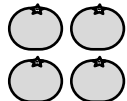
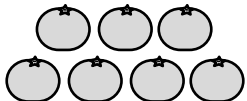
しき

④  と  を あわせると 

しき

⑤  と  を あわせると 

しき

⑥  と  を あわせると 

しき

□ に あてはまる えを かこう。

①  + = 


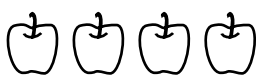
こたえ

②  + = 

こたえ

③  + = 

こたえ



④  + = 

こたえ

⑤  + = 

こたえ



□ に あてはまる えを かこう。

① □ +  = 



こたえ

② □ +  = 



こたえ

③ □ +  = 

こたえ

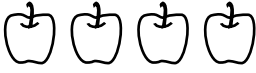
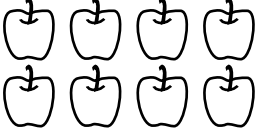
④ □ +  = 

こたえ



⑤ □ +  = 

こたえ



に あてはまる えを かこう。

① +  = 

こたえ

②  + = 

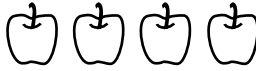

こたえ

③  + = 

こたえ

④  + = 

こたえ

⑤ +  = 

こたえ