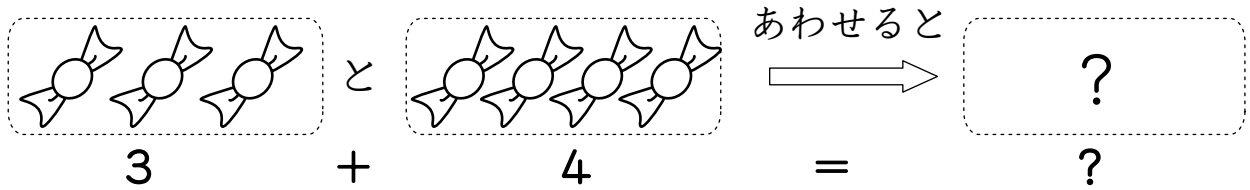


たしざんの しき

あわせて いくつ？

3つの あめと 4つの あめを あわせると いくつ？

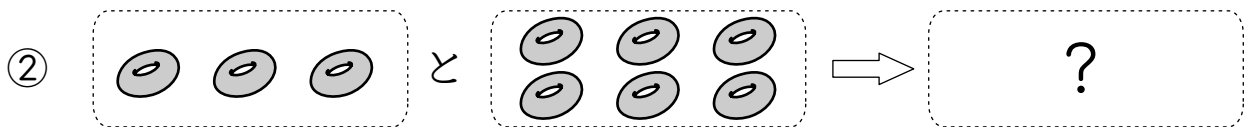
えを かいて かんがえよう。



7つに なるのが わかるかな。


れいたい

あわせて いくつに なるのかな。たしざんの しきも かこう。

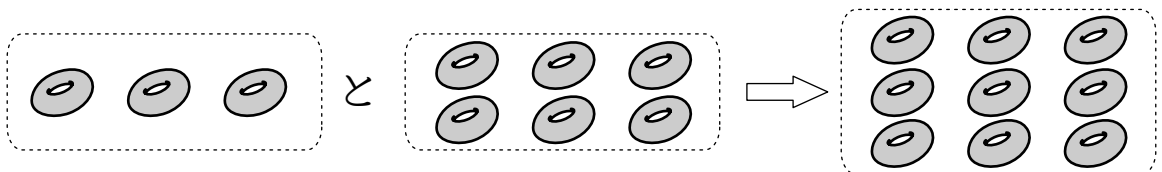


こたえ


























① 5つ $2 + 3 = 5$



② 9つ $3 + 6 = 9$

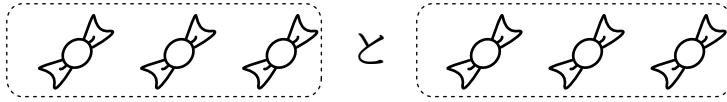


あめは あわせて いくつに なるのかな。
しきと こたえを かこう。

①		と		⇒	
	しき				こたえ
					
②		と		⇒	
	しき				こたえ
					
③		と		⇒	
	しき				こたえ
					
④		と		⇒	
	しき				こたえ
					
⑤		と		⇒	
	しき				こたえ
					

あめは あわせて なんこに なるのかな。
しきと こたえを かこう。

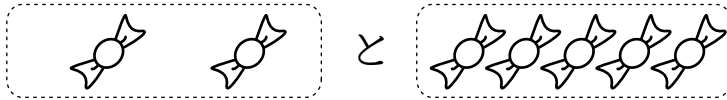
①



しき

こたえ

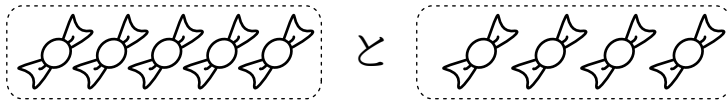
②



しき

こたえ

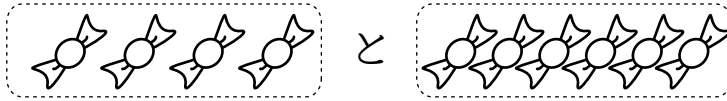
③



しき

こたえ

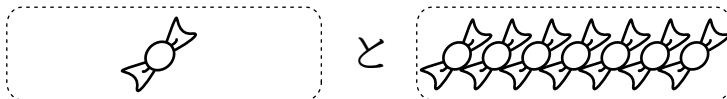
④



しき

こたえ

⑤








しき




こたえ








ドーナツは あわせて いくつに なるのかな。
しきと こたえをかこう。



①  と  ⇒ 




しき  こたえ 



②  と  ⇒ 




しき  こたえ 



③  と  ⇒ 

しき  こたえ 

④  と  ⇒ 

しき  こたえ 

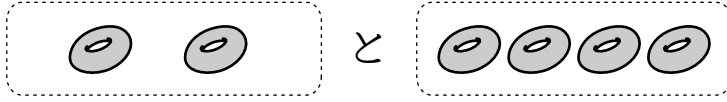
⑤  と  ⇒ 

しき  こたえ 



ドーナツは あわせて なんこに なるのかな。
しきと こたえをかこう。

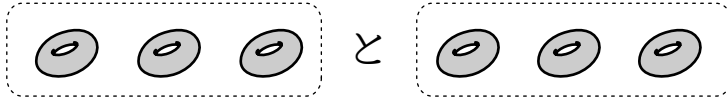
①



しき

こたえ

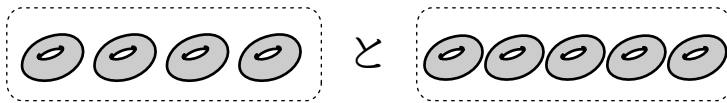
②



しき

こたえ

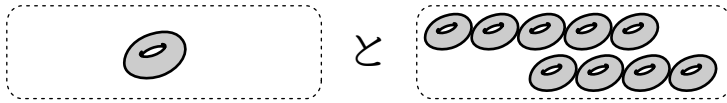
③



しき

こたえ

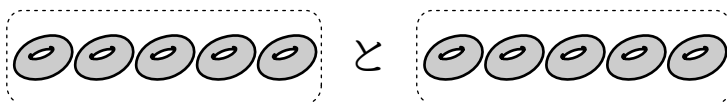
④



しき

こたえ

⑤



しき

こたえ



ほしは あわせて なんこに なるのかな。
しきと こたえを かこう。

①



と



しき

こたえ

②



と




しき

こたえ

③



と



しき

こたえ

④



と



しき

こたえ

⑤



と



しき

こたえ

⑥



と



しき

こたえ



ノートは あわせて なんきつに なるのかな。

しきと こたえをかこう。

①



と



しき

こたえ

②



と




しき

こたえ

③




と




しき

こたえ

④



と



しき

こたえ

⑤



と



しき

こたえ

⑥



と



しき

こたえ

1 □ は なんこに なるかな。

①  と  → 

こたえ

②  と  → 

こたえ

③  と  → 

こたえ

④  と  → 

こたえ

2 3びきの かめと 7びきの かめを あわせたら なんびきかな。
しきと こたえを かこう。

しき

こたえ

1 は なんこに なるかな。

① と ⇒

こたえ

② と ⇒

こたえ

③ と ⇒

こたえ

④ と ⇒


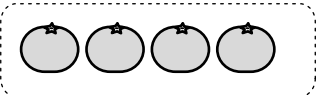

こたえ

2 4この あめと 6この あめを あわせたら なんこかな。
しきと こたえを かこう。

しき

こたえ


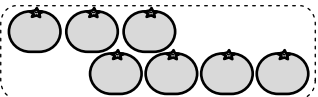
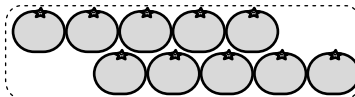
1 □ は なんこに なるかな。

①  と  ⇒ 

こたえ

②  と  ⇒ 

こたえ

③  と  ⇒ 

こたえ

④  と  ⇒ 

こたえ

2 2この りんごと 3この りんごを あわせたら なんこかな。しきと こたえを かこう。

しき

こたえ