









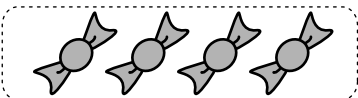
あめは あわせて いくつに なるのかな。  
しきと こたえを かこう。

①  と   $\Rightarrow$  




しき  $2 + 3 = 5$       こたえ 5つ

②  と   $\Rightarrow$  



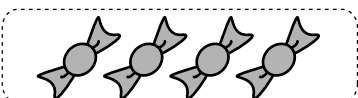
しき  $1 + 2 = 3$       こたえ 3つ

③  と   $\Rightarrow$  

しき  $3 + 1 = 4$       こたえ 4つ

④  と   $\Rightarrow$  


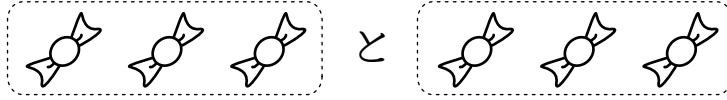
しき  $1 + 1 = 2$       こたえ 2つ

⑤  と   $\Rightarrow$  

しき  $2 + 2 = 4$       こたえ 4つ

あめは あわせて なんこに なるのかな。  
しきと こたえを かこう。

①



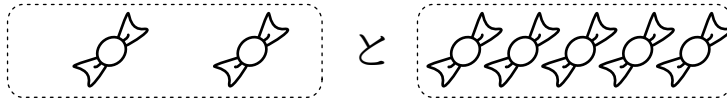
しき

$$3 + 3 = 6$$

こたえ

6こ

②



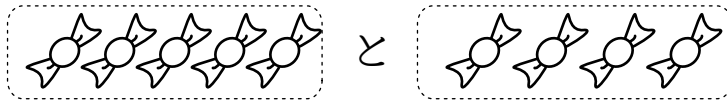
しき

$$2 + 5 = 7$$

こたえ

7こ

③



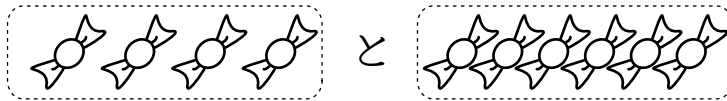
しき

$$5 + 4 = 9$$

こたえ

9こ

④



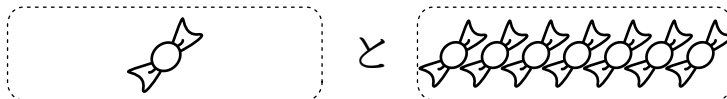
しき

$$4 + 6 = 10$$

こたえ

10こ

⑤



しき




$$1 + 7 = 8$$

こたえ




8こ






ドーナツは あわせて いくつに なるのかな。  
しきと こたえをかこう。

①  と   $\Rightarrow$  




しき  $1 + 2 = 3$       こたえ 3つ

②  と   $\Rightarrow$  




しき  $2 + 3 = 5$       こたえ 5つ

③  と   $\Rightarrow$  

しき  $1 + 4 = 5$       こたえ 5つ

④  と   $\Rightarrow$  

しき  $3 + 1 = 4$       こたえ 4つ

⑤  と   $\Rightarrow$  

しき  $1 + 1 = 2$       こたえ 2つ



ドーナツは あわせて なんこに なるのかな。  
しきと こたえをかこう。

①



しき

$$2 + 4 = 6$$

こたえ

6こ

②



しき

$$3 + 3 = 6$$

こたえ

6こ

③



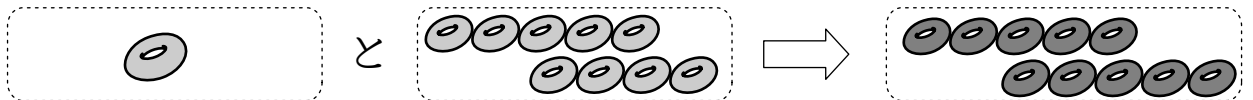
しき

$$4 + 5 = 9$$

こたえ

9こ

④



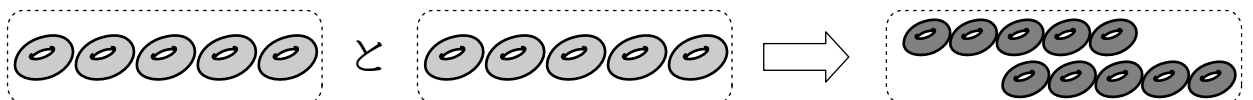
しき

$$1 + 9 = 10$$

こたえ

10こ

⑤



しき

$$5 + 5 = 10$$

こたえ

10こ



ほしは あわせて なんこに なるのかな。  
しきと こたえを かこう。

①



と



しき

$$2 + 2 = 4$$

こたえ

4こ

②



と



しき

$$4 + 3 = 7$$

こたえ

7こ

③



と



しき

$$3 + 5 = 8$$

こたえ

8こ

④



と



しき

$$6 + 4 = 10$$

こたえ

10こ

⑤



と



しき

$$1 + 3 = 4$$

こたえ

4こ

⑥



と



しき

$$5 + 5 = 10$$

こたえ

10こ




ノートは あわせて なんさつに なるのかな。

しきと こたえをかこう。

①



と



しき

$$1 + 2 = 3$$

こたえ

3 さつ

②



と




しき

$$3 + 3 = 6$$

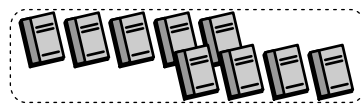

こたえ

6 さつ

③



と




しき

$$5 + 4 = 9$$

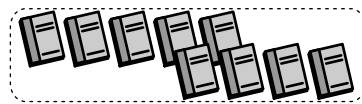
こたえ

9 さつ

④



と




しき

$$2 + 7 = 9$$

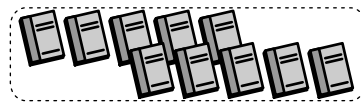
こたえ

9 さつ

⑤



と




しき

$$5 + 5 = 10$$

こたえ

10 さつ

⑥



と



しき

$$4 + 3 = 7$$

こたえ

7 さつ



1 □ は なんこに なるかな。



こたえ

3こ



こたえ

6こ



こたえ

3こ



こたえ

10こ

2 3びきの かめと 7びきの かめを あわせたら なんびきかな。  
しきと こたえを かこう。


しき

$$3 + 7 = 10$$

こたえ

10びき

1  は なんこに なるかな。



こたえ

8こ



こたえ

4こ



こたえ

4こ



こたえ

10こ

2 4この あめと 6この あめを あわせたら なんこかな。  
しきと こたえを かこう。

しき

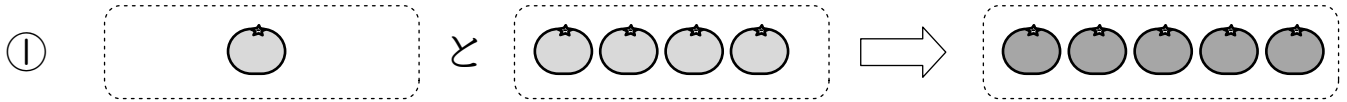
$$4 + 6 = 10$$

こたえ

10こ

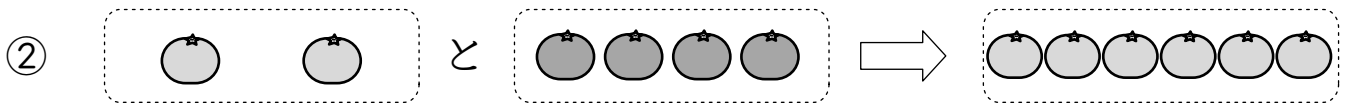


1 □ は なんこに なるかな。



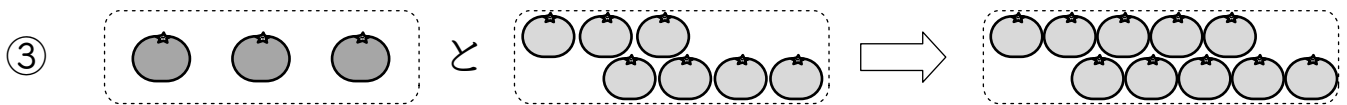
こたえ

5こ



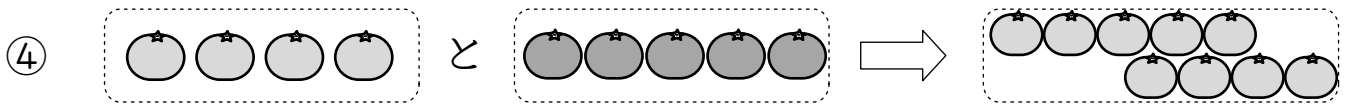
こたえ

4こ



こたえ

3こ



こたえ

5こ

2 2この りんごと 3この りんごを あわせたら なんこかな。しきと こたえをかこう。

しき

$$2 + 3 = 5$$

こたえ

5こ