


くわえる

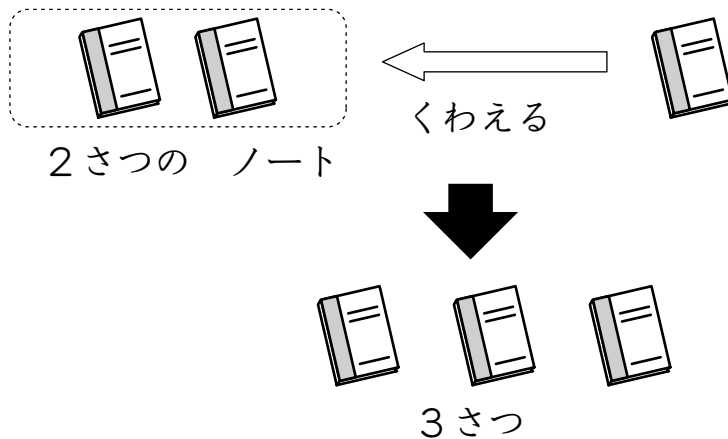


ノートが 2さつ あります。

1さつ くわえると ノートは なんさつに なるのかな。

くわえる とは かずを たすことです。

はじめに あった ノートの かずに くわえた ノートの かずを たします。



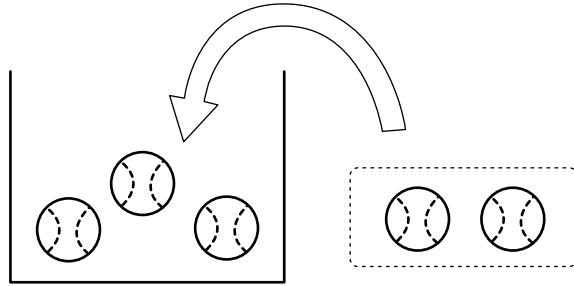
これを しきに すると

しき $2 + 1 = 3$ こたえ 3さつ

になります。

はこに 入れる

3この ボールが はいった はこに 2この ボールを いれます。



はこの なかの ボールは なんこに なるのかな。

3この ボールに 2こ くわえたので たしざんを つかいます。


これを しきに すると

しき $3 + 2 = 5$ こたえ 5こ

に なります。

🔍 ボールが 1こ あります。

3こ くわえると ボールは なんこに なるのかな。



📌 こたえ 4こ しき $1 + 3 = 4$



- 1 すいかが 2こ あります。1こ かって きて くわえました。
すいかは なんこに なったかな。しきと こたえを かこう。

しき

こたえ

- 2 ももが 2こ はいって いる はこに 3この ももを 入れ
ました。

ももは なんこに なったかな。しきと こたえを かこう。

しき

こたえ

- 3 3この なしに 1こ くわえたら なんこに なるのかな。
しきと こたえを かこう。

しき

こたえ

1 おにぎりが 4こ おいて あります。そこに 3こ くわえま
した。

おにぎりは なんこに なったかな。しきと こたえを かこう。

しき

こたえ

2 あめが 6こ はいって いる ふくろに 2この あめを い
れました。

あめは なんこに なったかな。しきと こたえを かこう。

しき

こたえ

3 5この みかんに 4こ くわえました。

なんこに なったかな。しきと こたえを かこう。

しき

こたえ



- 1 ビーズが 2こ あります。2こ かって きて くわえました。
ビーズは なんこに なったかな。しきと こたえを かこう。

しき

こたえ

- 2 おはじきが 4こ はいって いる はこに 1この おはじき
を いました。
おはじきは なんこに なったかな。しきと こたえを かこう。

しき

こたえ

- 3 1この ビーだまに 3こ くわえたら なんこに なるのかな。
しきと こたえを かこう。

しき

こたえ



- 1 たまごが 1こ あります。6こ もって きて くわえました。
たまごは なんこに なったかな。しきと こたえを かこう。

しき

こたえ

- 2 4ほんの えんぴつが はいって いる ふでばこに 4ほんの
えんぴつを いました。
えんぴつは なんほんに なったかな。しきと こたえを かこう。

しき

こたえ

- 3 3さつの ノートに 5さつ くわえました。
なんさつに なったかな。しきと こたえを かこう。

しき

こたえ



- 1 けしゴムが 2こ あります。5こ もって きて くわえました。
けしゴムは なんこに なったかな。しきと こたえを かこう。

しき

こたえ

- 2 あひるが 3わ はいって いる こやに 3わの あひるを
いれました。
あひるは なんわに なったかな。しきと こたえを かこう。

しき

こたえ

- 3 7この コップに 1こ くわえたら なんこに なるのかな。
しきと こたえを かこう。

しき

こたえ



- 1 あめが 4こ あります。2こ もって きて くわえました。
あめは なんこに なったかな。しきと こたえを かこう。

しき

こたえ

- 2 きんぎょが 2ひき いる すいそうに 1ぴきの きんぎょを
いれました。
きんぎょは なんびきに なったかな。しきと こたえを かこう。

しき

こたえ

- 3 6まいの さらに 1まい くわえたら なんまいに なるのかな。
しきと こたえを かこう。

しき

こたえ

- 1 たろうさんは 5この あめが はいった はこを もって います。 たろうさんは おかあさんから 6この あめを もらって 4こを たべ、 2こを はこに いれました。 はこには なんこの あめが はいって いるかな。 しきと こたえを かこう。

しき

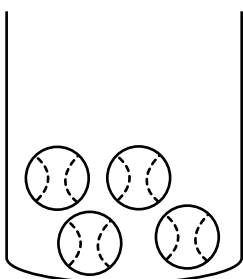
こたえ

- 2 かだんに 2ほんの あかい はなが さいて います。 あたらしく 10ぽんのはなを うえました。 3ぽんは あおい はなです。 7ほんは あかい はなです。 あかい はなは なんぽんに なったかな。 しきと こたえを かこう。

しき

こたえ

- 3 したの えの ような かごが あります。 ここに 3こ ボールを くわえます。 ボールは ぜんぶで なんこに なるのかな。 しきと こたえを かこう。



しき

こたえ

1 ㉞から㉟にあうかずを㉠から㉡のなかからさがしてつなげよう。

㉞ 8このりんごに1こくわえた・

・ ㉠ 6こ

㉟ 3このみかんに3こくわえた・

・ ㉡ 7こ

㉠ 6このなしに2こくわえた・

・ ㉢ 8こ

㉡ 1このももに6こくわえた・

・ ㉣ 9こ

2 かだんに4ほんのはながさいています。3ほんはあかいはなです。1ほんはしろいはなです。

① はなを5ほんくわえると はなはぜんぶでなんぼんになるのかな。

しきと きたえを かこう。

しき

きたえ

② くわえた はなは あかい はなが 3ほん, しろい はなが 2ほん ありました。

しろい はなは なんぼんに なったかな。しきと きたえを かこう。

しき

きたえ

1 きんぎょが 5ひき いる すいそうに 2ひきの きんぎょを
いれました。

きんぎょは なんびきに なったかな。しきと こたえを かこう。

しき

こたえ

2 せんせいは チョークを 5ほん もって います。2ほんは
しろい チョークです。

① チョークを 3ほん くわえると なんぼんに なるのかな。
しきと こたえを かこう。

しき

こたえ

② くわえた チョークは 1ぽんが あかい チョーク, 2ほんが
しろい チョークです。

しろい チョークは なんぼんに なったかな。しきと こたえ
を かこう。

しき

こたえ