

1
しき

$$2 + 1 = 3$$

こたえ

3こ

[せつめい]

1

すいか 2こ 1こ くわえる



すいか
3こ

2この すいかに 1この すいか
を くわえるので しきは $2 + 1 = 3$
に なります。

2
しき

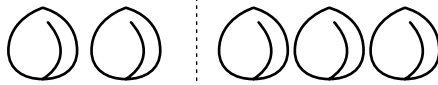
$$2 + 3 = 5$$

こたえ

5こ

2

もも 2こ 3こ くわえる



もも
5こ

2この ももに 3この ももを
くわえるので しきは $2 + 3 = 5$
に なります。

3
しき

$$3 + 1 = 4$$

こたえ

4こ

3

なし 3こ 1こ
くわえる



なし
4こ

3この なしに 1この なしを
くわえるので しきは $3 + 1 = 4$
に なります。

1
しき

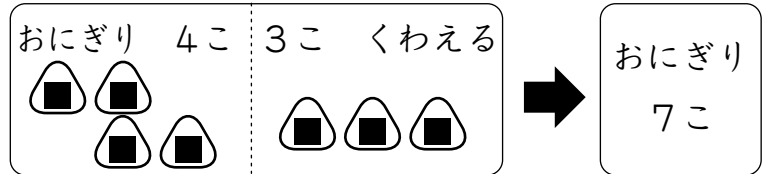
$$4 + 3 = 7$$

こたえ

7こ

[せつめい]

1



4この おにぎりに 3この おにぎりを くわえるので しきは $4 + 3 = 7$ になります。

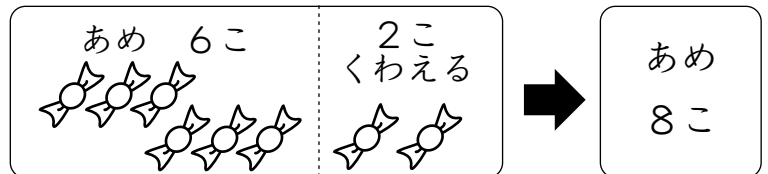
2
しき

$$6 + 2 = 8$$

こたえ

8こ

2



6この あめに 2この あめを くわえるので しきは $6 + 2 = 8$ になります。

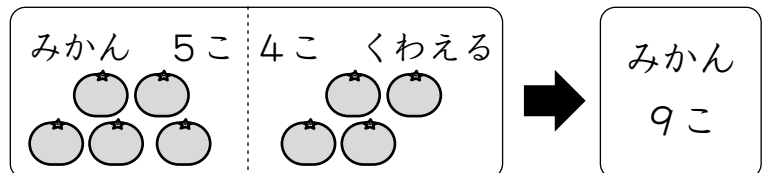
3
しき

$$5 + 4 = 9$$

こたえ

9こ

3



5この みかんに 4この みかんを くわえるので しきは $5 + 4 = 9$ になります。



1
しき

$$2 + 2 = 4$$

こたえ

$$4 \text{ こ}$$

[せつめい]

1



2この ビーズに 2この ビーズを くわえるので しきは $2 + 2 = 4$ に なります。

2
しき

$$4 + 1 = 5$$

こたえ

$$5 \text{ こ}$$

2



4この おはじきに 1この おはじきを くわえるので しきは $4 + 1 = 5$ に なります。

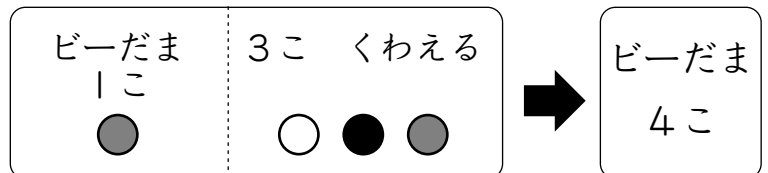
3
しき

$$1 + 3 = 4$$

こたえ

$$4 \text{ こ}$$

3



1この ビーだまに 3この ビーだまを くわえるので しきは $1 + 3 = 4$ に なります。

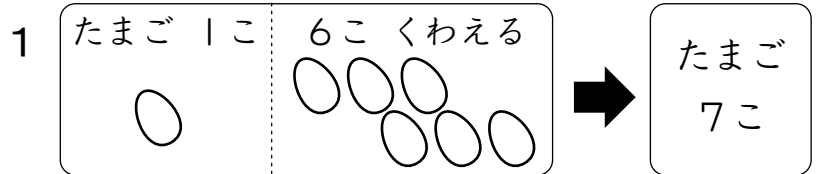
1
しき

$$1 + 6 = 7$$

こたえ

7こ

[せつめい]



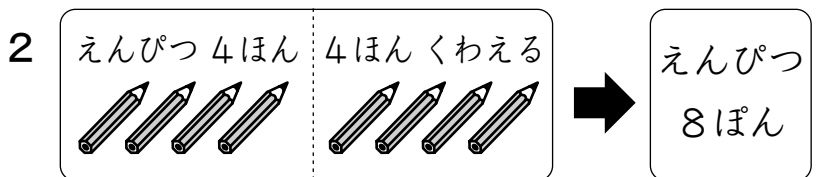
1この たまごに 6この たまごを かわえるので しきは $1 + 6 = 7$ になります。

2
しき

$$4 + 4 = 8$$

こたえ

8ぽん



4ほんの えんぴつに 4ほんの えんぴつを かわえるので しきは $4 + 4 = 8$ になります。

3
しき

$$3 + 5 = 8$$

こたえ

8さつ



3さつの ノートに 5さつの ノートを かわえるので しきは $3 + 5 = 8$ になります。

1
しき

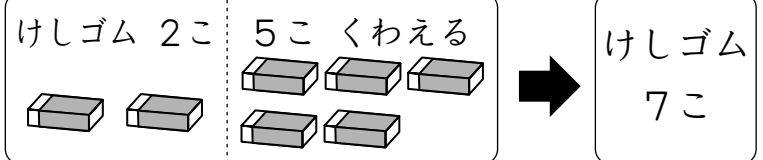
$$2 + 5 = 7$$

こたえ

7こ

[せつめい]

1



2この けしゴムに 5この けし
ゴムを くわえるので しきは $2 + 5 = 7$ に なります。


2
しき

$$3 + 3 = 6$$

こたえ

6わ

2



3わの あひるに 3わの あひる
を くわえるので しきは $3 + 3 = 6$
に なります。

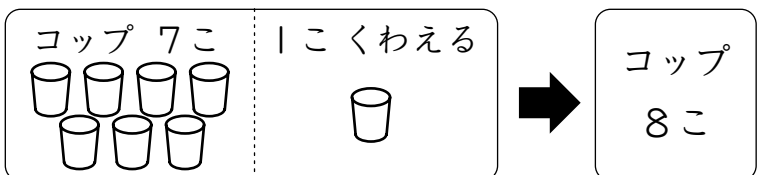
3
しき

$$7 + 1 = 8$$

こたえ

8こ

3



7この コップに 1この コップ
を くわえるので しきは $7 + 1 = 8$
に なります。

1
しき

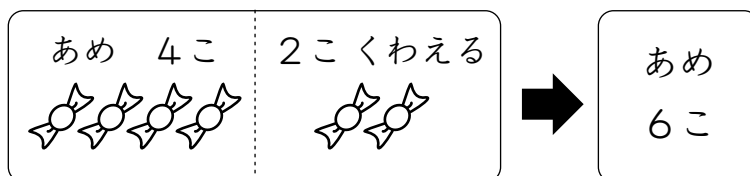
$$4 + 2 = 6$$

こたえ

6こ

[せつめい]

1



4この あめに 2この あめを
くわえるので しきは $4 + 2 = 6$
に なります。

2
しき

$$2 + 1 = 3$$

こたえ

3びき

2



2ひきの きんぎょに 1ひきの
きんぎょを くわえるので しきは
 $2 + 1 = 3$ に なります。

3
しき

$$6 + 1 = 7$$

こたえ

7まい

3



6まいの さらに 1まいの さらに
を くわえるので しきは $6 + 1 = 7$
に なります。



1
しき

$$5 + 2 = 7$$

こたえ

7こ

[せつめい]

- 1 たろうさんは もらった あめのうち 2こを はこに 入れたので しきは $5 + 2 = 7$ になります。

2
しき

$$2 + 7 = 9$$

こたえ

9ほん

- 2 あかい はなの かずを かぞえます。はじめに さいて いる あかい はなは 2ほん です。あたらしく うえた あかい はなは 7ほんです。しきは $2 + 7 = 9$ に なります。

3
こたえ

$$4 + 3 = 7$$

こたえ

7こ

- 3 かごの なかの ボールは 4こな ので しきは $4 + 3 = 7$ に なります。



1 ㉠から㉤にあうかずを㉡から㉥のなかからさがしてつなげよう。

㉠	8このりんごに	1こ	くわえた	●	㉡	6こ
㉢	3このみかんに	3こ	くわえた	●	㉣	7こ
㉡	6このなしに	2こ	くわえた	●	㉢	8こ
㉤	1このももに	6こ	くわえた	●	㉥	9こ

2

[せつめい]

①

しき

$$4 + 5 = 9$$

2 ① かだんのはなは4ほんです。はなを5ほんくわえるのでしきは $4 + 5 = 9$ になります。

こたえ

9ほん

②

こたえ

$$1 + 2 = 3$$

② はじめのしろいはなは1ほんです。くわえたしろいはなは2ほんです。しきは $1 + 2 = 3$ になります。

こたえ

3ほん

1
しき

$$5 + 2 = 7$$

こたえ

7ひき

[せつめい]

- 1 5ひきの きんぎょに 2ひきの
きんぎょを くわえるので しきは
 $5 + 2 = 7$ に なります。

2
①
しき

$$5 + 3 = 8$$

こたえ

8ほん

- 2 ① 5ほんの チョークに 3ほんの
チョークを くわえるので しき
は $5 + 3 = 8$ に なります。

②
しき

$$2 + 2 = 4$$

こたえ

4ほん

- ② はじめの しろい チョークは2
ほん です。くわえた しろい チ
ョークは 2ほんです。しきは 2
 $+ 2 = 4$ に なります。