



ふえる



はとが 3わ とまって います。そこに はとが とんで
きて 2わ ふえました。

はとは なんわに なったかな。

ふえる とは かずが おおく なる ことです。はじめに
いた はとの かずに ふえた はとの かずを たします。



はじめに いた はとは 3わ

ふえた はとは 2わ

これを しきに すると

しき $3 + 2 = 5$

こたえ 5わ

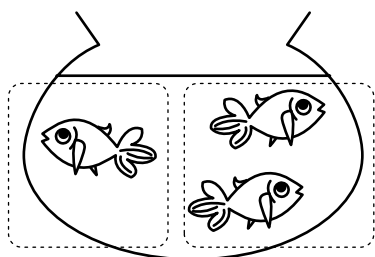
に なります。

🔍 きんぎよが 1びき います。2びき ふえました。
きんぎよは なんびきに なったかな。

こたえ

しき $1 + 2 = 3$

こたえ 3びき



- 1 2ほんの はなが あります。1ぽん ふえました。
はなは なんぼんに なったかな。しきと こたえを かこう。

しき

こたえ

- 2 あきらさんは あめを 3こ もって います。おかあさんから
あめを もらったので 2こ ふえました。
あめは なんこに なったかな。しきと こたえを かこう。

しき

こたえ

- 3 あひるが 4わ います。そこに 1わ やって きました。
あひるは なんわに なったかな。しきと こたえを かこう。

しき

こたえ

- 1 4わの すずめが います。2わ ふえました。
すずめは なんわに なったかな。しきと こたえを かこう。

しき

こたえ

- 2 はるきさんは えんぴつを 3ほん もって います。おとうさん
から えんぴつを もらったので 5ほん ふえました。
えんぴつは なんほんに なったかな。しきと こたえを かこう。

しき

こたえ

- 3 りんごが 6こ おちて います。そこに 1こ おちて きま
した。
りんごは なんこに なったかな。しきと こたえを かこう。

しき

こたえ



- 1 | この ビーだまが あります。3こ ふえました。
ビーだまは なんこに なったかな。しきと こたえを かこう。

しき

こたえ

- 2 あきこさんは ノートを 2さつ もって います。おとうさん
から ノートを もらって 2さつ ふえました。
ノートは なんさつに なったかな。しきと こたえを かこう。

しき

こたえ

- 3 ねこが 2ひき います。そこに 3びき やって きました。
ねこは なんびきに なったかな。しきと こたえを かこう。

しき

こたえ



- 1 5ひきの かえるが います。4ひき ふえました。
かえるは なんびきに なったかな。しきと こたえを かこう。

しき

こたえ

- 2 みどりさんは クッキーを 2こ もって います。ともだちか
ら クッキーを もらって 6こ ふえました。
クッキーは なんこに なったかな。しきと こたえを かこう。

しき

こたえ

- 3 ケーキが 3こ あります。4こ かって きました。
ケーキは なんこに なったかな。しきと こたえを かこう。

しき

こたえ



- 1 5ほんの はなが さいて います。そこに 2ほん さきました。
はなは なんぼん さいて いるかな。しきと こたえを かこう。

しき

こたえ

- 2 ただしさんは あめを 3こ もって います。おかあさんから
あめを もらったので 3こ ふえました。
あわせて なんこに なったかな。しきと こたえを かこう。

しき

こたえ

- 3 ねこが 2ひき います。4ひき ふえました。
ねこは なんびきに なったかな。しきと こたえを かこう。

しき

こたえ



- 1 きんぎょが 6ひき います。2ひき ふえました。
きんぎょは なんびきに なったかな。しきと こたえを かこう。

しき

こたえ

- 2 はとが 1わ います。そこに 4わ とんで きました。
はとは なんわに なったかな。しきと こたえを かこう。

しき

こたえ

- 3 さゆりさんは おはじきを 5こ もって います。ともだちから おはじきを もらったので 3こ ふえました。
おはじきは なんこに なったかな。しきと こたえを かこう。

しき

こたえ



1 かずが おおきい ほうを アか イで えらぼう。

こたえ

- ① ア かえるが 4ひきから 4ひき ふえた。
イ あひるが 3わから 2わ ふえた。

- ② ア チューリップが 2ほんから 5ほん
ふえた。
イ あめが 4こから 1こ ふえた。

- ③ ア りんごが 1こ おちて いて 6こ
おちてきた。
イ えんぴつを 5ほん もって いて 3
ほん もらった。

2 よしおさんは きのう おとうさんから 3この あめを もら
いました。きょう もらった かずは きのうより 2こ ふえて
いました。

よしおさんは きょう なんこの あめを もらったのかな。し
きと こたえを かこう。

しき

こたえ

1 ぶんと あう しきを えらんで せんで むすぼう。

6ぴきの ねこが 1ぴき ふえた ・ ・ $3 + 3 = 6$

4この りんごが 3こ ふえた ・ ・ $6 + 1 = 7$

2この ビーだまが 2こ ふえた ・ ・ $4 + 3 = 7$

3わの はとが 3わ ふえた ・ ・ $2 + 2 = 4$

2 うしが 3とう います。1とうの うしが 2とうの こどもを うみました。

うしは なんと うに なったかな。しきと こたえを かこう。



しき

こたえ

1 ぶんとしきが あって いる ときは ○を, まちがって いる ときは ×を かこう。

① 2わの すずめが 1わ ふえた。
しき $2 + 1 = 3$

こたえ

② 5さつの ノートが 3さつ ふえた。
しき $5 + 2 = 7$

③ えんぴつを 4ほん もって いて 2ほん もらった。
しき $4 + 2 = 8$

2 たろうさんは きノウ クッキーを 6こ たべました。 きょう たべた かずは きノウより 3こ ふえました。
たろうさんは きょう なんこ クッキーを たべたのかな。 しきと こたえを かこう。

しき

こたえ