

●はじめに

学力分野の総合テストとして主要 6 領域から計 6 枚を出題しています。

なお、平均点は 6 割到達を目安として 35 点～40 点を目標点として作成しています。

●ペーパー出題内容 A

領域	出題単元	得点
① 記憶 A	お話の記憶	10 点
② 数量 A	計数、数の対応、長さ	10 点
③ 図形 A	模写、点つなぎ	10 点
④ 言語 A	しりとり、音の理解	10 点
⑤ 推理 A	系列完成、時間経過	10 点
⑥ 常識 A	生活常識	10 点

●テスト時の約束

- テスト担当者は、該当プリントを開かせて各ページの（設問）をはっきりした言葉でゆっくりと読み上げます。受験生が問題の意図を正しく理解できるように、必要に応じて補足説明および例題問題をおこないます。
- 各問題に制限時間を設定しています。時間になったら合図を出して受験生の取り組みを中断させます。その際、筆記具は所定の場所に置くように事前に説明します。
- 解答を誤ってつけた場合は、該当の場所に訂正印（×）を記入し、正しい答えをすぐ隣に描くように促します。こちらは実施前に事前に説明します。指定した訂正以外の印は誤答とみなします。
- 正しい解答と、間違った解答の両方を記入した場合（例：正解のリンゴに○をつけているが、バナナにも○がついている等）は、誤答とみなします。解答のための効果線（計数で数えたものに印をつけるなどの工夫の印）は、それとはっきりわかるものであれば、減点にはなりません。

## 1 枚目-記憶A

※プリントは表紙のままにし、スピーカーからお話を流します。手を膝の上に置いて姿勢を正し、静かに聞くように指示をします。以下、お話本文。

－これからお話を読みます。手を膝の上に置いて静かに聞きましょう。

今日は仲良しのブタさん、イヌくん、サルくん、ペンギンくんの4匹でスケートに行く日です。ブタさんはスケートをするのは初めてなので、朝から不安な気持ちでいっぱいでした。家を出るときにお母さんが「転んでも恥ずかしくないのよ、楽しんでいっちゃい。」と言ってくれました。「ありがとう、行ってくるね。」ブタさんは、まだ少し心配そうな顔で言いました。スケート場に行く途中、ブタさんはお昼ごはんを買いにパン屋さんに寄りました。「みんなの分も用意しておこうかな。」ブタさんは、サンドイッチとあんぱんを取って、レジにいるヤギのおじさんに渡しました。「おや、ブタさんじゃないか、おはよう。いや、新しい年になってからは初めて会うんだね。」ブタさんもご挨拶をして、パンのお代を払いました。「ありがとうございます。今年もよろしくね。」ブタさんはヤギのおじさんからパンを受け取って、パン屋さんを出ました。しばらく歩いて、スケート場に着きました。スケート場の入口には大きな門松が飾ってあります。まずは、受付係のヒツジくんスケート靴を借りようと、自動ドアを通過して中に入りました。「あら、ブタさん。今日はかわいらしい恰好をしているね。はい、水玉模様のスケート靴をどうぞ。きっと、これがお似合いです。」ブタさんは、受付係のヒツジくんにお礼を言ってスケート場の中に入りました。スケートリンクでは、たくさんの動物たちがスケートを楽しんでいました。その中にイヌくんとサルくんがいました。2匹は先に来てスケートリンクの上を上手に滑っていました。ブタさんに気づいた2匹は、手を振って早くおいでよと合図を出しています。ブタさんは少し嬉しくなりました。スケート靴を履こうと準備をしているブタさんのところへ、ペンギンくんが遅れてやって来ました。「ブタさん、こんにちは。僕のスケートの滑り方を見てね。とても上手なんだ。」ペンギンくんは自信満々に言います。準備を終えてスケートリンクに入ろうとしたブタさんの前にイヌくんがやって来て、その場でクルクルと回転しました。サルくんも負けじとクルクルと回転。ペンギンくんもスケートリンクに入り、2匹に負けじとクルクルと回転しました。3匹の上手なスケートを見ていたブタさんは、急にお家に帰りたくなってしまいました。そこへ「あら、ブタさんじゃない。ブタさんは滑らないの？」話しかけてくれたのは、近所に住んでいるカバのお姉さんです。「私スケートが初めてだから、滑り方もわからないし、とても怖いの。」とブタさんが泣き出しました。カバのお姉さんは「私が教えてあげるから、一緒に滑りましょう。」と言って、ブタさんの手をつないで、氷の上まで連れて行ってくれました。ブタさんはドキドキしながら氷の上に乗ると、早速転びました。カバのお姉さんの手を借りて起き上がり、次こそは転ばないようにと起き上がりましたが、少し進むとまた転びました。何度も転んでは起き上がり、転んでは起き上がりを繰り返しているうちに、ブタさんは自分の力でまっすぐ滑ることができました。そこへ、イヌくんとサルくんがやって来て「ブタさん、一列になって壁のところまで滑ろうよ。」と言いました。先頭はイヌくん、真ん中にブタさん、その後ろをカバのお姉さん、一番後ろにサルくんという順番で、ゆっくりと壁のところまで滑りました。ブタさんはカバのお姉さんに「ありがとう。お姉さんのおかげでスケートが楽しくなりました。」とお礼を言いました。カバのお姉さんはにっこりと笑いました。「もうお腹ペコペコ。」サルくんがそう言うと、ブタさんは「みんなの分のお昼ごはんを持ってきたんだ。向こうの公園に行ってみんなで一緒に食べようよ。」と言いました。カバのお姉さんにさよならをして、ペンギンくんも誘ってお昼ごはんを食べに4匹は近くの公園に行きました。「ブタさん、とってもおいしいよ。」すると、ペンギンさんが「ねえ、お昼ごはんを食べたら、僕の家に行ってコマ回しをして遊ぼうよ。」と言いました。他の動物たちも「いいよ。」と言って、4匹はお昼ごはんの時間を楽しみました。

－お話はこれで終わりです。プリントを1枚めくりましょう。

(設問①)

左側に①と書いてある四角を見てください。家を出る前、ブタさんはどんな気持ちだったと思いますか。正しいと思う顔の絵を選んで<青色のクーピー>で○をつけましょう。では、クーピーを持って、始めてください。(10秒) はい、そこまでにしてください。

(設問②)

左側に②と書いてある四角を見てください。ブタさんが履いたスケート靴はどんな模様でしたか。正しいと思う絵を選んで<青色のクーピー>で○をつけましょう。では、クーピーを持って、始めてください。(10秒) はい、そこまでにしてください。

(設問③)

左側に③と書いてある四角を見てください。ブタさんがスケート場に着いたときにはいなかった動物は誰でしたか。その動物を選んで<青色のクーピー>で○をつけましょう。では、クーピーを持って、始めてください。(10秒) はい、そこまでにしてください。

(設問④)

左側に④と書いてある四角を見てください。スケートリンクに入ろうとしたブタさんの前でイヌくんがやって見せたことは何でしたか。正しいと思う絵を選んで<青色のクーピー>で○をつけましょう。では、クーピーを持って、始めてください。(15秒) はい、そこまでにしてください。

(設問⑤)

左側に⑤と書いてある四角を見てください。ブタさんにスケートの滑り方を教えてくれたお姉さんは、どの動物でしたか。その動物の絵を選んで<青色のクーピー>で○をつけましょう。では、クーピーを持って、始めてください。(10秒) はい、そこまでにしてください。

(設問⑥)

左側に⑥と書いてある四角を見てください。練習してまっすぐ滑ることができたブタさんを誘って、他の動物たちと一列になって一緒に滑りました。このとき、一番後ろにいた動物に<青色のクーピー>で○をつけましょう。では、クーピーを持って、始めてください。(15秒) はい、そこまでにしてください。

(設問⑦)

左側に⑦と書いてある四角を見てください。動物たちがお昼ごはんを食べたものは何でしたか。その絵を2つ選んで<青色のクーピー>で○をつけましょう。では、クーピーを持って、始めてください。(20秒) はい、そこまでにしてください。

(設問⑧)

左側に⑧と書いてある四角を見てください。動物たちがお昼ごはんを食べた後、ペンギンくんの家でやろうとしている遊びは何でしたか。正しいと思う絵を選んで<青色のクーピー>で○をつけましょう。では、クーピーを持って、始めてください。(15秒) はい、そこまでにしてください。

(設問⑨)

左側に⑨と書いてある四角を見てください。四角の中には、このお話に出てきていない動物が2匹います。その動物の絵を選んで<青色のクーピー>で○をつけましょう。では、クーピーを持って、始めてください。(25秒) はい、そこまでにしてください。

(設問⑩)

左側に⑩と書いてある四角を見てください。このお話と同じ季節の絵を選んで<青色のクーピー>で○をつけましょう。では、クーピーを持って、始めてください。(15秒) はい、そこまでにしてください。

(正解) 10点満点

設問①：左から2番目の絵に青色のクーピーで○/1点

設問②：左から2番目の絵に青色のクーピーで○/1点

設問③：ペンギンに青色のクーピーで○/1点

設問④：左から2番目の絵に青色のクーピーで○/1点

設問⑤：青色のクーピーでカバに○/1点

設問⑥：青色のクーピーでサルに○/1点

設問⑦：サンドイッチ、あんぱんに青色のクーピーで○/完答で1点

設問⑧：左から2番目の絵に青色のクーピーで○/1点

設問⑨：パンダ、シマウマに青色のクーピーで○/完答で1点

設問⑩：左から2番目の絵に青色のクーピーで○/1点

## 2枚目-数量A

(設問①)

左側に①と書いてある四角を見てください。これは運動会の玉入れの様子です。白組のお友だちが玉入れをおこない、いくつかの白い玉がカゴの中に入ったようです。カゴに入らずに地面に落ちている白い玉もいくつかありますね。皆さんはカゴに入らなかった白い玉の数だけを数えます。答えが分かったら下の四角の中に、カゴに入らなかった白い玉の数だけ<青色のクーピーで○>を描きましょう。では、クーピーを持って、始めてください。(20秒) はい、そこまでにしてください。

(設問②)

左側に②と書いてある四角を見てください。紅組のお友だちも玉入れをおこない、いくつかの赤い玉がカゴの中に入ったようです。カゴに入らずに地面に落ちている赤い玉もいくつかありますね。よく見ると白組が投げた白い玉も、紅組のカゴの下に飛んできてしまったようです。今度はカゴに入らなかった赤い玉と白い玉の数の違いを考えます。答えが分かったら下の四角の中に、赤い玉と白い玉の数の違いだけ<青色のクーピーで○>を描きましょう。では、クーピーを持って、始めてください。(25秒) はい、そこまでにしてください。

(設問③)

左側に③と書いてある四角を見てください。これは運動会のかけっこで1等になった人が並ぶ列です。運動会のかけっこで1等になると、先生から1人2枚ずつシールがもらえるそうです。1等を取った人たちのシールを集めると全部で何枚になりますか。その数だけ、下の長四角の中に<青色のクーピーで○>を描きましょう。白組の人の顔の描いてある枠の中には白組の人だけを数えて答えを描きます。その隣の紅組の人の顔の枠の中には、紅組の人だけを数えて答えを描きます。では、クーピーを持って、始めてください。(40秒) はい、そこまでに

してください。

(設問④)

左側に④と書いてある四角を見てください。これは運動会の競技の様子です。お友だちがたくさんいますが、今から言う特徴のお友だちだけを数えます。「帽子も鉢巻もしていないお友だち」です。もう一度お話をします。「帽子も鉢巻もしていないお友だち」です。答えが分かったら右の四角の中に、そのお友だちの人数だけ<青色のクーピーで○>を描きましょう。では、クーピーを持って、始めてください。(25秒) はい、そこまでにしてください。

(設問⑤-1) ※お手本問題あり

左側に⑤と書いてある四角を見てください。これは運動会の大玉転がしの様子です。(電子黒板で映像を見る)いま黒板で見たように、4つのチームが一斉にスタートの合図で進み、この絵のように進んだ距離に差がついています。よく見ると、重たい大玉を転がした後が線になって見えます。4チームの中で一番進めていないチームを探します。答えがわかったら、一番進めていないチームの大玉に<青色のクーピーで○>を描きましょう。では、クーピーを持って、始めてください。(15秒) はい、そこまでにしてください。

(設問⑤-2)

もう一度、左側に⑤と書いてある四角を見てください。今度は4チームの中で、2番目に進めていないチームを探します。答えがわかったら、2番目に進めていないチームの大玉に<青色のクーピーで△>を描きましょう。では、クーピーを持って、始めてください。(10秒) はい、そこまでにしてください。

(正解) 10点満点

設問①：青色のクーピーで○を9つ／1点

設問②：青色のクーピーで○を4つ／2点

設問③：白組に○を4つ、紅組に○を10つ、青色のクーピーで記入／各1点・計2点

設問④：青色のクーピーで○を9つ／2点

設問⑤-1：右端の紅組の大玉に青色のクーピーで○／1点

設問⑤-2：左から数えて3番目の白組の大玉に青色のクーピーで△／1点

3枚目-図形A

(設問①～⑥) ※お手本問題あり

左側に①と書いてある四角を見てください。変わった形のマスの中に○と●がありますね。左側のマスの中にある●と○を、右側のマスにも描き写します。ただ描き写すのではなく、●は○に、○は●に、色を逆にして<鉛筆>で描き写します。①の問題が終わったら、⑥の問題まで続けてやりましょう。では、鉛筆を持って、始めてください。(160秒) はい、そこまでにしてください。

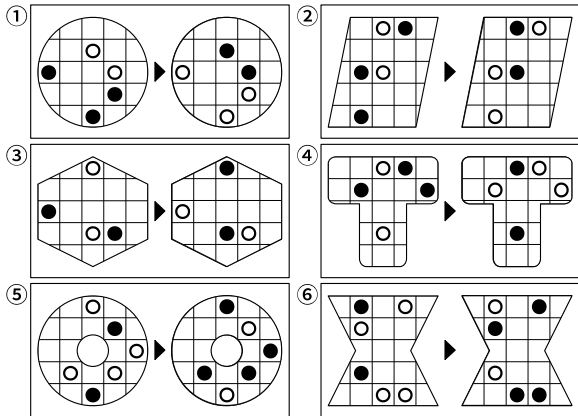
(設問⑦～⑩) ※お手本問題あり

左側に⑦と書いてある四角を見てください。四角の中に●と○がたくさん並んでいます。●だけを1本の線をつないで「島」をつくります。描く線はどこかで重なったりしないように結びます。この問題は<鉛筆>でやります。もし、描く線を途中で間違えてしまったら、先に正しい線を描いてから、間違えた線に×印をつけて直しましょう。⑦の問題が終わったら、⑩の問題まで続けてやりましょう。では、鉛筆を持って、始めてください。

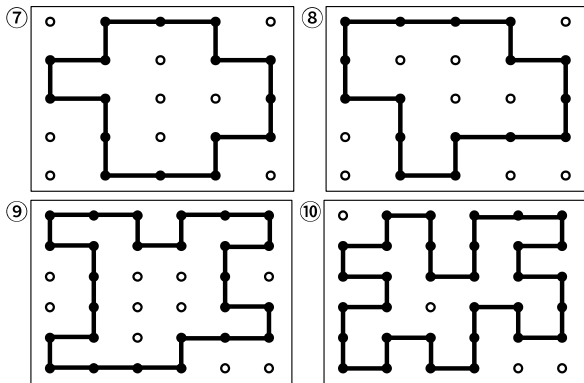
(100 秒) はい、そこまでにしてください。

(正解) 10 点満点

設問①～⑥：下図参照 ※鉛筆で記入／各 1 点・計 6 点



設問⑦～⑩：正解例は下図参照 ※鉛筆で記入／各 1 点・計 4 点



4 枚目-言語 A

(設問①・②) ※お手本問題あり

左側に①と書いてあるところを見てください。番号の隣の四角の中の絵を先頭にして、四角の周りがある矢印の順番にしりとりでつないでいきます。太い枠の中には絵が 3 枚ありますね。ここは正しいものを 1 枚だけ選びます。前や次の絵の名前を考えてしりとりでつながるものを選んで<青色のクーピー>で○をつけましょう。最後までしりとりでつなげられれば完成です。①の問題が終わったら、②の問題も続けてやりましょう。では、では、クーピーを持って、始めてください。(40 秒) はい、そこまでにしてください。

(設問③)

左側に③と書いてあるところを見てください。先ほどの問題と同じようにしりとりでつながるように、太い枠の中から正しいものを 1 枚だけ選びます。この問題はしりとりが長く、最初から太い枠になっていて、はじめの言葉がわからなくなっています。次の絵の名前から考えていきましょう。それぞれ、太い枠の中らしりとりでつながる絵を選んで<青色のクーピー>で○をつけましょう。最後までしりとりでつなげられれば完成です。では、クーピーを持って、始めてください。(50 秒) はい、そこまでにしてください。

(設問④)

左側に④と書いてある四角を見てください。この中で「え・ん・ぴ・つ」のように 4 つの音でできた名前の野菜が 2 つあります。その 2 枚の絵を選んで、それぞれ<青色のクーピーで○>をつけましょう。では、クーピー

を持って、始めてください。(20秒) はい、そこまでにしてください。

(設問⑤)


左側に⑤と書いてある四角を見てください。この中で「きゃ・きゅ・きょ」「ちゃ・ちゅ・ちょ」のように名前の中に小さな「や・ゆ・よ」が入っている野菜が1つあります。その野菜の絵を選んで、それぞれ<青色のクーピーで○>をつけましょう。では、クーピーを持って、始めてください。(15秒) はい、そこまでにしてください。

(設問⑥)

左側に⑥と書いてある四角を見てください。この中で「こっぷ」「ばっと」のように名前の中に小さな「つ」があり、つまる音が入っている野菜が1つあります。その野菜の絵を選んで、それぞれ<青色のクーピーで○>をつけましょう。では、クーピーを持って、始めてください。(15秒) はい、そこまでにしてください。

(正解) 10点満点

設問①・②：下図参照 ※青色のクーピーで記入/各1点・計6点



設問④：ハクサイとダイコンに青色のクーピーで○/各1点・計2点

設問⑤：カボチャに青色のクーピーで○/1点

設問⑥：ブロッコリーに青色のクーピーで○/1点

5枚目-推理 A

(設問①～④) ※お手本問題あり

左側に①と書いてある四角を見てください。男の子が大きな四角い箱を転がしていきます。階段のところでは箱を一回カタンと倒して落とすように運んでいくと、1段ずつ箱の向きが変わって、箱の模様が変わって見えます。このとき、○と△の記号のところには、模様がどんな向きで見えるかを考えて、正しいものを右の4つの中から選んで<緑色のクーピーで>記号をつけます。階段にある○の箱の模様は、右の箱に○をつけましょう。階段にある△の箱の模様は、右の箱に△をつけましょう。①の問題が終わったら、④の問題まで続けてやりましょう。では、クーピーを持って、始めてください。(120秒) はい、そこまでにしてください。

(設問⑤)

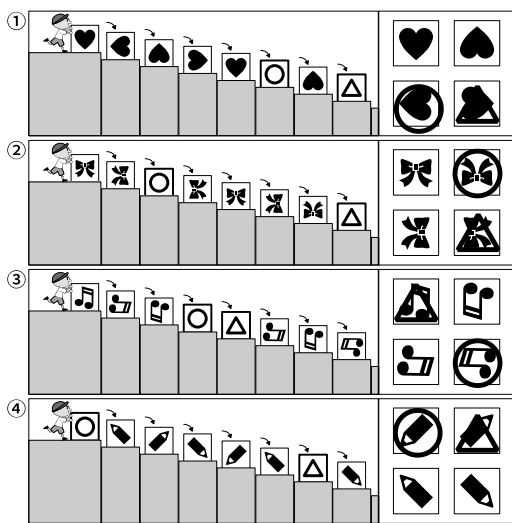
左側に⑤と書いてある四角を見てください。5つの蚊取り線香に同時に火をつけました。1番最初に燃え終わるものを選んで<緑色のクーピーで○>をつけましょう。では、クーピーを持って、始めてください。(15秒)はい、そこまでにしてください。

(設問⑥)

左側に⑥と書いてある四角を見てください。5つの水の入った袋に同時に同じ大きさの針を刺して穴を開けました。最後に袋の中の水が無くなるものを選んで<緑色のクーピーで○>をつけましょう。では、クーピーを持って、始めてください。(15秒)はい、そこまでにしてください。

(正解) 10点満点

設問①～④：下図参照 ※緑色のクーピーで記入/各1点・計8点



設問⑤：真ん中に緑色のクーピーで○/1点

設問⑥：真ん中に緑色のクーピーで○/1点

6枚目-常識 A

(設問①-1～①-8)

左側に①と書いてある太い四角とその下のスポーツの絵を見てください。まず、下の絵は、どれもボールを使っておこなうスポーツです。絵の中に?で囲まれたところがありますね。ここには使うボールが入ります。どのボールを?の場所に入ればよいかを考えて、すぐ下の四角の中に答えを描きます。答えの描き方は上の太い四角の中に約束があります。左の野球ボールは○を、サッカーボールは△を、バスケットボールは◎を、バレーボールは□を、それぞれ<青色のクーピー>でつけます。では、クーピーを持って、始めてください。(120秒)はい、そこまでにしてください。


(設問②)

左側に②と書いてある四角を見てください。たくさんの電化製品が並んでいます。この中で「何かを温めたりすることのできない道具」はどれですか。正しいものを2つ選んで、それぞれ<青色のクーピーで○>をつけましょう。では、クーピーを持って、始めてください。(25秒)はい、そこまでにしてください。



(正解) 10点満点

設問①：下図参照 ※青色のクーピーで記入／各1点・計8点



設問②：掃除機と冷蔵庫に青色のクーピーで○／各1点・計2点