



おうちで、やろう。

Study at home. 小学校受験の家庭学習教材


指示の聞き取り 13

それぞれの設問に答えましょう。


- ① 髪の毛を2つに結んで両手を広げている女の子に○をつけます。
- ② 長ズボンを履いていて、手を後ろで組んでいる女の子に△をつけます。
- ③ 両手を挙げている男の子に○をつけます。
- ④ 髪の毛を耳の上で2つに結んでいる女の子に△をつけます。
- ⑤ スカートを履いていて、髪の毛を結んでいない女の子に○をつけます。

目黒


1




2




3



4



5



※1. このプリントは、しながわ・目黒こどもスクールのウェブサイトでダウンロードができます。無断複写・引用はご遠慮ください。
 ※2. このプリントを活用したオンライン授業のスケジュールは、しながわ・目黒こどもスクールのウェブサイトでご確認ください。




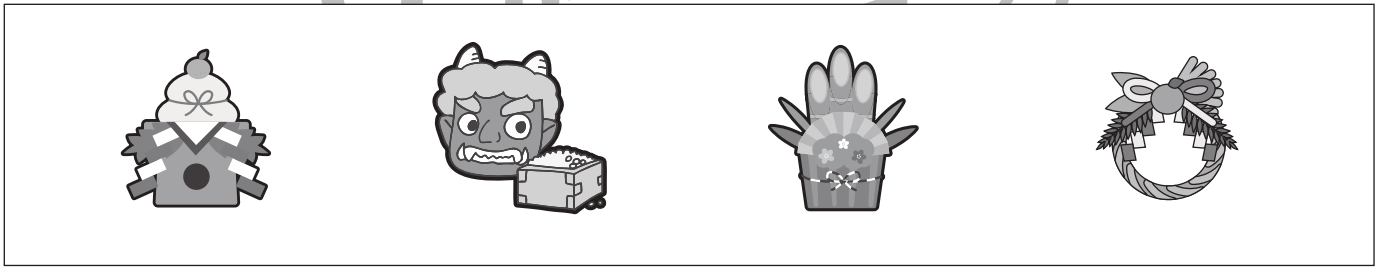
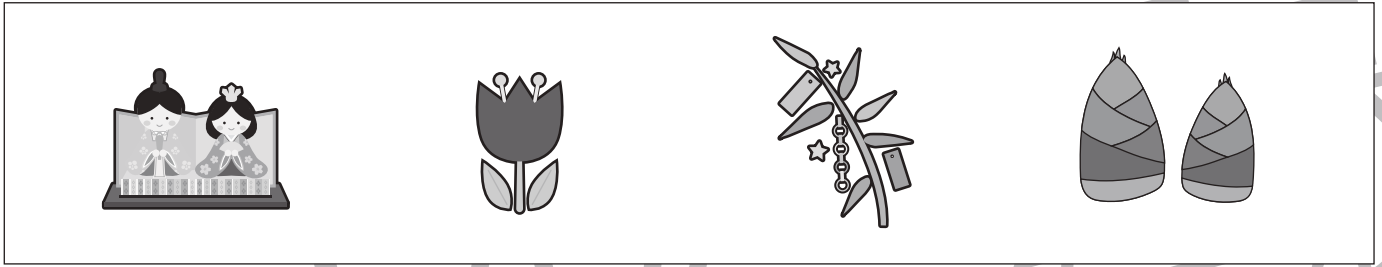


おうちで、やろう。

Study at home. 小学校受験の家庭学習教材

常識：仲間 1

四角の中のうち、仲間外れを1つ見つけて×をつけます。また、どうして仲間外れなのか理由もお話してみましょう。



※1. このプリントは、しながわ・目黒こどもスクールのウェブサイトでダウンロードができます。無断複写・引用はご遠慮ください。

※2. このプリントを活用したオンライン授業のスケジュールは、しながわ・目黒こどもスクールのウェブサイトでご確認ください。





おうちで、やろう。

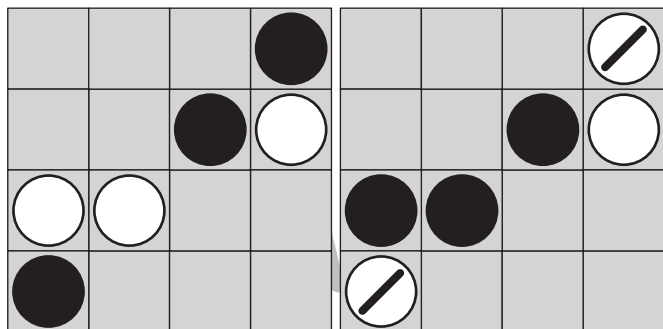
Study at home. 小学校受験の家庭学習教材

図形：オセロ 10

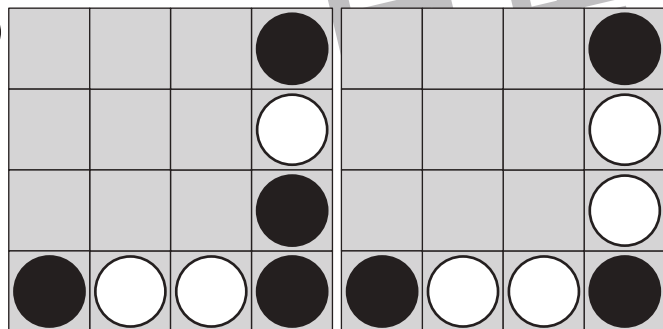
オセロは表と裏にそれぞれ白色と黒色が見えます。白のコマを裏返すと黒色に、黒のコマを裏返すと白色になります。オセロのコマ左側のオセロ盤のように並んでいたコマを、右側のオセロ盤のようにいくつかのコマを裏返しました。色が変わったコマのうち、はじめに（左のオセロ盤では）黒色だったコマだけを選んで、右のオセロ盤のコマに（/）をつけましょう。



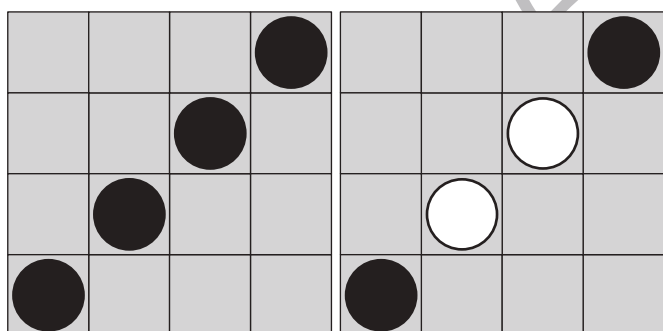
おてほん



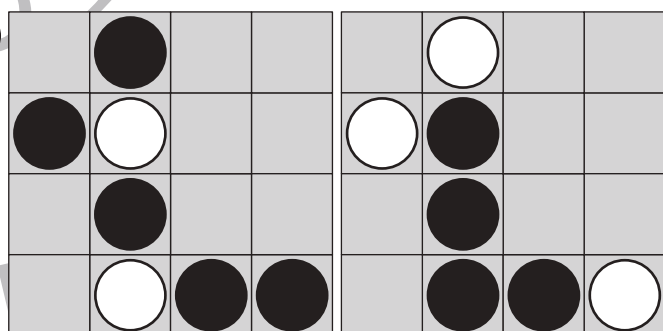
⑤



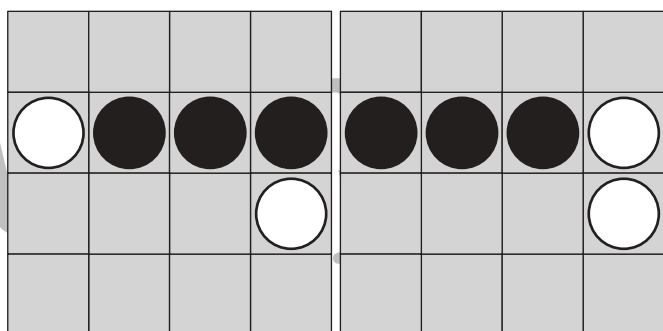
①




⑥



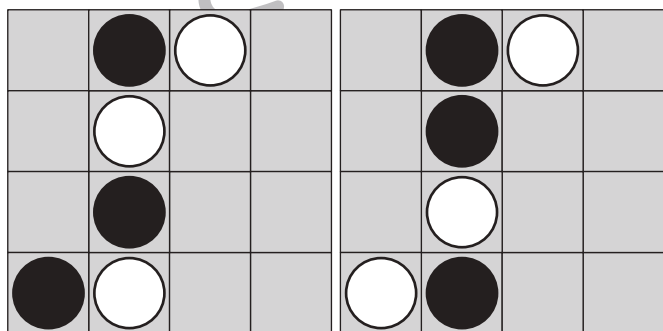
②



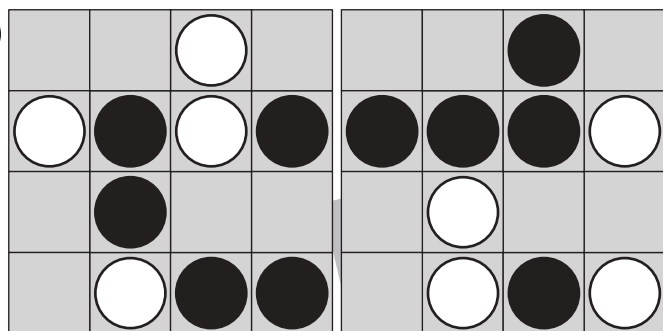
⑦



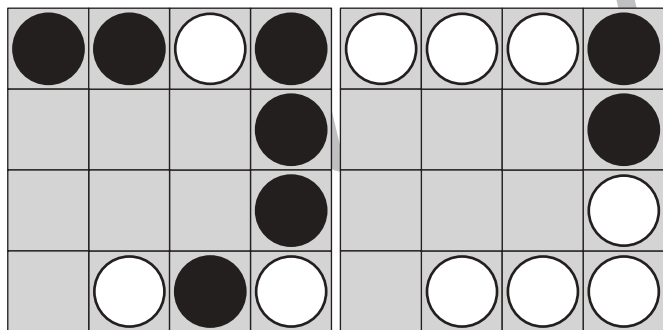
③



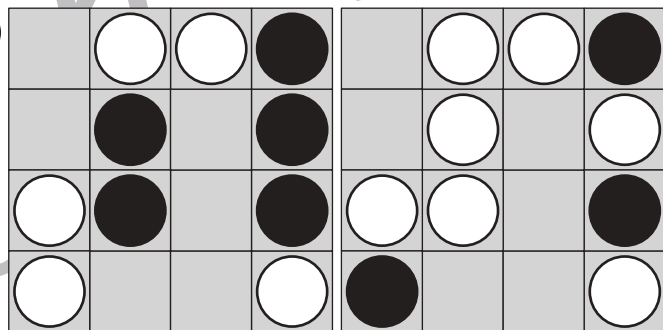
⑧



④



⑨



※1. このプリントは、しながわ・目黒こどもスクールのウェブサイトでダウンロードができます。無断複写・引用はご遠慮ください。
※2. このプリントを活用したオンライン授業のスケジュールは、しながわ・目黒こどもスクールのウェブサイトでご確認ください。





おうちで、やろう。

Study at home. 小学校受験の家庭学習教材

図形：オセロ 11

オセロは表と裏にそれぞれ白色と黒色が見えます。白のコマを裏返すと黒色に、黒のコマを裏返すと白色になります。オセロのコマ左側のオセロ盤のように並んでいたコマを、右側のオセロ盤のようにいくつかのコマを裏返しました。色が変わったコマのうち、はじめに（左のオセロ盤では）黒色だったコマだけを選んで、右のオセロ盤のコマに（/）をつけましょう。



①

●				●			
●	○			○	●		○
●				○			●
○				●			●

②

			○	●			○	●
			●	○			●	●
●	●			●	○			
●	●			●	●			

③

●	○	○		○	●	●	
●				●			
							○
○	●	○	○	○	●	●	●

④

○			●	●	○		○	●
●				●				○
○				○	●			●
●	●			○	○			●

⑤

	○	○			●	●		
○			●	●	○		○	○
●	●			○	●			●
●	○	○		●	○	○		

⑥

					○			
○	●			○	●			
●			○	○	●		●	●
○	○	●	●	○	○	○	○	●

⑦

	○	●	○		●	○	○
	○	●	●		●	○	●
	●				●		
●	○	●	○	○	●	●	○

⑧

	○	●	○		●	○	●
●		●	●	○		●	○
●	●	○		●	●	○	
●			○	○			○

⑨

○	○		●	○	●		○	
●			●	●	○		○	●
	●		○		●		○	●
○	●	○		○	○	○	○	

⑩

○	●	○	●	○	●	○	○	●
				○				●
○	●	●	●	○	○	○	○	○
●	○			○	○			

※1. このプリントは、しながわ・目黒こどもスクールのウェブサイトダウンロードができます。無断複写・引用はご遠慮ください。

※2. このプリントを活用したオンライン授業のスケジュールは、しながわ・目黒こどもスクールのウェブサイトでご確認ください。



おうちで、やろう。

Study at home. 小学校受験の家庭学習教材

数量：違う数6

ウサギが右に向かってマスを進んでいきます。上の四角の果物のうち、リンゴとみかんの数の違いだけマスを進むことができます。同じ数の場合は進みませんし、他の果物は考えません。四角の中の果物は隣同士を比べるようにします。左から順に考えます。この約束のとき、ウサギが最後に着くマスを考えて、○をつけましょう。

おてほん

1かいめ	2かいめ	3かいめ	4かいめ

3かいめはすすまない

1かいめ	2かいめ				4かいめ						

①

1かいめ	2かいめ	3かいめ	4かいめ

--	--	--	--	--	--	--	--	--	--	--	--

②

1かいめ	2かいめ	3かいめ	4かいめ

--	--	--	--	--	--	--	--	--	--	--	--

③

1かいめ	2かいめ	3かいめ	4かいめ

--	--	--	--	--	--	--	--	--	--	--	--

※1. このプリントは、しながわ・目黒こどもスクールのウェブサイトでダウンロードができます。無断複写・引用はご遠慮ください。
 ※2. このプリントを活用したオンライン授業のスケジュールは、しながわ・目黒こどもスクールのウェブサイトでご確認ください。



おうちで、やろう。

Study at home. 小学校受験の家庭学習教材

数量：違う数7

ウサギが右に向かってマスを進んでいきます。上の四角の果物のうち、リンゴとみかんの数の違いだけマスを進むことができます。同じ数の場合は進みませんし、他の果物は考えません。四角の中の果物は隣同士を比べるようにします。左から順に考えます。この約束のとき、ウサギが最後に着くマスを考えて、○をつけましょう。

①

	1かいめ		2かいめ		3かいめ		4かいめ	

②

③

④

※1. このプリントは、しながわ・目黒こどもスクールのウェブサイトでダウンロードができます。無断複写・引用はご遠慮ください。
 ※2. このプリントを活用したオンライン授業のスケジュールは、しながわ・目黒こどもスクールのウェブサイトでご確認ください。





おうちで、やろう。

Study at home. 小学校受験の家庭学習教材


数量：隠れた数5

右のマスにはいろいろな絵が描いてあります。これは左の太枠の絵の並び方をしたパズルがたくさん合わさってきたものです。この約束のとき、右のマスの中で黒く塗られて隠れているところに何の絵がいくつあるのかを考えます。下の長四角に描かれている絵があといくつ隠れているか、その数だけ〇を描きましょう。


①



②



③



※1. このプリントは、しながわ・目黒こどもスクールのウェブサイトでダウンロードができます。無断複写・引用はご遠慮ください。
※2. このプリントを活用したオンライン授業のスケジュールは、しながわ・目黒こどもスクールのウェブサイトでご確認ください。





おうちで、やろう。

Study at home. 小学校受験の家庭学習教材

数量：隠れた数6


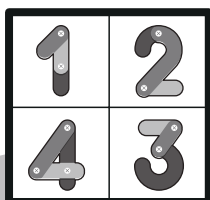
右のマスにはいろいろな絵が描いてあります。これは左の太枠の絵の並び方をしたパズルがたくさん合わさってきたものです。この約束のとき、右のマスの中で黒く塗られて隠れているところに何の絵がいくつあるのかを考えます。下の長四角に描かれている絵があといくつ隠れているか、その数だけ〇を描きましょう。

①





〇

②



2

③



〇

※1. このプリントは、しながわ・目黒こどもスクールのウェブサイトダウンロードができます。無断複写・引用はご遠慮ください。

※2. このプリントを活用したオンライン授業のスケジュールは、しながわ・目黒こどもスクールのウェブサイトでご確認ください。




おうちで、やろう。

Study at home. 小学校受験の家庭学習教材

数量：隠れた数7

右のマスにはいろいろな絵が描いてあります。これは左の太枠の絵の並び方をしたパズルがたくさん合わさってできたものです。この約束のとき、右のマスの中で黒く塗られて隠れているところに何の絵がいくつあるかを考えます。下の長四角に描かれている絵があといくつ隠れているか、その数だけ〇を描きましょう。



①



5

8

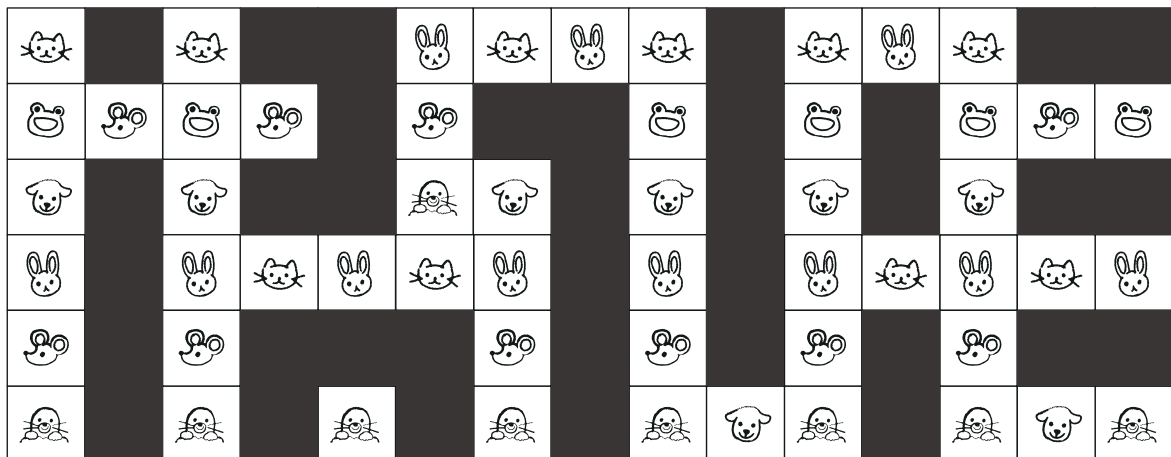

②



flower icon

snowflake icon

③



dog icon

※1. このプリントは、しながわ・目黒こどもスクールのウェブサイトでダウンロードができます。無断複写・引用はご遠慮ください。
※2. このプリントを活用したオンライン授業のスケジュールは、しながわ・目黒こどもスクールのウェブサイトでご確認ください。



おうちで、やろう。

Study at home. 小学校受験の家庭学習教材

処理：模写3

左のマスにある記号を右側のマスの同じ場所に描き写します。もう描いてある記号は描きません。
この問題はスピードを意識して取り組む練習をしてみましょう。(1分30秒～2分)

○							○		
	○							○	
		○							
		○							
	○			△				○	
○			△		△				△
○	○	○	○					○	
				△					
				△					
				△					
□	□	□							△
□			△		△				
□				△					
□	□	□						□	
		□						□	
□	□	□						□	
□				○	○	○			○
□			□						○
□	□	□	□						○



しながわ 目黒 目黒こどもスクール

※1. このプリントは、しながわ・目黒こどもスクールのウェブサイトでダウンロードができます。無断複写・引用はご遠慮ください。
※2. このプリントを活用したオンライン授業のスケジュールは、しながわ・目黒こどもスクールのウェブサイトでご確認ください。