



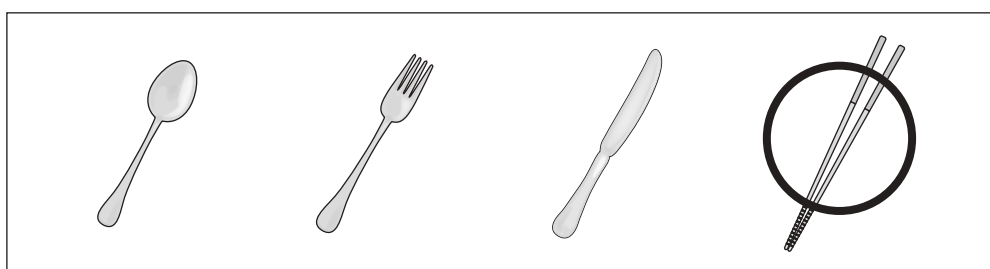


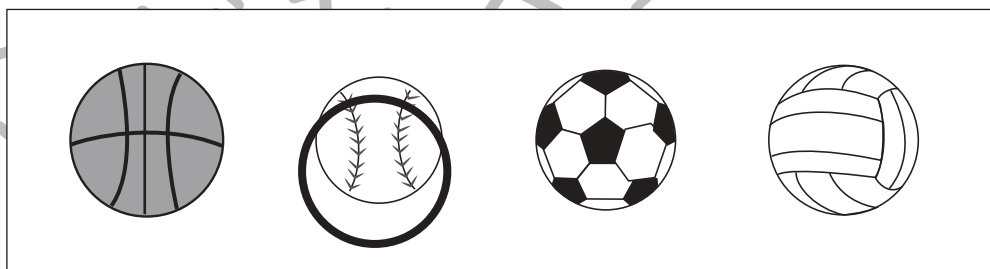
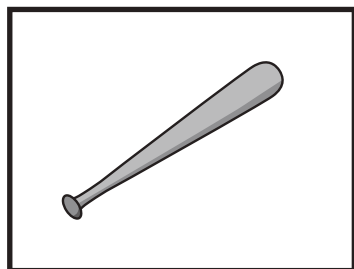
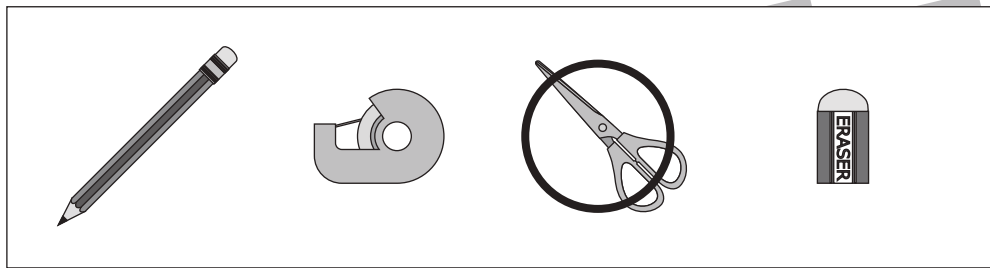



# おうちで、やろう。

Study at home. 小学校受験の家庭学習教材

常識：仲間 2

左の四角の中の仲間を右の四角の中から1つ見つけて○をつけます。



※1. このプリントは、しながわ・目黒こどもスクールのウェブサイトからダウンロードできます。無断複写・引用はご遠慮ください。  
※2. このプリントを活用したオンライン授業のスケジュールは、しながわ・目黒こどもスクールのウェブサイトでご確認ください。










# おうちで、やろう。

Study at home. 小学校受験の家庭学習教材

常識：仲間3

左端と右端の四角の中の絵、両方とも仲間になるものを真ん中の四角の中から見つけて○をつけます。



※1. このプリントは、しながわ・目黒こどもスクールのウェブサイトでダウンロードができます。無断複写・引用はご遠慮ください。  
 ※2. このプリントを活用したオンライン授業のスケジュールは、しながわ・目黒こどもスクールのウェブサイトでご確認ください。




# おうちで、やろう。

Study at home. 小学校受験の家庭学習教材

推理：回転 11

左側のお手本は、四角が合わさってできたパズルです。このパズルはくっついているそれぞれの四角が回転することができます。右側の形は、お手本のパズルを何度か回転させてつくったものです。ところが、ひとつだけお手本のパズルを回転させてもできない形が混ざっています。その形を見つけて○をつけましょう。



--	--	--	--	--	--

--	--	--	--	--	--

--	--	--	--	--	--

--	--	--	--	--	--

--	--	--	--	--	--

--	--	--	--	--	--

※1. このプリントは、しながわ・目黒こどもスクールのウェブサイトでダウンロードができます。無断複写・引用はご遠慮ください。  
※2. このプリントを活用したオンライン授業のスケジュールは、しながわ・目黒こどもスクールのウェブサイトでご確認ください。





# おうちで、やろう。

Study at home. 小学校受験の家庭学習教材

推理：回転 12

左側のお手本は、四角が合わさってできたパズルです。このパズルはくっついているそれぞれの四角が回転することができます。右側の形は、お手本のパズルを何度か回転させてつくったものです。ところが、ひとつだけお手本のパズルを回転させてもできない形が混ざっています。その形を見つけて○をつけましょう。



--	--	--	--	--

--	--	--	--	--

--	--	--	--	--

--	--	--	--	--

※1. このプリントは、しながわ・目黒こどもスクールのウェブサイトでダウンロードができます。無断複写・引用はご遠慮ください。  
※2. このプリントを活用したオンライン授業のスケジュールは、しながわ・目黒こどもスクールのウェブサイトでご確認ください。

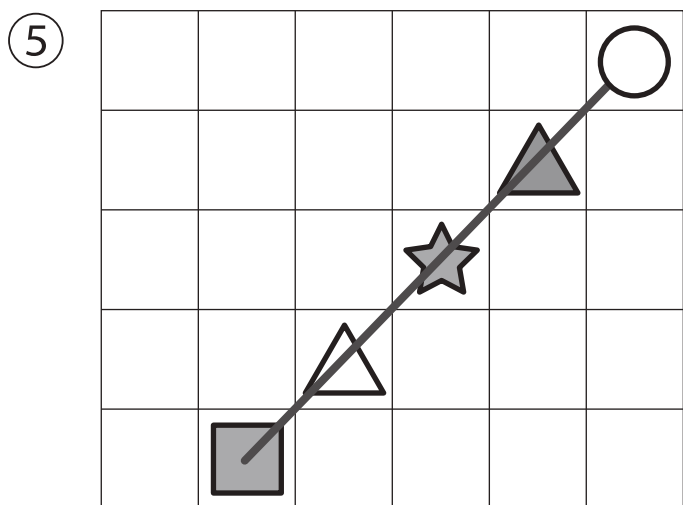
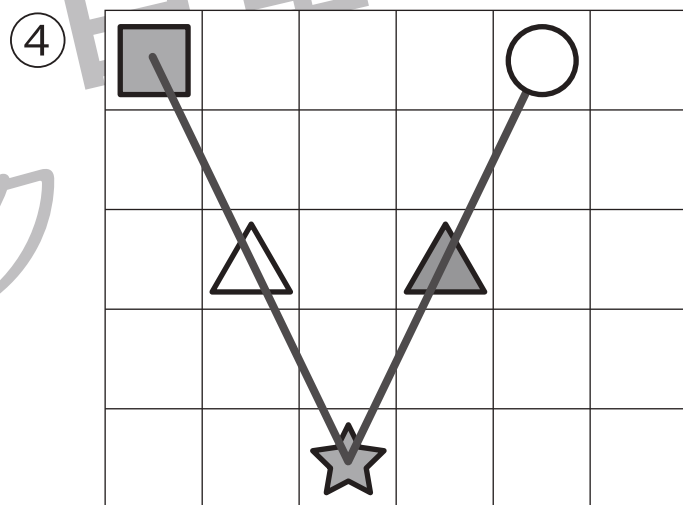
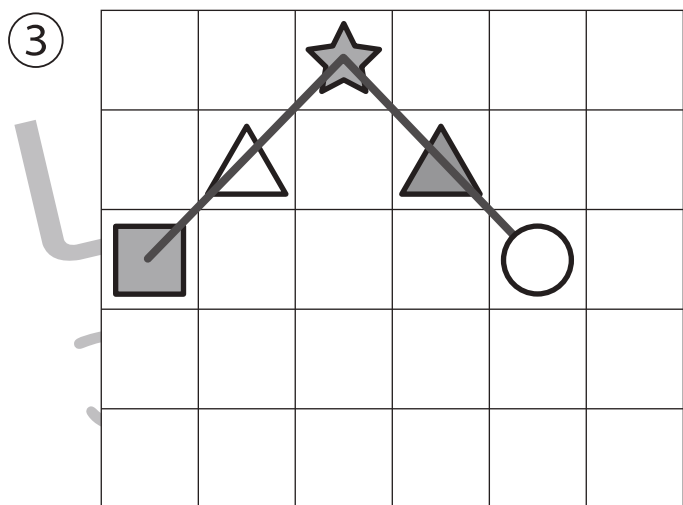
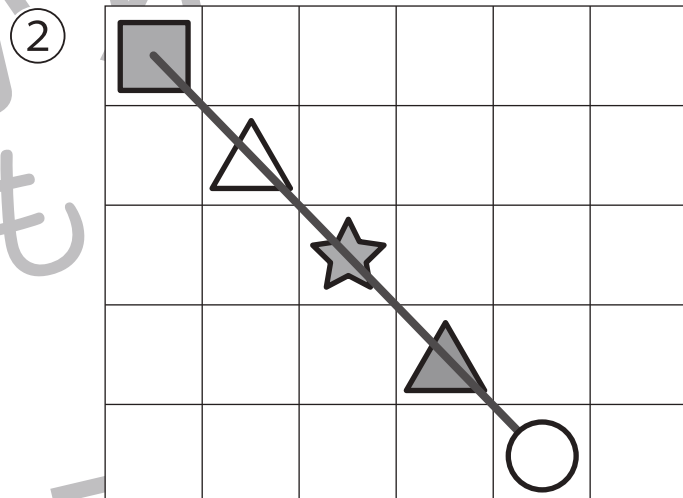
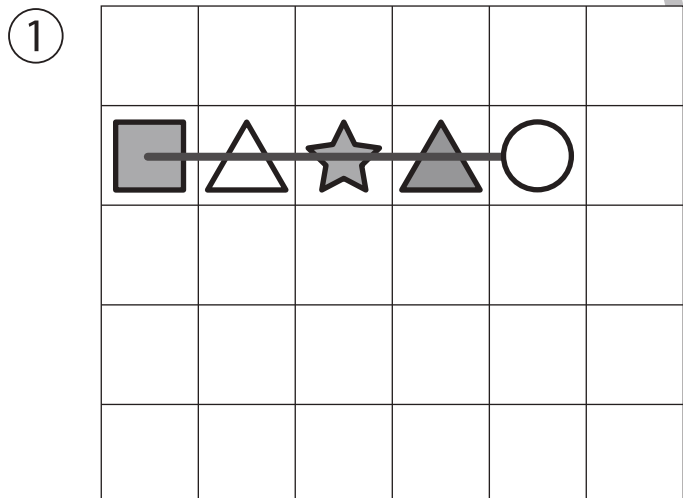


# おうちで、やろう。

Study at home. 小学校受験の家庭学習教材

## 推理：系列完成 15

上のお手本に記号が左から順に決まりよく並んでいます。下のマスにも同じ記号が並んでいますが、○だけがありません。下のマスにもお手本と同じ並び順で○を置く場合、どのマスに○を描けばよいか考えて、正しい場所に必要な数だけ○を描きましょう。



※1. このプリントは、しながわ・目黒こどもスクールのウェブサイトでダウンロードができます。無断複写・引用はご遠慮ください。  
※2. このプリントを活用したオンライン授業のスケジュールは、しながわ・目黒こどもスクールのウェブサイトでご確認ください。

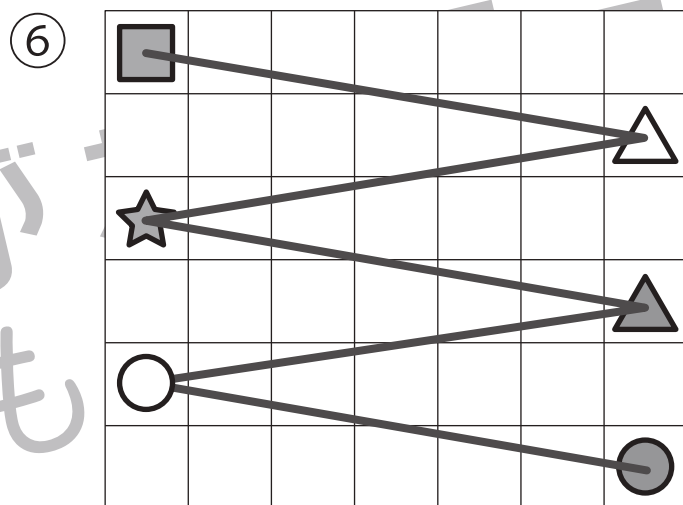
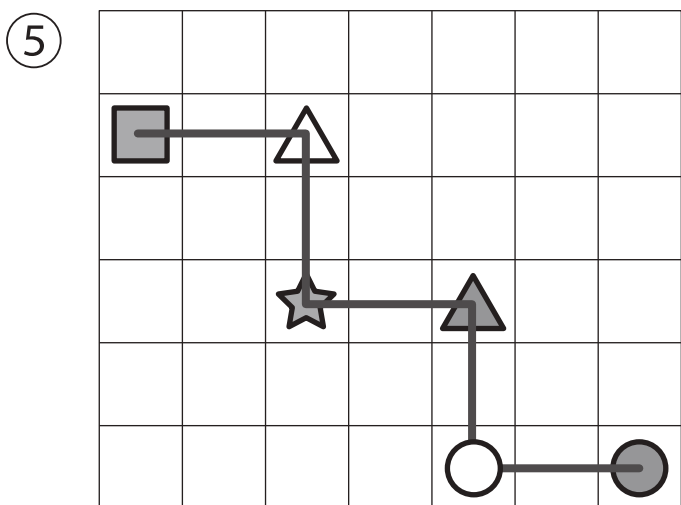
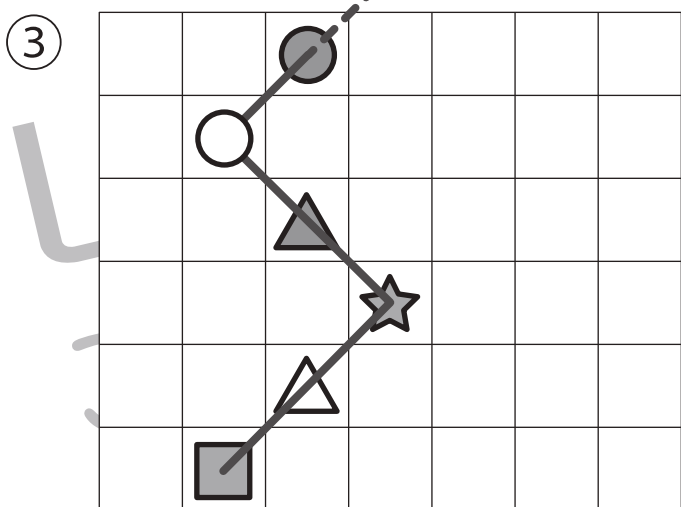
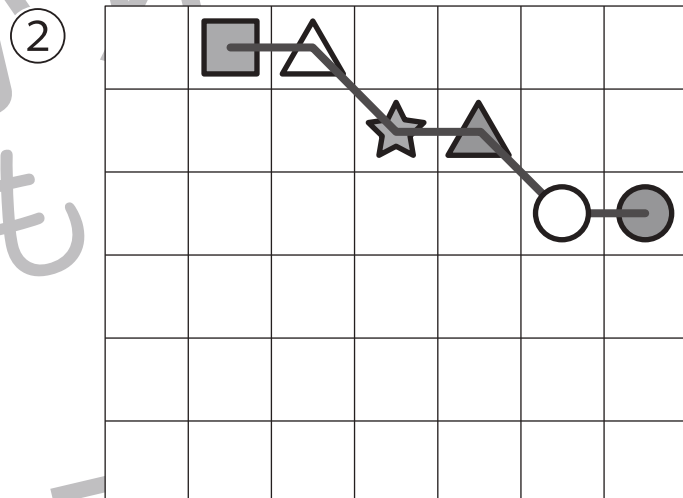
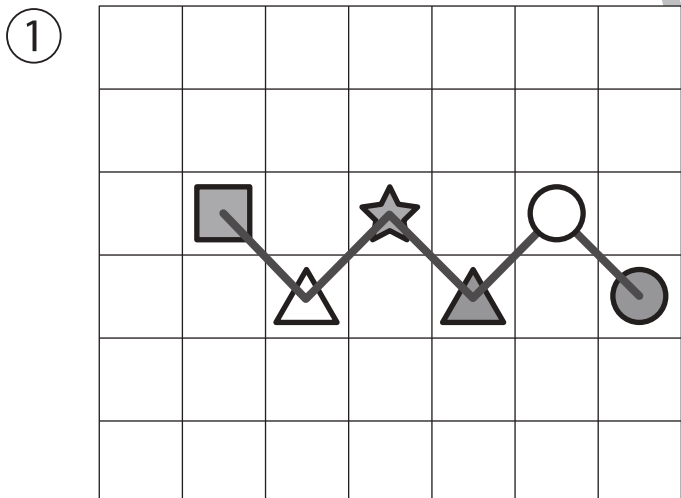


# おうちで、やろう。

Study at home. 小学校受験の家庭学習教材

## 推理：系列完成 16

上のお手本に記号が左から順に決まりよく並んでいます。下のマスにも同じ記号が並んでいます。下のマスにもお手本と同じ並び順で○を置く場合、どのマスに○を描けばよいか考えて、正しい場所に必要な数だけ○を描きましょう。




※1. このプリントは、しながわ・目黒こどもスクールのウェブサイトでダウンロードができます。無断複写・引用はご遠慮ください。  
※2. このプリントを活用したオンライン授業のスケジュールは、しながわ・目黒こどもスクールのウェブサイトでご確認ください。



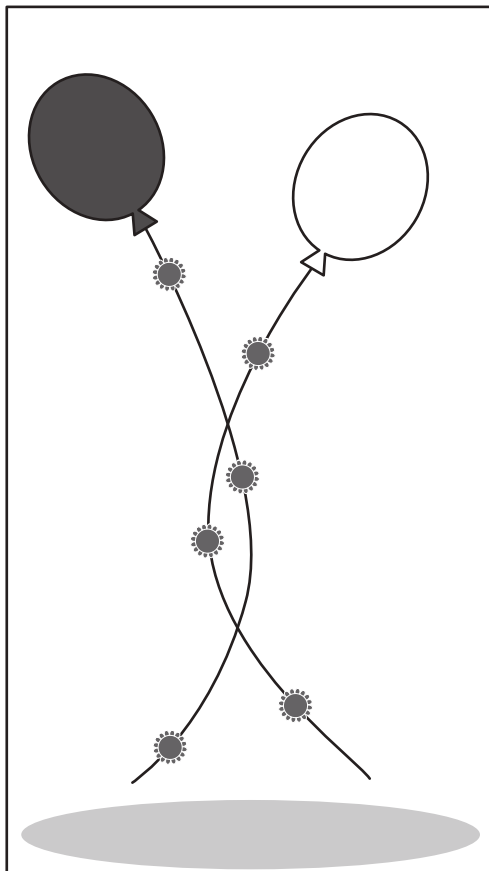
# おうちで、やろう。



Study at home. 小学校受験の家庭学習教材

数量：計数 11

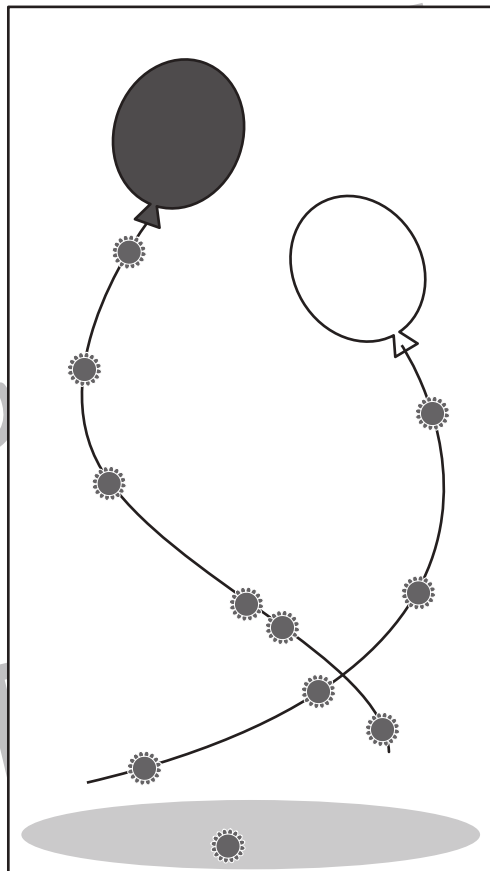
四角の中の風船の紐にはお花  がくっついています。強い風が吹いてきて風船の紐が絡まってしまいました。それぞれの風船にいくつお花がついているかを考えてその数だけ右のマスの中に○をつけましょう。下に落ちているお花は数えません。1マスに○は1つしか描きません。



①



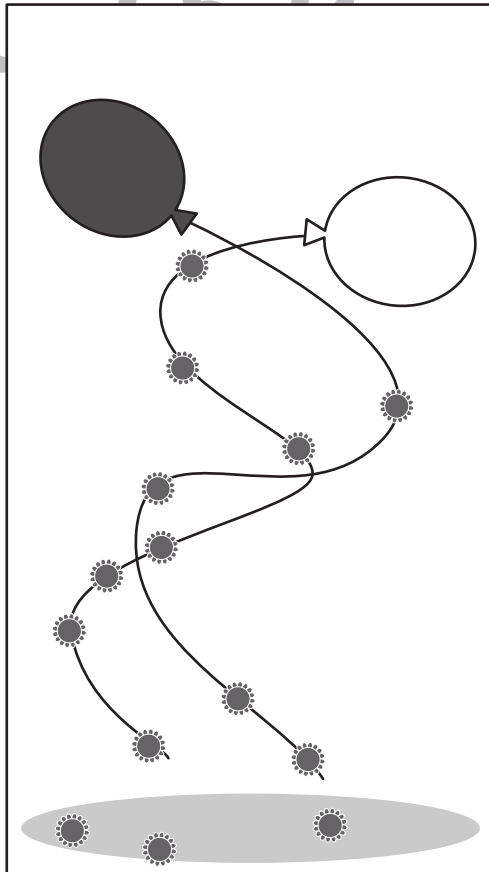
	
○	○
○	○
○	○



②



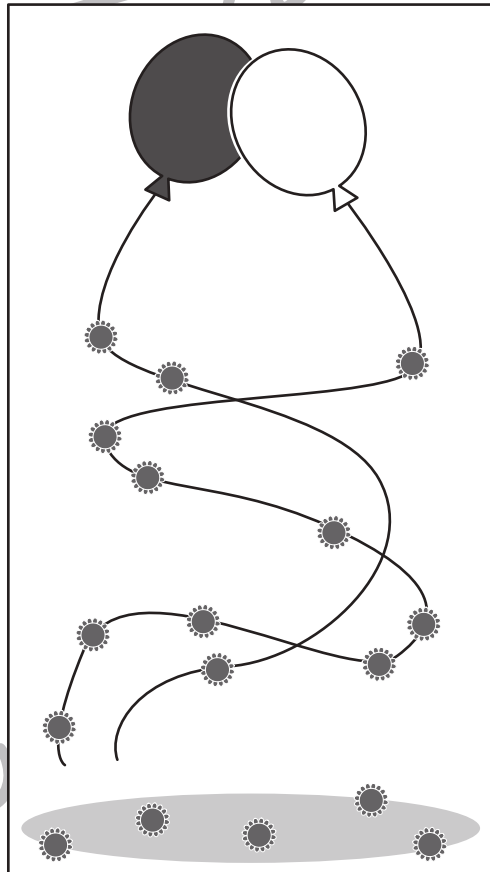
	
○	○
○	○
○	○
○	○
○	
○	



③



	
○	○
○	○
○	○
○	○
	○
	○
	○
	○
	○
	○

④



	
○	○
○	○
○	○
○	○
	○
	○
	○
	○
	○
	○

※1. このプリントは、しながわ・目黒こどもスクールのウェブサイトでダウンロードができます。無断複写・引用はご遠慮ください。


※2. このプリントを活用したオンライン授業のスケジュールは、しながわ・目黒こどもスクールのウェブサイトでご確認ください。



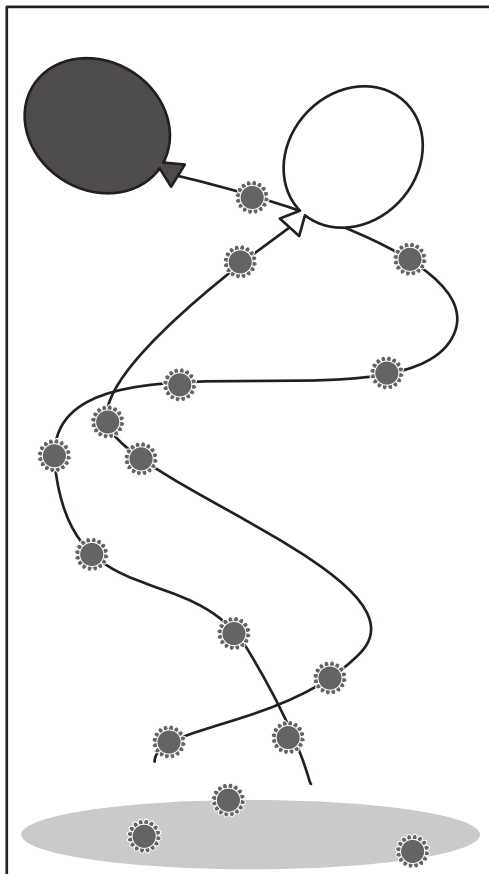
# おうちで、やろう。



Study at home. 小学校受験の家庭学習教材

数量：計数 12

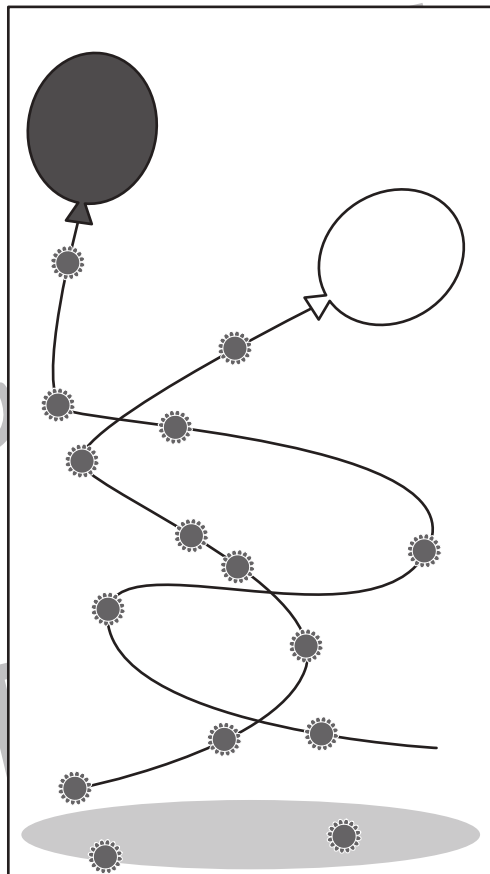
四角の中の風船の紐にはお花  がくっついてます。強い風が吹いてきて風船の紐が絡まってしまいました。それぞれの風船にいくつお花がついているかを考えてその数だけ右のマスの中に○をつけましょう。下に落ちているお花は数えません。1マスに○は1つしか描きません。



①



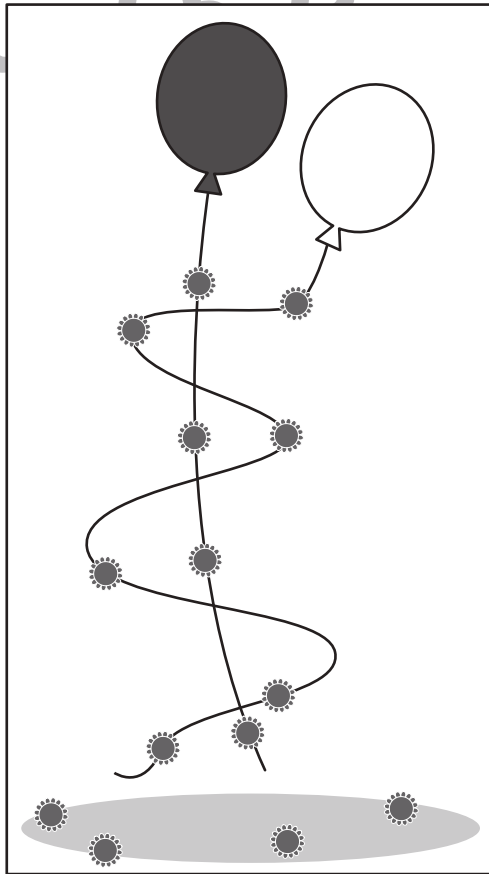
	
○	○
○	○
○	○
○	○
○	○
○	○
○	
○	
○	



②



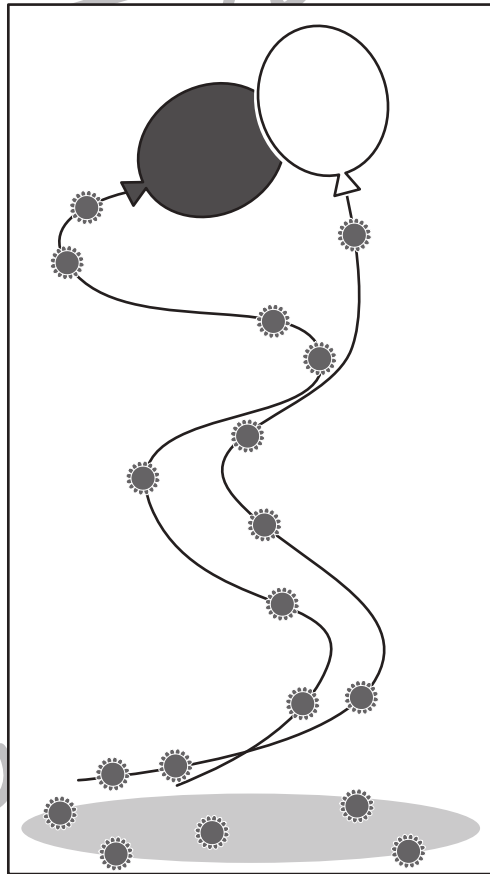
	
○	○
○	○
○	○
○	○
○	○
○	○
○	○
○	○
	○



③



	
○	○
○	○
○	○
○	○
○	○
	○

④



	
○	○
○	○
○	○
○	○
○	○
○	○
○	○
○	○
○	○
○	

※1. このプリントは、しながわ・目黒こどもスクールのウェブサイトでダウンロードができます。無断複写・引用はご遠慮ください。

※2. このプリントを活用したオンライン授業のスケジュールは、しながわ・目黒こどもスクールのウェブサイトでご確認ください。








# おうちで、やろう。

Study at home. 小学校受験の家庭学習教材

## 図形：点図形 28

左上に描かれているダイヤの形 / ひし形と同じものを大きな四角の中にできるだけたくさん描きます。この問題はスピードを意識して取り組む練習をしてみましょう。(目安 1分30秒～2分) ▶<ハイレベ> 3色で隣同士が同じ色にならないように塗りましょう。(ハイレベの時間制限はありません)



※1. このプリントは、しながわ・目黒こどもスクールのウェブサイトからダウンロードできます。無断複写・引用はご遠慮ください。

※2. このプリントを活用したオンライン授業のスケジュールは、しながわ・目黒こどもスクールのウェブサイトでご確認ください。