



# おうちで、やろう。


Study at home. 小学校受験の家庭学習教材

図形：三角パズル 5-1

三角パズルを作ります。

下の四角の黒い線の上をはさみで切り、三角パズルを作ります。

別紙「図形：三角パズル 5-2」の形を切ったパズルを使って作りましょう。



※1. このプリントは、しながわ・目黒こどもスクールのウェブサイトからダウンロードできます。無断複写・引用はご遠慮ください。

※2. このプリントを活用したオンライン授業のスケジュールは、しながわ・目黒こどもスクールのウェブサイトでご確認ください。

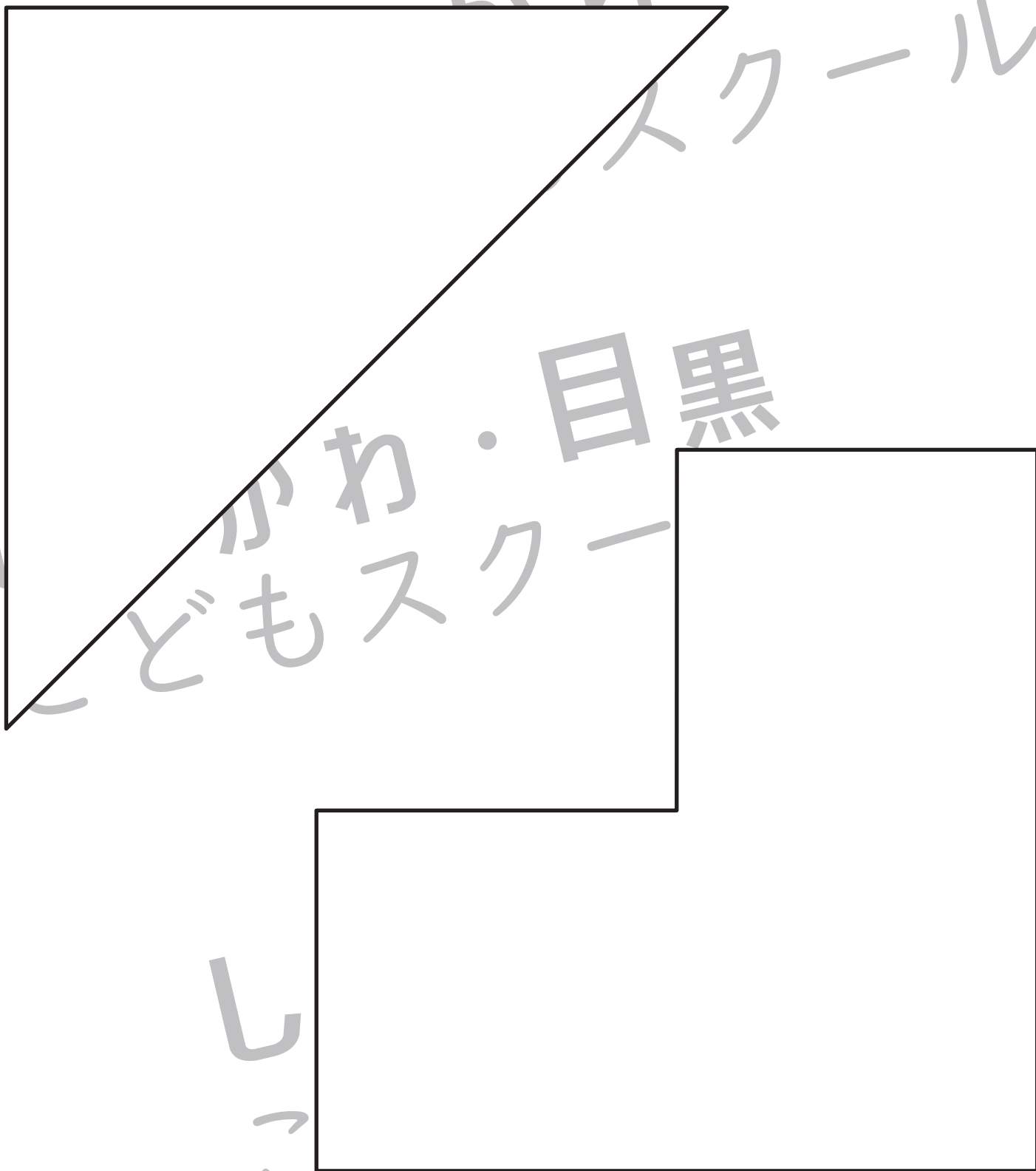


# おうちで、やろう。

Study at home. 小学校受験の家庭学習教材

図形：三角パズル 5-2

※別紙「図形：三角パズル 5-1」の三角パズルを用意してください。  
下の形を自分で作った三角パズルで作ります。形ができたらのりで貼り付けましょう。



※1. このプリントは、しながわ・目黒こどもスクールのウェブサイトでダウンロードができます。無断複写・引用はご遠慮ください。  
※2. このプリントを活用したオンライン授業のスケジュールは、しながわ・目黒こどもスクールのウェブサイトでご確認ください。



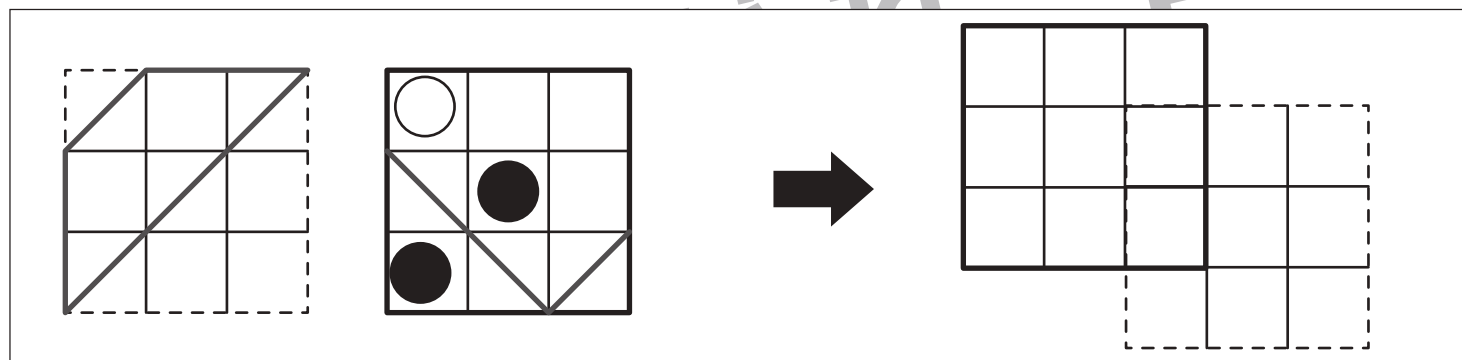
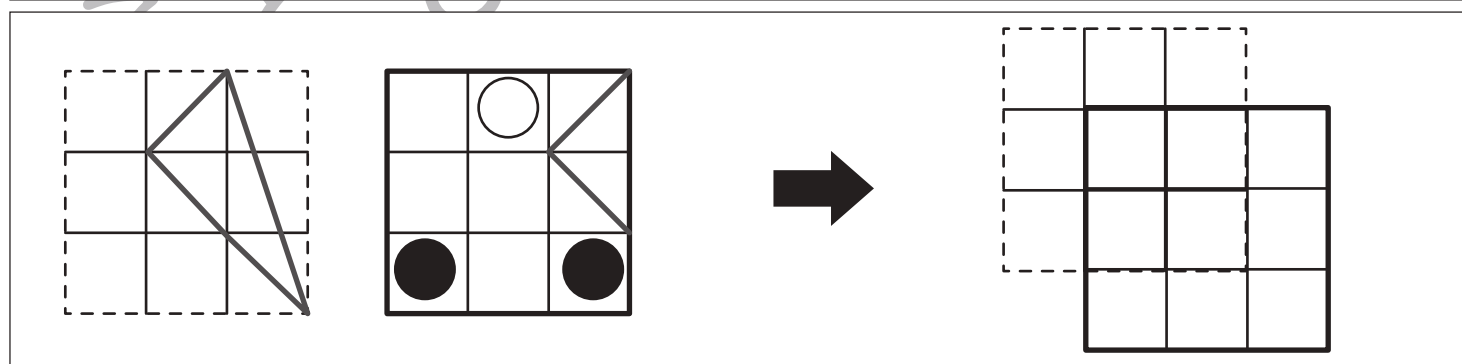
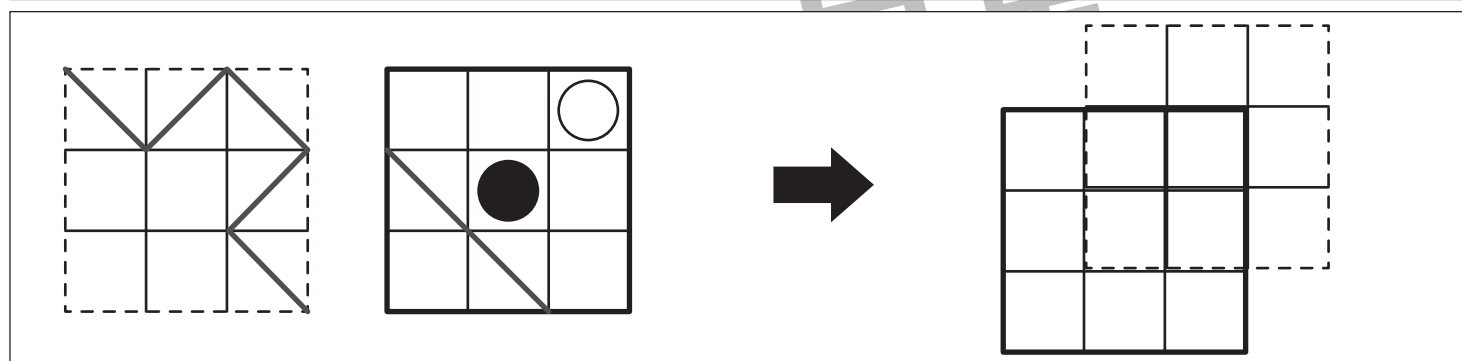
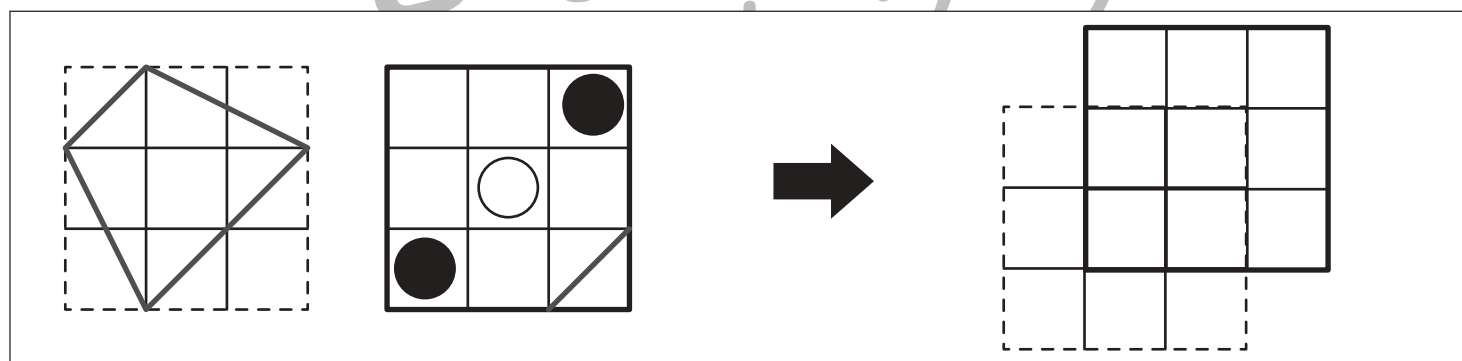
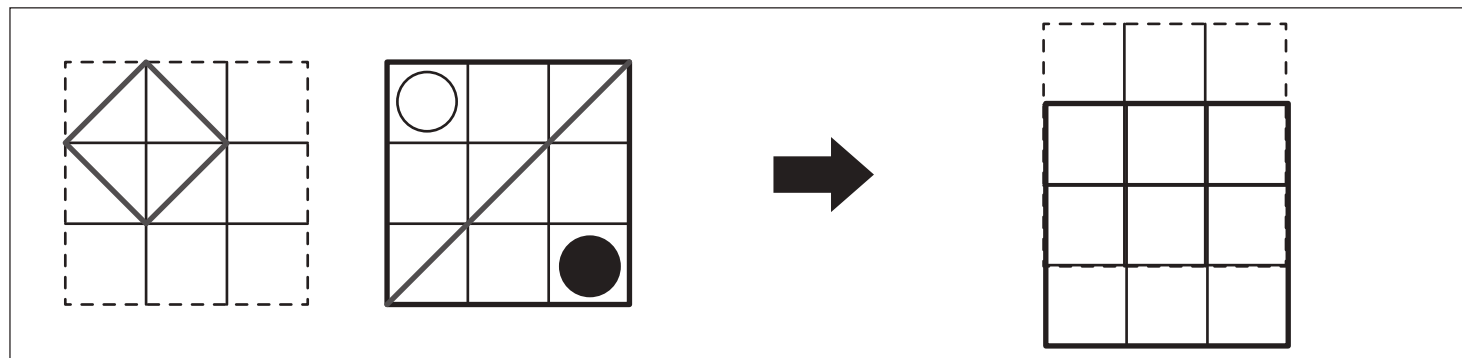
# おうちで、やろう。

Study at home. 小学校受験の家庭学習教材

図形：重ね 27

左の四角は透明な 2 枚の板です。

この 2 枚の板を矢印の右のようにずらして重ねたときの見え方を考えて右の四角に線や形をかきます。



※1. このプリントは、しながわ・目黒こどもスクールのウェブサイトでダウンロードができます。無断複写・引用はご遠慮ください。

※2. このプリントを活用したオンライン授業のスケジュールは、しながわ・目黒こどもスクールのウェブサイトでご確認ください。



# おうちで、やろう。

Study at home. 小学校受験の家庭学習教材

図形：重ね 25

左の四角は透明な 2 枚の板です。

この 2 枚の板を矢印の右のようにずらして重ねたときの見え方を考えて右の四角に○をかきます。

		→	
--	--	---	--

		→	
--	--	---	--

		→	
--	--	---	--

		→	
--	--	---	--

		→	
--	--	---	--

※ 1. このプリントは、しながわ・目黒こどもスクールのウェブサイトでダウンロードができます。無断複写・引用はご遠慮ください。

※ 2. このプリントを活用したオンライン授業のスケジュールは、しながわ・目黒こどもスクールのウェブサイトでご確認ください。



# おうちで、やろう。

Study at home. 小学校受験の家庭学習教材

## 図形：重ね 26

左の四角は透明な 2 枚の板です。

この 2 枚の板を矢印の右のようにずらして重ねたときの見え方を考えて右の四角に○をかきます。

		→	
--	--	---	--

		→	
--	--	---	--

		→	
--	--	---	--

		→	
--	--	---	--

		→	
--	--	---	--

※1. このプリントは、しながわ・目黒こどもスクールのウェブサイトでダウンロードができます。無断複写・引用はご遠慮ください。

※2. このプリントを活用したオンライン授業のスケジュールは、しながわ・目黒こどもスクールのウェブサイトでご確認ください。



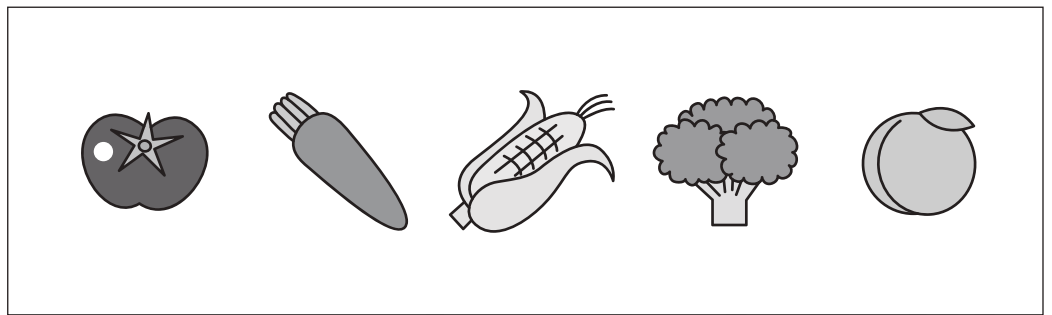







# おうちで、やろう。

Study at home. 小学校受験の家庭学習教材

## 推理：シルエット7

左の太い四角の中には、動物が影になって重なっています。右の四角の中で、左の四角の中にいない動物を見つけて×をつけます。



※1. このプリントは、しながわ・目黒こどもスクールのウェブサイトでダウンロードができます。無断複写・引用はご遠慮ください。

※2. このプリントを活用したオンライン授業のスケジュールは、しながわ・目黒こどもスクールのウェブサイトでご確認ください。

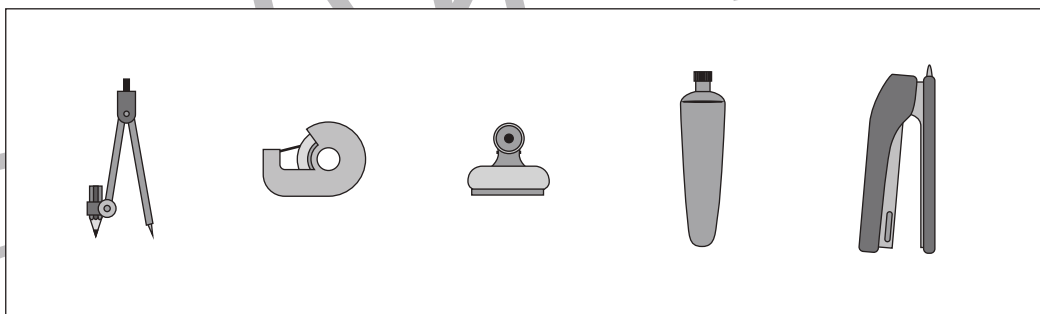



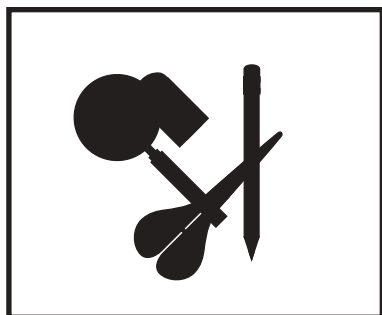
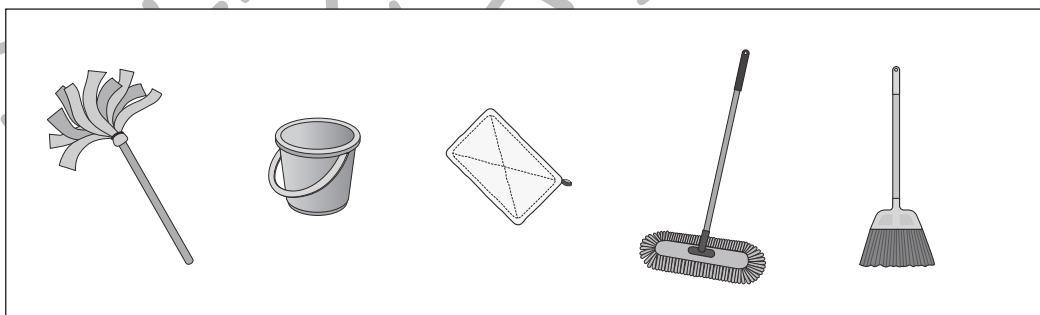
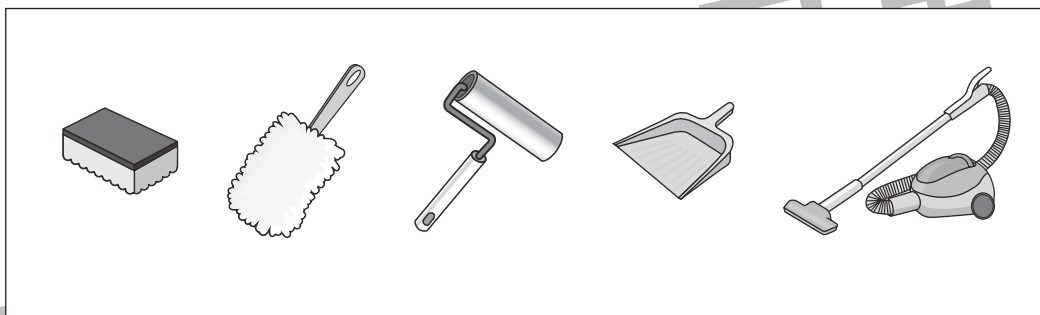


# おうちで、やろう。

Study at home. 小学校受験の家庭学習教材

## 推理：シルエット8

左の太い四角の中には、動物が影になって重なっています。右の四角の中で、左の四角の中にいない動物を見つけて × をつけます。



※1. このプリントは、しながわ・目黒こどもスクールのウェブサイトでダウンロードができます。無断複写・引用はご遠慮ください。  
※2. このプリントを活用したオンライン授業のスケジュールは、しながわ・目黒こどもスクールのウェブサイトでご確認ください。








# おうちで、やろう。

Study at home. 小学校受験の家庭学習教材

推理：水量6

それぞれの四角の中のコップには水が入っています。

それぞれのコップの水を満タンにしたとき、入れた水の量が一番少ないコップに○をつけます。



※1. このプリントは、しながわ・目黒こどもスクールのウェブサイトでダウンロードができます。無断複写・引用はご遠慮ください。

※2. このプリントを活用したオンライン授業のスケジュールは、しながわ・目黒こどもスクールのウェブサイトでご確認ください。












# おうちで、やろう。

Study at home. 小学校受験の家庭学習教材

推理：水量7

それぞれの四角の中のコップには水が入っています。

それぞれのコップの水を満タンにしたとき、入れた水の量が一番多いコップに○をつけます。





※1. このプリントは、しながわ・目黒こどもスクールのウェブサイトからダウンロードできます。無断複写・引用はご遠慮ください。

※2. このプリントを活用したオンライン授業のスケジュールは、しながわ・目黒こどもスクールのウェブサイトでご確認ください。



- ①点線をはさみで切ります。
- ②それぞれの絵の太い線の上をちぎりましょう。





おうちで、やろう。

Study at home. 小学校受験の家庭学習教材

巧緻性：ちぎり4

①点線をはさみで切ります。

②それぞれの絵の太い線の上をちぎりましょう。



※1. このプリントは、しながわ・目黒こどもスクールのウェブサイトでダウンロードができます。無断複写・引用はご遠慮ください。

※2. このプリントを活用したオンライン授業のスケジュールは、しながわ・目黒こどもスクールのウェブサイトでご確認ください。

