



おうちで、やろう。

Study at home. 小学校受験の家庭学習教材

指示の聞き取り 14

下記の問題に答え線をきれいに素早くなぞりましょう。

- ①一番長い線を緑で、一番短い線を青でなぞります。 ②2番目に長い線を茶色で、2番目に短い線を黒でなぞります。
③一番長いと一番短い線は赤で、同じ長さの線は鉛筆でなぞります。

①

②

③



おうちで、やろう。

Study at home. 小学校受験の家庭学習教材

常識：なぞなぞ5

①～⑤の問題を聞いて、下の四角の中から正しいものを選びます。


①私は火事の時に活躍する乗り物です。赤い体をしています。私に○をつけてください。

②私に乗る人は警察官です。事件や事故があるとサイレンを鳴らして走ります。私に△をつけてください。

③私の体は赤と白です。病気やケガをした人を病院まで運びます。私に□をつけてください。

④私はタイヤが2つあります。人の力を借りて進むことができます。私に◎をつけてください。

⑤私は空を飛ぶことができます。火で温めた空気で空を飛ぶことができます。私に×をつけてください。



※1. このプリントは、しながわ・目黒こどもスクールのウェブサイトでダウンロードができます。無断複写・引用はご遠慮ください。

※2. このプリントを活用したオンライン授業のスケジュールは、しながわ・目黒こどもスクールのウェブサイトでご確認ください。






おうちで、やろう。

Study at home. 小学校受験の家庭学習教材

常識：生き物 3

- ①虫の数を数えてその数だけ下の①の四角に○をかきます。
- ②赤ちゃんで生まれてくる動物の数だけ下の②の四角に○をかきます。
- ③鳥の数だけ下の③の四角に○をかきます。
- ④空を飛ぶことができない鳥の数だけ下の④の四角の中に○をかきます。



①	
②	
③	
④	

※1. このプリントは、しながわ・目黒こどもスクールのウェブサイトでダウンロードができます。無断複写・引用はご遠慮ください。
 ※2. このプリントを活用したオンライン授業のスケジュールは、しながわ・目黒こどもスクールのウェブサイトでご確認ください。

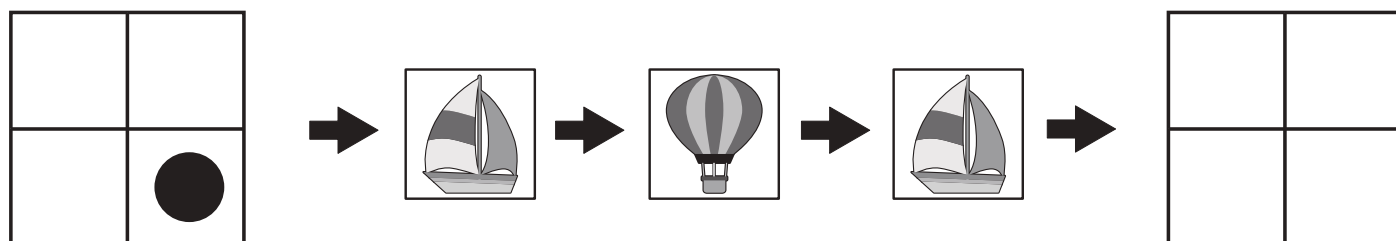
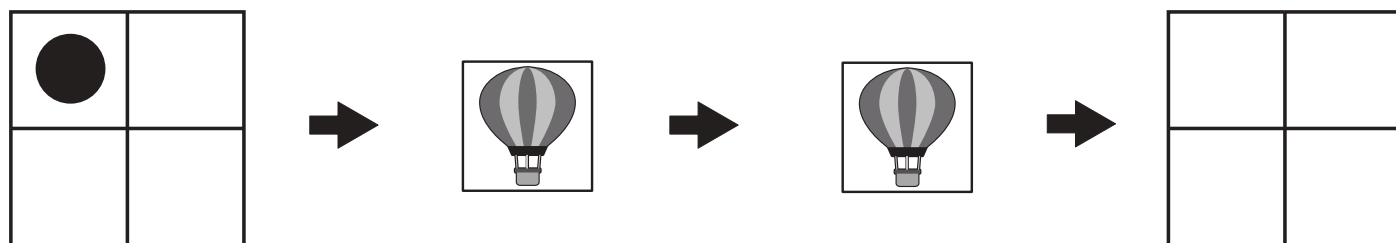
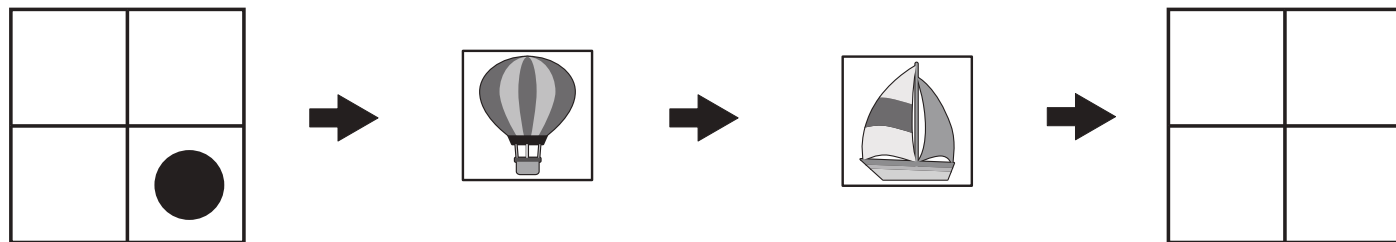
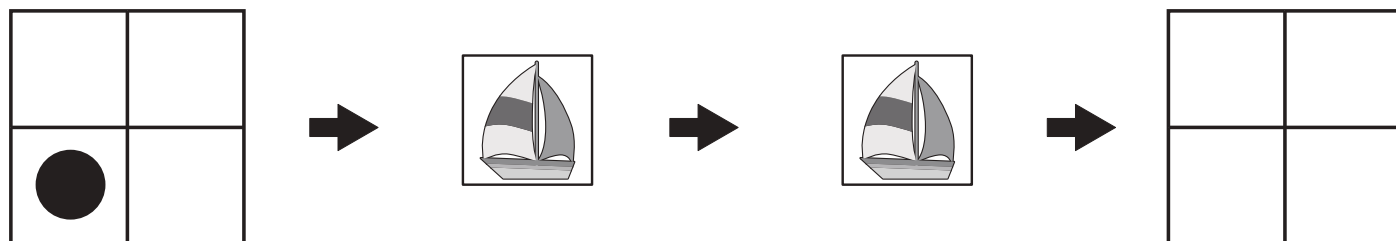
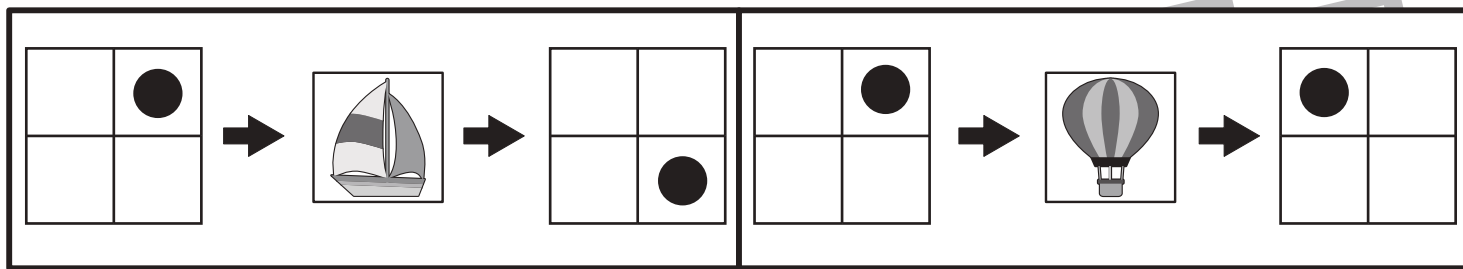


おうちで、やろう。

Study at home.

推理：ブラックボックス9

上の太い四角の中が約束です。乗り物の箱の中に左の四角を入れると●がマスの中を回って移動し右の四角のようになって出てきます。このお約束で左にある四角を矢印の順番に箱の中に入れいき、最後に出てきた四角の●の位置を考えて、右の四角に●をかきます。



※1. このプリントは、しながわ・目黒こどもスクールのウェブサイトでダウンロードができます。無断複写・引用はご遠慮ください。
※2. このプリントを活用したオンライン授業のスケジュールは、しながわ・目黒こどもスクールのウェブサイトでご確認ください。

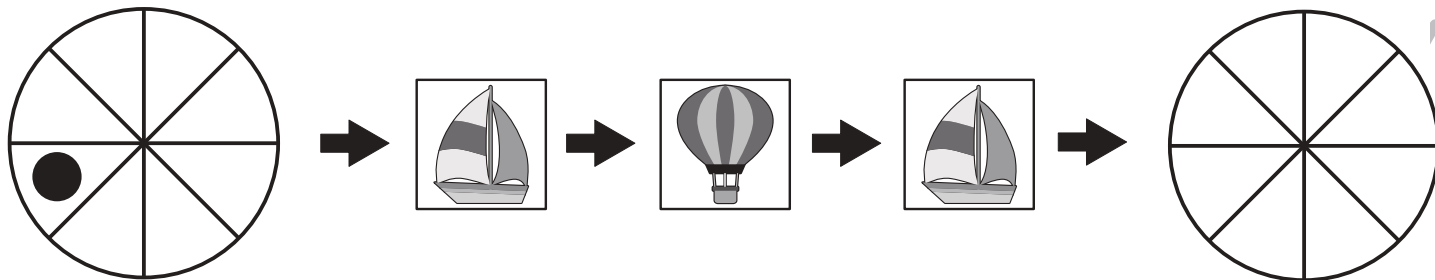
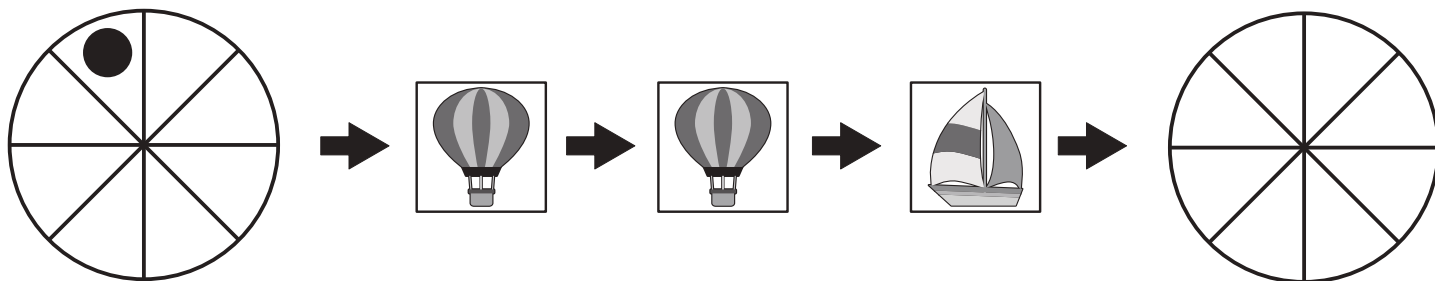
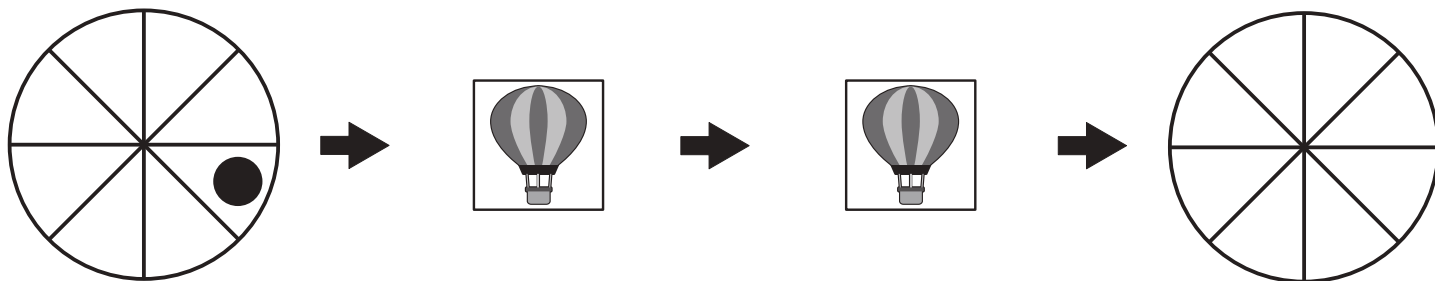
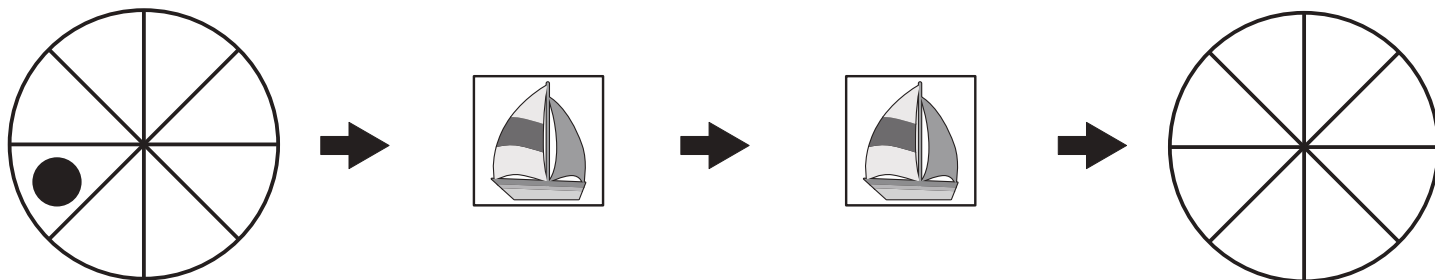
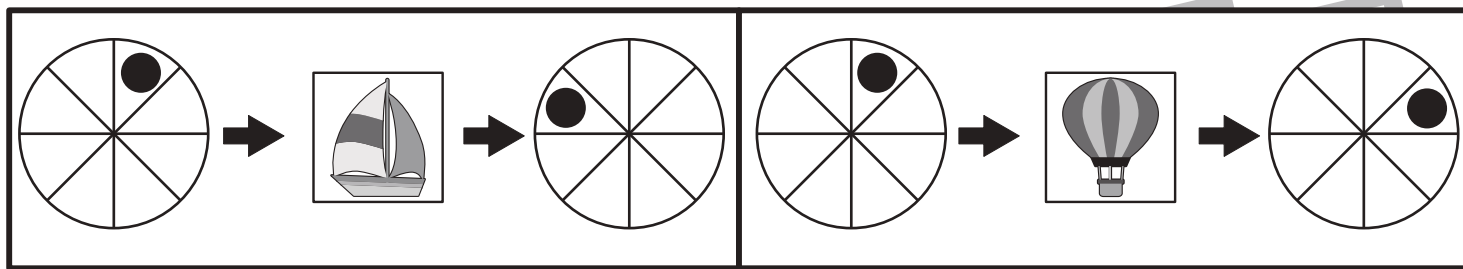


おうちで、やろう。

Study at home.

推理：ブラックボックス 10

上の太い四角の中が約束です。乗り物の箱の中に左の丸を入れると●がマスの中を回って移動し右の丸のようになって出てきます。このお約束で左にある丸を矢印の順番に箱の中に入れいき、最後に出てきた丸の●の位置を考えて、右の丸にかきます。



※1. このプリントは、しながわ・目黒こどもスクールのウェブサイトでダウンロードができます。無断複写・引用はご遠慮ください。

※2. このプリントを活用したオンライン授業のスケジュールは、しながわ・目黒こどもスクールのウェブサイトでご確認ください。



おうちで、やろう。

Study at home.

推理：ブラックボックス 11

上の太い四角の中が約束です。乗り物の箱の中に左の丸を入れると●がマスの中を回って移動し右の丸のようになって出てきます。このお約束で左にある丸を矢印の順番に箱の中に入れいき、最後に出てきた丸の●の位置を考えて、右の丸にかきます。

	→		→	
	→		→	
	→		→	
	→		→	

→ → →

→ → → →

→ → → →

→ → → → →

※1. このプリントは、しながわ・目黒こどもスクールのウェブサイトでダウンロードができます。無断複写・引用はご遠慮ください。
 ※2. このプリントを活用したオンライン授業のスケジュールは、しながわ・目黒こどもスクールのウェブサイトでご確認ください。




おうちで、よろう。

Study at home. 小学校受験の家庭学習教材

推理：左右3

①右手を挙げている人に○をつけます。 ②左手を挙げている人に○をつけます。



※1. このプリントは、しながわ・目黒こどもスクールのウェブサイトダウンロードができます。無断複写・引用はご遠慮ください。
 ※2. このプリントを活用したオンライン授業のスケジュールは、しながわ・目黒こどもスクールのウェブサイトでご確認ください。



おうちで、やろう。

Study at home. 小学校受験の家庭学習教材

数量：同数5

左の四角がお手本です。

右の4つの四角のうち、お手本と同じ数の四角に○をつけます。

※1. このプリントは、しながわ・目黒こどもスクールのウェブサイトでダウンロードができます。無断複写・引用はご遠慮ください。

※2. このプリントを活用したオンライン授業のスケジュールは、しながわ・目黒こどもスクールのウェブサイトでご確認ください。



おうちで、やろう。

Study at home. 小学校受験の家庭学習教材

数量：同数6

左の四角がお手本です。

右の4つの四角のうち、お手本と同じ数の四角に○をつけます。

※1. このプリントは、しながわ・目黒こどもスクールのウェブサイトでダウンロードができます。無断複写・引用はご遠慮ください。

※2. このプリントを活用したオンライン授業のスケジュールは、しながわ・目黒こどもスクールのウェブサイトでご確認ください。



おうちで、やろう。

Study at home. 小学校受験の家庭学習教材

図形：点図形 30

左のお手本と同じになるように右の四角に足りない線をかきます。 ※このプリントに解答はありません。

※1. このプリントは、しながわ・目黒こどもスクールのウェブサイトでダウンロードができます。無断複写・引用はご遠慮ください。
 ※2. このプリントを活用したオンライン授業のスケジュールは、しながわ・目黒こどもスクールのウェブサイトでご確認ください。