



# おうちで、やろう。

Study at home. 小学校受験の家庭学習教材

## 図形：折り紙4

裏が灰色になっている折り紙を、点線のところで矢印の方向に折って重ねるとどのように見えるか考えて、右の四角から選び、○をつけます。


※1. このプリントは、しながわ・目黒こどもスクールのウェブサイトからダウンロードできます。無断複写・引用はご遠慮ください。

※2. このプリントを活用したオンライン授業のスケジュールは、しながわ・目黒こどもスクールのウェブサイトでご確認ください。



# おうちで、やろう。

Study at home. 小学校受験の家庭学習教材

## 図形：折り紙5

裏が灰色になっている折り紙を、点線のところで矢印の方向に折って重ねるとどのように見えるか考えて、右の四角から選び、○をつけます。


※1. このプリントは、しながわ・目黒こどもスクールのウェブサイトからダウンロードができます。無断複写・引用はご遠慮ください。

※2. このプリントを活用したオンライン授業のスケジュールは、しながわ・目黒こどもスクールのウェブサイトでご確認ください。







# おうちで、やろう。

Study at home. 小学校受験の家庭学習教材

推理：水量 8

それぞれの四角の中のコップには水が入っています。

それぞれのコップの水を満タンにしたとき、入れた水の量が2番目に多いコップに○をつけます。



※1. このプリントは、しながわ・目黒こどもスクールのウェブサイトでダウンロードができます。無断複写・引用はご遠慮ください。

※2. このプリントを活用したオンライン授業のスケジュールは、しながわ・目黒こどもスクールのウェブサイトでご確認ください。










# おうちで、やろう。

Study at home. 小学校受験の家庭学習教材

推理：水量9

それぞれの四角の中のコップには水が入っています。

それぞれのコップの水を満タンにしたとき、入れた水の量が2番目に少ないコップに○をつけます。



※1. このプリントは、しながわ・目黒こどもスクールのウェブサイトでダウンロードができます。無断複写・引用はご遠慮ください。

※2. このプリントを活用したオンライン授業のスケジュールは、しながわ・目黒こどもスクールのウェブサイトでご確認ください。

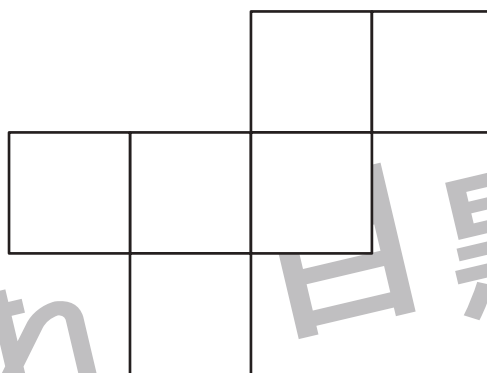
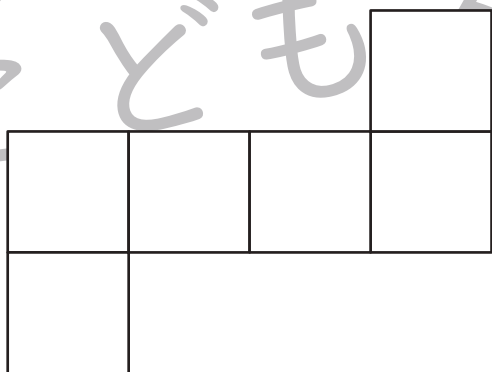
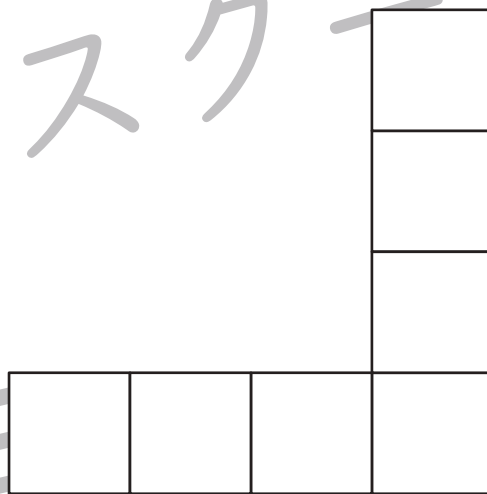
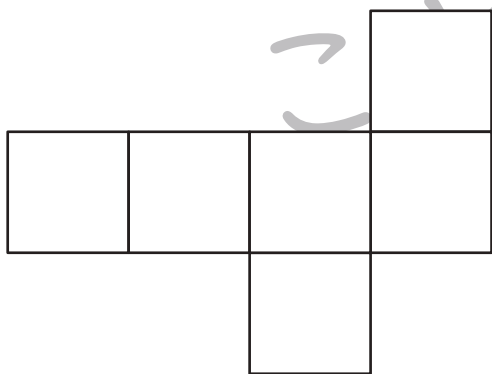
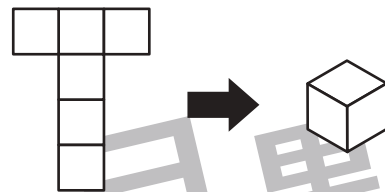


# おうちで、やろう。

Study at home. 小学校受験の家庭学習教材

推理：展開図 4

動物たちがサイコロのような箱の形をつくろうと画用紙を切って線を描きました。できた画用紙を「展開図」と言います。展開図は、黒い線のところで折って、端と端を合わせると箱の形になります。ところが、この中でどんなに上手にやっても箱の形にはならないものがあります。その展開図をつくった動物を選んで、下の大きな四角の動物に○をつけましょう。（正解数を伝えるか否かはお家庭で判断してください）箱の形にならない展開図は1つです。



※1. このプリントは、しながわ・目黒こどもスクールのウェブサイトでダウンロードができます。無断複写・引用はご遠慮ください。  
※2. このプリントを活用したオンライン授業のスケジュールは、しながわ・目黒こどもスクールのウェブサイトでご確認ください。

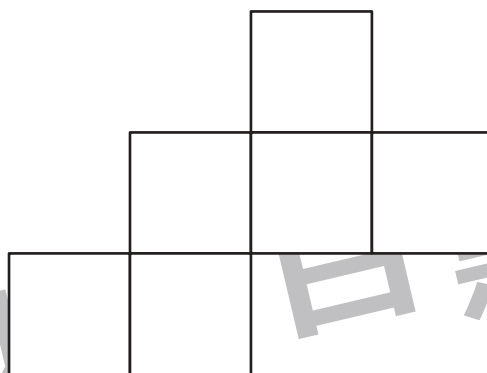





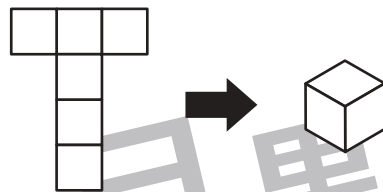


# おうちで、やろう。

Study at home. 小学校受験の家庭学習教材

推理：展開図5

動物たちがサイコロのような箱の形をつくろうと画用紙を切って線を描きました。できた画用紙を「展開図」と言います。展開図は、黒い線のところで折って、端と端を合わせると箱の形になります。ところが、この中でどんなに上手にやっても箱の形にはならないものがあります。その展開図をつくった動物を選んで、下の大きな四角の動物に○をつけましょう。（正解数を伝えるか否かはお家で判断してください）箱の形にならない展開図は1つです。



※1. このプリントは、しながわ・目黒こどもスクールのウェブサイトでダウンロードができます。無断複写・引用はご遠慮ください。  
※2. このプリントを活用したオンライン授業のスケジュールは、しながわ・目黒こどもスクールのウェブサイトでご確認ください。



# おうちで、やろう。

Study at home. 小学校受験の家庭学習教材

数量：分割12

机の上の野菜を袋に同じ数ずつ入れるといくつずつになりますか。その数だけ下のマスに○をつけます。

○	○	○	○	○	○	○					
---	---	---	---	---	---	---	--	--	--	--	--

○	○	○	○	○							
---	---	---	---	---	--	--	--	--	--	--	--

○	○	○									
---	---	---	--	--	--	--	--	--	--	--	--

※1. このプリントは、しながわ・目黒こどもスクールのウェブサイトでダウンロードができます。無断複写・引用はご遠慮ください。  
※2. このプリントを活用したオンライン授業のスケジュールは、しながわ・目黒こどもスクールのウェブサイトでご確認ください。



# おうちで、やろう。

Study at home. 小学校受験の家庭学習教材

数量：分割1 3

机の上の物を袋に同じ数ずつ入れるといくつずつになりますか。その数だけ下のマスに左から○を書きます。  
余った物の数だけは下のマスに右から△を書きます。

○	○	○								△	△	△

○	○									△	△

○	○					△	△	△	△	△	△

※1. このプリントは、しながわ・目黒こどもスクールのウェブサイトでダウンロードができます。無断複写・引用はご遠慮ください。  
 ※2. このプリントを活用したオンライン授業のスケジュールは、しながわ・目黒こどもスクールのウェブサイトでご確認ください。