



おうちで、やろう。




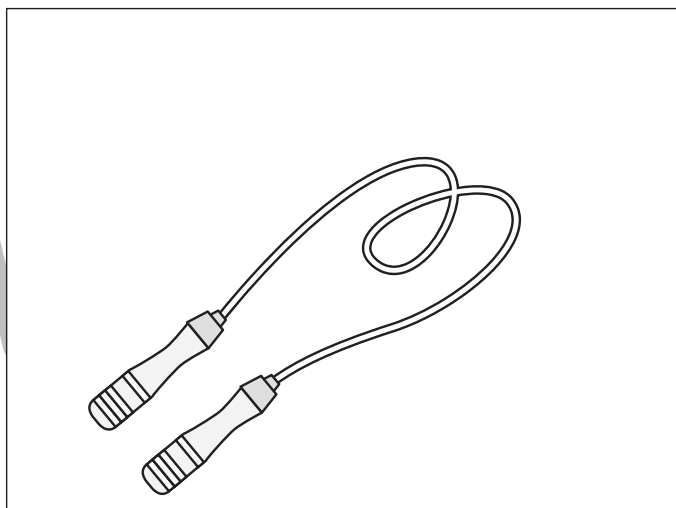


Study at home. 小学校受験の家庭学習教材

推理：いろいろな形 1

それぞれの四角にはいろいろな絵があります。

太い四角の中はどんな絵や形になると思いますか。自分で考えて四角の中に絵や形をかきます。

※解答は一例です。いろいろな形や絵が考えられるので、お子さまと一緒に考えてみてください。



※1. このプリントは、しながわ・目黒こどもスクールのウェブサイトからダウンロードできます。無断複写・引用はご遠慮ください。

※2. このプリントを活用したオンライン授業のスケジュールは、しながわ・目黒こどもスクールのウェブサイトでご確認ください。



おうちで、やろう。

Study at home. 小学校受験の家庭学習教材

数量：計数 14

左のお手本の数より3つ多い四角を右の四角の中から選んで○をつけます。

※1. このプリントは、しながわ・目黒こどもスクールのウェブサイトからダウンロードできます。無断複写・引用はご遠慮ください。

※2. このプリントを活用したオンライン授業のスケジュールは、しながわ・目黒こどもスクールのウェブサイトでご確認ください。



おうちで、やろう。

Study at home. 小学校受験の家庭学習教材

数量：計数 15

左のお手本の数より4つ少ない四角を右の四角の中から選んで○をつけます。

※1. このプリントは、しながわ・目黒こどもスクールのウェブサイトでダウンロードができます。無断複写・引用はご遠慮ください。

※2. このプリントを活用したオンライン授業のスケジュールは、しながわ・目黒こどもスクールのウェブサイトでご確認ください。



おうちで、やろう。

Study at home. 小学校受験の家庭学習教材

数量：計数 16

左のお手本の数より○が2つ多く、●が1つ多い四角を右の四角の中から選んで○をつけます。

※1. このプリントは、しながわ・目黒こどもスクールのウェブサイトでダウンロードができます。無断複写・引用はご遠慮ください。

※2. このプリントを活用したオンライン授業のスケジュールは、しながわ・目黒こどもスクールのウェブサイトでご確認ください。



おうちで、やろう。

Study at home. 小学校受験の家庭学習教材

数量：計数 17

左のお手本の数より○が1つ少なく、●が2つ多い四角を右の四角の中から選んで○をつけます。

※1. このプリントは、しながわ・目黒こどもスクールのウェブサイトでダウンロードができます。無断複写・引用はご遠慮ください。

※2. このプリントを活用したオンライン授業のスケジュールは、しながわ・目黒こどもスクールのウェブサイトでご確認ください。









おうちで、やろう。

Study at home. 小学校受験の家庭学習教材

数量：足の数6

左の四角の中には2種類の生き物がいます。この2種類の生き物の足の数の違いはいくつですか。
その数だけ右の四角の中に○をかきます。



※1. このプリントは、しながわ・目黒こどもスクールのウェブサイトからダウンロードできます。無断複写・引用はご遠慮ください。
※2. このプリントを活用したオンライン授業のスケジュールは、しながわ・目黒こどもスクールのウェブサイトでご確認ください。




おうちで、やろう。



Study at home. 小学校受験の家庭学習教材

数量：足の数7



左と右の四角の中には生き物がいます。それぞれの四角の中の生き物の足の数を合わせます。このとき、左と右の四角の中の生き物の足の数の違いはいくつですか。その中だけ真ん中の四角に○をかきます。




$$\bigcirc \times 2$$




$$\bigcirc \times 2$$




$$\bigcirc \times 6$$



$$\bigcirc \times 2$$



$$\bigcirc \times 2$$



※1. このプリントは、しながわ・目黒こどもスクールのウェブサイトでダウンロードができます。無断複写・引用はご遠慮ください。
※2. このプリントを活用したオンライン授業のスケジュールは、しながわ・目黒こどもスクールのウェブサイトでご確認ください。






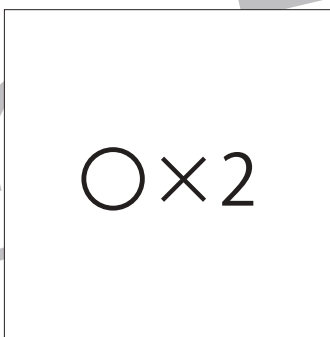


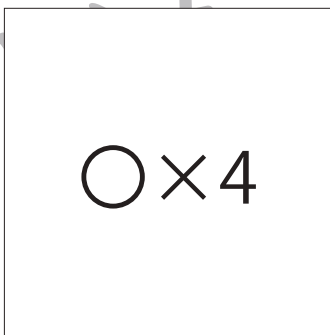


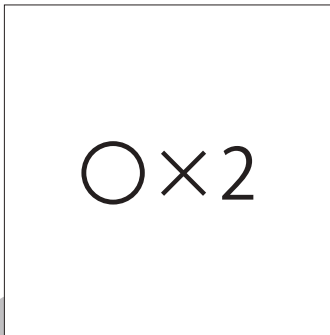



おうちで、やろう。

Study at home. 小学校受験の家庭学習教材

数量：足の数8

左と右の四角の中には生き物がいます。それぞれの四角の中の生き物の足の数を合わせます。このとき、左と右の四角の中の生き物の足の数の違いはいくつですか。その中だけ真ん中の四角に○をかきます。



※1. このプリントは、しながわ・目黒こどもスクールのウェブサイトでダウンロードができます。無断複写・引用はご遠慮ください。
※2. このプリントを活用したオンライン授業のスケジュールは、しながわ・目黒こどもスクールのウェブサイトでご確認ください。

