



おうちで、やろう。

Study at home. 小学校受験の家庭学習教材

言語：音の理解 30

下の乗り物の中で名前に「しゃ、しゅ、しょ」のように小さい「や、ゆ、よ」の音がある乗り物に○、「ぎって」のように詰まる音がある乗り物には△、「ケーキ」のようにのばす音がある乗り物には□をつけます。



※1. このプリントは、しながわ・目黒こどもスクールのウェブサイトでダウンロードができます。無断複写・引用はご遠慮ください。

※2. このプリントを活用したオンライン授業のスケジュールは、しながわ・目黒こどもスクールのウェブサイトでご確認ください。



おうちで、やろう。

Study at home. 小学校受験の家庭学習教材

常識：季節 10

左上の太い四角から季節の順番が春→夏→秋→冬の順番で絵が並んでいます。この順番で並んでいない絵に × をつけます。

			<		



おうちで、やろう。

Study at home. 小学校受験の家庭学習教材

図形：折り重ね 20

左のマスは透明です。このマスを通る太い線で矢印の方向へ折り重ねます。
このとき、隠れないで見えている動物を右の四角の中から見つけて○をつけます。

		河馬	虎	河馬	虎			牛	熊	牛	熊
		馬	狼	馬	狼			馬	ウサギ	馬	ウサギ

		豹	熊	豹	熊			牛	パンダ	牛	パンダ
		ウサギ	狼	ウサギ	狼			豚	コアラ	豚	コアラ

		クマ	狼	クマ	狼			熊	猿	熊	猿
		猫	ライオン	猫	ライオン			ウサギ	象	ウサギ	象

		ウサギ	犬	ウサギ	犬			猫	ウサギ	猫	ウサギ
		馬	鹿	馬	鹿			虎	馬	虎	馬

		羊	羊	羊	羊			犬	猿	犬	猿
		猿	猫	猿	猫			クマ	ライオン	クマ	ライオン

※1. このプリントは、しながわ・目黒こどもスクールのウェブサイトでダウンロードができます。無断複写・引用はご遠慮ください。
※2. このプリントを活用したオンライン授業のスケジュールは、しながわ・目黒こどもスクールのウェブサイトでご確認ください。



おうちで、やろう。

Study at home. 小学校受験の家庭学習教材

図形：折り重ね 21

左のマスは透明です。このマスを真ん中の太い線で矢印の方向へ折り重ねます。
このとき、隠れないで見えている動物を右の四角の中から見つけて○をつけます。

The puzzles are arranged in five rows and three columns:

- Row 1:**
 - Puzzle 1: Visible animals: rabbit, bear. Options: rabbit, bear, cat, zebra.
 - Puzzle 2: Visible animals: dog, lion, mouse. Options: dog, rabbit, lion, mouse.
- Row 2:**
 - Puzzle 3: Visible animals: cat, mouse, elephant, lion. Options: cat, mouse, elephant, lion.
 - Puzzle 4: Visible animals: deer, monkey, sheep. Options: deer, goat, monkey, sheep.
- Row 3:**
 - Puzzle 5: Visible animals: zebra, monkey, tiger. Options: monkey, zebra, dog, tiger.
 - Puzzle 6: Visible animals: fox, cow, horse, rabbit. Options: fox, cow, bear, rabbit.
- Row 4:**
 - Puzzle 7: Visible animals: leopard, wolf, bear, cat. Options: leopard, wolf, bear, cat.
 - Puzzle 8: Visible animals: panda, pig, bear, pig. Options: panda, pig, bear, pig.
- Row 5:**
 - Puzzle 9: Visible animals: bear, wolf, cat. Options: bear, wolf, bear, cat.
 - Puzzle 10: Visible animals: rabbit, monkey, koala, bear. Options: rabbit, bear, monkey, koala.

※1. このプリントは、しながわ・目黒こどもスクールのウェブサイトでダウンロードができます。無断複写・引用はご遠慮ください。
※2. このプリントを活用したオンライン授業のスケジュールは、しながわ・目黒こどもスクールのウェブサイトでご確認ください。



おうちで、やろう。

Study at home. 小学校受験の家庭学習教材

図形：折り重ね 22

左のマスは透明です。このマスを真ん中の太い線で矢印の方向へ折り重ねます。
このとき、隠れないで見えている絵を右の四角の中から見つけて○をつけます。

12 sets of a 5x5 grid puzzle. Each set consists of a grid with a vertical fold line and an arrow, a set of four fruit icons, and a set of four fruit icons with circles for selection.

- Set 1: Grid with fruit in (1,4), (2,5), (3,3), (4,4). Icons: Orange, Apple, Grape, Peach. Selection: Orange, Apple, Peach, Grape.
- Set 2: Grid with fruit in (1,4), (2,5), (3,3), (4,4). Icons: Orange, Apple, Grape, Peach. Selection: Orange, Apple, Peach, Grape.
- Set 3: Grid with fruit in (1,4), (2,5), (3,3), (4,4). Icons: Orange, Apple, Grape, Peach. Selection: Orange, Apple, Peach, Grape.
- Set 4: Grid with fruit in (1,4), (2,5), (3,3), (4,4). Icons: Orange, Apple, Grape, Peach. Selection: Orange, Apple, Peach, Grape.
- Set 5: Grid with fruit in (1,4), (2,5), (3,3), (4,4). Icons: Orange, Apple, Grape, Peach. Selection: Orange, Apple, Peach, Grape.
- Set 6: Grid with fruit in (1,4), (2,5), (3,3), (4,4). Icons: Orange, Apple, Grape, Peach. Selection: Orange, Apple, Peach, Grape.
- Set 7: Grid with fruit in (1,4), (2,5), (3,3), (4,4). Icons: Orange, Apple, Grape, Peach. Selection: Orange, Apple, Peach, Grape.
- Set 8: Grid with fruit in (1,4), (2,5), (3,3), (4,4). Icons: Orange, Apple, Grape, Peach. Selection: Orange, Apple, Peach, Grape.
- Set 9: Grid with fruit in (1,4), (2,5), (3,3), (4,4). Icons: Orange, Apple, Grape, Peach. Selection: Orange, Apple, Peach, Grape.
- Set 10: Grid with fruit in (1,4), (2,5), (3,3), (4,4). Icons: Orange, Apple, Grape, Peach. Selection: Orange, Apple, Peach, Grape.
- Set 11: Grid with fruit in (1,4), (2,5), (3,3), (4,4). Icons: Orange, Apple, Grape, Peach. Selection: Orange, Apple, Peach, Grape.
- Set 12: Grid with fruit in (1,4), (2,5), (3,3), (4,4). Icons: Orange, Apple, Grape, Peach. Selection: Orange, Apple, Peach, Grape.

※1. このプリントは、しながわ・目黒こどもスクールのウェブサイトでダウンロードができます。無断複写・引用はご遠慮ください。
※2. このプリントを活用したオンライン授業のスケジュールは、しながわ・目黒こどもスクールのウェブサイトでご確認ください。



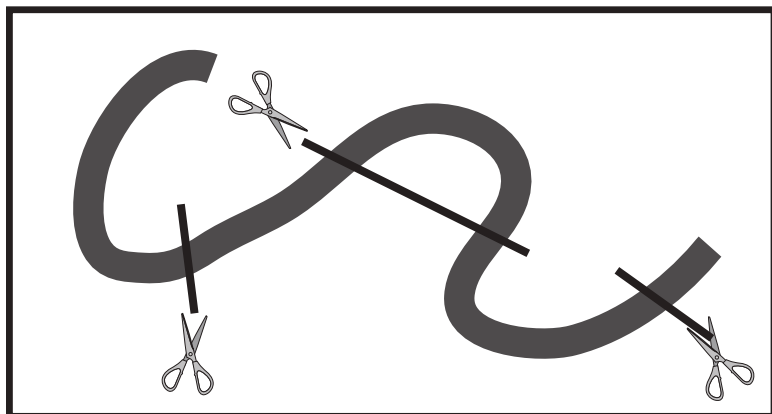


おうちで、やろう。


Study at home. 小学校受験の家庭学習教材

推理：紐の数3


左の四角の中のひもをはさみのところで切るとひもは何本になるかを考えます。その本数だけ右の四角に○をかきます。




○ × 5



○ × 6



○ × 5



○ × 5

※1. このプリントは、しながわ・目黒こどもスクールのウェブサイトでダウンロードができます。無断複写・引用はご遠慮ください。

※2. このプリントを活用したオンライン授業のスケジュールは、しながわ・目黒こどもスクールのウェブサイトでご確認ください。




おうちで、やろう。

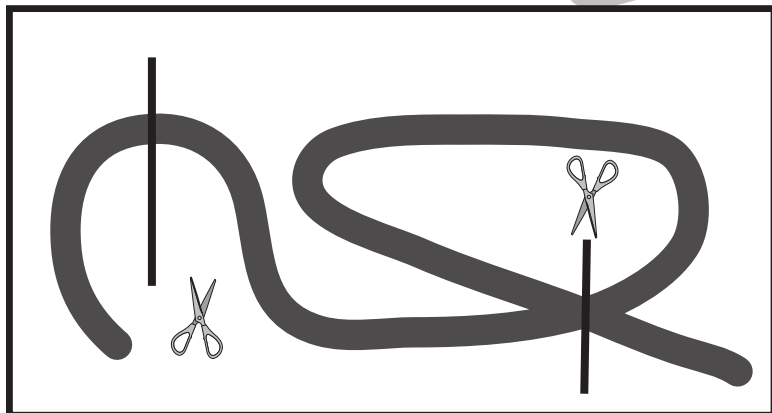
Study at home. 小学校受験の家庭学習教材

推理：紐の数4

左の四角の中のひもをはさみのところで切るとひもは何本になるかを考えます。その本数だけ右の四角に○をかきます。



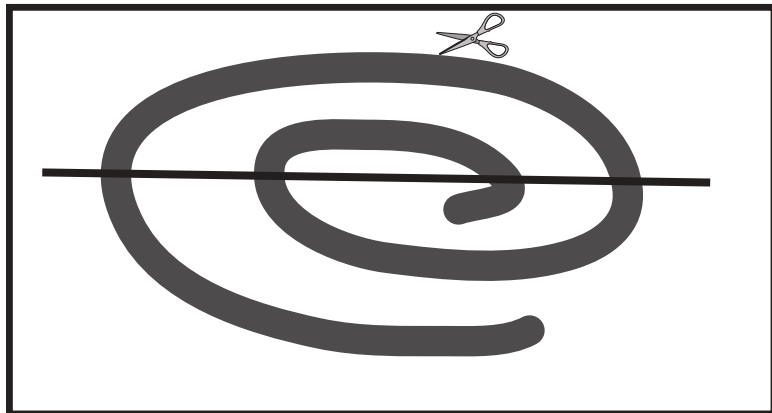
○ × 5



○ × 4



○ × 5



○ × 5

※1. このプリントは、しながわ・目黒こどもスクールのウェブサイトからダウンロードできます。無断複写・引用はご遠慮ください。

※2. このプリントを活用したオンライン授業のスケジュールは、しながわ・目黒こどもスクールのウェブサイトでご確認ください。




















おうちで、やろう。


Study at home. 小学校受験の家庭学習教材


数量：計数20















マスの中に絵が並んでいます。それぞれの絵を同じ数にするには、空いているマスにどの絵が入ればよいですか。右の四角の中から選んで○をつけます。


				
				
				











				
				
				





















































				
				
				
				














				
				
				
				











※1. このプリントは、しながわ・目黒こどもスクールのウェブサイトでダウンロードができます。無断複写・引用はご遠慮ください。
 ※2. このプリントを活用したオンライン授業のスケジュールは、しながわ・目黒こどもスクールのウェブサイトでご確認ください。



おうちで、やろう。

Study at home. 小学校受験の家庭学習教材

数量：計数21

マスの中に絵が並んでいます。それぞれの絵を同じ数にするには、空いているマスにどの絵が入ればよいですか。右の四角の中から選んで○をつけます。

※1. このプリントは、しながわ・目黒こどもスクールのウェブサイトからダウンロードできます。無断複写・引用はご遠慮ください。
 ※2. このプリントを活用したオンライン授業のスケジュールは、しながわ・目黒こどもスクールのウェブサイトでご確認ください。



おうちで、やろう。

Study at home. 小学校受験の家庭学習教材

処理：模写 4

左の四角がお手本です。このお手本の何もかいていないマスを見つけて、右のマスに × をかきます。
このプリントはスピードを意識して取り組みましょう。(1分～1分30秒)

	○	○
○		○
	○	

×		
	×	
×		×

	○	
	○	
○		○

×		×
×		×
	×	

○		○
○		
	○	

	×	
	×	×
×		×

	○	
○	○	
○		

×		×
		×
	×	×

	○	○
○		
○		○

×		
	×	×
	×	

		○
○	○	
		○

×	×	
		×
×	×	

○		○
○	○	

	×	
×	×	×
		×

○	○	
○		○
○		

		×
	×	
	×	×

○		○
○	○	○

	×	
×	×	×

	○	○
○		
○		○

×		
	×	×
	×	

※1. このプリントは、しながわ・目黒こどもスクールのウェブサイトからダウンロードできます。無断複写・引用はご遠慮ください。
※2. このプリントを活用したオンライン授業のスケジュールは、しながわ・目黒こどもスクールのウェブサイトでご確認ください。