

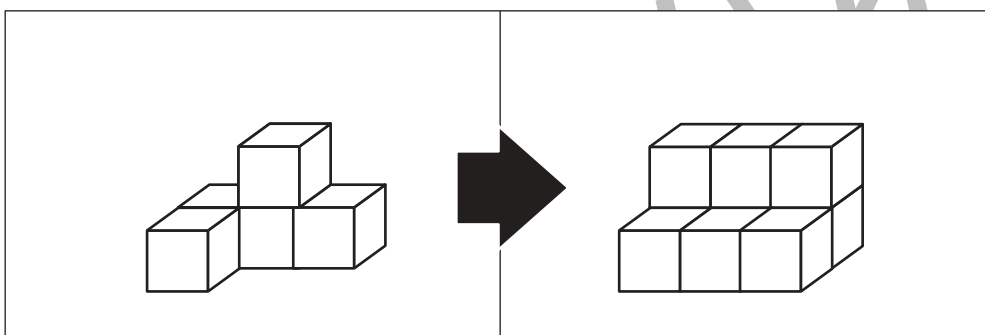
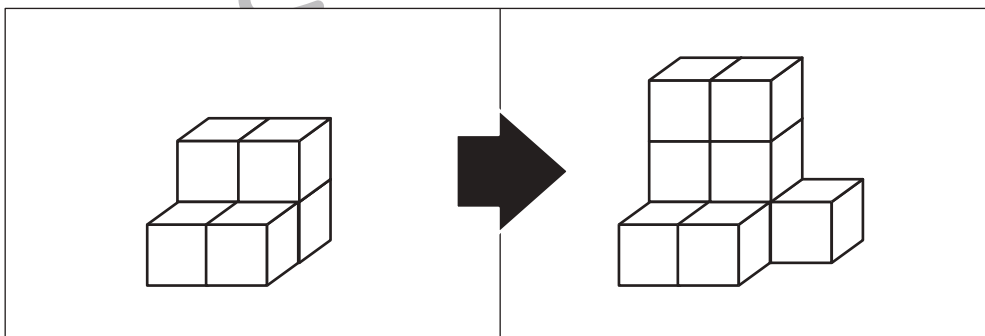
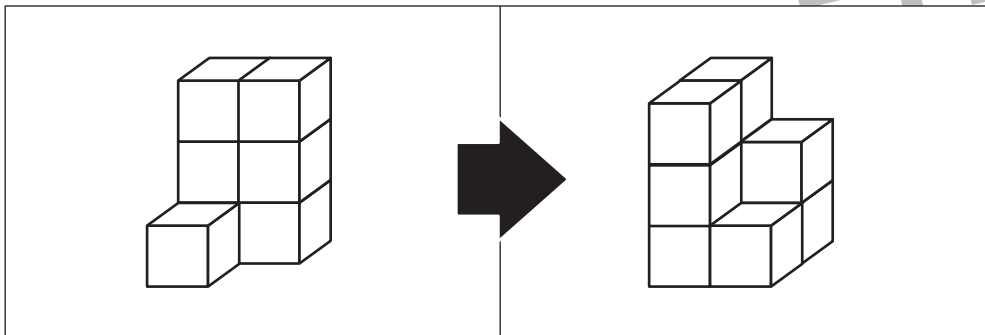
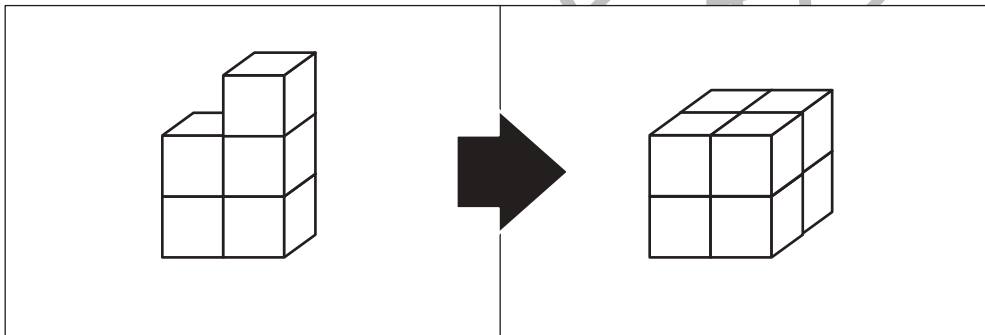
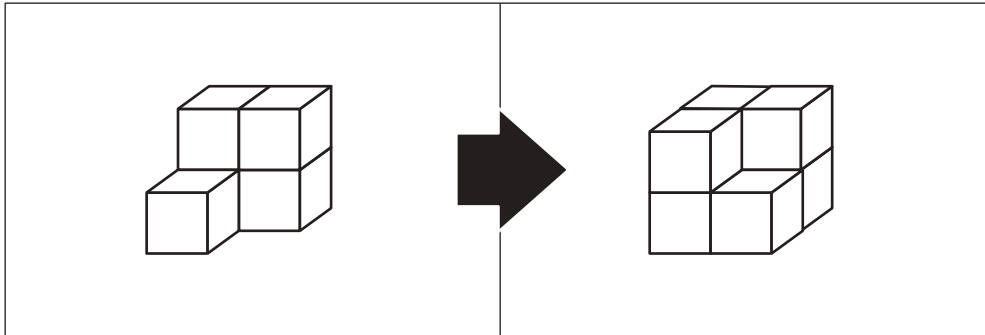


おうちで、やろう。

Study at home. 小学校受験の家庭学習教材

推理：積み木 17

左の四角の中の積み木を使って右の積み木に作り変えます。足りない積み木はいくつですか。その数だけ一番右の太い四角の中に○をかきます。



※1. このプリントは、しながわ・目黒こどもスクールのウェブサイトでダウンロードができます。無断複写・引用はご遠慮ください。
※2. このプリントを活用したオンライン授業のスケジュールは、しながわ・目黒こどもスクールのウェブサイトでご確認ください。

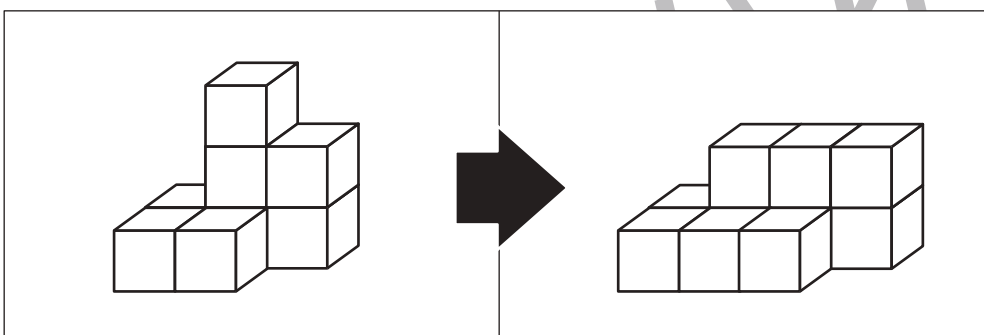
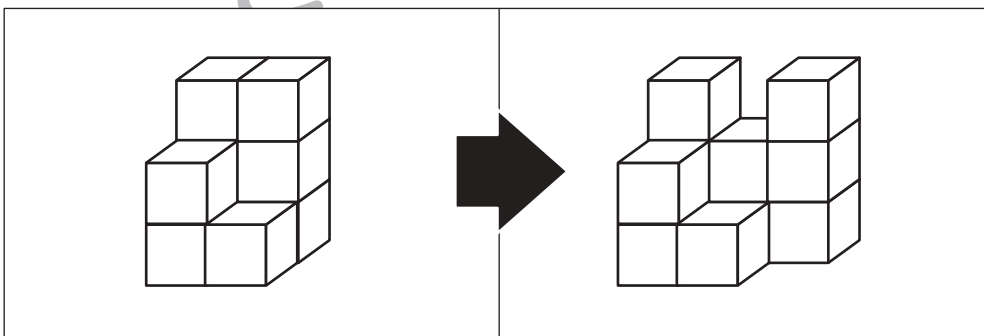

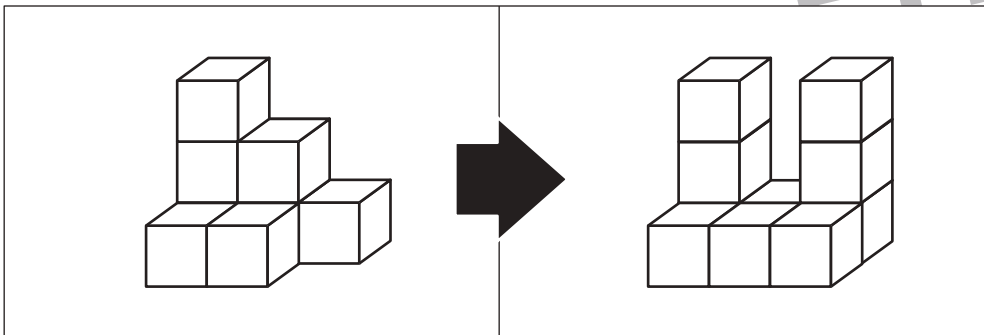
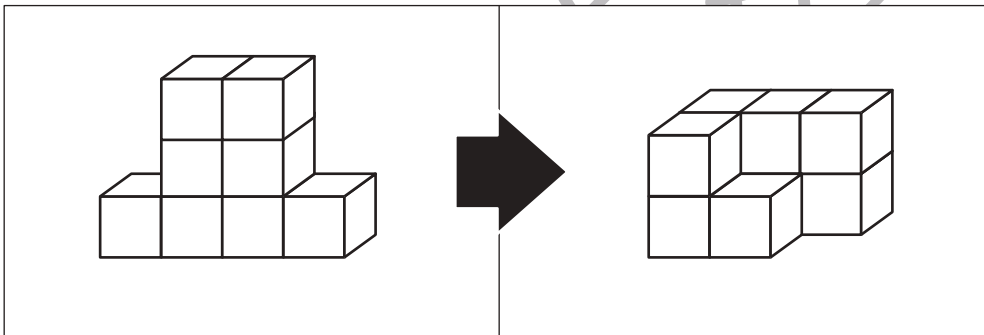
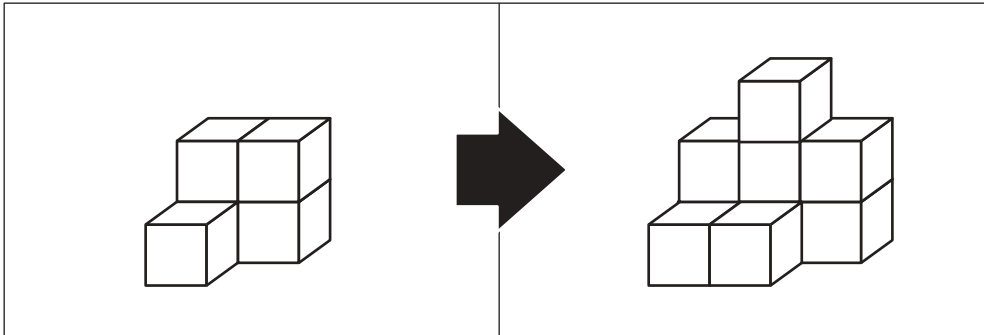


おうちで、やろう。

Study at home. 小学校受験の家庭学習教材

推理：積み木 18

左の四角の中の積み木を使って右の積み木に作り変えます。足りない積み木はいくつですか。その数だけ一番右の太い四角の中に○をかきます。



※1. このプリントは、しながわ・目黒こどもスクールのウェブサイトでダウンロードができます。無断複写・引用はご遠慮ください。

※2. このプリントを活用したオンライン授業のスケジュールは、しながわ・目黒こどもスクールのウェブサイトでご確認ください。



おうちで、やろう。

Study at home. 小学校受験の家庭学習教材

推理：断面図1

左の四角の中の形を黒い線のように切って2つに分けたときの切り口はどうなりますか。右の中から選んで○をつけます。
切り口は回っているものもあります。

※1. このプリントは、しながわ・目黒こどもスクールのウェブサイトでダウンロードができます。無断複写・引用はご遠慮ください。

※2. このプリントを活用したオンライン授業のスケジュールは、しながわ・目黒こどもスクールのウェブサイトでご確認ください。



おうちで、やろう。

Study at home. 小学校受験の家庭学習教材

推理：断面図2

左の四角の中の形を黒い線のように切って2つに分けたときの切り口はどうなりますか。右の中から選んで○をつけます。切り口は回っているものもあります。

※1. このプリントは、しながわ・目黒こどもスクールのウェブサイトでダウンロードができます。無断複写・引用はご遠慮ください。

※2. このプリントを活用したオンライン授業のスケジュールは、しながわ・目黒こどもスクールのウェブサイトでご確認ください。



おうちで、やろう。

Study at home. 小学校受験の家庭学習教材

推理：断面図3

左の四角の中の形を黒い線のように切って2つに分けたときの切り口はどうなりますか。右の中から選んで○をつけます。切り口は回っているものもあります。

※1. このプリントは、しながわ・目黒こどもスクールのウェブサイトでダウンロードができます。無断複写・引用はご遠慮ください。

※2. このプリントを活用したオンライン授業のスケジュールは、しながわ・目黒こどもスクールのウェブサイトでご確認ください。



おうちで、やろう。

Study at home. 小学校受験の家庭学習教材

数量：余る数 10

左の四角の中のお友だちで真ん中の果物を同じ数になるように分けます。

このとき、余る果物はそれぞれいくつですか。その数だけ一番右の四角に○をかきます。余らない場合は何も書きません。

※1. このプリントは、しながわ・目黒こどもスクールのウェブサイトからダウンロードできます。無断複写・引用はご遠慮ください。

※2. このプリントを活用したオンライン授業のスケジュールは、しながわ・目黒こどもスクールのウェブサイトでご確認ください。



おうちで、やろう。

Study at home. 小学校受験の家庭学習教材

数量：余る数 11

左の四角の中のお友だちで真ん中の果物を同じ数になるように分けます。

このとき、余る果物はそれぞれいくつですか。その数だけ一番右の四角に○をかきます。余らない場合は何も書きません。

		<hr style="border-top: 1px dashed black;"/>
		<hr style="border-top: 1px dashed black;"/>
		<hr style="border-top: 1px dashed black;"/>
		<hr style="border-top: 1px dashed black;"/>
		<hr style="border-top: 1px dashed black;"/>

※1. このプリントは、しながわ・目黒こどもスクールのウェブサイトでダウンロードができます。無断複写・引用はご遠慮ください。

※2. このプリントを活用したオンライン授業のスケジュールは、しながわ・目黒こどもスクールのウェブサイトでご確認ください。


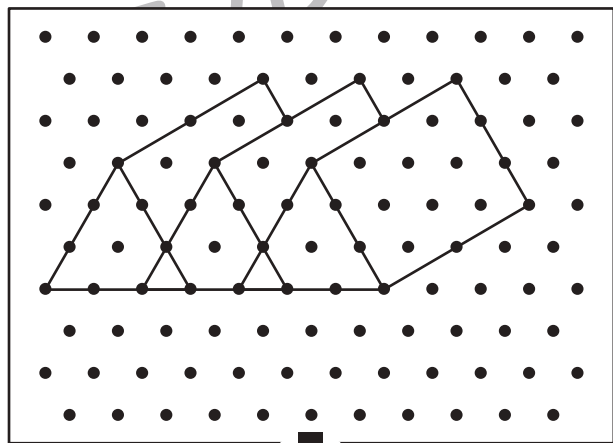

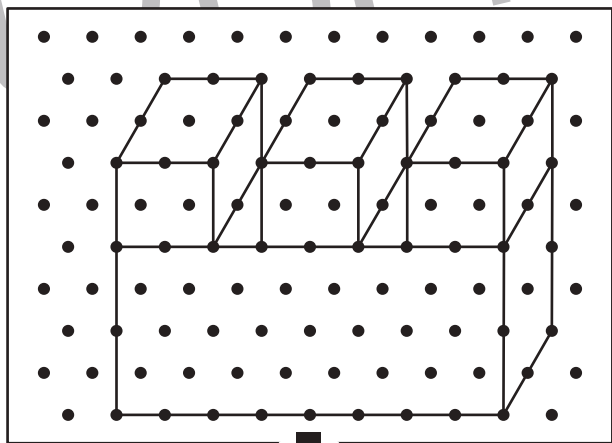

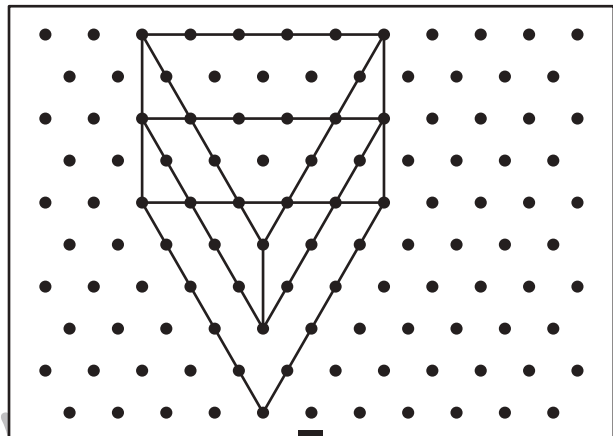

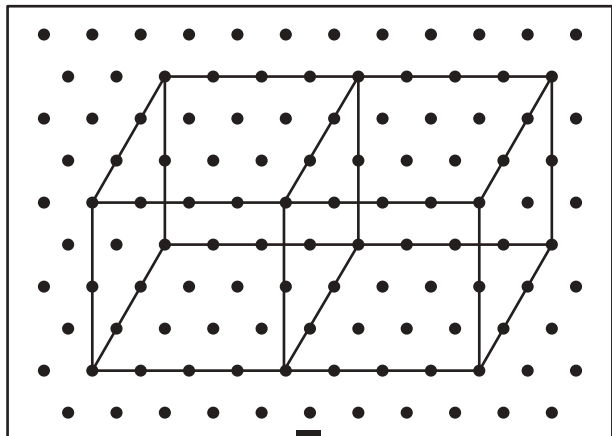


おうちで、やろう。

Study at home. 小学校受験の家庭学習教材

図形：点図形32

上のお手本と同じになるように下の四角の点と点を結びます。※このプリントに解答はありません。



※1. このプリントは、しながわ・目黒こどもスクールのウェブサイトでダウンロードができます。無断複写・引用はご遠慮ください。

※2. このプリントを活用したオンライン授業のスケジュールは、しながわ・目黒こどもスクールのウェブサイトでご確認ください。




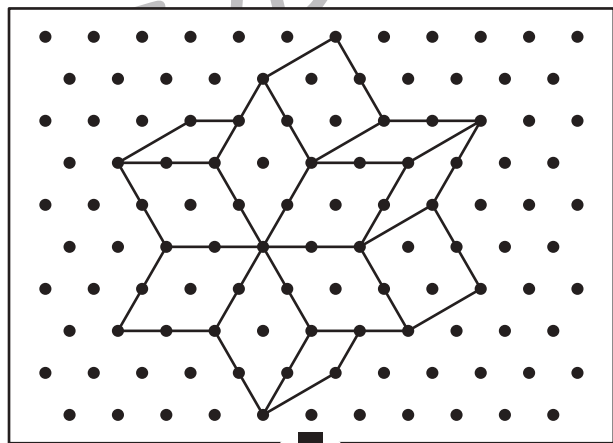

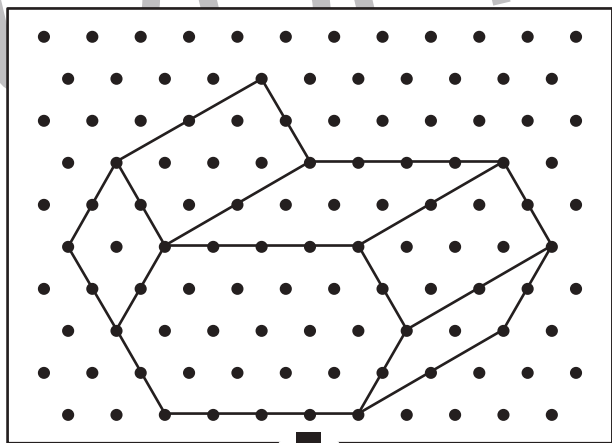

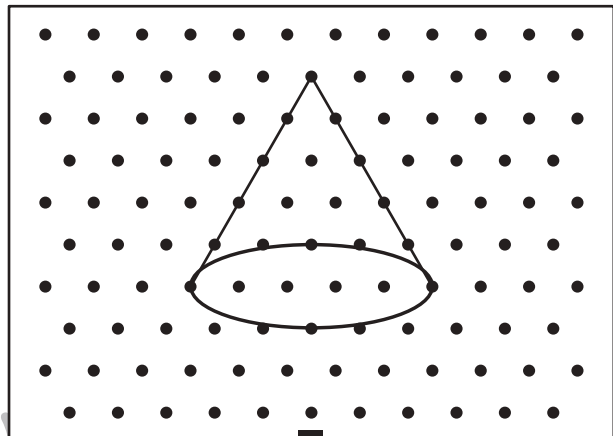

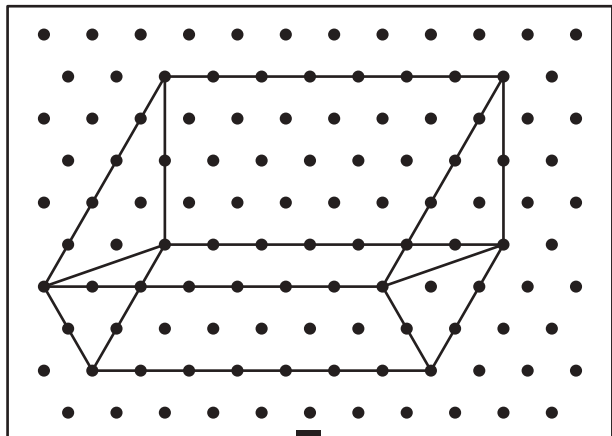


おうちで、やろう。

Study at home. 小学校受験の家庭学習教材

図形：点図形33

上のお手本と同じになるように下の四角の点と点を結びます。※このプリントに解答はありません。



※1. このプリントは、しながわ・目黒こどもスクールのウェブサイトからダウンロードできます。無断複写・引用はご遠慮ください。

※2. このプリントを活用したオンライン授業のスケジュールは、しながわ・目黒こどもスクールのウェブサイトでご確認ください。



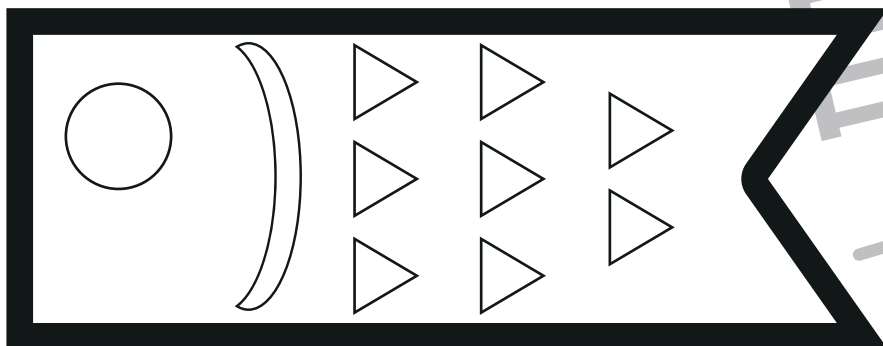
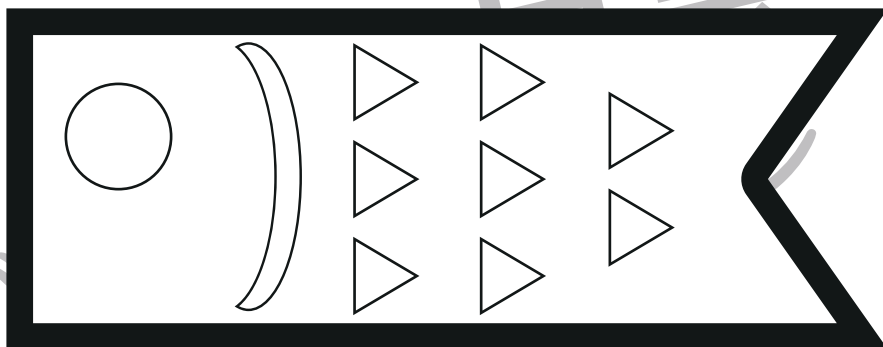
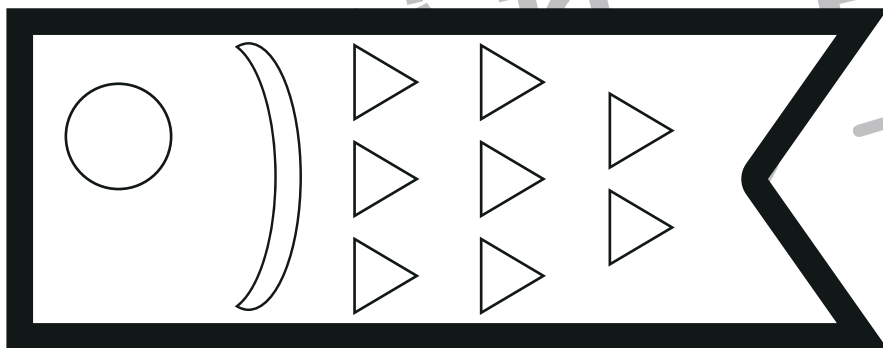


おうちで、やろう。

Study at home. 小学校受験の家庭学習教材

巧緻性：ちぎり5-1

- ①それぞれのこいのぼりを好きな色で塗り、模様をつけたりしましょう。
- ②点線をはさみで切ります。
- ③それぞれのこいのぼりをちぎります。
- ④ちぎったこいのぼりを「ちぎり5-2」にのりで貼り付けます。



※1. このプリントは、しながわ・目黒こどもスクールのウェブサイトでダウンロードができます。無断複写・引用はご遠慮ください。
※2. このプリントを活用したオンライン授業のスケジュールは、しながわ・目黒こどもスクールのウェブサイトでご確認ください。






おうちで、やろう。

Study at home. 小学校受験の家庭学習教材

巧緻性：ちぎり5-2

「ちぎり5-1」でちぎったこいのぼりを下にのりではりつけます。
周りに絵を描いてみましょう。



※1. このプリントは、しながわ・目黒こどもスクールのウェブサイトからダウンロードできます。無断複写・引用はご遠慮ください。

※2. このプリントを活用したオンライン授業のスケジュールは、しながわ・目黒こどもスクールのウェブサイトでご確認ください。