

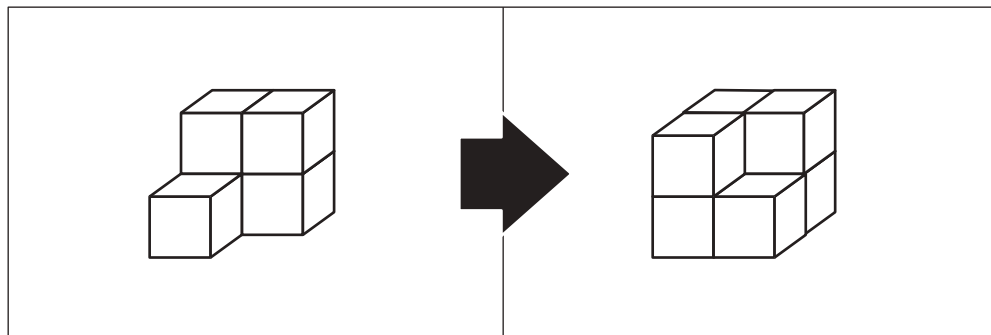


おうちで、よろう。

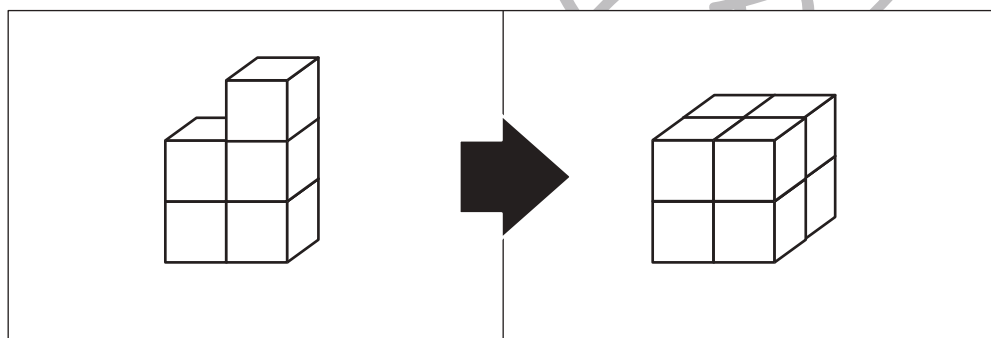
Study at home. 小学校受験の家庭学習教材

推理：積み木 17

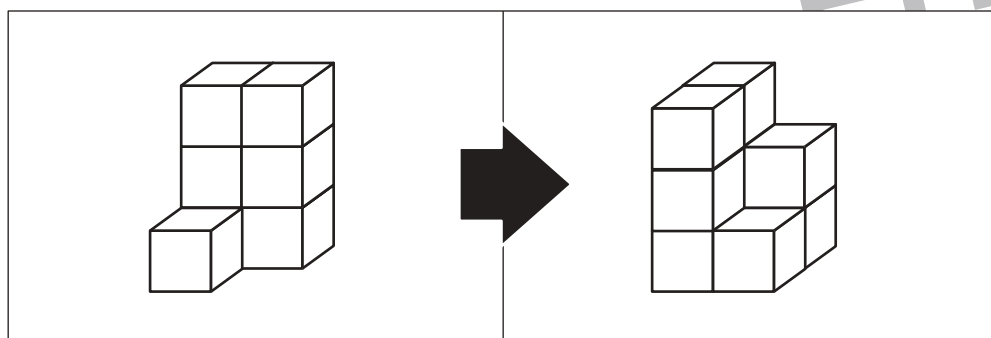
左の四角の中の積み木を使って右の積み木に作り変えます。足りない積み木はいくつですか。その数だけ一番右の太い四角の中に○をかきます。



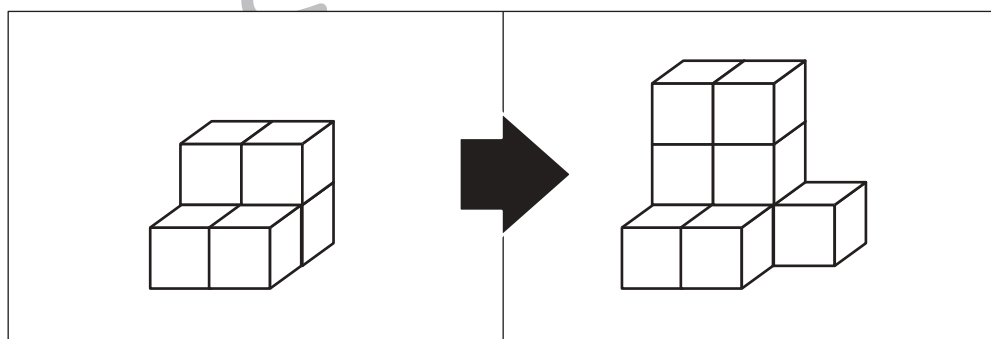
○ × 2



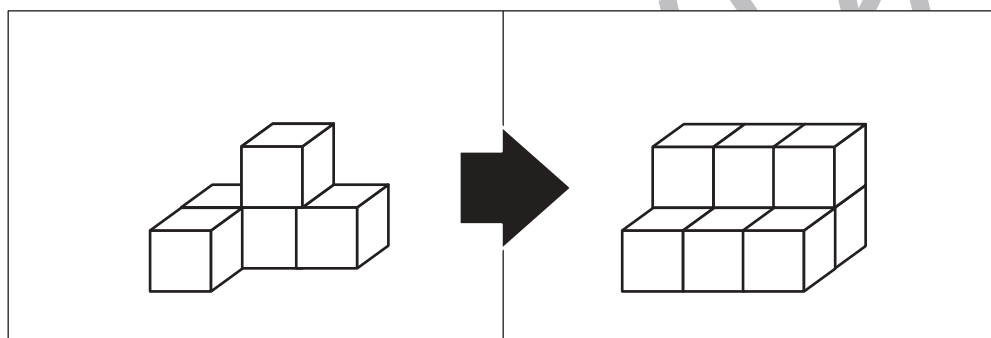
○ × 3



○ × 2



○ × 3



○ × 4

※1. このプリントは、しながわ・目黒こどもスクールのウェブサイトでダウンロードができます。無断複写・引用はご遠慮ください。

※2. このプリントを活用したオンライン授業のスケジュールは、しながわ・目黒こどもスクールのウェブサイトでご確認ください。

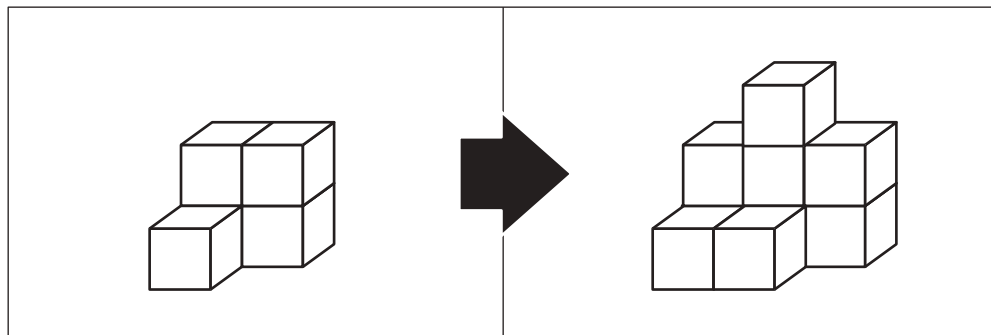


おうちで、やろう。

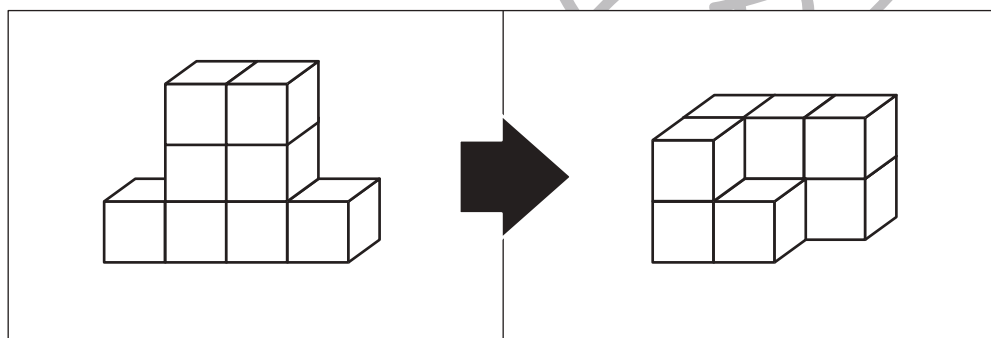
Study at home. 小学校受験の家庭学習教材

推理：積み木 18

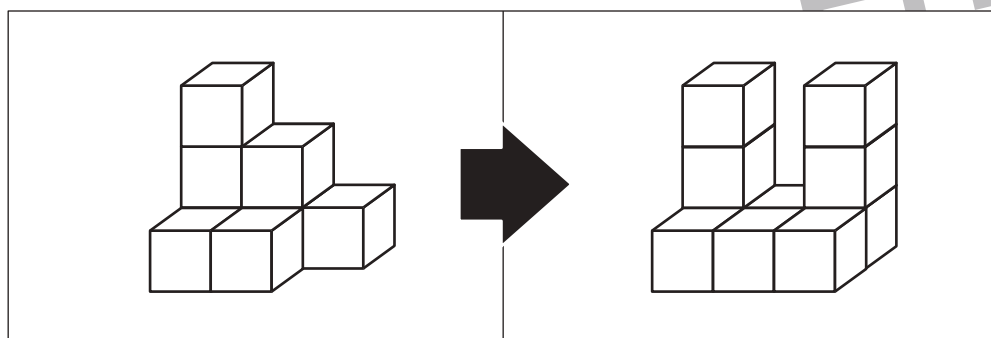
左の四角の中の積み木を使って右の積み木に作り変えます。足りない積み木はいくつですか。その数だけ一番右の太い四角の中に○をかきます。



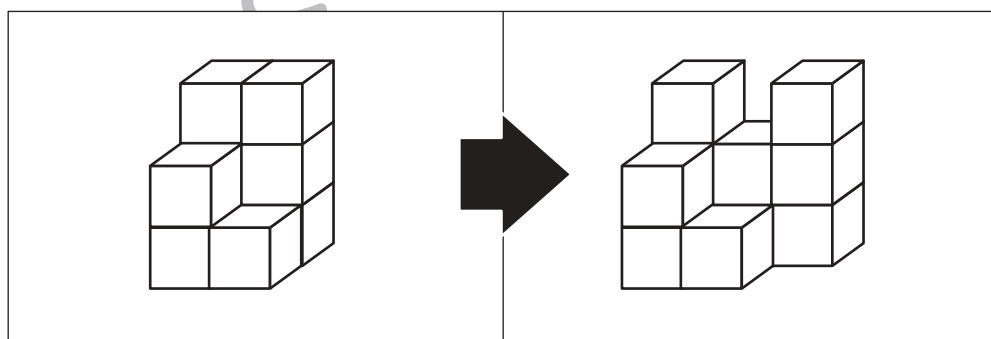
○ × 4



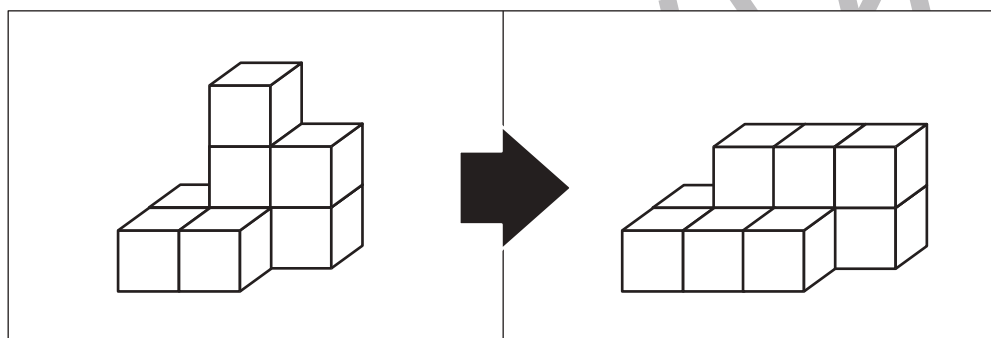
○ × 1



○ × 2



○ × 2



○ × 2

※1. このプリントは、しながわ・目黒こどもスクールのウェブサイトでダウンロードができます。無断複写・引用はご遠慮ください。

※2. このプリントを活用したオンライン授業のスケジュールは、しながわ・目黒こどもスクールのウェブサイトでご確認ください。





おうちで、やろう。

Study at home. 小学校受験の家庭学習教材

推理：断面図1

左の四角の中の形を黒い線のように切って2つに分けたときの切り口はどうなりますか。右の中から選んで○をつけます。切り口は回っているものもあります。

| | | | | |
|--|--|--|--|--|
| | | | | |
| | | | | |
| | | | | |
| | | | | |
| | | | | |

※1. このプリントは、しながわ・目黒こどもスクールのウェブサイトでダウンロードができます。無断複写・引用はご遠慮ください。

※2. このプリントを活用したオンライン授業のスケジュールは、しながわ・目黒こどもスクールのウェブサイトでご確認ください。



おうちで、やろう。

Study at home. 小学校受験の家庭学習教材

推理：断面図2

左の四角の中の形を黒い線のように切って2つに分けたときの切り口はどうなりますか。右の中から選んで○をつけます。切り口は回っているものもあります。

| | |
|--|--|
| | |
| | |
| | |
| | |
| | |

※1. このプリントは、しながわ・目黒こどもスクールのウェブサイトでダウンロードができます。無断複写・引用はご遠慮ください。

※2. このプリントを活用したオンライン授業のスケジュールは、しながわ・目黒こどもスクールのウェブサイトでご確認ください。



おうちで、やろう。

Study at home. 小学校受験の家庭学習教材

推理：断面図3

左の四角の中の形を黒い線のように切って2つに分けたときの切り口はどうなりますか。右の中から選んで○をつけます。切り口は回っているものもあります。

| | | | | |
|--|--|--|--|--|
| | | | | |
| | | | | |
| | | | | |
| | | | | |
| | | | | |

※1. このプリントは、しながわ・目黒こどもスクールのウェブサイトからダウンロードできます。無断複写・引用はご遠慮ください。

※2. このプリントを活用したオンライン授業のスケジュールは、しながわ・目黒こどもスクールのウェブサイトでご確認ください。













おうちで、やろう。

Study at home. 小学校受験の家庭学習教材

数量：余る数 10

左の四角の中のお友だちで真ん中の果物を同じ数になるように分けます。

このとき、余る果物はそれぞれいくつですか。その数だけ一番右の四角に○をかきます。余らない場合は何も書きません。

| | | |
|--|--|--|
| | |  ○ × 1 <hr/>  ○ × 1 |
| | |  <hr/>  ○ × 1 |
| | |  ○ × 2 <hr/>  ○ × 2 |
| | |  ○ × 1 <hr/>  ○ × 2 |
| | |  ○ × 1 <hr/>  ○ × 2 |

※1. このプリントは、しながわ・目黒こどもスクールのウェブサイトからダウンロードできます。無断複写・引用はご遠慮ください。

※2. このプリントを活用したオンライン授業のスケジュールは、しながわ・目黒こどもスクールのウェブサイトでご確認ください。



おうちで、やろう。

Study at home. 小学校受験の家庭学習教材

数量：余る数 11

左の四角の中のお友だちで真ん中の果物を同じ数になるように分けます。

このとき、余る果物はそれぞれいくつですか。その数だけ一番右の四角に○をかきます。余らない場合は何も書きません。

| | | |
|--|--|----------------------|
| | | ○ × 1 <hr/> ○ × 2 |
| | | ○ × 3 <hr/> ○ × 1 |
| | | ○ × 1 <hr/> ○ × 2 |
| | | ○ × 1 <hr/> ○ × 4 |
| | | ○ × 2 <hr/> ○ × 1 |

※1. このプリントは、しながわ・目黒こどもスクールのウェブサイトでダウンロードができます。無断複写・引用はご遠慮ください。

※2. このプリントを活用したオンライン授業のスケジュールは、しながわ・目黒こどもスクールのウェブサイトでご確認ください。