



# おうちで、やろう。

Study at home. 小学校受験の家庭学習教材

## 言語：音の理解 31

- ①はじめてから2番目の音が「ま」の動物に○をつけます。 ②はじめてから2番目の音が「く」の動物に○をつけます。  
 ③はじめてから2番目の音が「あ」の動物に○をつけます。 ④はじめてから2番目の音が「つ」の動物に○をつけます。  
 ⑤はじめてから2番目の音が「う」の動物に○をつけます。

①

②

③

④

⑤

※1. このプリントは、しながわ・目黒こどもスクールのウェブサイトでダウンロードができます。無断複写・引用はご遠慮ください。  
 ※2. このプリントを活用したオンライン授業のスケジュールは、しながわ・目黒こどもスクールのウェブサイトでご確認ください。



# おうちで、やろう。

Study at home. 小学校受験の家庭学習教材

## 言語：音の理解 32

- ① 終わりに「と」の動物に○をつけます。      ② 終わりに「ろ」の動物に○をつけます。  
 ③ 終わりに「ぎ」の動物に○をつけます。      ④ 終わりに「ず」の動物に○をつけます。  
 ⑤ 終わりに「お」の動物に○をつけます。

①

②

③

④

⑤

※1. このプリントは、しながわ・目黒こどもスクールのウェブサイトからダウンロードできます。無断複写・引用はご遠慮ください。  
 ※2. このプリントを活用したオンライン授業のスケジュールは、しながわ・目黒こどもスクールのウェブサイトでご確認ください。



# おうちで、やろう。



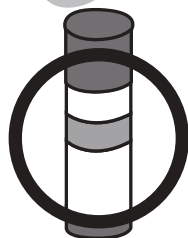
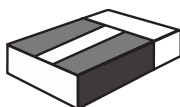
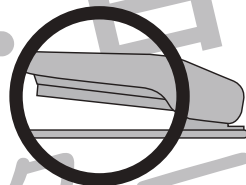
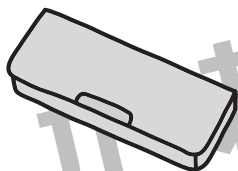
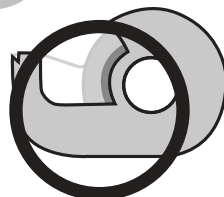


Study at home. 小学校受験の家庭学習教材

常識：生活8

下の絵は幼稚園や学校でよく使うものがあります。

①下の絵の中で何かをはったり、とめたりするものをすべて見つけて○をつけます。

②下の絵の中で体に身につけるものをすべて見つけて△をつけます。



※1. このプリントは、しながわ・目黒こどもスクールのウェブサイトでダウンロードができます。無断複写・引用はご遠慮ください。

※2. このプリントを活用したオンライン授業のスケジュールは、しながわ・目黒こどもスクールのウェブサイトでご確認ください。



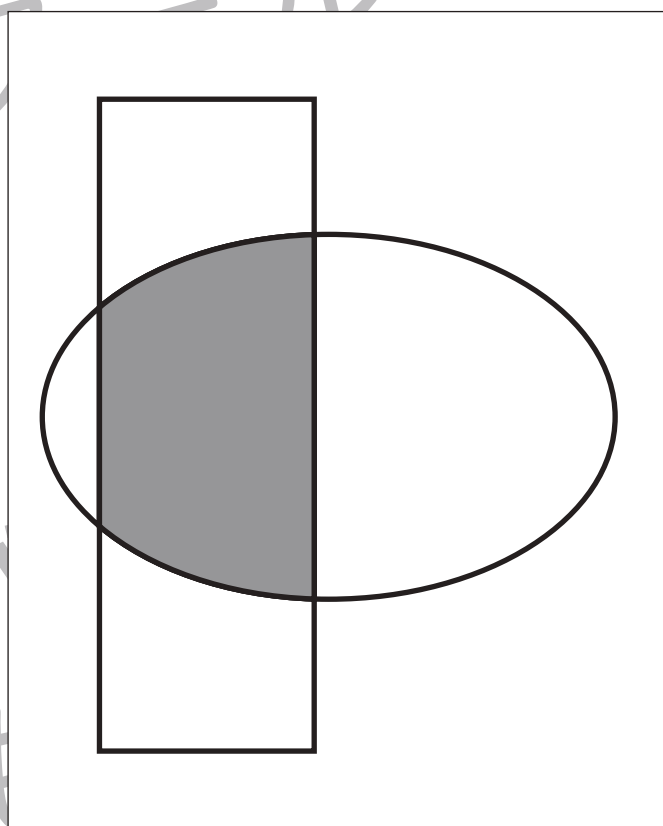
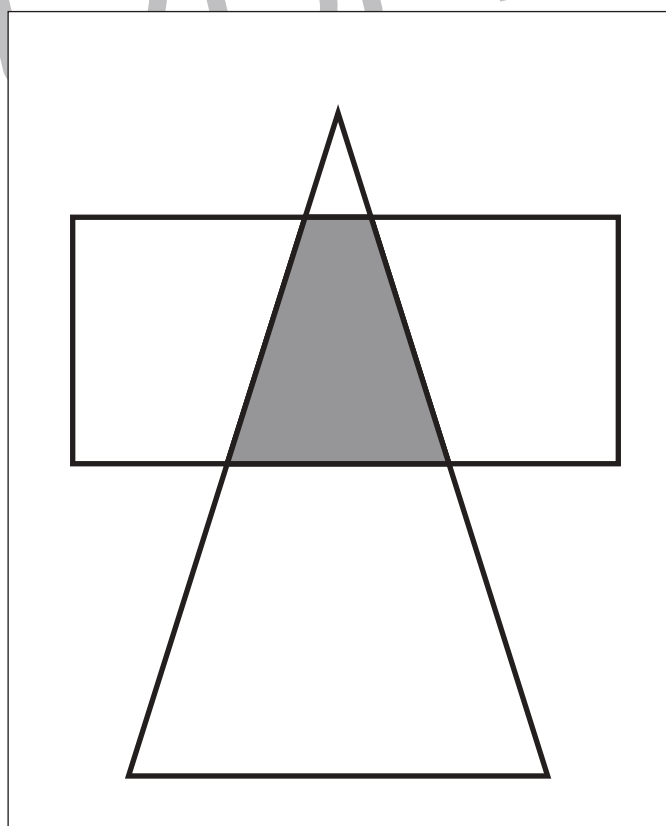
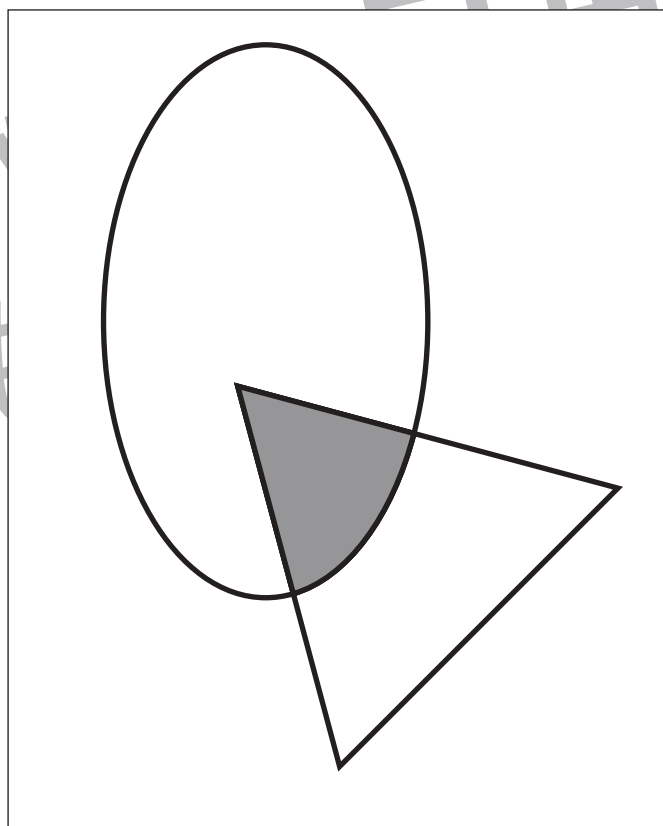
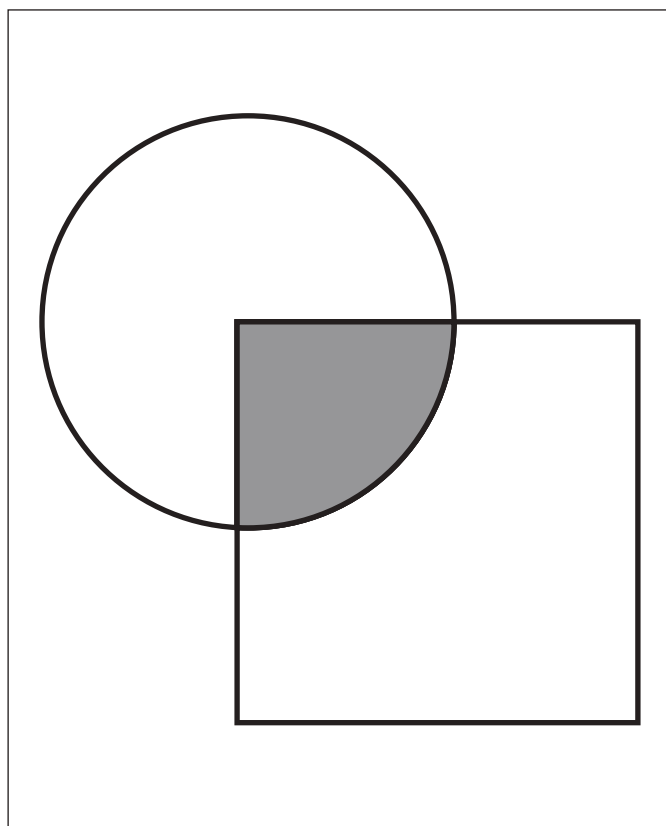


# おうちで、やろう。

Study at home. 小学校受験の家庭学習教材

## 図形：重なり9

四角の中には2つの形が重なったものがあります。この2つの形が重なっているところを見つけて色を塗ります。



※1. このプリントは、しながわ・目黒こどもスクールのウェブサイトでダウンロードができます。無断複写・引用はご遠慮ください。  
※2. このプリントを活用したオンライン授業のスケジュールは、しながわ・目黒こどもスクールのウェブサイトでご確認ください。

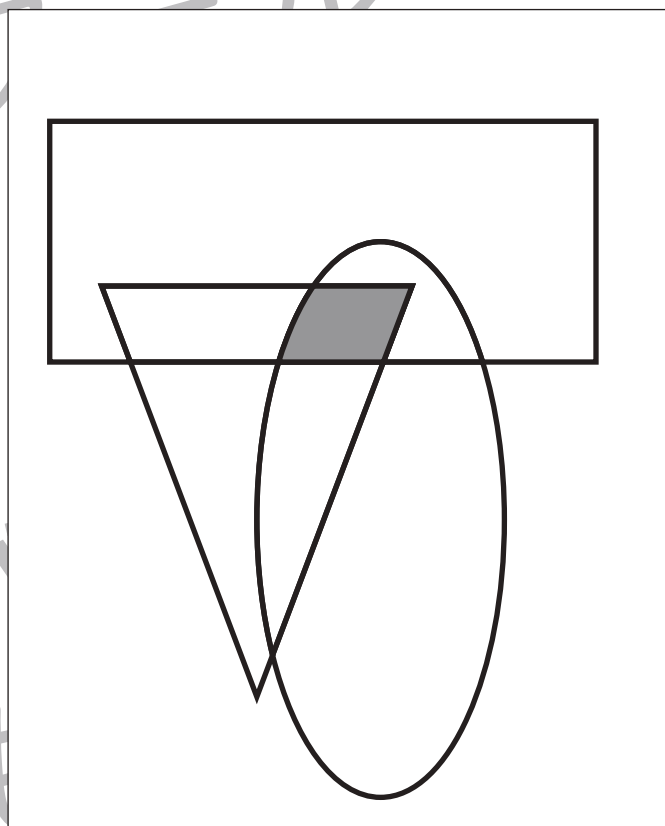
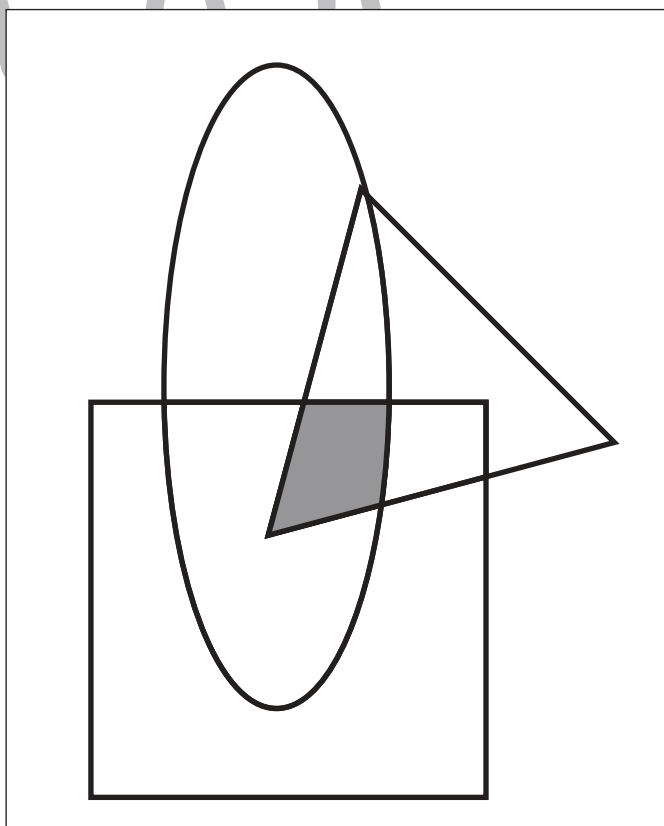
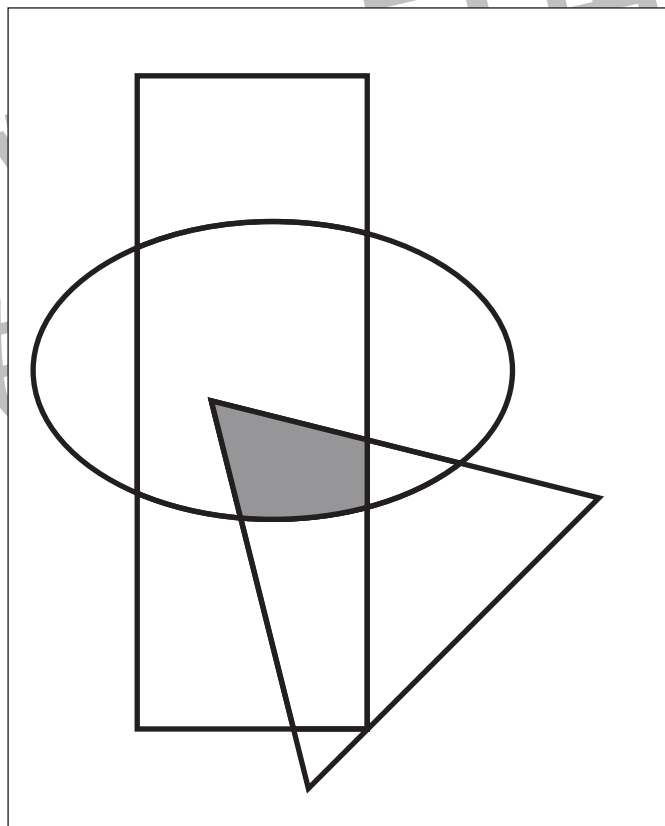
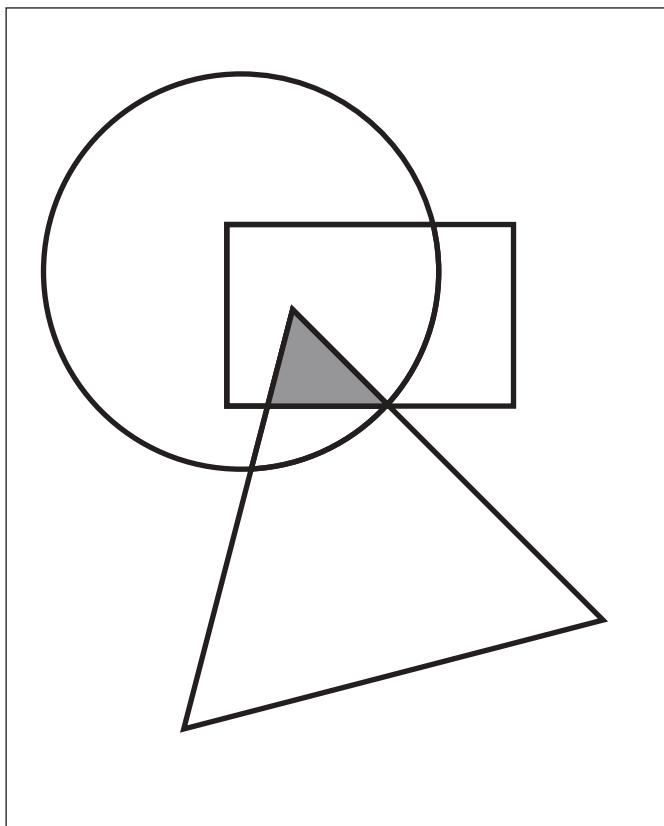


# おうちで、やろう。

Study at home. 小学校受験の家庭学習教材

## 図形：重なり 10

四角の中には3つの形が重なったものがあります。この3つの形が重なっているところを見つけて色を塗ります。



※1. このプリントは、しながわ・目黒こどもスクールのウェブサイトでダウンロードができます。無断複写・引用はご遠慮ください。  
※2. このプリントを活用したオンライン授業のスケジュールは、しながわ・目黒こどもスクールのウェブサイトでご確認ください。










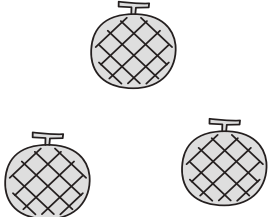


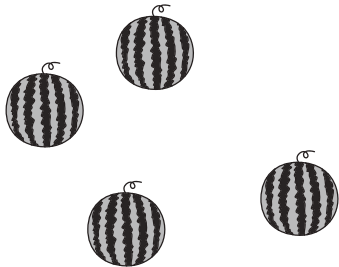




# おうちで、やろう。

Study at home. 小学校受験の家庭学習教材

数量：対応 4

左の四角の中が1人で、1セットです。真ん中の四角の中のお友だちに1セットずつあげるとき、右の四角の中にある果物はいくつあればよいですか。その数だけ、右の四角の中に○をかきます。

		 $\bigcirc \times 6$
		 $\bigcirc \times 8$
		 $\bigcirc \times 6$
		 $\bigcirc \times 9$
		 $\bigcirc \times 12$

※1. このプリントは、しながわ・目黒こどもスクールのウェブサイトでダウンロードができます。無断複写・引用はご遠慮ください。

※2. このプリントを活用したオンライン授業のスケジュールは、しながわ・目黒こどもスクールのウェブサイトでご確認ください。



# おうちで、やろう。

Study at home. 小学校受験の家庭学習教材

数量：対応5

左の四角の中が1人で、1セットです。真ん中の四角の中のお友だちに1セットずつあげるとき、右の四角の中にある果物はいくつあればよいですか。その数だけ、右の四角の中に○をかきます。

		 $\bigcirc \times 4$
		 $\bigcirc \times 6$
		 $\bigcirc \times 6$
		 $\bigcirc \times 9$
		 $\bigcirc \times 12$

※1. このプリントは、しながわ・目黒こどもスクールのウェブサイトでダウンロードができます。無断複写・引用はご遠慮ください。

※2. このプリントを活用したオンライン授業のスケジュールは、しながわ・目黒こどもスクールのウェブサイトでご確認ください。

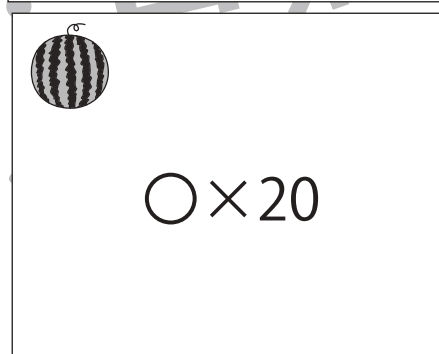

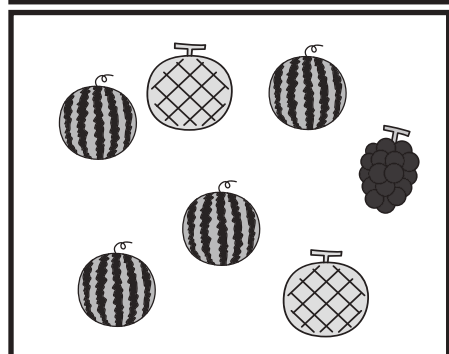
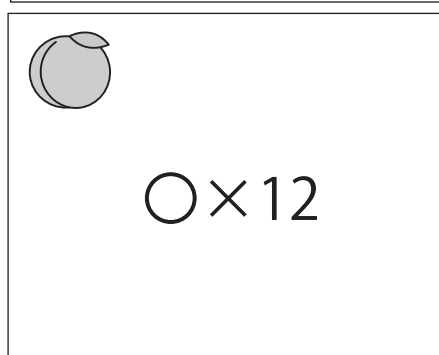







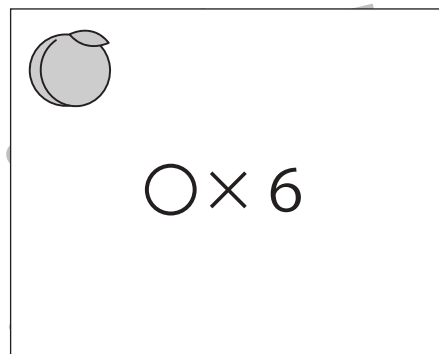




# おうちで、やろう。

Study at home. 小学校受験の家庭学習教材

数量：対応6

左の四角の中が1人分で、1セットです。真ん中の四角の中のお友だちに1セットずつあげるとき、右の四角の中にある果物はいくつあればよいですか。その数だけ、右の四角の中に○をかきます。



※1. このプリントは、しながわ・目黒こどもスクールのウェブサイトからダウンロードできます。無断複写・引用はご遠慮ください。

※2. このプリントを活用したオンライン授業のスケジュールは、しながわ・目黒こどもスクールのウェブサイトでご確認ください。