



おうちで、やろう。

Study at home. 小学校受験の家庭学習教材


記憶：絵の記憶7

別紙『記憶 - 絵の記憶7 (記憶用紙)』で①~③それぞれ 20 秒間記憶してから取り組みます。記憶している間は問題用紙を裏返しにしましょう。


①数が一番多いものに○をつけます。 ②数が一番少ないものに○をつけます。 ③同じ数のもの2つに○をつけます。

※4月23日(金)のオンライン授業では実施中に記憶する絵を画面で表示します。


①



②



③



※1. このプリントは、しながわ・目黒こどもスクールのウェブサイトでダウンロードができます。無断複写・引用はご遠慮ください。

※2. このプリントを活用したオンライン授業のスケジュールは、しながわ・目黒こどもスクールのウェブサイトでご確認ください。





おうちで、やろう。

Study at home. 小学校受験の家庭学習教材

指示の聞き取り 15

問題をしっかり聞いて答えましょう。

- ①黒丸が右へ3つ移動します。その場所に○をかきます。
- ②白丸が左へ5つ移動します。その場所に△をかきます。
- ③白い四角が上へ3つ、右へ3つ移動します。その場所に×をかきます。
- ④白い星が下へ3つ、左へ4つ、上へ1つ移動します。その場所に◎をかきます。
- ⑤黒い星が上へ4つ、左へ1つ、下へ3つ、右へ1つ移動します。その場所に／をかきます。

					☆	
		●			○	
	◎					■
	／					×
△	★				○	
			□			

※1. このプリントは、しながわ・目黒こどもスクールのウェブサイトでダウンロードができます。無断複写・引用はご遠慮ください。

※2. このプリントを活用したオンライン授業のスケジュールは、しながわ・目黒こどもスクールのウェブサイトでご確認ください。



























おうちで、やろう。

















Study at home. 小学校受験の家庭学習教材

















処理能力：置き換え6









上の太い四角の中の絵がお手本です。上の絵の時に下の四角にそれぞれの記号をかきます。問題は一番上の段の左からはじめて、右端までやります。1段目ができたら2段目の左から右。次に3段目の左から右と順番に記号をかきます。この問題はできるだけ早く印をつけます。それぞれ1分以内を目指し取り組みましょう。

















			
			

















							
							

















							
							

※1. このプリントは、しながわ・目黒こどもスクールのウェブサイトでダウンロードができます。無断複写・引用はご遠慮ください。
※2. このプリントを活用したオンライン授業のスケジュールは、しながわ・目黒こどもスクールのウェブサイトでご確認ください。

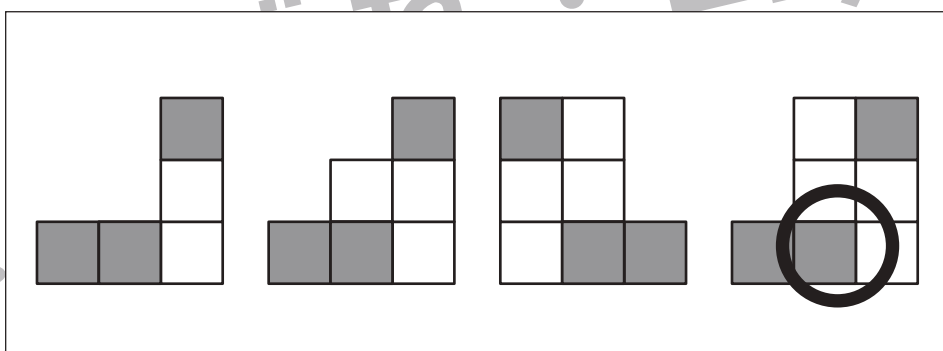

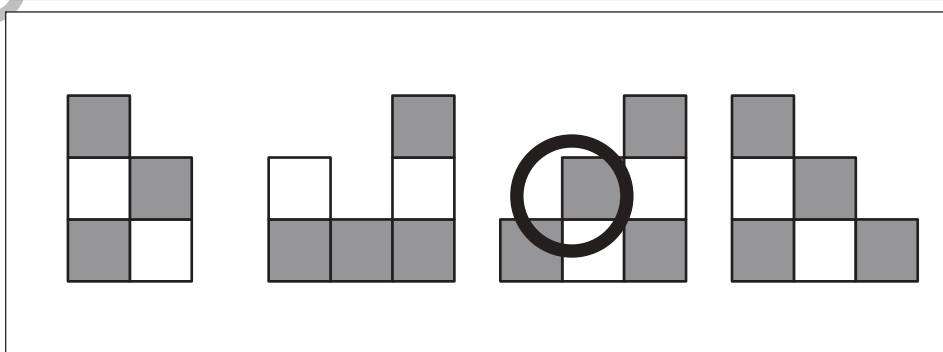

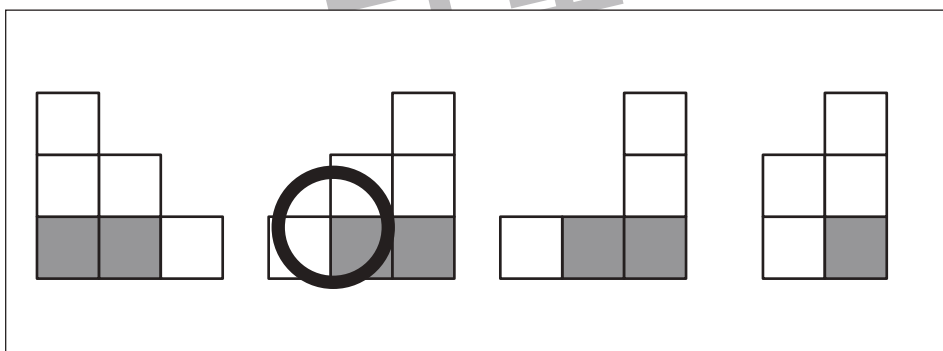

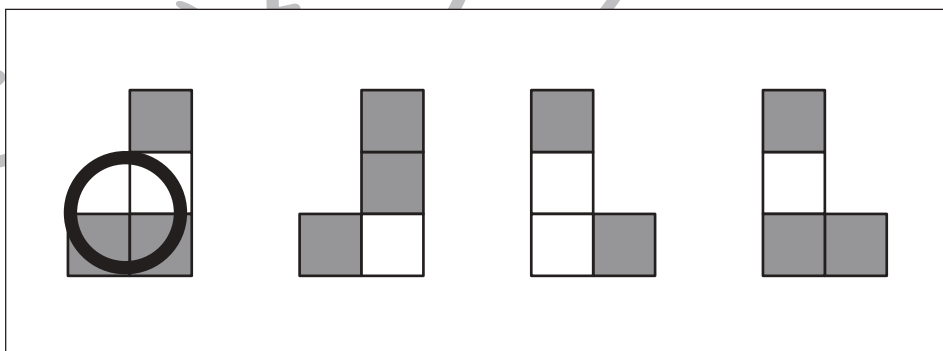

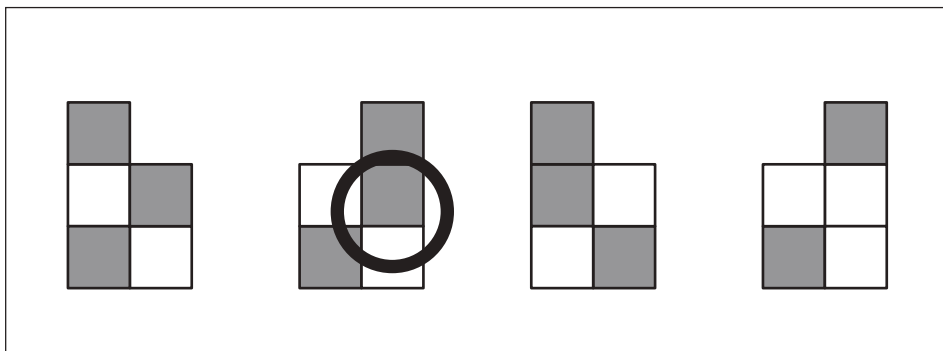



おうちで、やろう。

Study at home. 小学校受験の家庭学習教材

推理：四方観察 19

左の太い四角の中の積み木がお手本です。このお手本を男の子の方（右側）から見たときの見え方を考えます。正しいものを右の4つの中から選んで○をつけます。



※1. このプリントは、しながわ・目黒こどもスクールのウェブサイトでダウンロードができます。無断複写・引用はご遠慮ください。
※2. このプリントを活用したオンライン授業のスケジュールは、しながわ・目黒こどもスクールのウェブサイトでご確認ください。



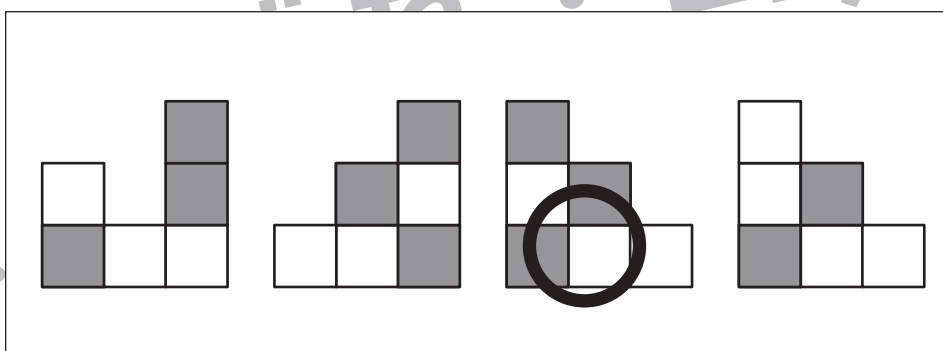

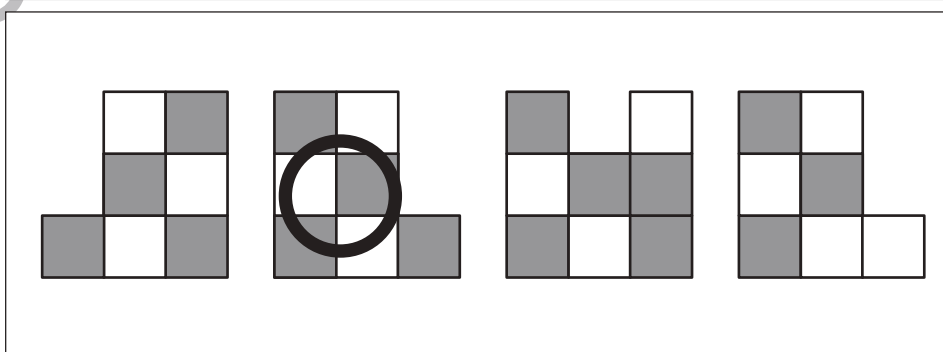

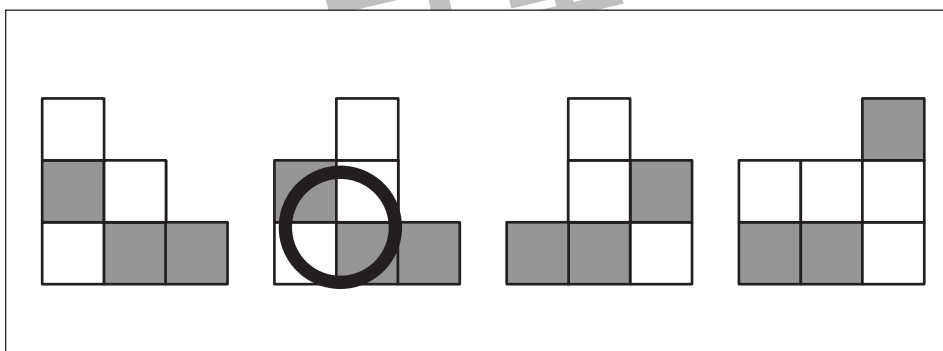

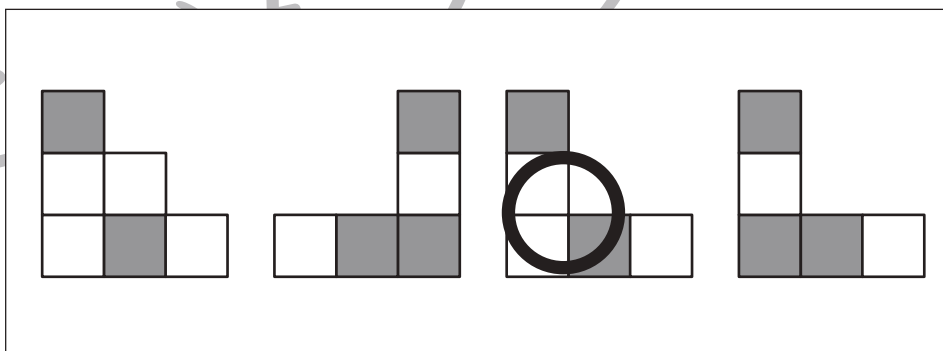

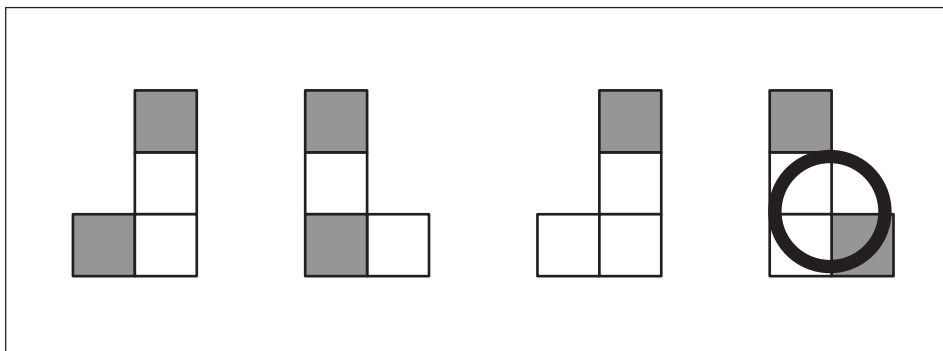



おうちで、やろう。

Study at home. 小学校受験の家庭学習教材

推理：四方観察 20

左の太い四角の中の積み木がお手本です。このお手本を女の子の方（左側）から見たときの見え方を考えます。正しいものを右の4つの中から選んで○をつけます。



※1. このプリントは、しながわ・目黒こどもスクールのウェブサイトでダウンロードができます。無断複写・引用はご遠慮ください。
※2. このプリントを活用したオンライン授業のスケジュールは、しながわ・目黒こどもスクールのウェブサイトでご確認ください。



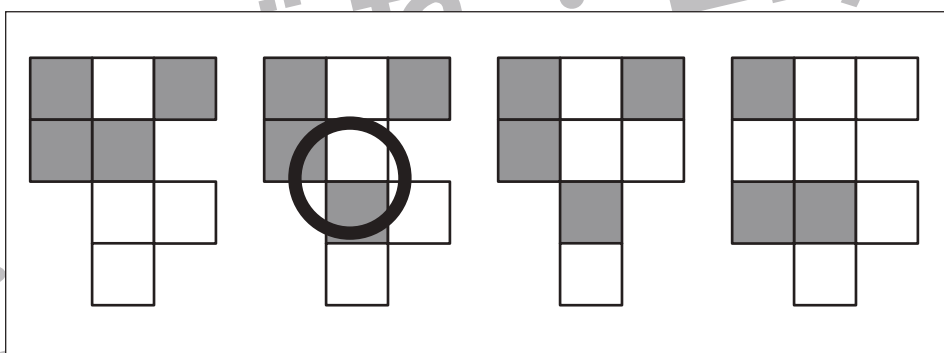

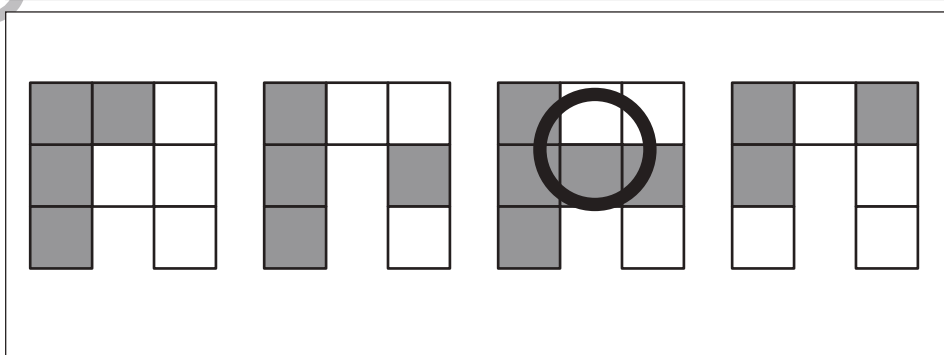

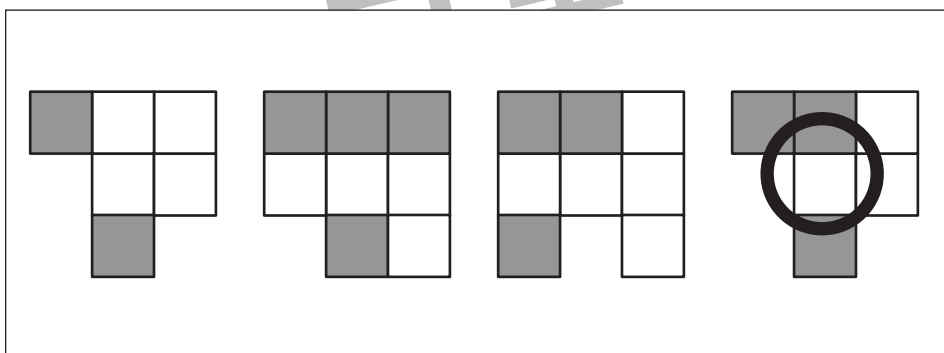

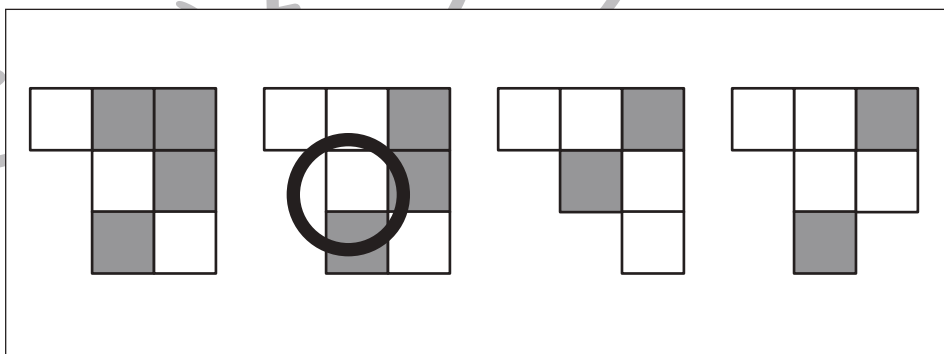

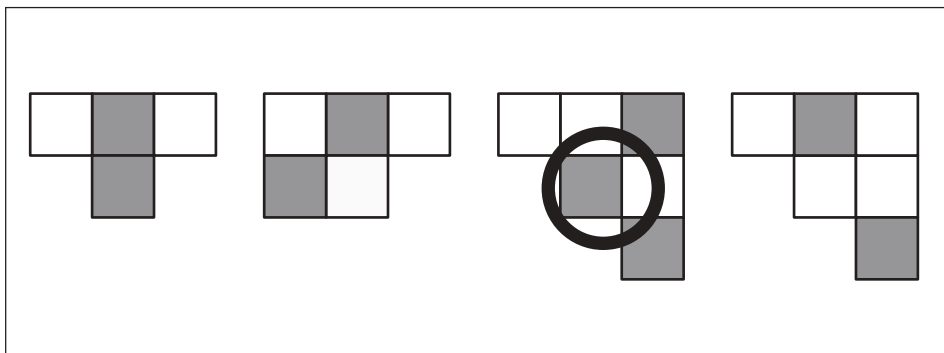



おうちで、よろう。

Study at home. 小学校受験の家庭学習教材

推理：四方観察 21

左の太い四角の中の積み木がお手本です。このお手本を男の子が上からのぞいて（上から）見たときの見え方を考えます。正しいものを右の4つの中から選んで○をつけます。



※1. このプリントは、しながわ・目黒こどもスクールのウェブサイトでダウンロードができます。無断複写・引用はご遠慮ください。

※2. このプリントを活用したオンライン授業のスケジュールは、しながわ・目黒こどもスクールのウェブサイトでご確認ください。







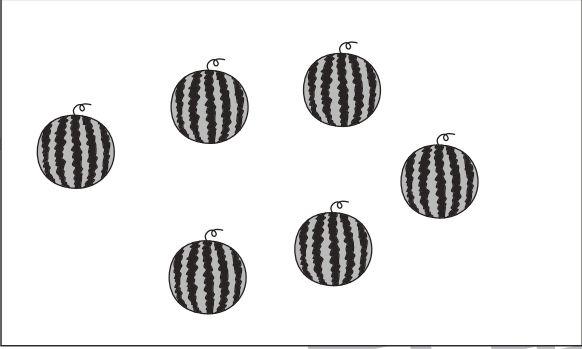


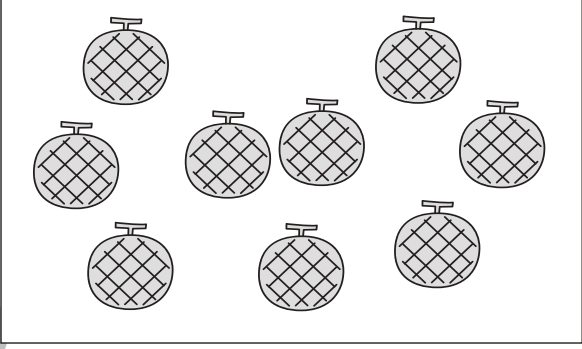

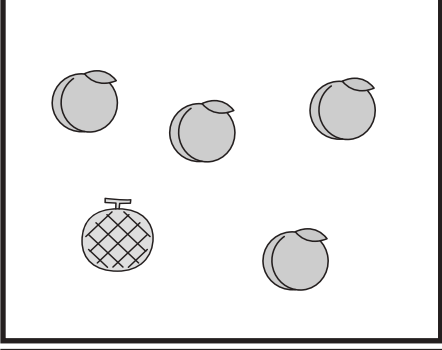
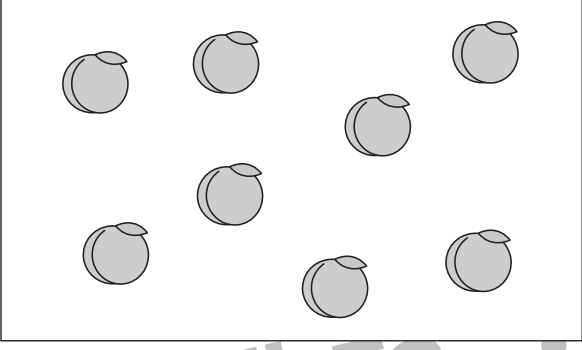


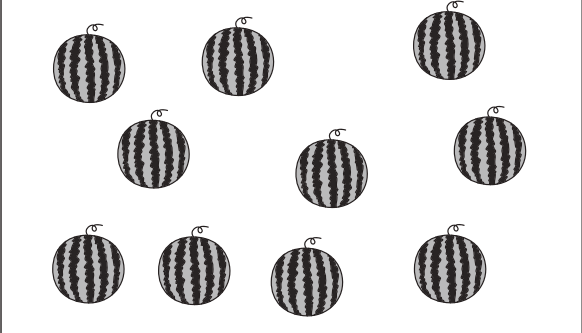



おうちで、やろう。

Study at home. 小学校受験の家庭学習教材

数量：対応7

左の四角の中が1人分で、1セットです。真ん中の四角の中の果物の数だけセットを作るとき、右の四角の中にある果物はいくつあればよいですか。その数だけ、右の四角の中に○をかきます。

		 $\bigcirc \times 2$
		 $\bigcirc \times 3$
		 $\bigcirc \times 3$
		 $\bigcirc \times 2$
		 $\bigcirc \times 2$

※1. このプリントは、しながわ・目黒こどもスクールのウェブサイトでダウンロードができます。無断複写・引用はご遠慮ください。

※2. このプリントを活用したオンライン授業のスケジュールは、しながわ・目黒こどもスクールのウェブサイトでご確認ください。


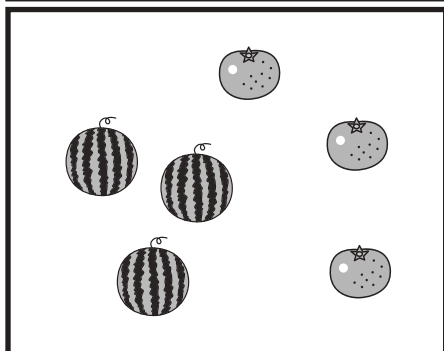
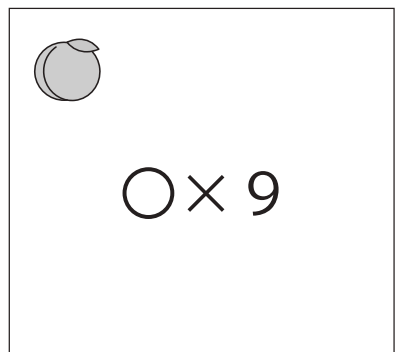


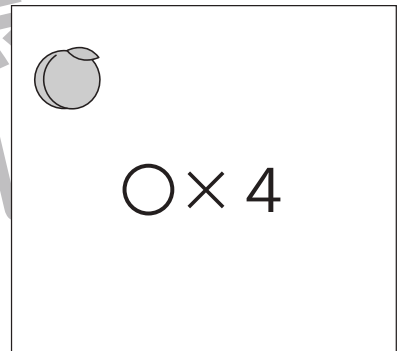
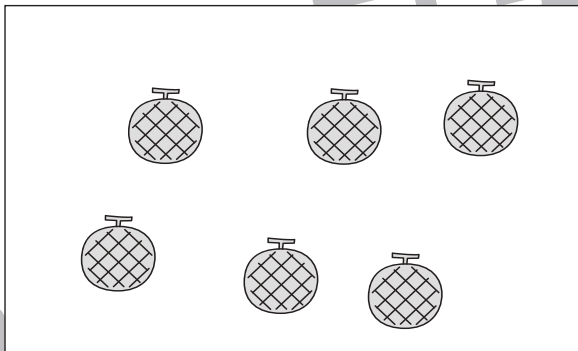
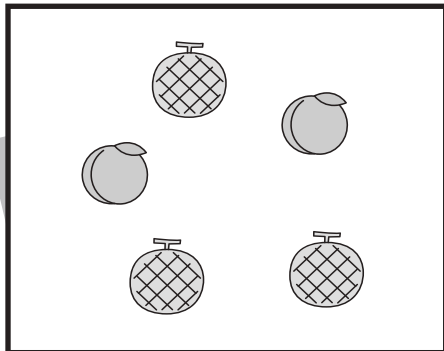
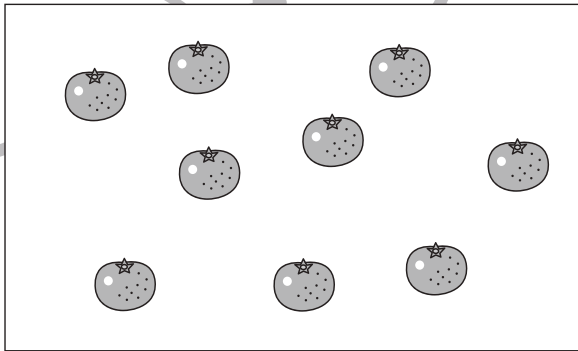

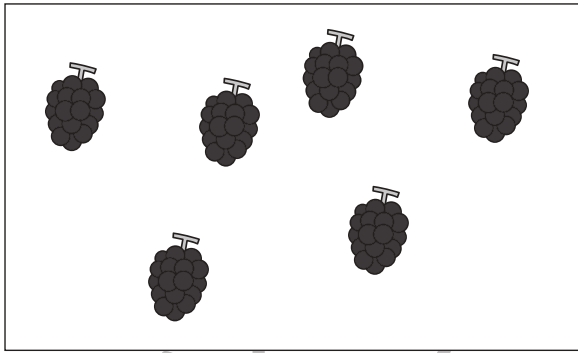



おうちで、やろう。

Study at home. 小学校受験の家庭学習教材

数量：対応 8

左の四角の中が1人分で、1セットです。真ん中の四角の中の果物の数だけセットを作るとき、右の四角の中にある果物はいくつあればよいですか。その数だけ、右の四角の中に○をかきます。



※1. このプリントは、しながわ・目黒こどもスクールのウェブサイトでダウンロードができます。無断複写・引用はご遠慮ください。
※2. このプリントを活用したオンライン授業のスケジュールは、しながわ・目黒こどもスクールのウェブサイトでご確認ください。



おうちで、やろう。

Study at home. 小学校受験の家庭学習教材

数量：対応 9

左の四角の中が1人分で、1セットです。真ん中の四角の中の果物の数だけセットを作るとき、右の四角の中にある果物はいくつあればよいですか。その数だけ、右の四角の中に○をかきます。

		 $\bigcirc \times 3$
		 $\bigcirc \times 4$
		 $\bigcirc \times 4$
		 $\bigcirc \times 6$
		 $\bigcirc \times 9$

※1. このプリントは、しながわ・目黒こどもスクールのウェブサイトでダウンロードができます。無断複写・引用はご遠慮ください。

※2. このプリントを活用したオンライン授業のスケジュールは、しながわ・目黒こどもスクールのウェブサイトでご確認ください。