



おうちで、やろう。

Study at home. 小学校受験の家庭学習教材

数量：加減 21・22（問題文）

※別紙問題プリントを用意し、1問ずつとりくみましょう。

21-①

たつみくんお母さんは一緒にクッキーを作りました。たつみくんは星のクッキーを6つ、お母さんは月のクッキーを4つ作りました。2人が作ったクッキーは合わせていくつですか。その数だけ○をかきます。

21-②

先ほどの問題の続きのお話です。たつみくんとお母さんが作ったクッキーのうち、たつみくんが3つ食べました。残ったクッキーはいくつですか。その数だけ○をかきます。

21-③

先ほど問題の続きのお話です。たつみくんは残ったクッキーのうち5つをお友だちのたまさんにあげることにしました。たまさんにクッキーをあげた後に残ったクッキーはいくつですか。その数だけ○をかきます。

21-④

先ほどの問題の続きのお話です。たつみくんはお父さんにもクッキーをあげたいと思いました。お父さんに10枚のクッキーをあげようと思いましたが、クッキーが足りません。あと何枚あれば10枚になりますか。その数だけ○をかきます。

22-①

幼稚園の園庭でお友だちが4人遊んでいました。そこへ後から3人やってきました。今、園庭で遊んでいるお友だちは何人ですか。その数だけ○をかきます。

22-②

先ほどの問題の続きのお話です。園庭で遊んでいたお友だちの中で2人が教室に入っていました。でも教室から1人園庭にやってきました。今、園庭で遊んでいるお友だちの数だけ○をかきます。

22-③

先ほど問題の続きのお話です。園庭で遊んでいる子の中で半分に分かれてドンじゃんけんゲームをすることにしました。1チームの人数は何人ですか。その数だけ○をかきます。

22-④

先ほどの問題の続きのお話です。ドンじゃんけんゲームをしていたら教室で遊んでいるお友だちが4人やってきて、一緒にやることになりました。さっきまでいたお友だちと新しく来たお友だちでもう一度半分に分かれてチームを作りました。1チームの人数は何人ですか。その数だけ○をかきます。

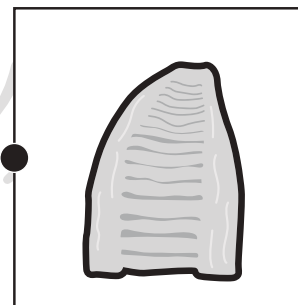

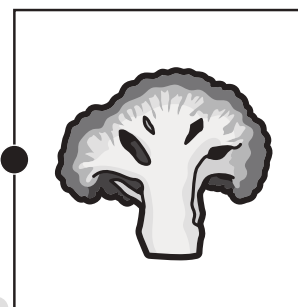
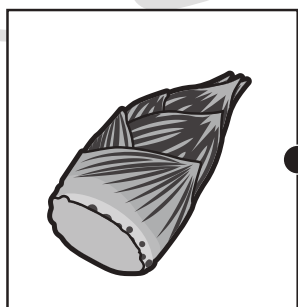
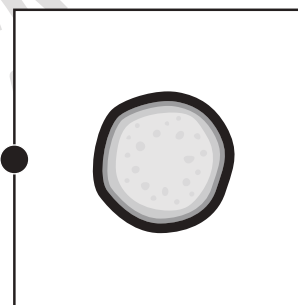

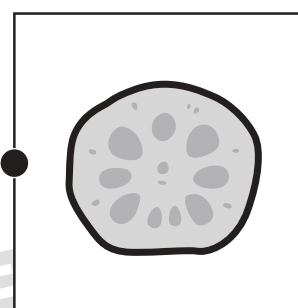
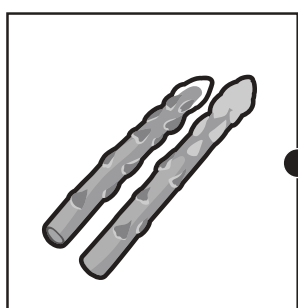
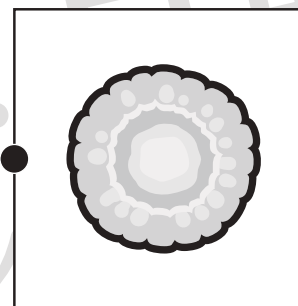



おうちで、やろう。

Study at home. 小学校受験の家庭学習教材

常識：断面図 4

左は果物、右は果物を半分に切ったときの絵のです。同じもの同士の点と点を線で結びます。



※1. このプリントは、しながわ・目黒こどもスクールのウェブサイトでダウンロードができます。無断複写・引用はご遠慮ください。

※2. このプリントを活用したオンライン授業のスケジュールは、しながわ・目黒こどもスクールのウェブサイトでご確認ください。





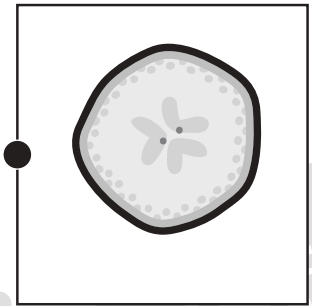

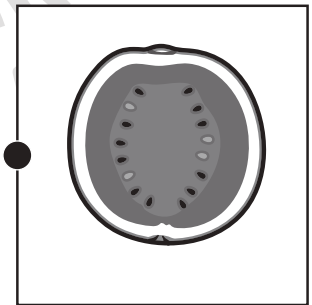

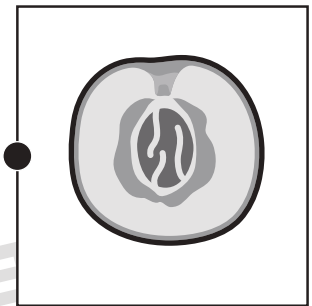

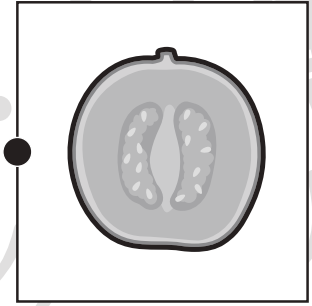
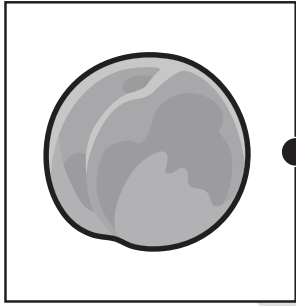


おうちで、やろう。

Study at home. 小学校受験の家庭学習教材

常識：断面図 5

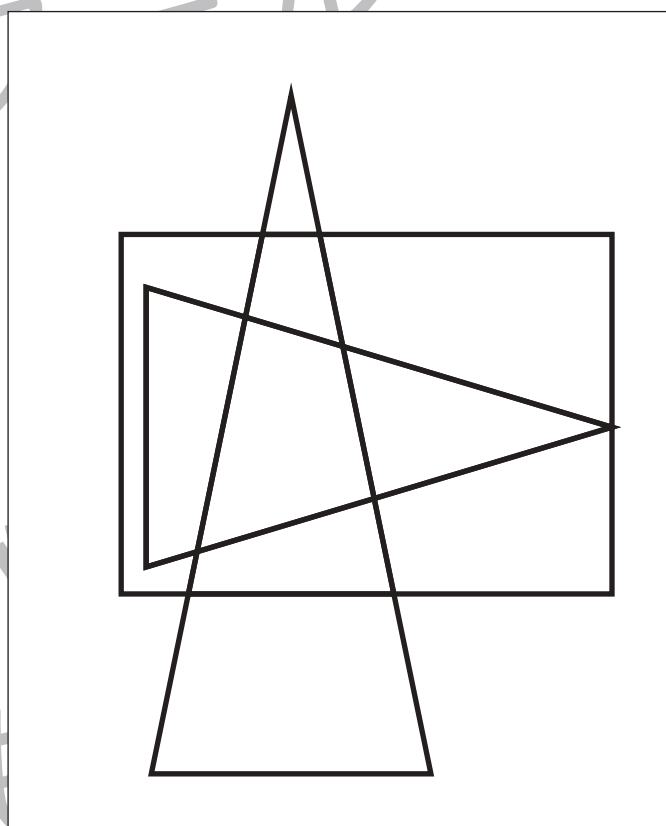
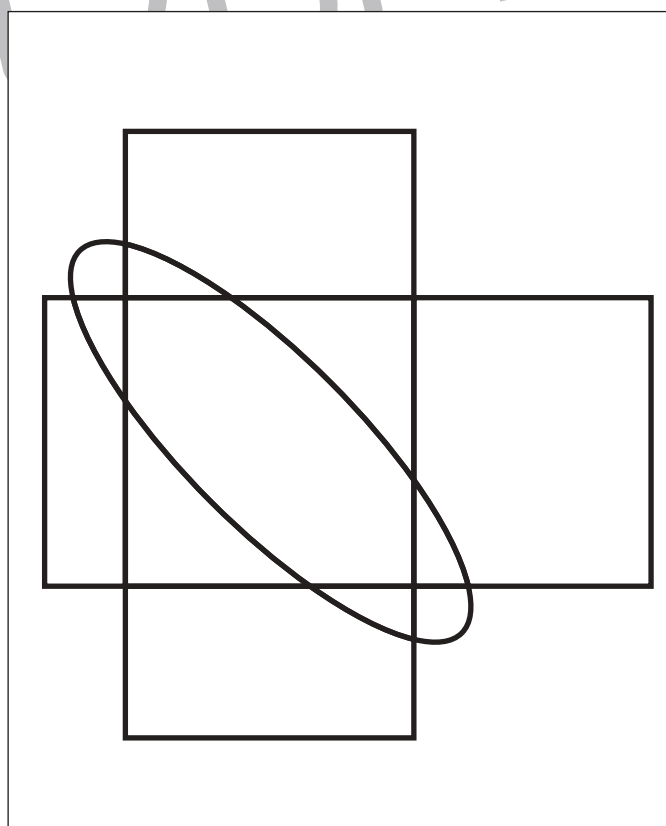

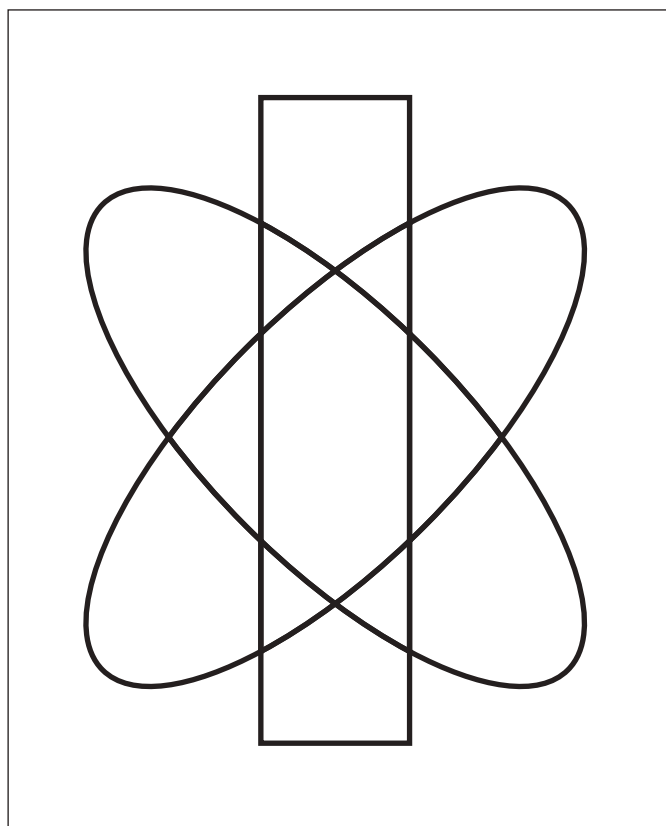
左は果物、右は果物を半分に切ったときの絵のです。同じもの同士の点と点を線で結びます。



※1. このプリントは、しながわ・目黒こどもスクールのウェブサイトでダウンロードができます。無断複写・引用はご遠慮ください。
※2. このプリントを活用したオンライン授業のスケジュールは、しながわ・目黒こどもスクールのウェブサイトでご確認ください。



四角の中には3つの形が重なったものがあります。この3つの形が重なっているところを見つけて色を塗ります。




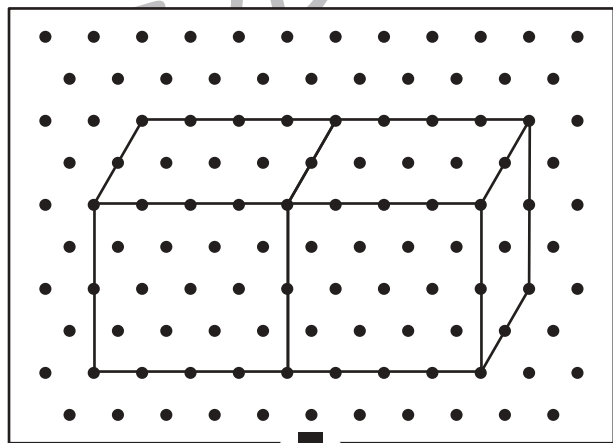

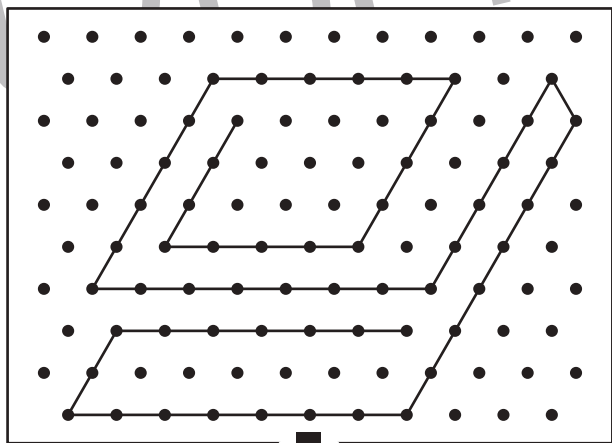

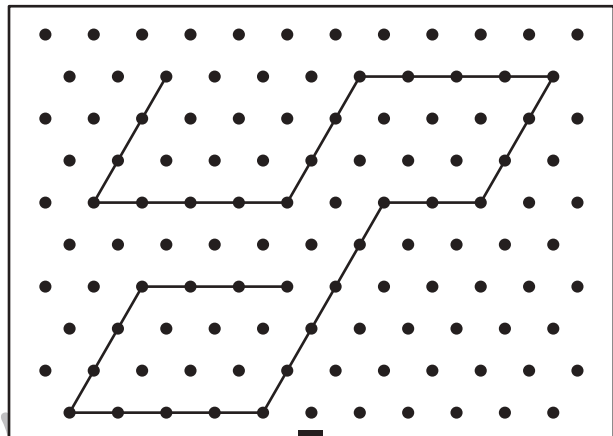

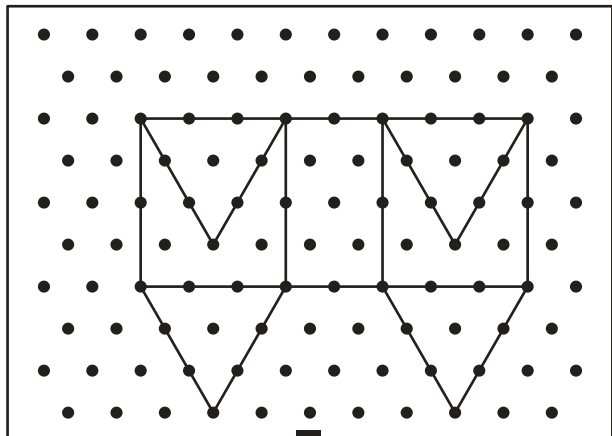


おうちで、よろう。

Study at home. 小学校受験の家庭学習教材

図形：点図形36

上のお手本と同じになるように下の四角の点と点を結びます。※このプリントに解答はありません。



※1. このプリントは、しながわ・目黒こどもスクールのウェブサイトからダウンロードできます。無断複写・引用はご遠慮ください。

※2. このプリントを活用したオンライン授業のスケジュールは、しながわ・目黒こどもスクールのウェブサイトでご確認ください。






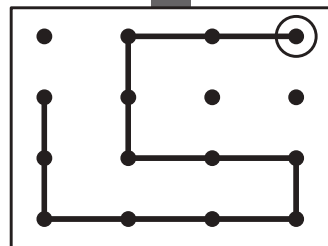
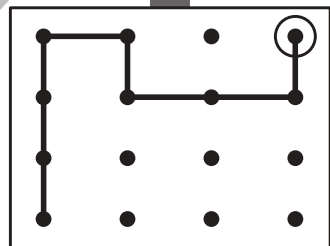
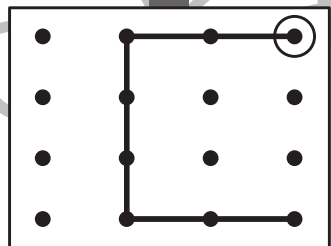



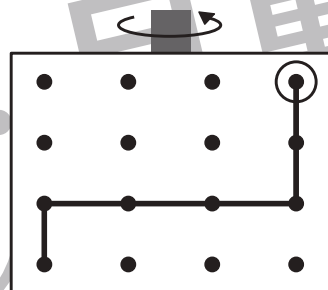
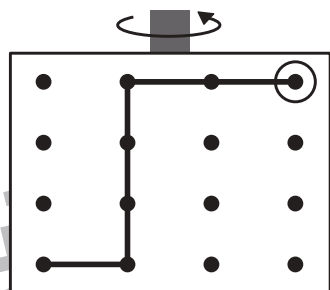
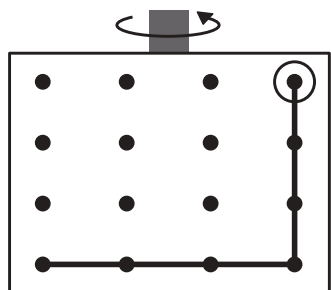


おうちで、やろう。

Study at home. 小学校受験の家庭学習教材

図形：反転 10

上の見本は透明な板にかかれた模様です。この板を上の方の矢印の方向へくると裏返しにした時の見え方を考えて下にかきます。



※1. このプリントは、しながわ・目黒こどもスクールのウェブサイトでダウンロードができます。無断複写・引用はご遠慮ください。

※2. このプリントを活用したオンライン授業のスケジュールは、しながわ・目黒こどもスクールのウェブサイトでご確認ください。






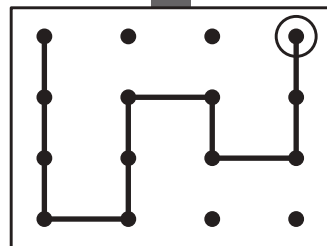
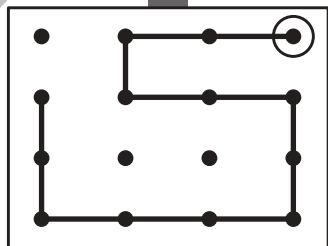
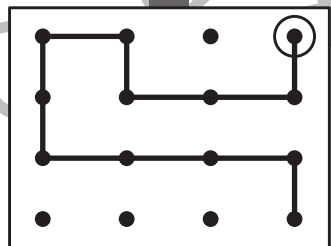



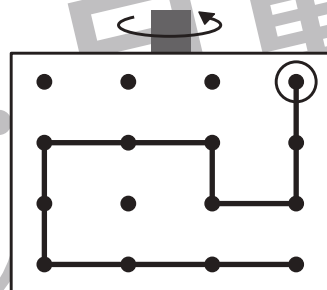
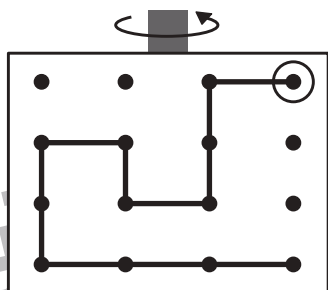
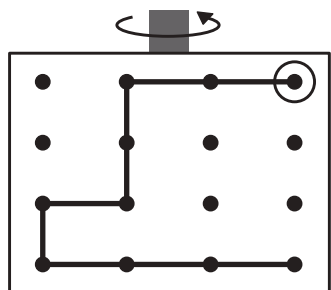


おうちで、やろう。

Study at home. 小学校受験の家庭学習教材

図形：反転 11

上の見本は透明な板にかかれた模様です。この板を上の方の矢印の方向へくると裏返しにした時の見え方を考えて下にかきます。



※1. このプリントは、しながわ・目黒こどもスクールのウェブサイトでダウンロードができます。無断複写・引用はご遠慮ください。
※2. このプリントを活用したオンライン授業のスケジュールは、しながわ・目黒こどもスクールのウェブサイトでご確認ください。



おうちで、やろう。

Study at home. 小学校受験の家庭学習教材

図形：反転 12

上の見本は透明な板にかかれた模様です。この板を上上の矢印の方向へくると裏返しにした時の見え方を考えて下にかきます。

The task involves identifying the circled dot in the bottom three rows based on the path shown in the top row after a 180-degree rotation. The paths in the top row are:

- Example 1: Path starts at (1,1), goes right to (1,4), then down to (4,4), then left to (4,1), then up to (1,1). The circled dot is at (1,1).
- Example 2: Path starts at (1,1), goes right to (1,2), then down to (2,2), then right to (2,4), then up to (1,4). The circled dot is at (1,4).
- Example 3: Path starts at (1,1), goes right to (1,4), then down to (4,4), then left to (4,2), then up to (3,2), then left to (3,1). The circled dot is at (3,2).

The circled dots in the bottom three rows are:

- Row 2, Column 1: (1,4)
- Row 2, Column 2: (1,1)
- Row 2, Column 3: (3,2)
- Row 3, Column 1: (4,4)
- Row 3, Column 2: (2,2)
- Row 3, Column 3: (2,4)
- Row 4, Column 1: (1,1)
- Row 4, Column 2: (1,4)
- Row 4, Column 3: (4,4)

※1. このプリントは、しながわ・目黒こどもスクールのウェブサイトでダウンロードができます。無断複写・引用はご遠慮ください。
※2. このプリントを活用したオンライン授業のスケジュールは、しながわ・目黒こどもスクールのウェブサイトでご確認ください。



おうちで、やろう。

Study at home. 小学校受験の家庭学習教材

数量：加減 21

別紙「数量：加減 21・22（問題文）」を使用して①～④の問題に答えましょう。

①

②

③

④



おうちで、やろう。

Study at home. 小学校受験の家庭学習教材

数量：加減 22

別紙「数量：加減 21・22（問題文）」を使用して①～④の問題に答えましょう。

①

②

③

④



おうちで、やろう。


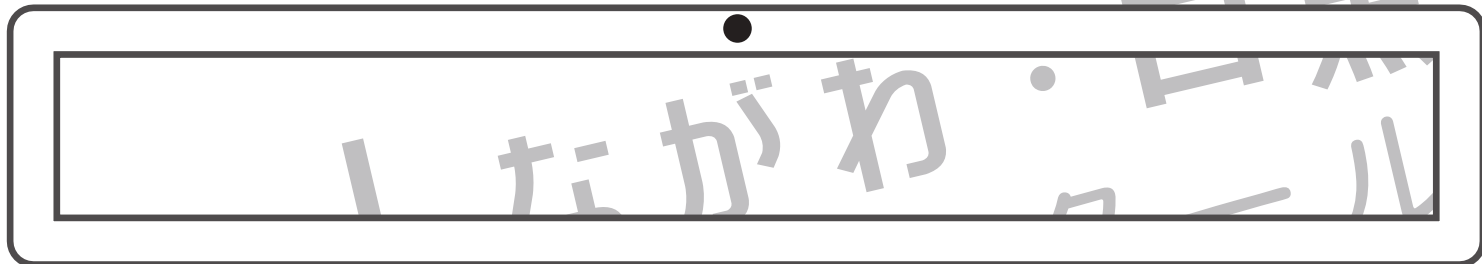
Study at home. 小学校受験の家庭学習教材

処理：運筆 4

黒い丸から一周線をかきます。壁にぶつからないようにきれいに素早く線をかきましょう。

この問題はスピードを意識して取り組む練習をしてみましょう。(1分～1分30秒)

※この問題に解答はありません。



※1. このプリントは、しながわ・目黒こどもスクールのウェブサイトでダウンロードができます。無断複写・引用はご遠慮ください。

※2. このプリントを活用したオンライン授業のスケジュールは、しながわ・目黒こどもスクールのウェブサイトでご確認ください。