

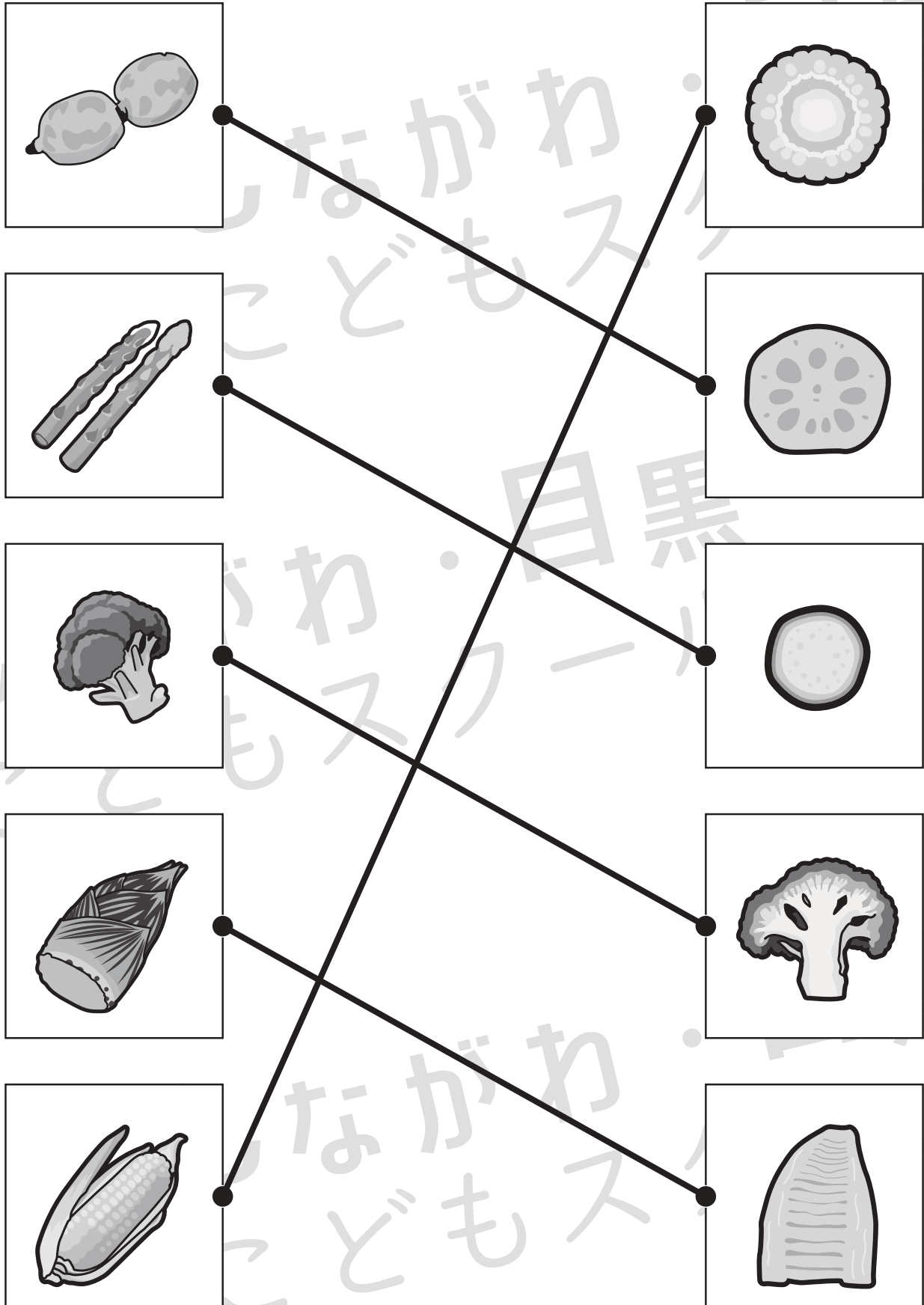


おうちで、やろう。

Study at home. 小学校受験の家庭学習教材

常識：断面図 4

左は果物、右は果物を半分に切ったときの絵のです。同じもの同士の点と点を線で結びます。



※1. このプリントは、しながわ・目黒こどもスクールのウェブサイトでダウンロードができます。無断複写・引用はご遠慮ください。

※2. このプリントを活用したオンライン授業のスケジュールは、しながわ・目黒こどもスクールのウェブサイトでご確認ください。

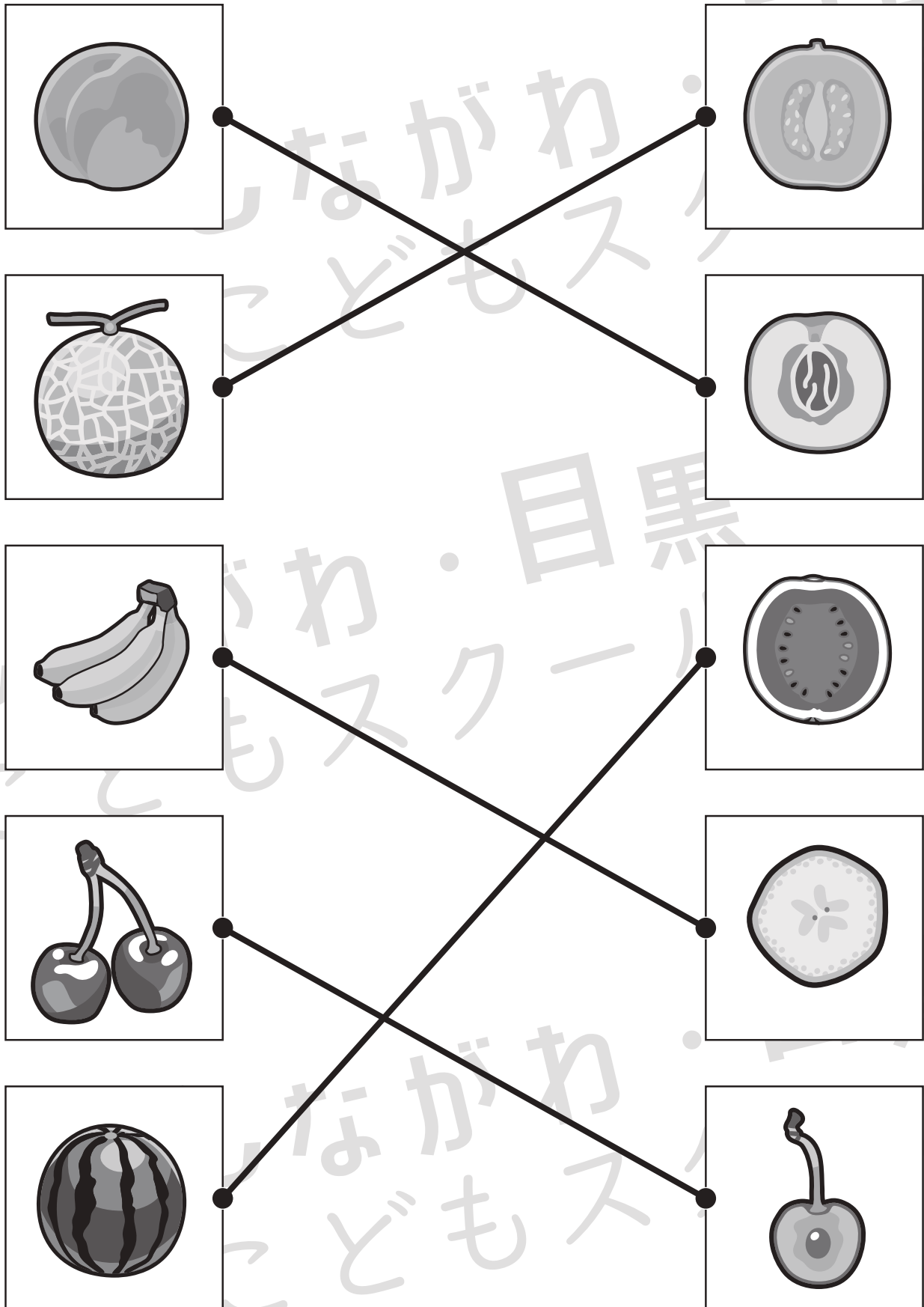


おうちで、やろう。

Study at home. 小学校受験の家庭学習教材

常識：断面図 5

左は果物、右は果物を半分に切ったときの絵のです。同じもの同士の点と点を線で結びます。

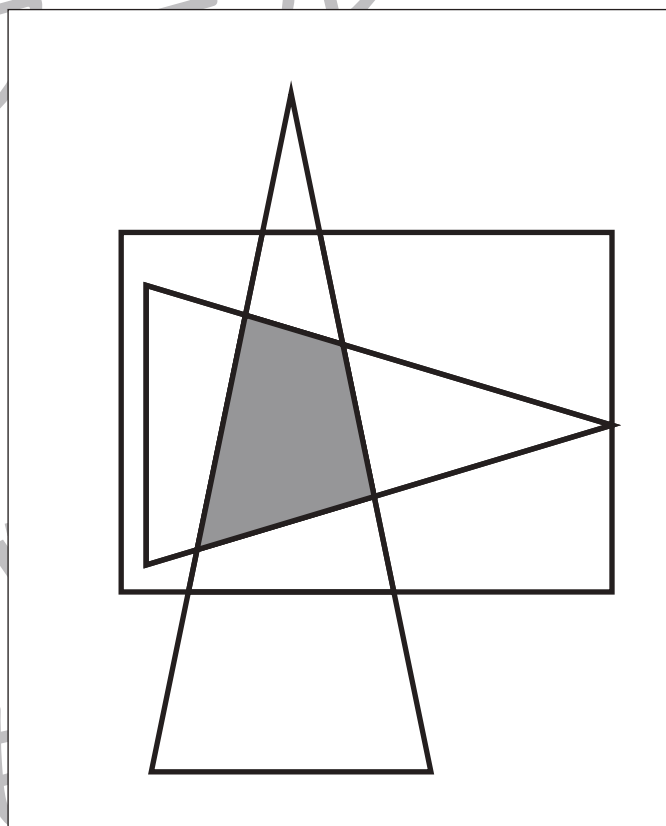
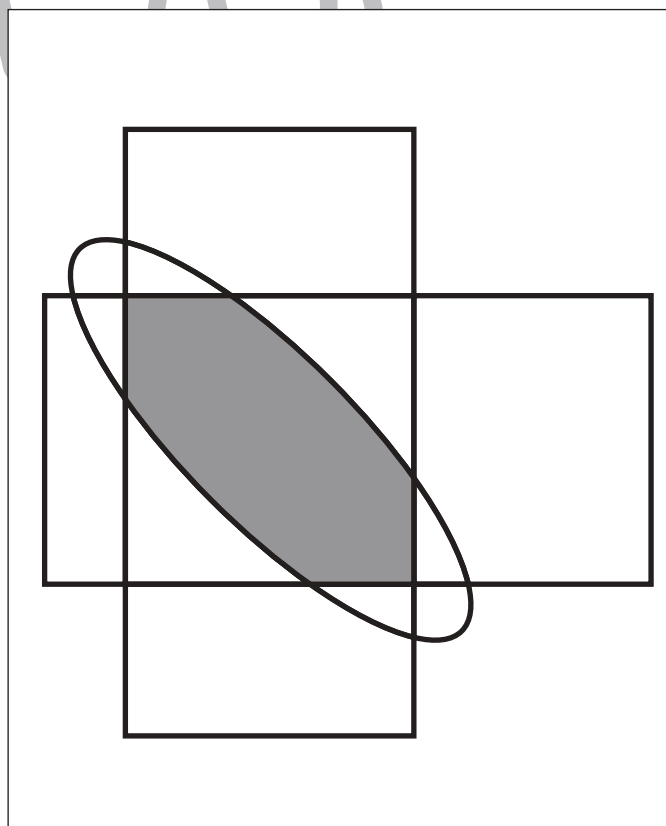
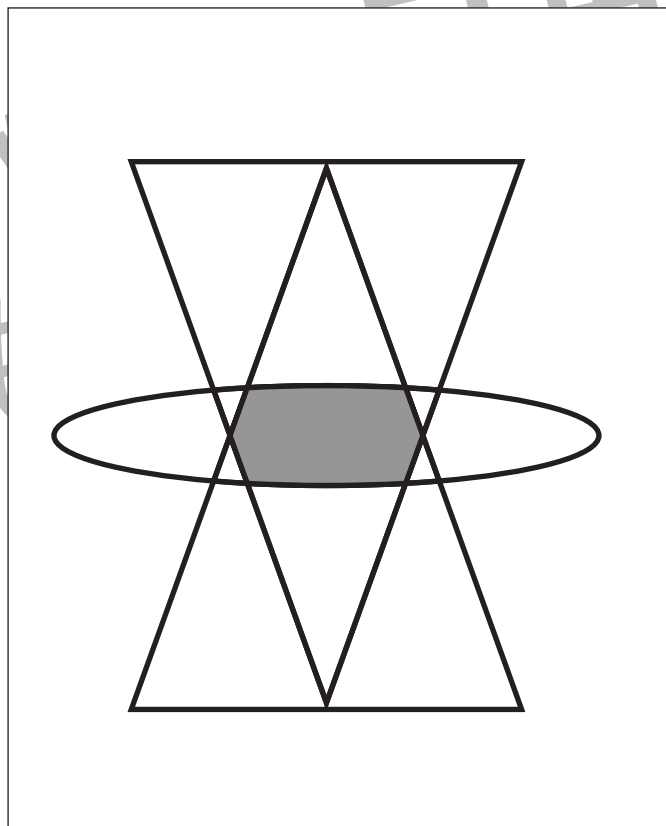
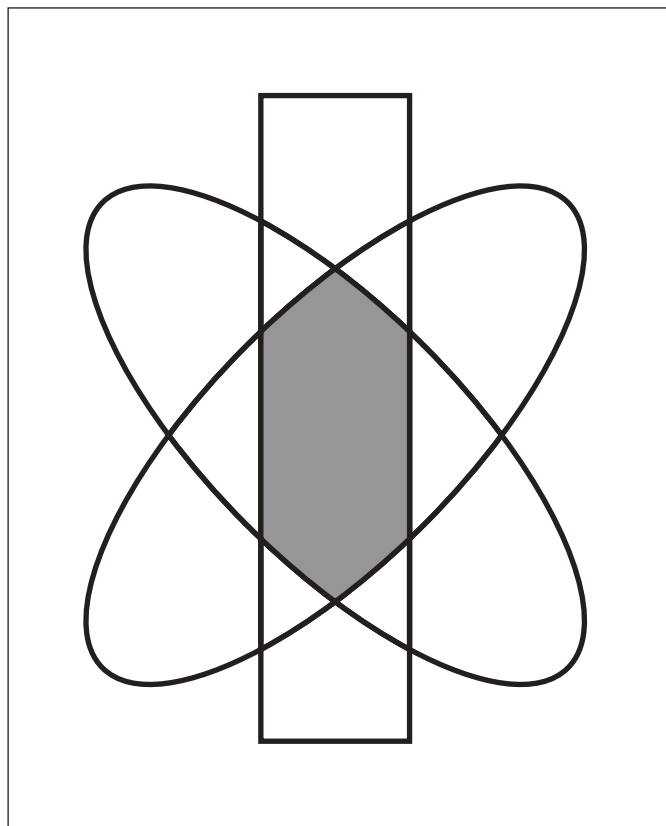


※1. このプリントは、しながわ・目黒こどもスクールのウェブサイトでダウンロードができます。無断複写・引用はご遠慮ください。

※2. このプリントを活用したオンライン授業のスケジュールは、しながわ・目黒こどもスクールのウェブサイトでご確認ください。



四角の中には3つの形が重なったものがあります。この3つの形が重なっているところを見つけて色を塗ります。



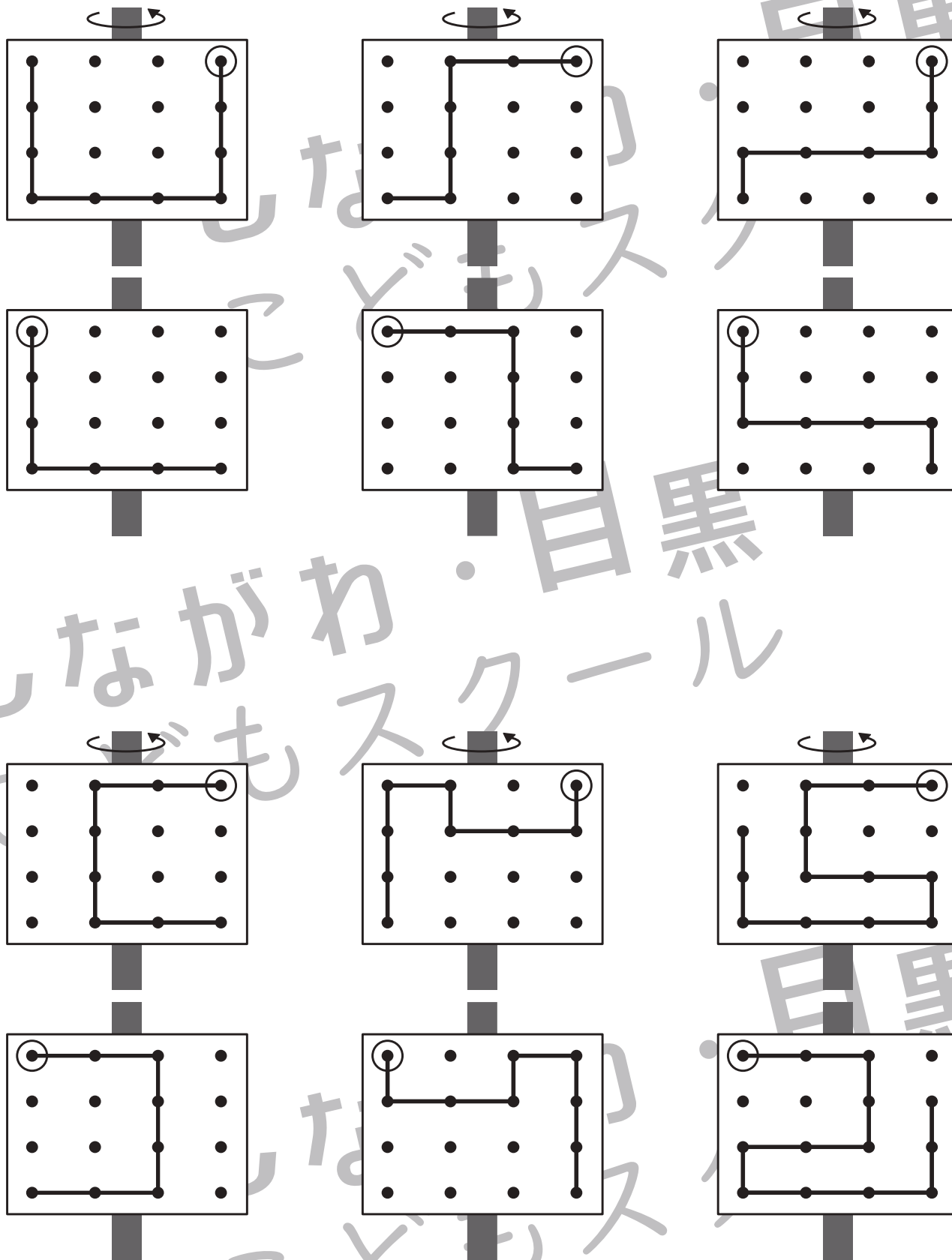


おうちで、やろう。

Study at home. 小学校受験の家庭学習教材

図形：反転 10

上の見本は透明な板にかかれた模様です。この板を上の方の矢印の方向へくると裏返しにした時の見え方を考えて下にかきます。



※1. このプリントは、しながわ・目黒こどもスクールのウェブサイトでダウンロードができます。無断複写・引用はご遠慮ください。
 ※2. このプリントを活用したオンライン授業のスケジュールは、しながわ・目黒こどもスクールのウェブサイトでご確認ください。

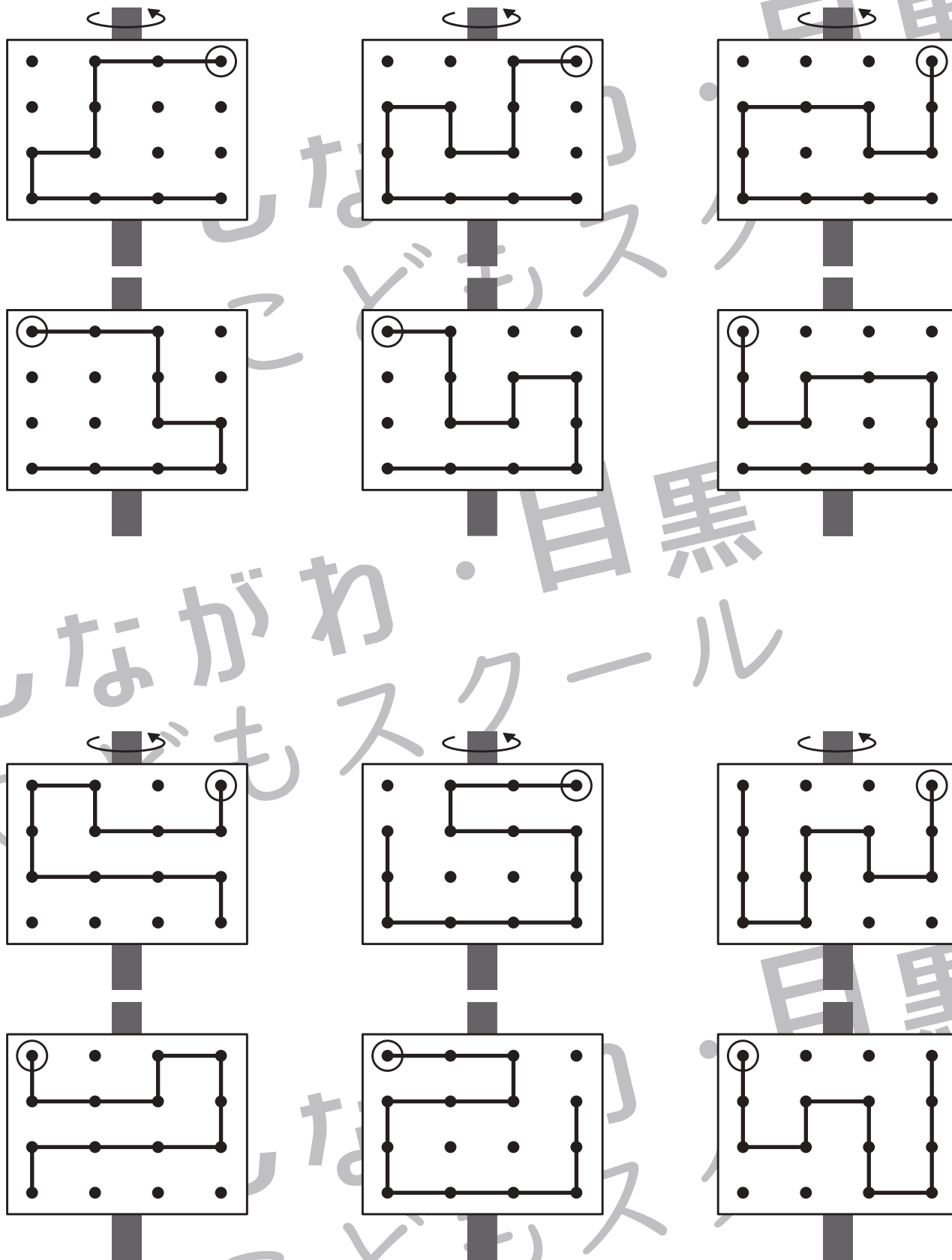


おうちで、やろう。

Study at home. 小学校受験の家庭学習教材

図形：反転 11

上の見本は透明な板にかかれた模様です。この板を上矢印の方向へくると裏返しにした時の見え方を考えて下にかきます。



※1. このプリントは、しながわ・目黒こどもスクールのウェブサイトでダウンロードができます。無断複写・引用はご遠慮ください。
 ※2. このプリントを活用したオンライン授業のスケジュールは、しながわ・目黒こどもスクールのウェブサイトでご確認ください。

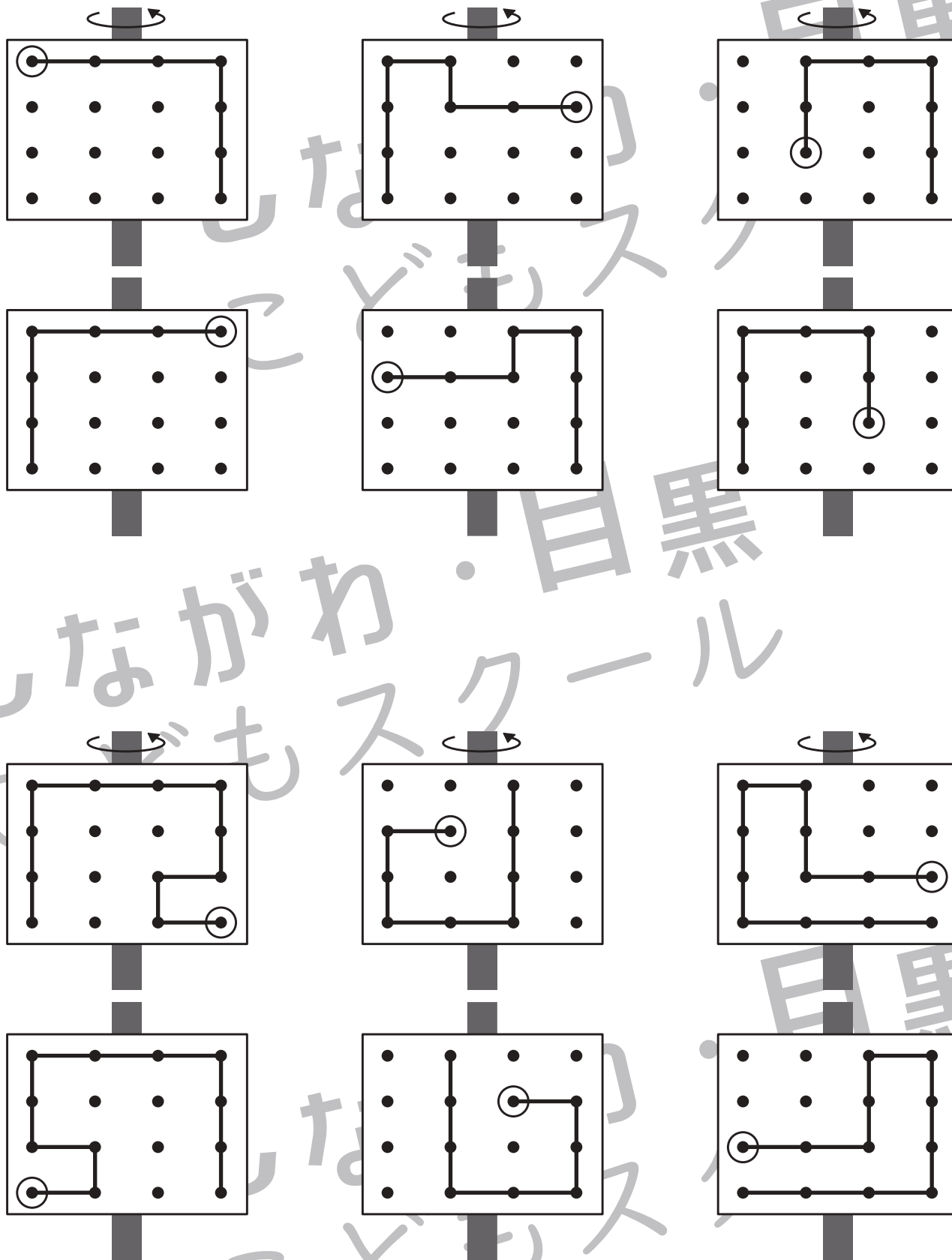


おうちで、やろう。

Study at home. 小学校受験の家庭学習教材

図形：反転 12

上の見本は透明な板にかかれた模様です。この板を上矢印の方向へくると裏返しにした時の見え方を考えて下にかきます。



※1. このプリントは、しながわ・目黒こどもスクールのウェブサイトでダウンロードができます。無断複写・引用はご遠慮ください。
 ※2. このプリントを活用したオンライン授業のスケジュールは、しながわ・目黒こどもスクールのウェブサイトでご確認ください。



おうちで、やろう。

Study at home. 小学校受験の家庭学習教材

数量：加減 21

別紙「数量：加減 21・22（問題文）」を使用して①～④の問題に答えましょう。

①

$$\bigcirc \times 10$$

②

$$\bigcirc \times 7$$

③

$$\bigcirc \times 2$$

④

$$\bigcirc \times 8$$



おうちで、やろう。

Study at home. 小学校受験の家庭学習教材

数量：加減 22

別紙「数量：加減 21・22（問題文）」を使用して①～④の問題に答えましょう。

①

$$\bigcirc \times 7$$

②

$$\bigcirc \times 6$$

③

$$\bigcirc \times 3$$

④

$$\bigcirc \times 5$$