



※別紙問題プリントを用意し、1問ずつとりくみましょう。

23-①

はなさんは鉛筆を4本持っています。お父さんとお母さんがそれぞれ2本ずつ新しい鉛筆をくれました。はなさんが持っている鉛筆は全部で何本ですか。その数だけ○をかきます。

23-②

先ほどの問題の続きのお話です。はなさんはたくさん鉛筆が集まったので、妹に2本、弟に1本鉛筆をあげました。はなさんが持っている鉛筆は何本ですか。その数だけ○をかきます。

23-③

先ほどの問題の続きのお話です。はなさんが勉強しているとお母さんが答え合わせをする赤鉛筆を3本買ってきてくれました。また、お父さんが間違えた問題を直す青鉛筆を2本買ってきてくれました。はなさんが持っている鉛筆は赤鉛筆、青鉛筆も合わせて全部で何本ですか。その数だけ○をかきます。

23-④

先ほどの問題の続きのお話です。はなさんは今ある赤鉛筆と青鉛筆を妹と弟とはなさんとで1本ずつになるように分けようと思いました。でもどちらかが足りません。足りない色の鉛筆の色で足りない数だけ○をかきます。

24-①

バスに人が12人乗っています。次のバス停で3人降りました。バスに乗っている人は何人ですか。その数だけ○をかきます。

24-②

先ほどの問題の続きのお話です。次のバス停では3人降りましたが、新しく2人乗ってきました。バスに乗っている人は何人ですか。その数だけ○をかきます。

24-③

先ほどの問題の続きのお話です。次のバス停でたくさんの人が降りてしまったので、バスに乗っている人が2人になってしまいました。このバス停で降りた人は何人ですか。その数だけ○をかきます。

24-④

先ほどの問題の続きのお話です。次のバス停ではたくさんの人が乗ってきたので、バスに乗っている人が11人になりました。このバス停で乗ってきた人は何人ですか。その数だけ○をかきます。

※1. このプリントは、しながわ・目黒こどもスクールのウェブサイトダウンロードができます。無断複写・引用はご遠慮ください。
※2. このプリントを活用したオンライン授業のスケジュールは、しながわ・目黒こどもスクールのウェブサイトでご確認ください。













おうちで、やろう。

Study at home. 小学校受験の家庭学習教材

常識：昔話3

あるお話の絵が左と右に並んでいます。同じお話同士を点と点を線で結びましょう。



※1. このプリントは、しながわ・目黒こどもスクールのウェブサイトでダウンロードができます。無断複写・引用はご遠慮ください。

※2. このプリントを活用したオンライン授業のスケジュールは、しながわ・目黒こどもスクールのウェブサイトでご確認ください。



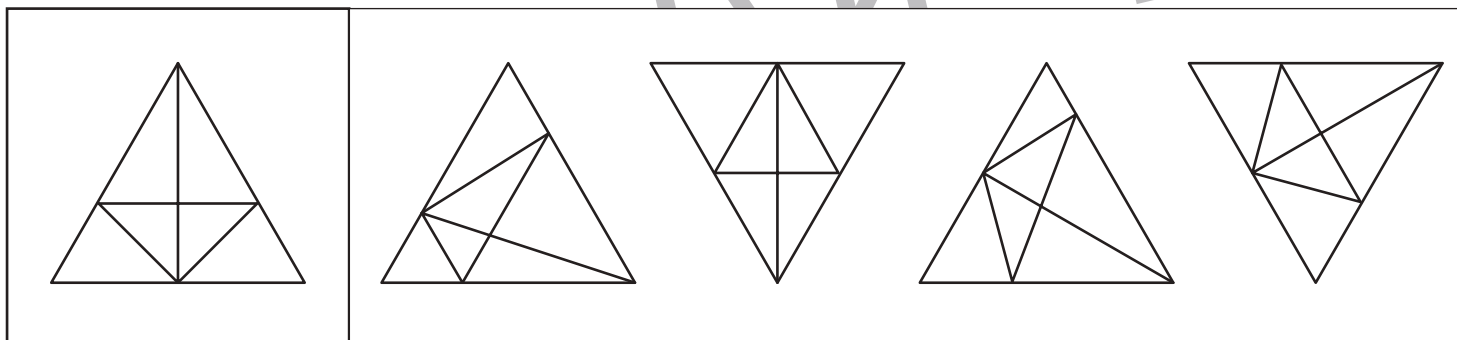
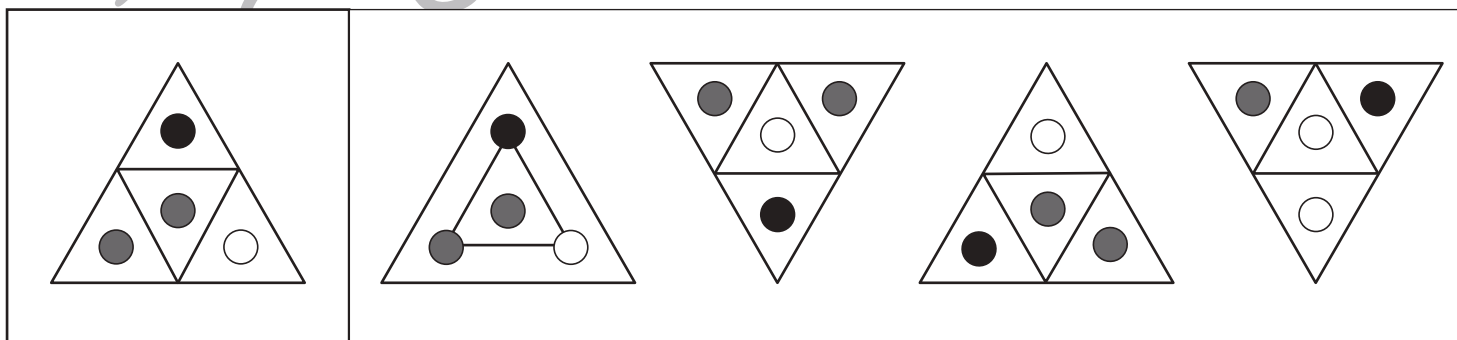
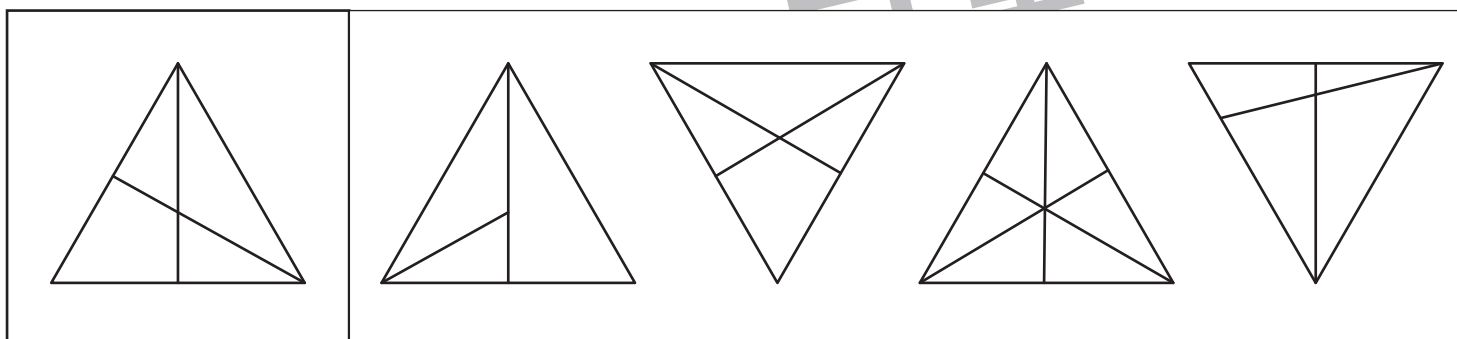
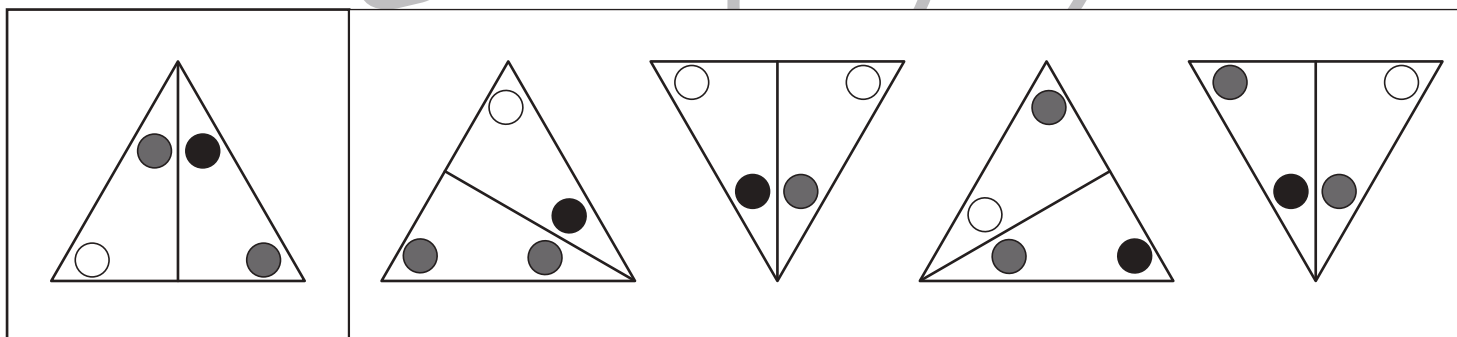
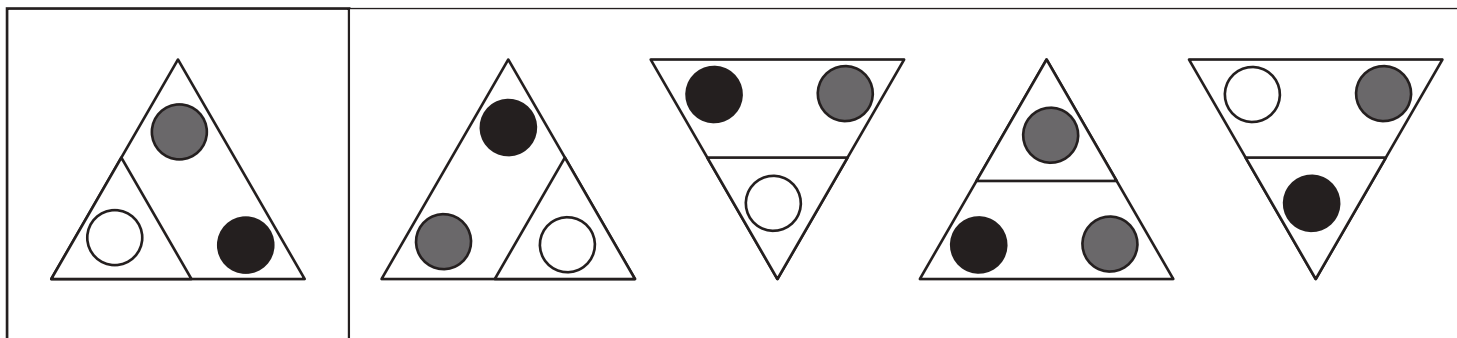


おうちで、やろう。

Study at home. 小学校受験の家庭学習教材

図形：同図形発見 4

左の四角の中と同じ形を右の四角の中から見つけて○をつけます。右の四角の中の形は回転しているものもあります。



※1. このプリントは、しながわ・目黒こどもスクールのウェブサイトでダウンロードができます。無断複写・引用はご遠慮ください。
 ※2. このプリントを活用したオンライン授業のスケジュールは、しながわ・目黒こどもスクールのウェブサイトでご確認ください。

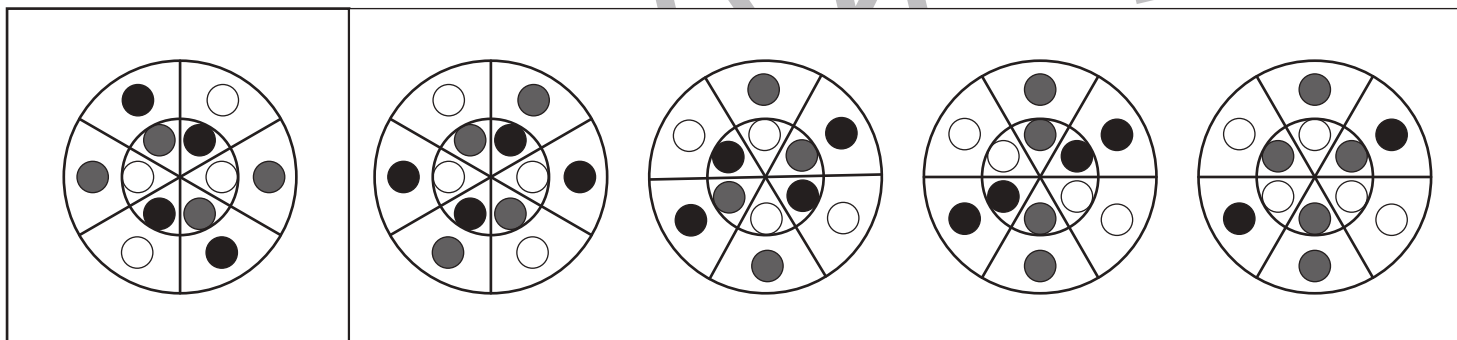
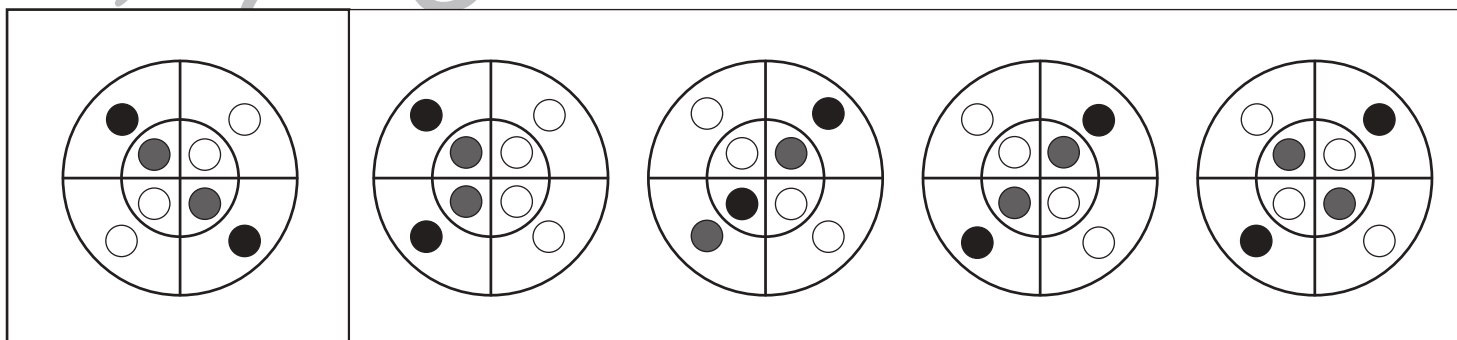
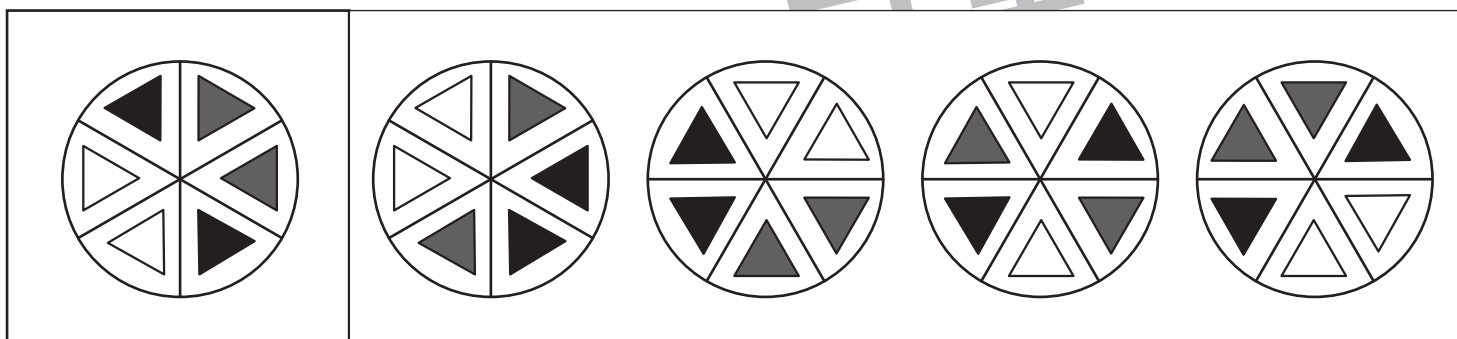
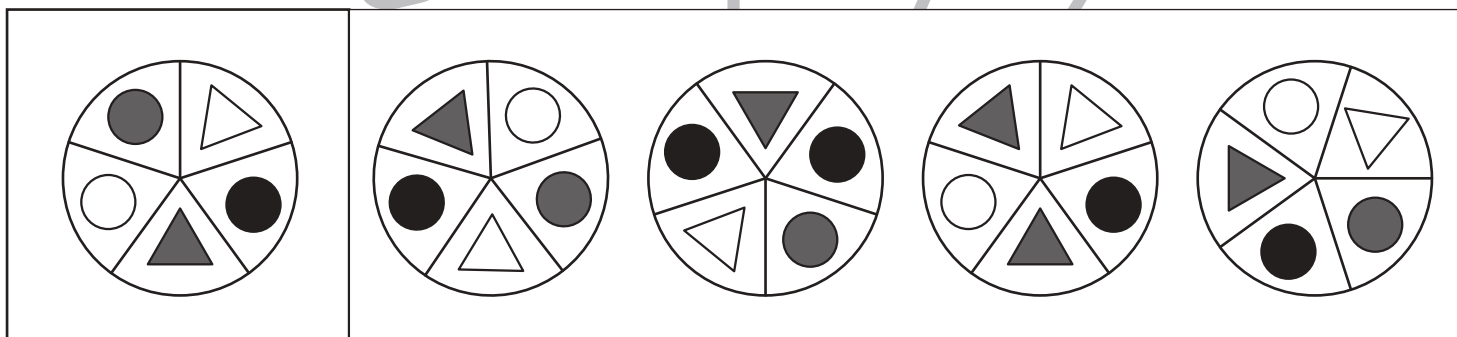
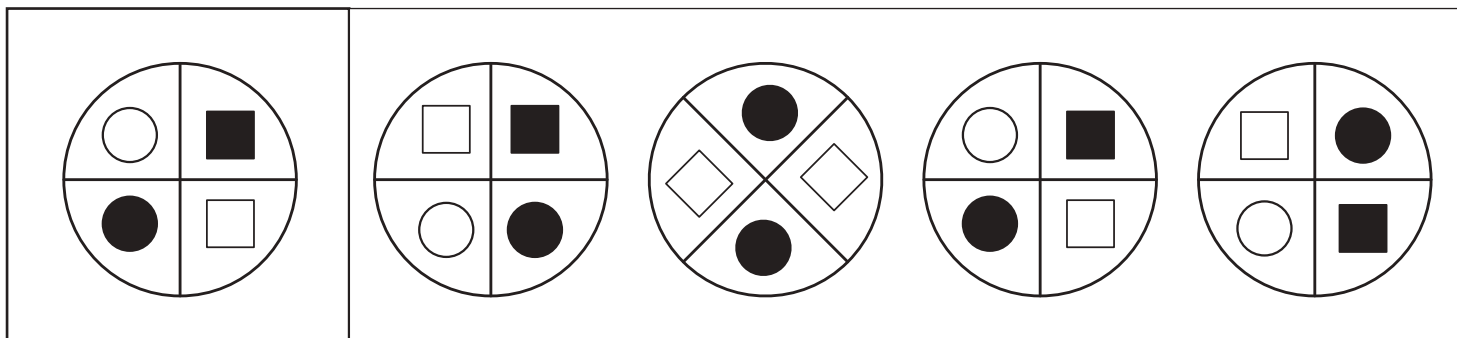


おうちで、やろう。

Study at home. 小学校受験の家庭学習教材

図形：同図形発見 5

左の四角の中と同じ形を右の四角の中から見つけて○をつけます。右の四角の中の形は回転しているものもあります。



※1. このプリントは、しながわ・目黒こどもスクールのウェブサイトからダウンロードできます。無断複写・引用はご遠慮ください。
 ※2. このプリントを活用したオンライン授業のスケジュールは、しながわ・目黒こどもスクールのウェブサイトでご確認ください。

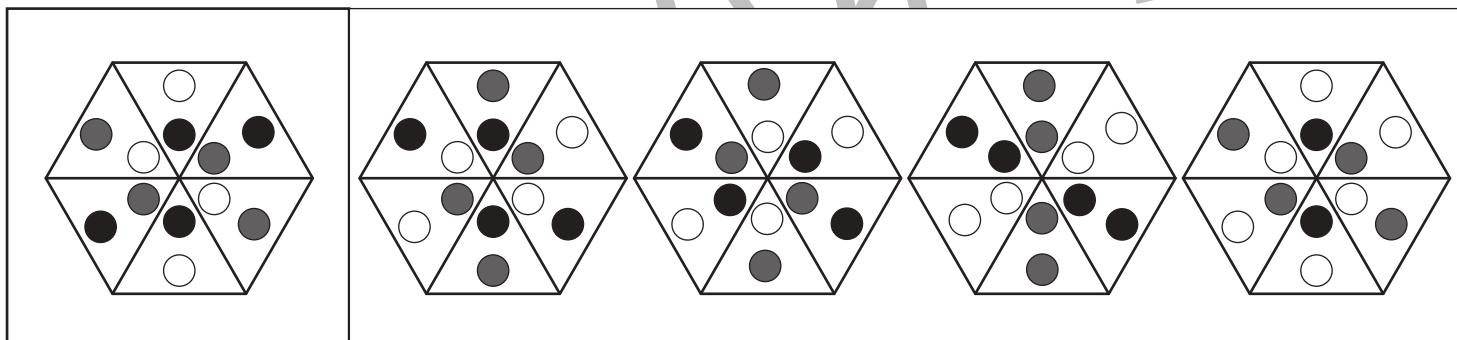


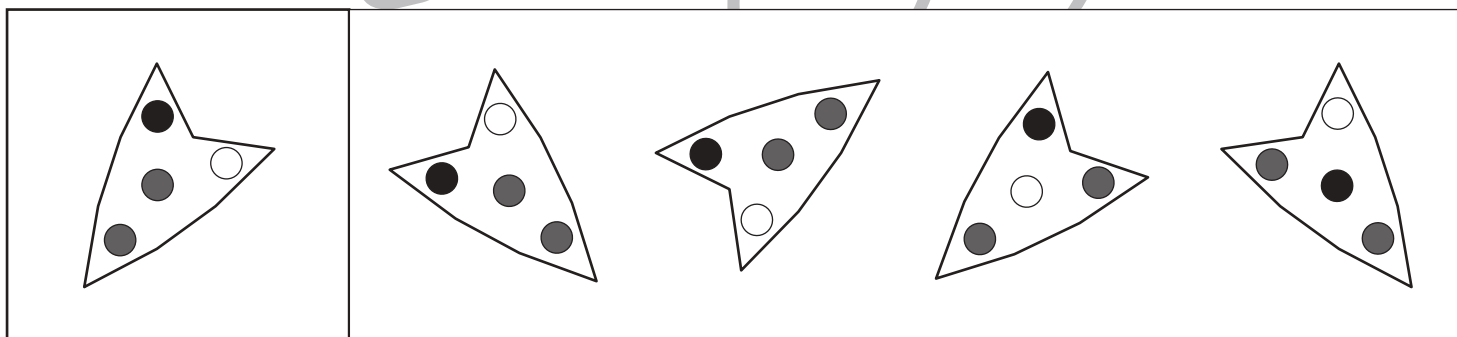
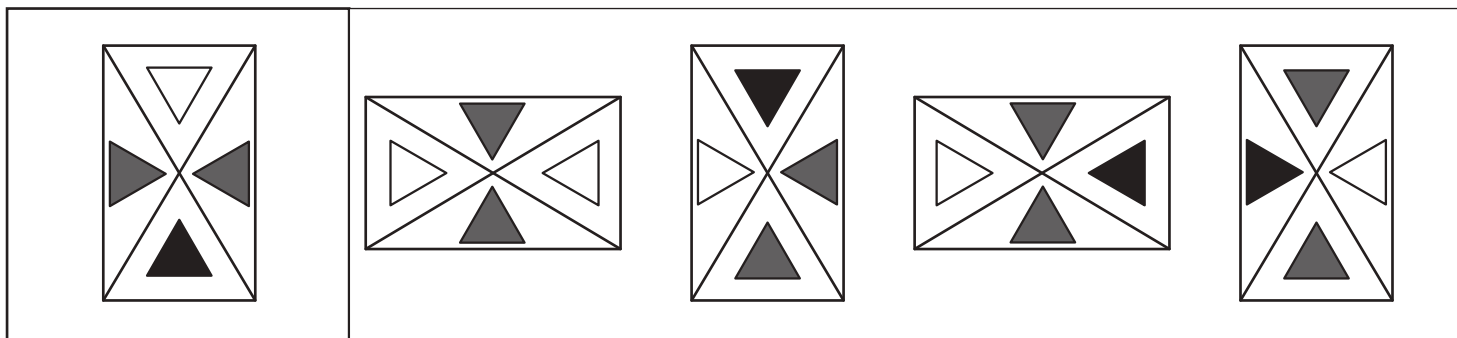


おうちで、やろう。

Study at home. 小学校受験の家庭学習教材

図形：同図形発見 6

左の四角の中と同じ形を右の四角の中から見つけて○をつけます。右の四角の中の形は回転しているものもあります。



※1. このプリントは、しながわ・目黒こどもスクールのウェブサイトでダウンロードができます。無断複写・引用はご遠慮ください。

※2. このプリントを活用したオンライン授業のスケジュールは、しながわ・目黒こどもスクールのウェブサイトでご確認ください。



おうちで、やろう。

Study at home. 小学校受験の家庭学習教材

図形：反転 13

上の見本は透明な板にかかれた模様です。この板を左の矢印の方向へくると裏返しにした時の見え方を考えて下にかきます。

The task consists of a 4x3 grid of dot patterns. Each pattern is a 4x4 grid of dots with a circled dot at the top-left or bottom-left corner. The top row shows the original patterns with a left-pointing arrow and a curved arrow indicating a 180-degree rotation. The bottom row shows the same patterns after rotation. The middle two rows are blank for practice.

※1. このプリントは、しながわ・目黒こどもスクールのウェブサイトでダウンロードができます。無断複写・引用はご遠慮ください。
 ※2. このプリントを活用したオンライン授業のスケジュールは、しながわ・目黒こどもスクールのウェブサイトでご確認ください。



おうちで、やろう。

Study at home. 小学校受験の家庭学習教材

図形：反転 14

上の見本は透明な板にかかれた模様です。この板を左の矢印の方向へくると裏返しにした時の見え方を考えて下にかきます。

※1. このプリントは、しながわ・目黒こどもスクールのウェブサイトでダウンロードができます。無断複写・引用はご遠慮ください。
 ※2. このプリントを活用したオンライン授業のスケジュールは、しながわ・目黒こどもスクールのウェブサイトでご確認ください。



おうちで、よろう。

Study at home. 小学校受験の家庭学習教材

図形：反転 15

上の見本は透明な板にかかれた模様です。この板を左の矢印の方向へくると裏返しにした時の見え方を考えて下にかきます。

※1. このプリントは、しながわ・目黒こどもスクールのウェブサイトでダウンロードができます。無断複写・引用はご遠慮ください。
 ※2. このプリントを活用したオンライン授業のスケジュールは、しながわ・目黒こどもスクールのウェブサイトでご確認ください。



おうちで、やろう。

Study at home. 小学校受験の家庭学習教材

数量：加減 23

別紙「数量：加減 23・24（問題文）」を使用して 23-①～23-④の問題に答えましょう。

①

②

③

④



おうちで、やろう。

Study at home. 小学校受験の家庭学習教材

数量：加減 24

別紙「数量：加減 23・24（問題文）」を使用して 23-①～23-④の問題に答えましょう。

①

②

③

④



おうちで、やろう。

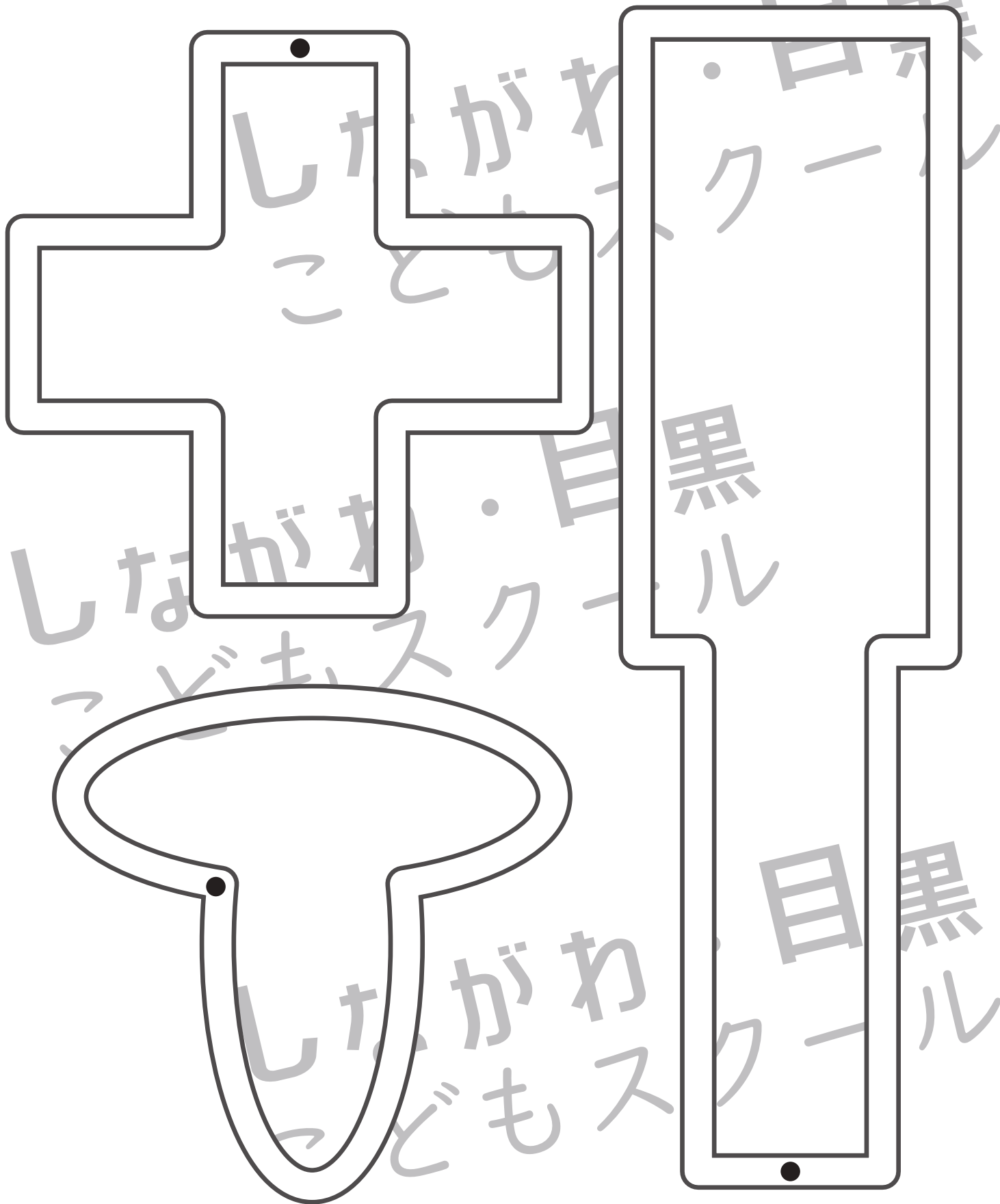
Study at home. 小学校受験の家庭学習教材

処理：運筆5

黒い丸から一周線をかきます。壁にぶつからないようにきれいに素早く線をかきましょう。

この問題はスピードを意識して取り組む練習をしてみましょう。(1分～1分30秒)

※この問題に解答はありません。



※1. このプリントは、しながわ・目黒こどもスクールのウェブサイトでダウンロードができます。無断複写・引用はご遠慮ください。

※2. このプリントを活用したオンライン授業のスケジュールは、しながわ・目黒こどもスクールのウェブサイトでご確認ください。