













おうちで、やろう。

Study at home. 小学校受験の家庭学習教材

常識：昔話3

あるお話の絵が左と右に並んでいます。同じお話同士を点と点を線で結びましょう。



※1. このプリントは、しながわ・目黒こどもスクールのウェブサイトでダウンロードができます。無断複写・引用はご遠慮ください。
※2. このプリントを活用したオンライン授業のスケジュールは、しながわ・目黒こどもスクールのウェブサイトでご確認ください。



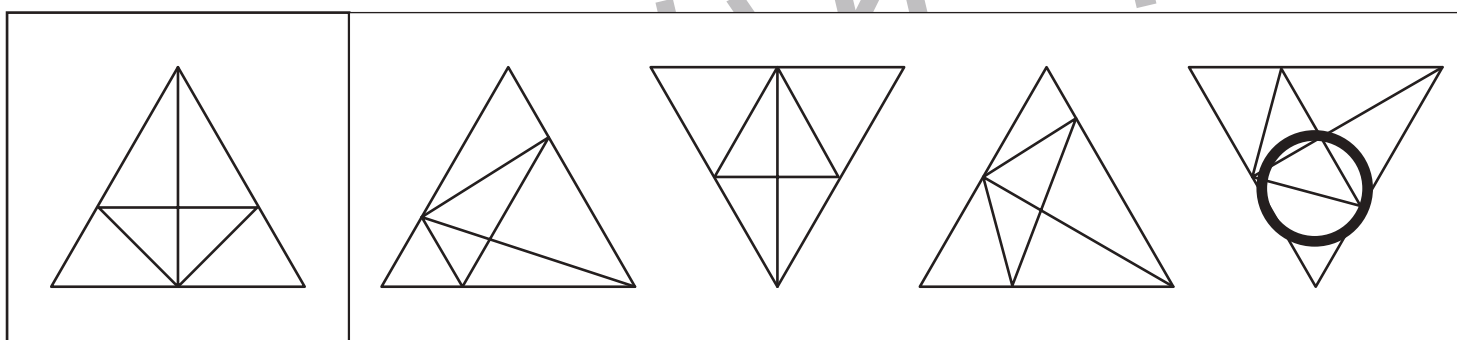
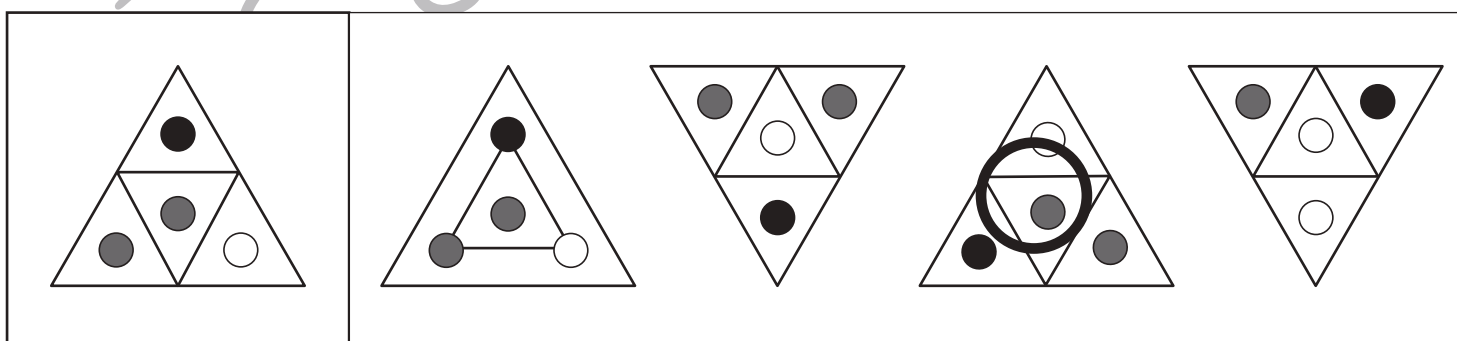
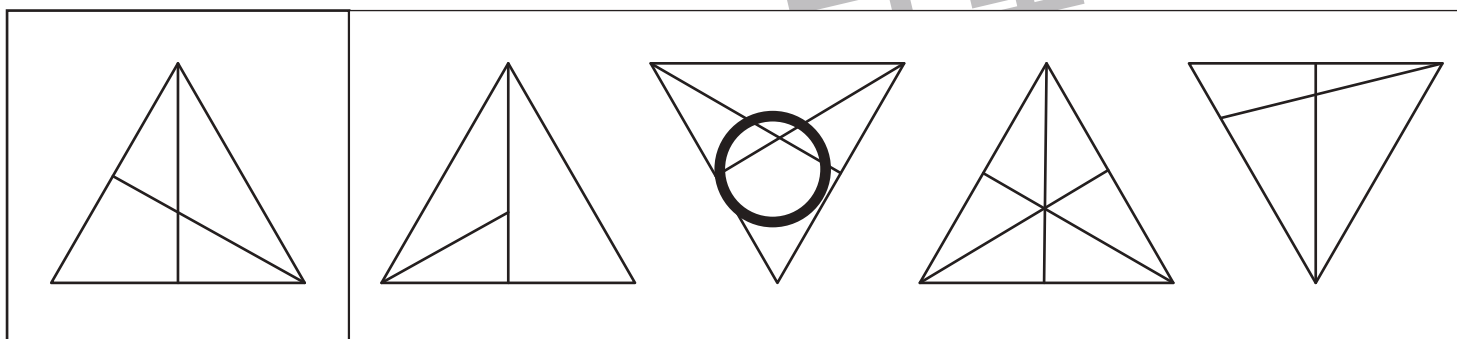
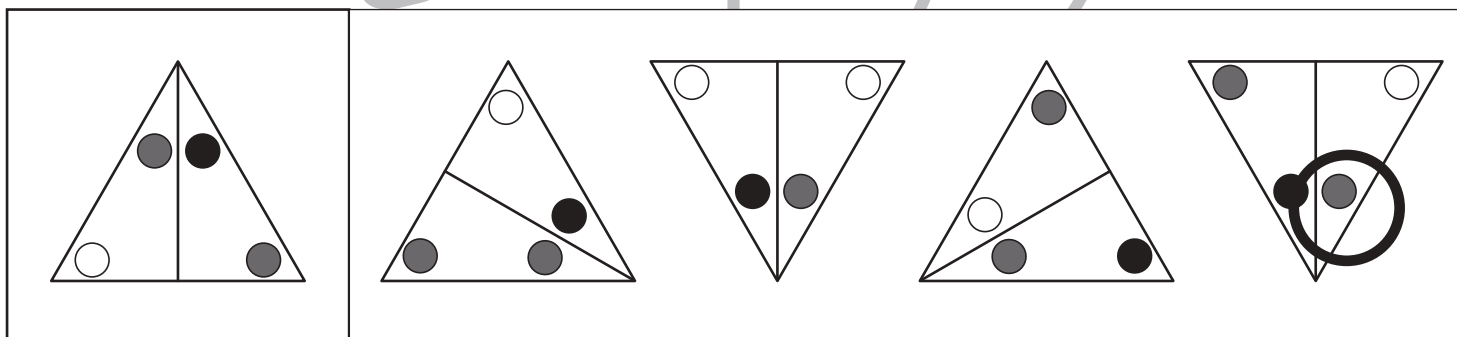
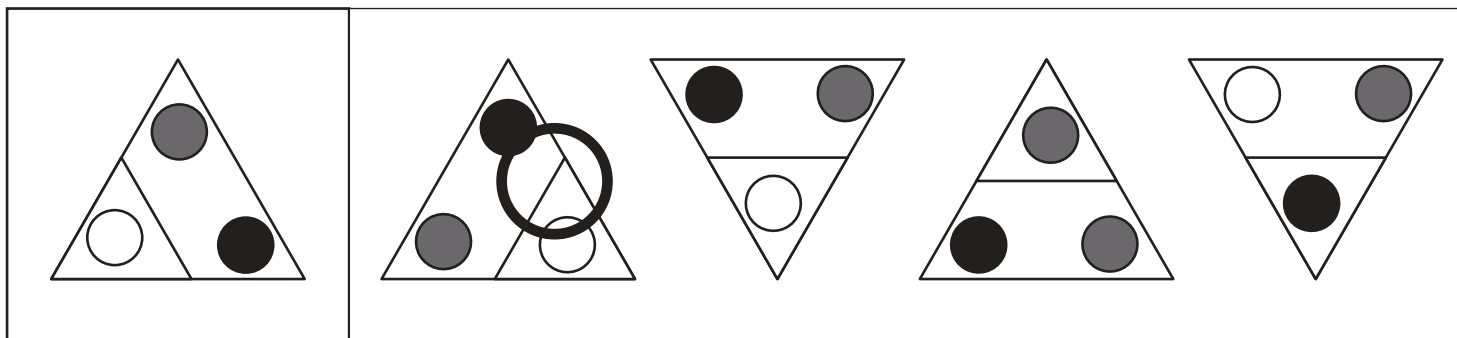


おうちで、やろう。

Study at home. 小学校受験の家庭学習教材

図形：同図形発見 4

左の四角の中と同じ形を右の四角の中から見つけて○をつけます。右の四角の中の形は回転しているものもあります。



※1. このプリントは、しながわ・目黒こどもスクールのウェブサイトでダウンロードができます。無断複写・引用はご遠慮ください。

※2. このプリントを活用したオンライン授業のスケジュールは、しながわ・目黒こどもスクールのウェブサイトでご確認ください。

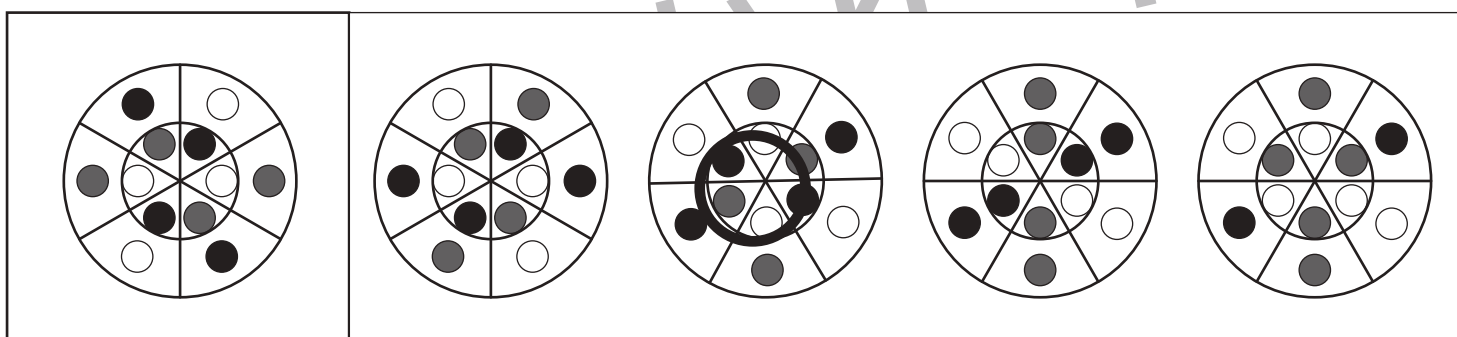
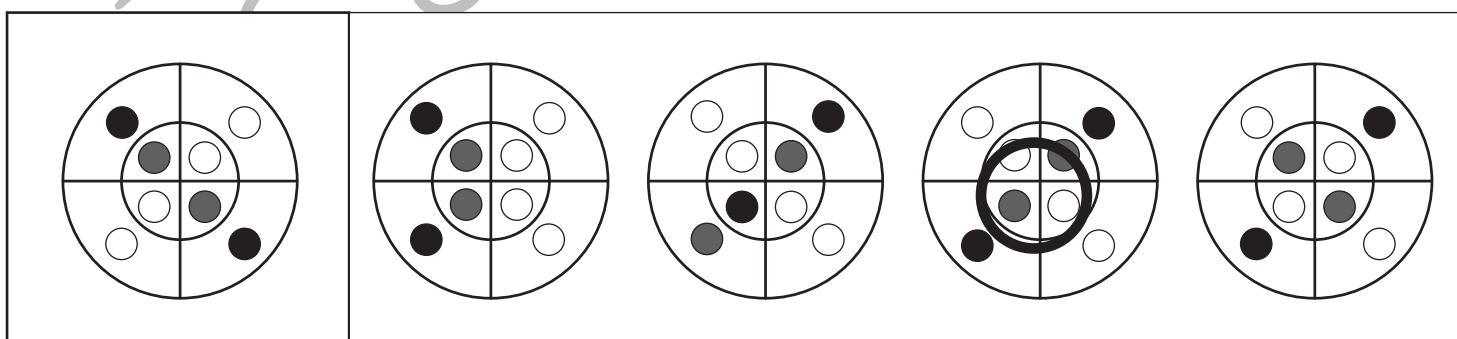

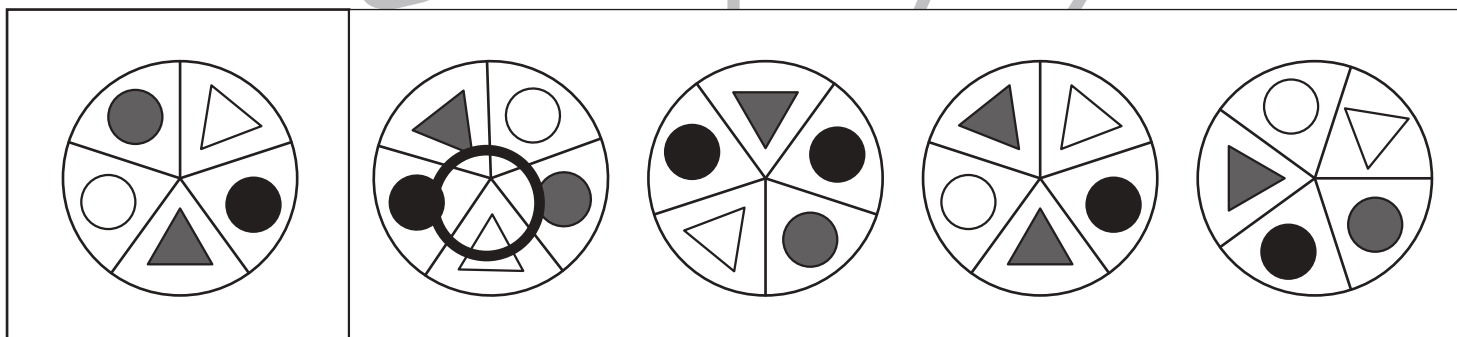
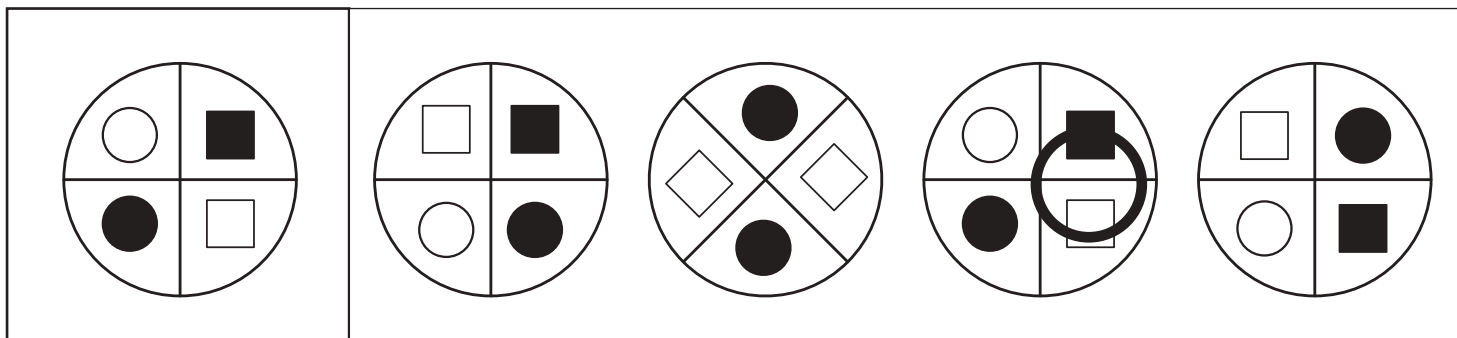


おうちで、やろう。

Study at home. 小学校受験の家庭学習教材

図形：同図形発見 5

左の四角の中と同じ形を右の四角の中から見つけて○をつけます。右の四角の中の形は回転しているものもあります。



※1. このプリントは、しながわ・目黒こどもスクールのウェブサイトからダウンロードできます。無断複写・引用はご遠慮ください。
 ※2. このプリントを活用したオンライン授業のスケジュールは、しながわ・目黒こどもスクールのウェブサイトでご確認ください。


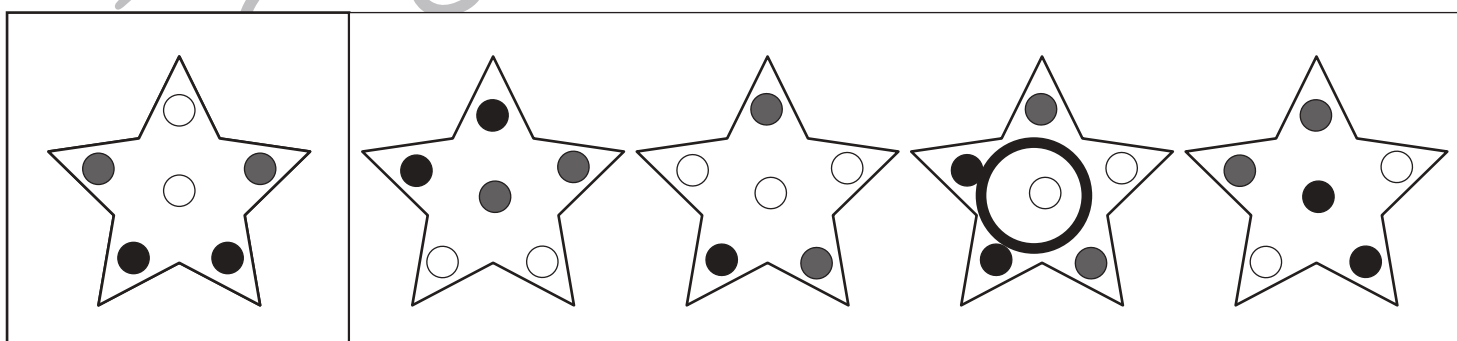

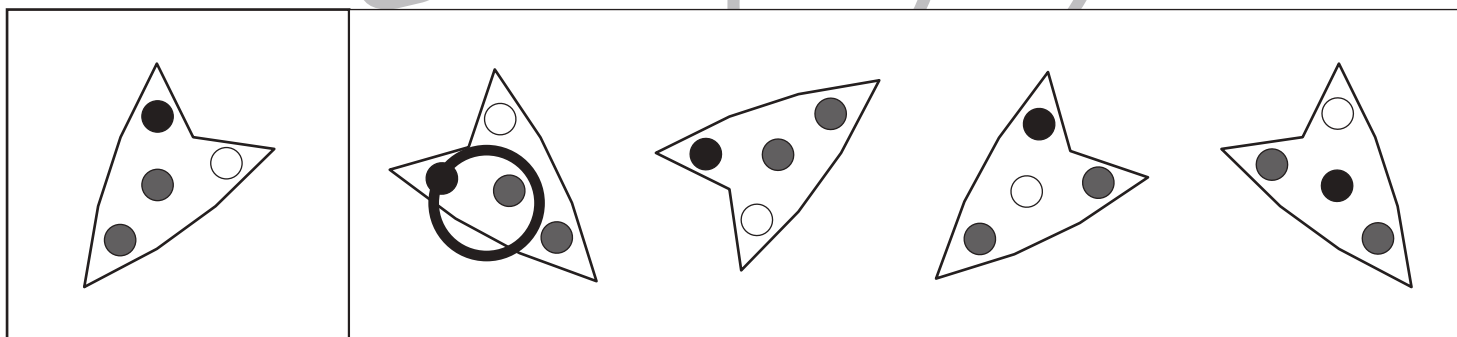
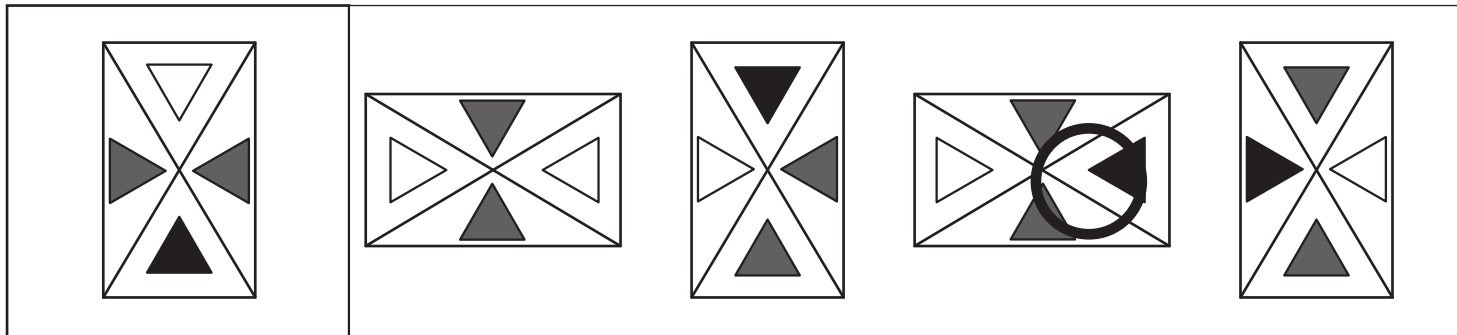


おうちで、やろう。

Study at home. 小学校受験の家庭学習教材

図形：同図形発見 6

左の四角の中と同じ形を右の四角の中から見つけて○をつけます。右の四角の中の形は回転しているものもあります。



※1. このプリントは、しながわ・目黒こどもスクールのウェブサイトでダウンロードができます。無断複写・引用はご遠慮ください。

※2. このプリントを活用したオンライン授業のスケジュールは、しながわ・目黒こどもスクールのウェブサイトでご確認ください。

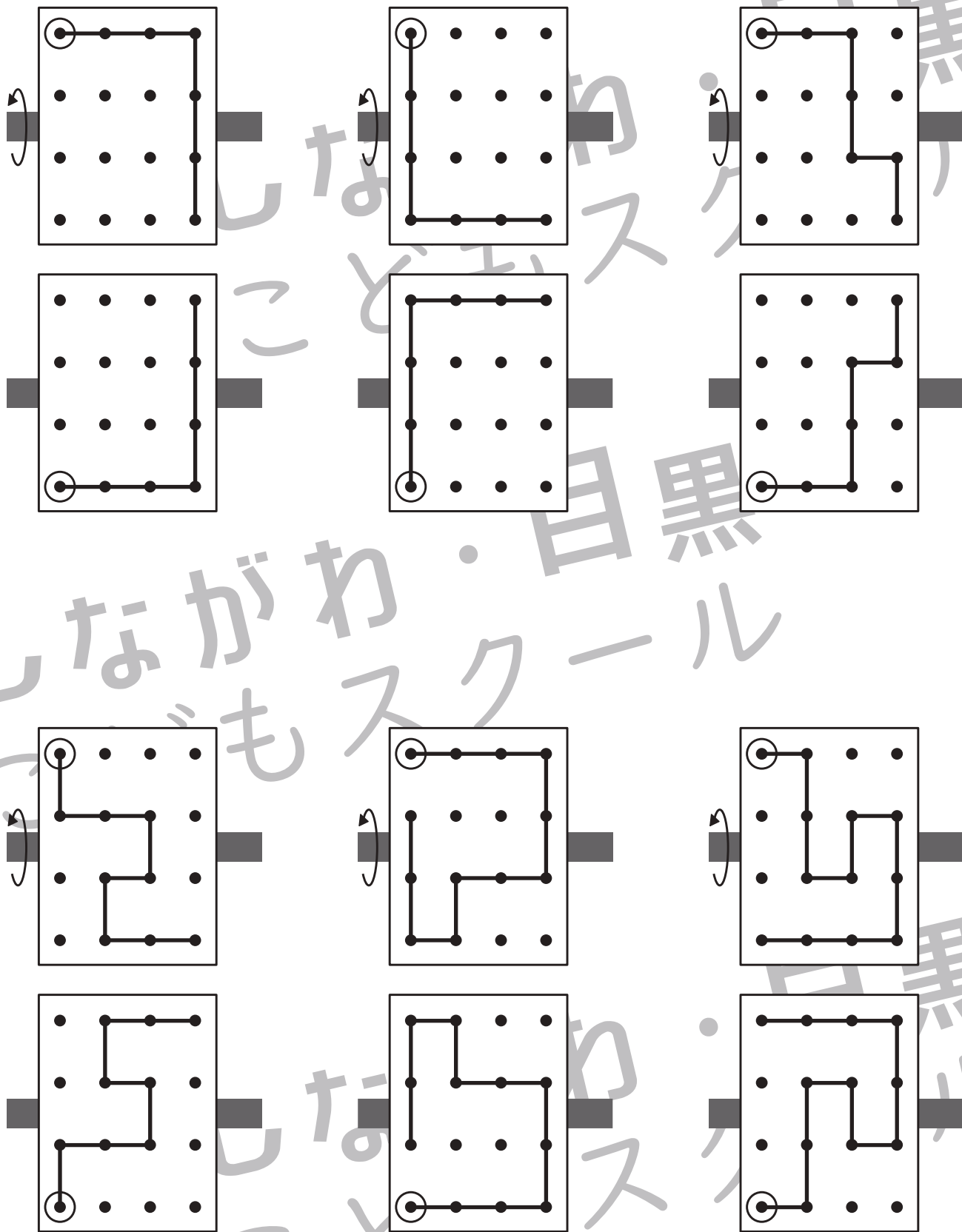


おうちで、やろう。

Study at home. 小学校受験の家庭学習教材

図形：反転 13

上の見本は透明な板にかかれた模様です。この板を左の矢印の方向へくると裏返しにした時の見え方を考えて下にかきます。



※1. このプリントは、しながわ・目黒こどもスクールのウェブサイトでダウンロードができます。無断複写・引用はご遠慮ください。
 ※2. このプリントを活用したオンライン授業のスケジュールは、しながわ・目黒こどもスクールのウェブサイトでご確認ください。

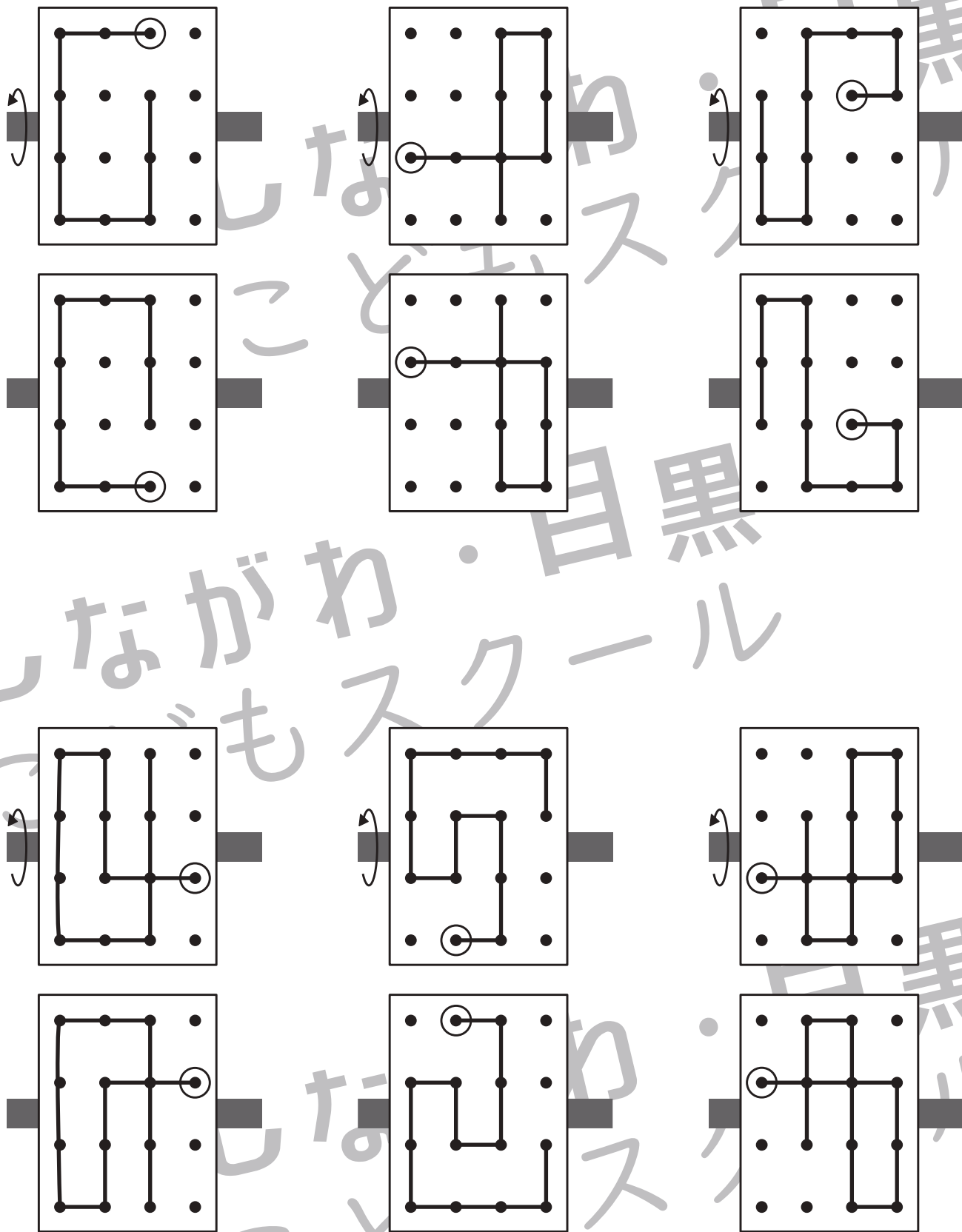


おうちで、やろう。

Study at home. 小学校受験の家庭学習教材

図形：反転 14

上の見本は透明な板にかかれた模様です。この板を左の矢印の方向へくると裏返しにした時の見え方を考えて下にかきます。



※1. このプリントは、しながわ・目黒こどもスクールのウェブサイトでダウンロードができます。無断複写・引用はご遠慮ください。
 ※2. このプリントを活用したオンライン授業のスケジュールは、しながわ・目黒こどもスクールのウェブサイトでご確認ください。

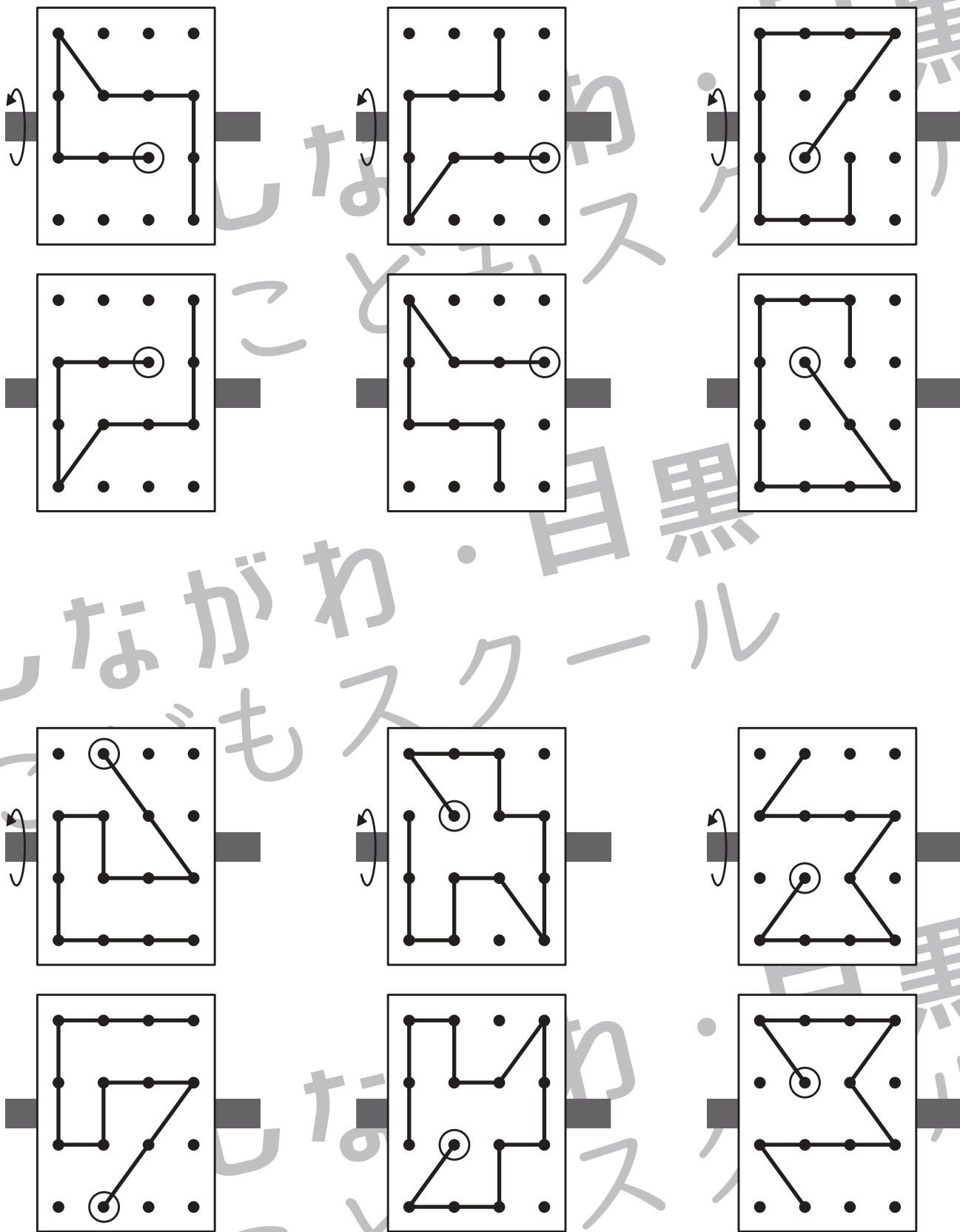


おうちで、やろう。

Study at home. 小学校受験の家庭学習教材

図形：反転 15

上の見本は透明な板にかかれた模様です。この板を左の矢印の方向へくると裏返しにした時の見え方を考えて下にかきます。



※1. このプリントは、しながわ・目黒こどもスクールのウェブサイトでダウンロードができます。無断複写・引用はご遠慮ください。
 ※2. このプリントを活用したオンライン授業のスケジュールは、しながわ・目黒こどもスクールのウェブサイトでご確認ください。



おうちで、やろう。

Study at home. 小学校受験の家庭学習教材

数量：加減 23

別紙「数量：加減 23・24（問題文）」を使用して 23-①～23-④の問題に答えましょう。

①

$$\bigcirc \times 8$$

②

$$\bigcirc \times 5$$

③

$$\bigcirc \times 10$$

④

$$\text{青い}\bigcirc \times 1$$



おうちで、やろう。

Study at home. 小学校受験の家庭学習教材

数量：加減 24

別紙「数量：加減 23・24（問題文）」を使用して 23-①～23-④の問題に答えましょう。

①

$$\bigcirc \times 9$$

②

$$\bigcirc \times 8$$

③

$$\bigcirc \times 6$$

④

$$\bigcirc \times 9$$