



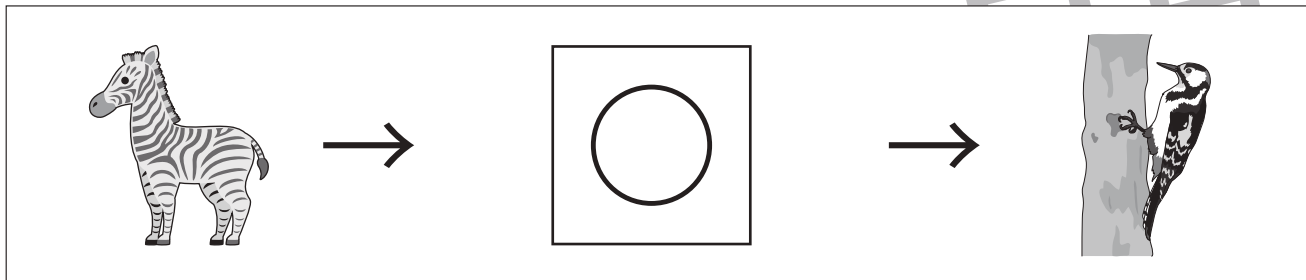
# おうちで、やろう。

Study at home. 小学校受験の家庭学習教材

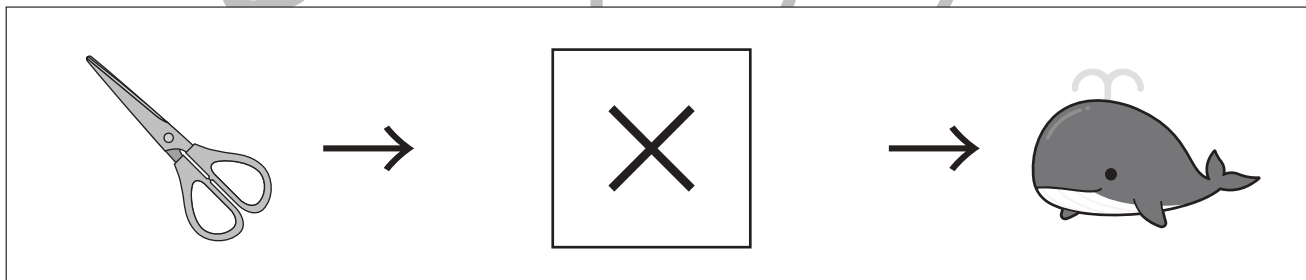
## 言語：しりとり7

左から順番にしりとりをします。ただし、終りから2番目の音でしりとりでつなげます。このとき、真ん中の四角に入る絵を下の四角の中から選んでそれぞれの四角の中の記号をつけます。

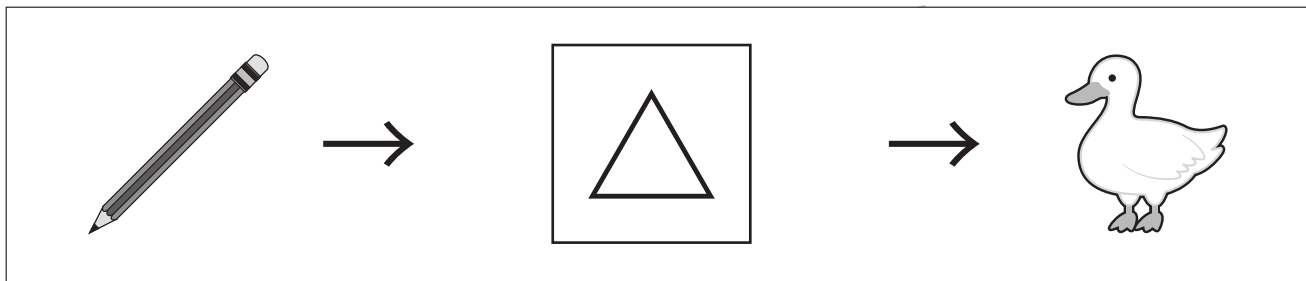
①




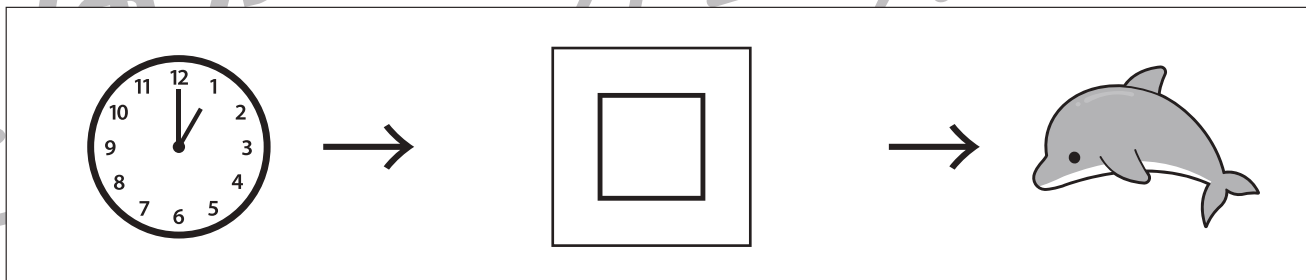
②



③



④



※1. このプリントは、しながわ・目黒こどもスクールのウェブサイトでダウンロードができます。無断複写・引用はご遠慮ください。

※2. このプリントを活用したオンライン授業のスケジュールは、しながわ・目黒こどもスクールのウェブサイトでご確認ください。



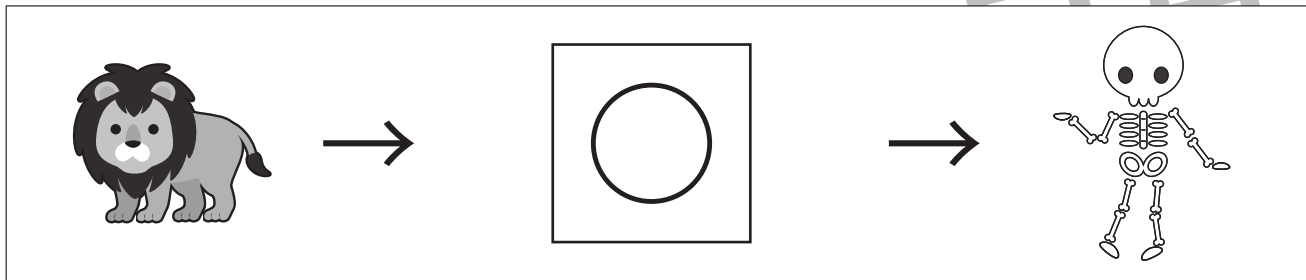
# おうちで、やろう。

Study at home. 小学校受験の家庭学習教材

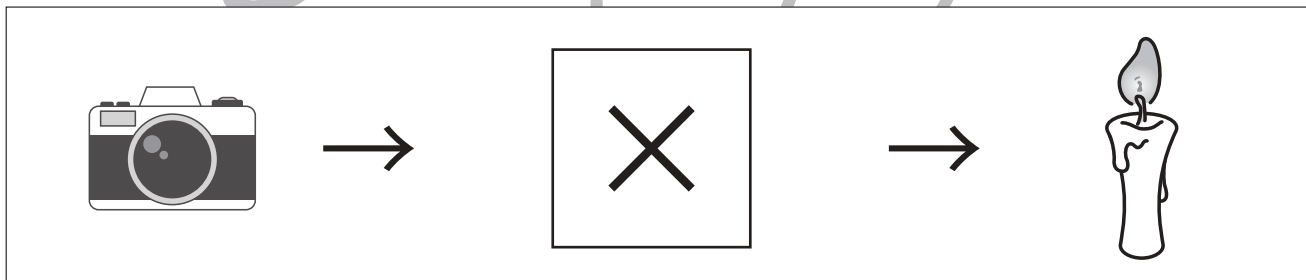
言語：しりとり8

左から順番にしりとりをします。ただし、終りから2番目の音でしりとりでつなげます。このとき、真ん中の四角に入る絵を下の四角の中から選んでそれぞれの四角の中の記号をつけます。

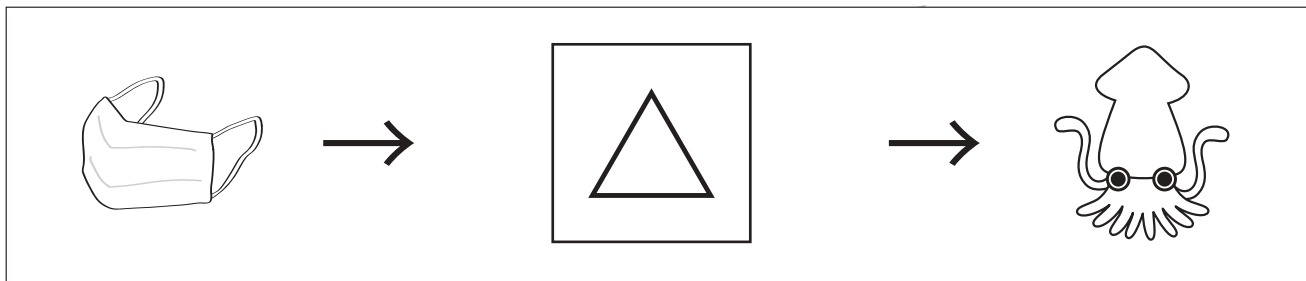
①




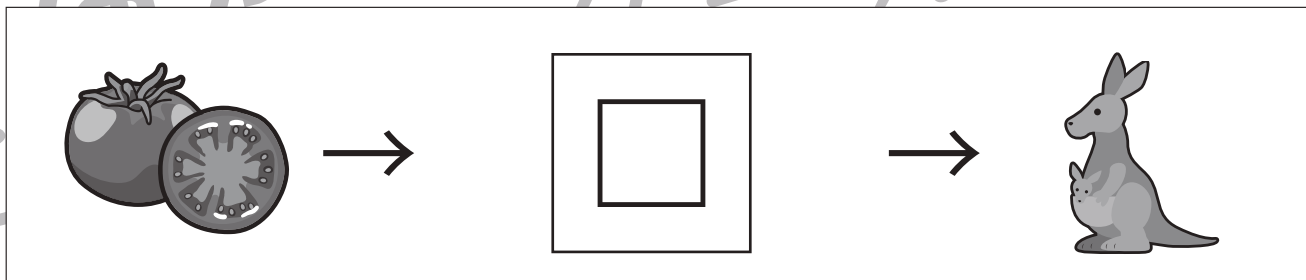
②



③



④



※1. このプリントは、しながわ・目黒こどもスクールのウェブサイトでダウンロードができます。無断複写・引用はご遠慮ください。

※2. このプリントを活用したオンライン授業のスケジュールは、しながわ・目黒こどもスクールのウェブサイトでご確認ください。



# おうちで、やろう。

Study at home. 小学校受験の家庭学習教材

## 常識：季節 11

左から季節がある順番で並んでいます。？（はてな）マークに入る季節の絵を右の中から選んで○をつけます。

--	--

--	--

--	--

--	--

--	--

※1. このプリントは、しながわ・目黒こどもスクールのウェブサイトからダウンロードできます。無断複写・引用はご遠慮ください。

※2. このプリントを活用したオンライン授業のスケジュールは、しながわ・目黒こどもスクールのウェブサイトでご確認ください。



# おうちで、やろう。

Study at home. 小学校受験の家庭学習教材

数量：サイコロ 15

サイコロを3回振って出た目を合わせて10にします。左の四角の中には1回目と2回目に出た目のサイコロがあります。3回目のサイコロがどの目になれば10になりますか。そのサイコロを右の中から選んで○をつけます。

--	--

--	--

--	--

--	--

--	--

※1. このプリントは、しながわ・目黒こどもスクールのウェブサイトでダウンロードができます。無断複写・引用はご遠慮ください。  
※2. このプリントを活用したオンライン授業のスケジュールは、しながわ・目黒こどもスクールのウェブサイトでご確認ください。



# おうちで、やろう。

Study at home. 小学校受験の家庭学習教材

数量：サイコロ 16

サイコロを3回振って出た目を合わせて12にします。左の四角の中には1回目と2回目に出た目のサイコロがあります。3回目のサイコロがどの目になれば12になりますか。そのサイコロを右の中から選んで○をつけます。

--	--

--	--

--	--

--	--

--	--

※1. このプリントは、しながわ・目黒こどもスクールのウェブサイトでダウンロードができます。無断複写・引用はご遠慮ください。  
 ※2. このプリントを活用したオンライン授業のスケジュールは、しながわ・目黒こどもスクールのウェブサイトでご確認ください。



# おうちで、やろう。

Study at home. 小学校受験の家庭学習教材

数量：サイコロ 17

サイコロを4回振って出た目を合わせて15にします。左の四角の中には1回目と2回目と3回目に出た目のサイコロがあります。4回目のサイコロがどの目になれば15になりますか。そのサイコロを右の中から選んで○をつけます。

--	--	--

--	--	--

--	--	--

--	--	--

--	--	--

※1. このプリントは、しながわ・目黒こどもスクールのウェブサイトでダウンロードができます。無断複写・引用はご遠慮ください。  
※2. このプリントを活用したオンライン授業のスケジュールは、しながわ・目黒こどもスクールのウェブサイトでご確認ください。


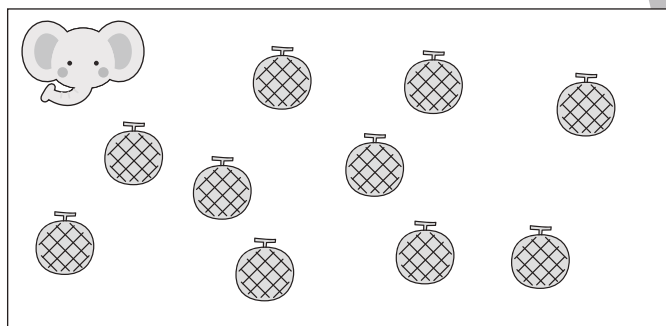





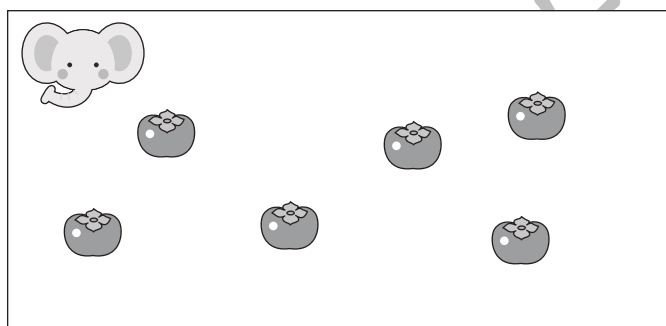

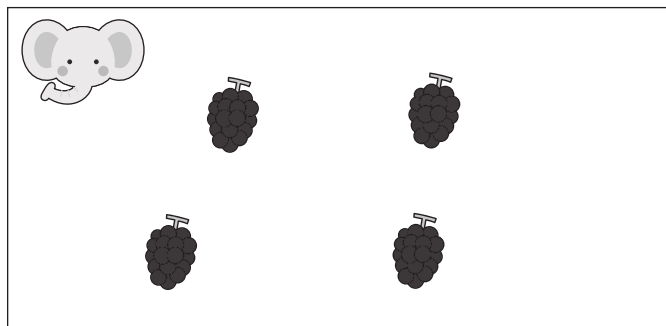


# おうちで、やろう。

Study at home. 小学校受験の家庭学習教材

数量：違う数8

ゾウとライオンが同じ果物を持っていますが、2匹の持っている果物の数が違います。2匹が持っている果物の数が2つ違うとき、ライオンが持っている果物の数だけ〇をかきます。ただし、ライオンの持っている果物の数はゾウよりも多くなります。



※1. このプリントは、しながわ・目黒こどもスクールのウェブサイトでダウンロードができます。無断複写・引用はご遠慮ください。

※2. このプリントを活用したオンライン授業のスケジュールは、しながわ・目黒こどもスクールのウェブサイトでご確認ください。



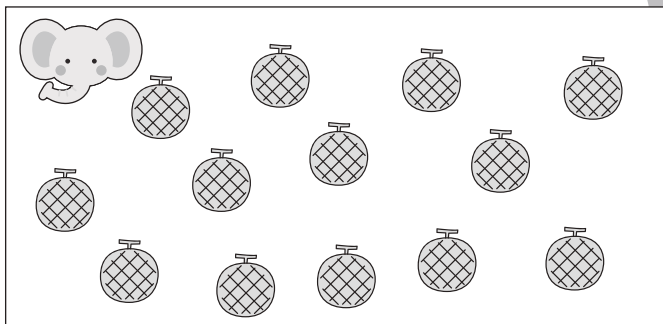




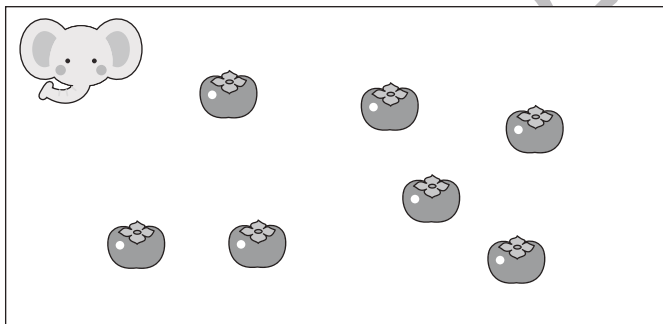
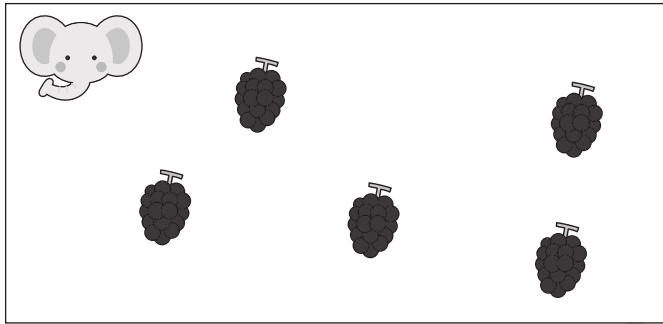


# おうちで、やろう。

Study at home. 小学校受験の家庭学習教材

数量：違う数9

ゾウとライオンが同じ果物を持っていますが、2匹の持っている果物の数が違います。2匹が持っている果物の数が4つ違うとき、ライオンが持っている果物の数だけ〇をかきます。ただし、ライオンの持っている果物の数はゾウよりも少なくなります。



※1. このプリントは、しながわ・目黒こどもスクールのウェブサイトでダウンロードができます。無断複写・引用はご遠慮ください。  
※2. このプリントを活用したオンライン授業のスケジュールは、しながわ・目黒こどもスクールのウェブサイトでご確認ください。














# おうちで、やろう。

Study at home. 小学校受験の家庭学習教材

## 数量：違う数 10

ゾウとライオンとクマが同じ果物を持っていますが、3匹の持っている果物の数が違います。ライオンとクマの数は3つ違い、ライオンとゾウは2つ違います。果物の数は多い順にクマ、ライオン、ゾウになります。このとき、ゾウとクマが持っている果物の数だけ〇をかきます。



※1. このプリントは、しながわ・目黒こどもスクールのウェブサイトでダウンロードができます。無断複写・引用はご遠慮ください。  
※2. このプリントを活用したオンライン授業のスケジュールは、しながわ・目黒こどもスクールのウェブサイトでご確認ください。



# おうちで、やろう。

Study at home. 小学校受験の家庭学習教材

左の四角のマスのうち、黒いマスは○に、灰色のマスは×にかえて右の四角の同じマスにかきます。このプリントはスピードを意識して取り組みましょう。(1分～1分30秒)


※1. このプリントは、しながわ・目黒こどもスクールのウェブサイトからダウンロードできます。無断複写・引用はご遠慮ください。  
 ※2. このプリントを活用したオンライン授業のスケジュールは、しながわ・目黒こどもスクールのウェブサイトでご確認ください。