









# おうちで、やろう。

Study at home. 小学校受験の家庭学習教材

## 指示の聞き取り 16

問題をしっかり聞いて答えましょう。

- ①黒い四角が左へ3つ移動します。その場所に○をかきます。
- ②白い星が右へ6つ移動します。その場所に△をかきます。
- ③白い丸が右へ3つ、下へ1つ、左へ1つ移動します。その場所に×をかきます。
- ④黒い丸が、右へ2つ、上へ3つ、左へ3つ、下へ3つ移動します。その場所に◎をかきます。
- ⑤黒い星が下へ4つ、左へ2つ、上へ3つ、左へ1つ、下へ1つ移動します。その場所に∕をかきます。

※1. このプリントは、しながわ・目黒こどもスクールのウェブサイトでダウンロードができます。無断複写・引用はご遠慮ください。

※2. このプリントを活用したオンライン授業のスケジュールは、しながわ・目黒こどもスクールのウェブサイトでご確認ください。



# おうちで、やろう。

Study at home. 小学校受験の家庭学習教材

言語：しりとり9


左から順番にしりとりをします。ただし、はじめから2番目の音でしりとりでつなげます。このとき、空いている四角に入る絵を下の四角の中から選んでそれぞれの四角の中の記号をつけます。

①

②

③

④



※1. このプリントは、しながわ・目黒こどもスクールのウェブサイトでダウンロードができます。無断複写・引用はご遠慮ください。  
 ※2. このプリントを活用したオンライン授業のスケジュールは、しながわ・目黒こどもスクールのウェブサイトでご確認ください。



# おうちで、やろう。

Study at home. 小学校受験の家庭学習教材

言語：しりとり 10


左から順番にしりとりをします。ただし、はじめから2番目の音でしりとりでつなげます。このとき、空いている四角に入る絵を下の四角の中から選んでそれぞれの四角の中の記号をつけます。

①

②

③

④



※1. このプリントは、しながわ・目黒こどもスクールのウェブサイトからダウンロードできます。無断複写・引用はご遠慮ください。  
 ※2. このプリントを活用したオンライン授業のスケジュールは、しながわ・目黒こどもスクールのウェブサイトでご確認ください。



# おうちで、やろう。

Study at home. 小学校受験の家庭学習教材

図形：回転 39

左のお手本を矢印の方向へ1度倒した時の見え方を考えて右マスに線をかきます。

このページには、図形を回転させる練習のためのワークシートが用意されています。ワークシートは4行4列のマス目（16マス）で構成されています。左側の2列には、図形（正方形、長方形、L字）が描かれ、矢印がその回転方向を示しています。右側の2列には、回転後の図形が描かれています。ワークシートには「しながわ・目黒こどもスクール」のロゴが複数回表示されています。

※1. このプリントは、しながわ・目黒こどもスクールのウェブサイトでダウンロードができます。無断複写・引用はご遠慮ください。  
 ※2. このプリントを活用したオンライン授業のスケジュールは、しながわ・目黒こどもスクールのウェブサイトでご確認ください。

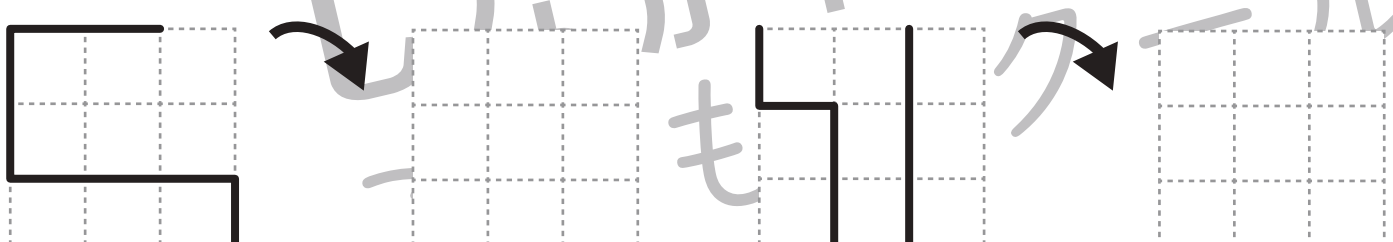
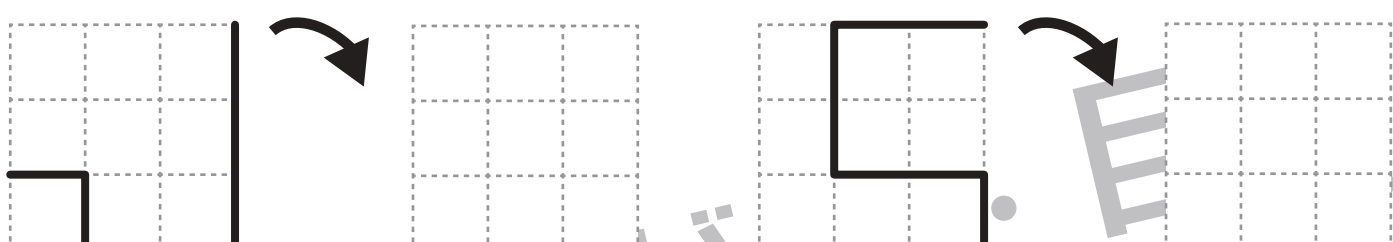
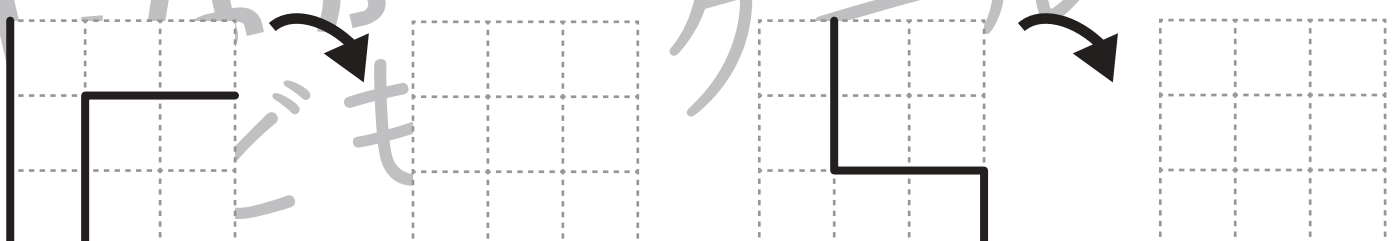
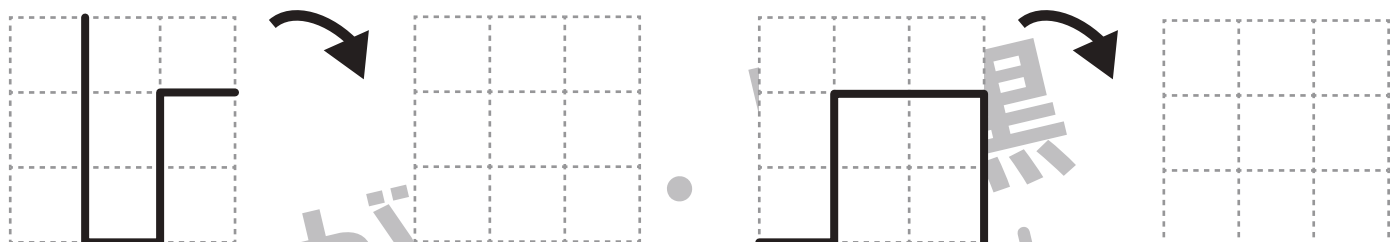




# おうちで、やろう。

Study at home. 小学校受験の家庭学習教材

図形：回転 40

左のお手本を矢印の方向へ 1 度倒した時の見え方を考えて右マスに線をかきます。



※1. このプリントは、しながわ・目黒こどもスクールのウェブサイトでダウンロードができます。無断複写・引用はご遠慮ください。

※2. このプリントを活用したオンライン授業のスケジュールは、しながわ・目黒こどもスクールのウェブサイトでご確認ください。



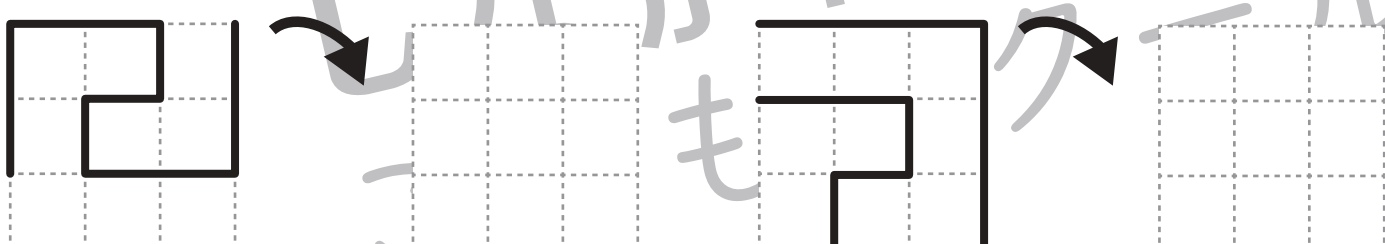
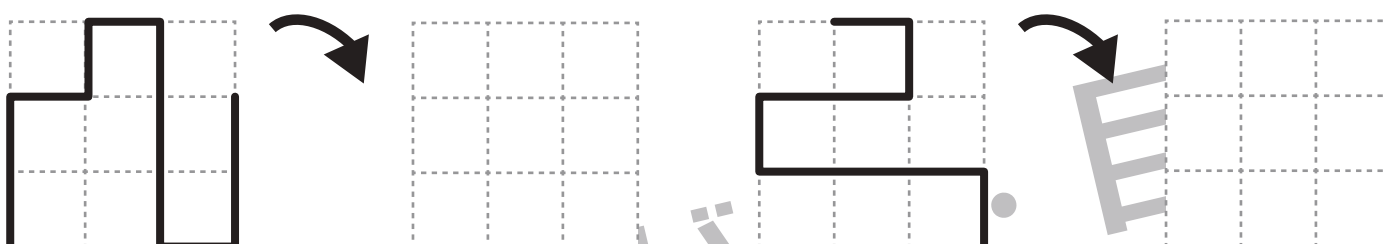
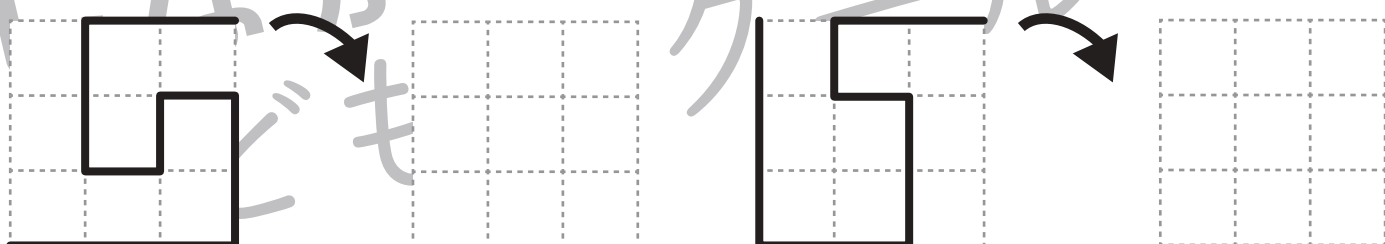
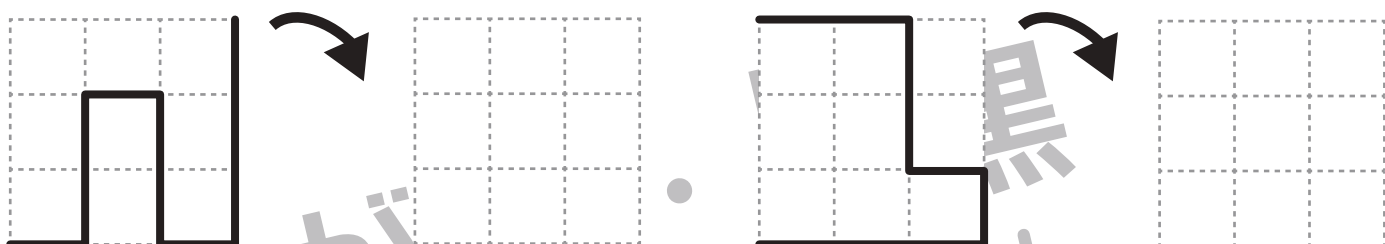




# おうちで、よろう。

Study at home. 小学校受験の家庭学習教材

図形：回転 41

左のお手本を矢印の方向へ 1 度倒した時の見え方を考えて右マスに線をかきます。



※1. このプリントは、しながわ・目黒こどもスクールのウェブサイトでダウンロードができます。無断複写・引用はご遠慮ください。

※2. このプリントを活用したオンライン授業のスケジュールは、しながわ・目黒こどもスクールのウェブサイトでご確認ください。



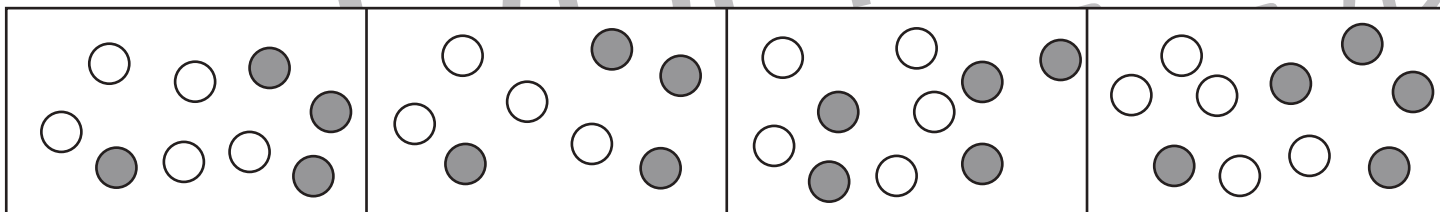

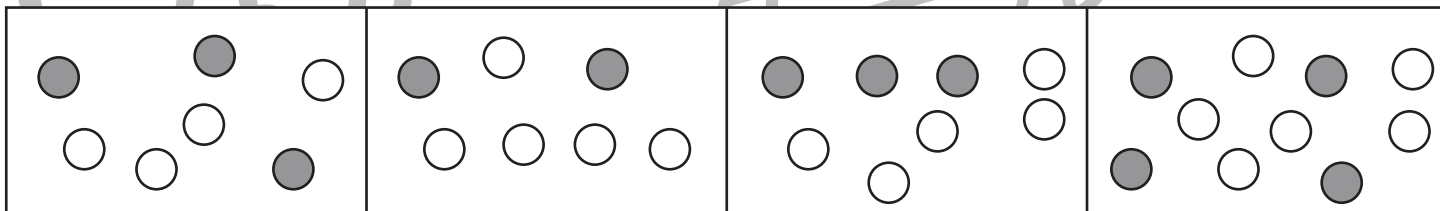
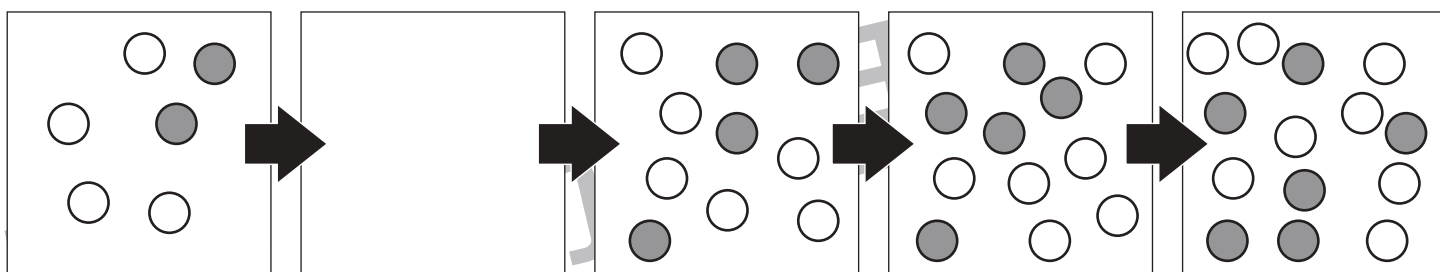
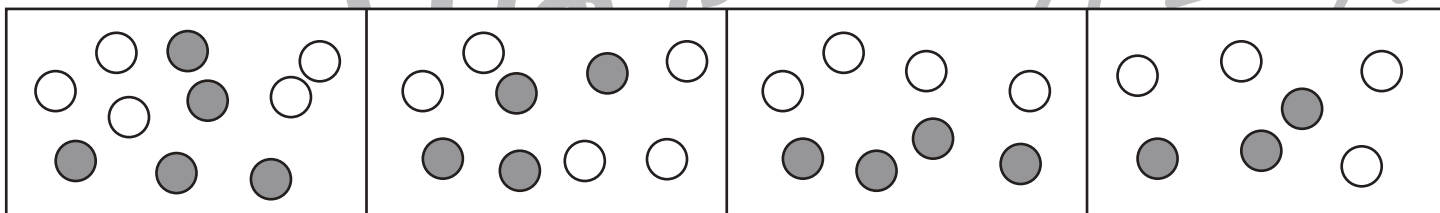
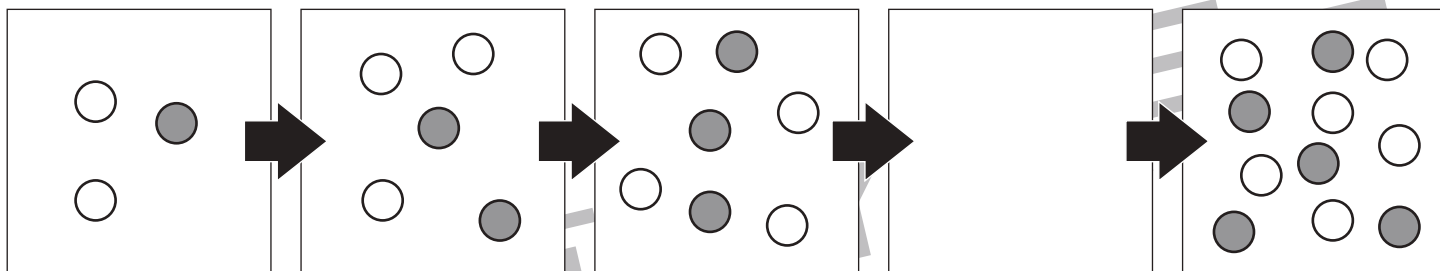


# おうちで、やろう。

Study at home. 小学校受験の家庭学習教材

数量：数列 4

5つの四角が横に並んでいます。この四角の中の丸はある約束にしたがって数が変わっています。どんな約束なのかを考えて空いている四角に入る丸を下の4つの中から選んで○をつけます。



※1. このプリントは、しながわ・目黒こどもスクールのウェブサイトでダウンロードができます。無断複写・引用はご遠慮ください。  
 ※2. このプリントを活用したオンライン授業のスケジュールは、しながわ・目黒こどもスクールのウェブサイトでご確認ください。

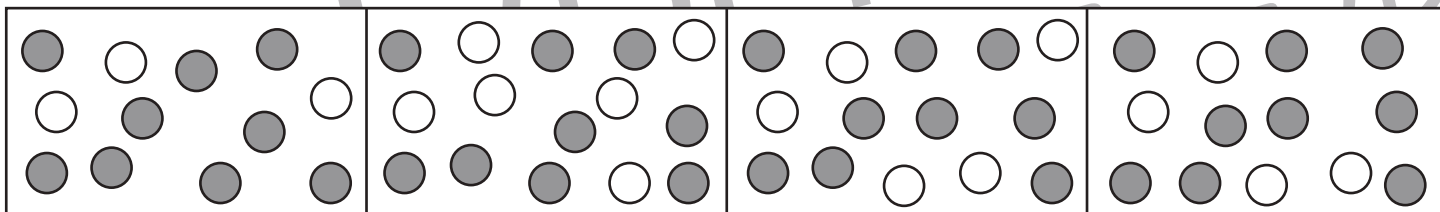
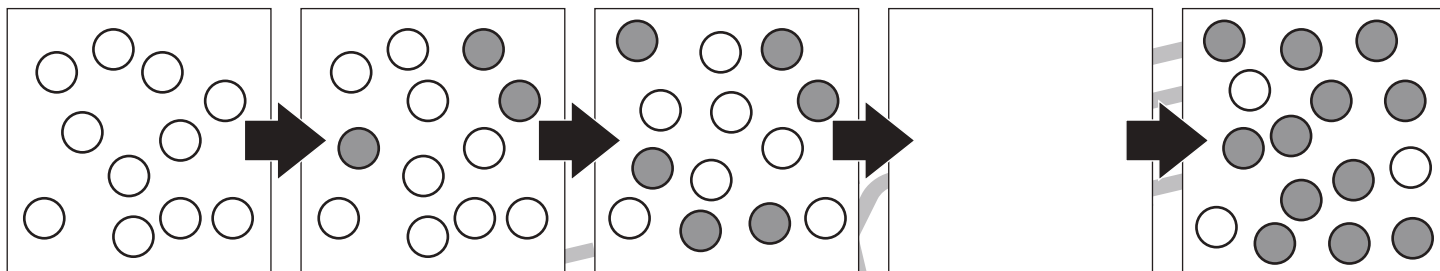
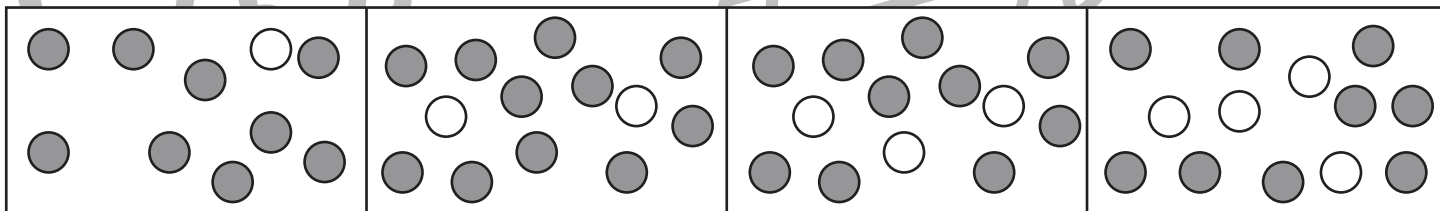
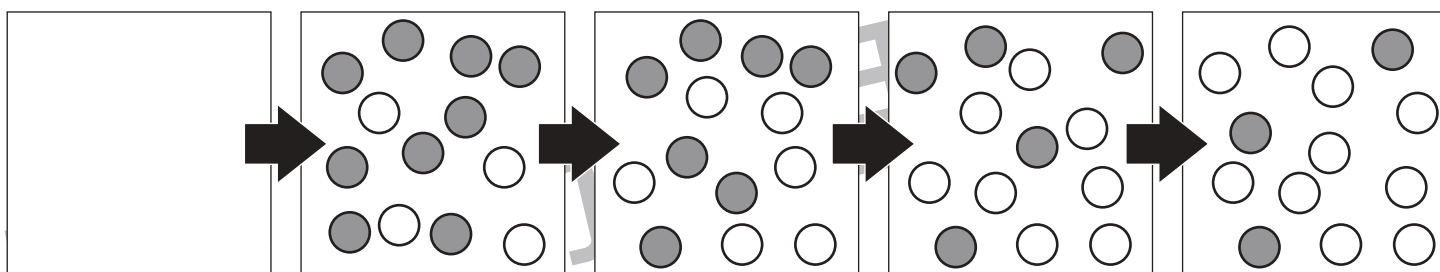
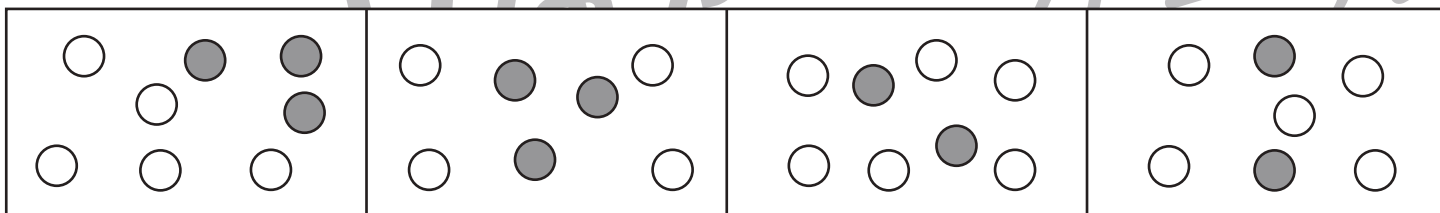
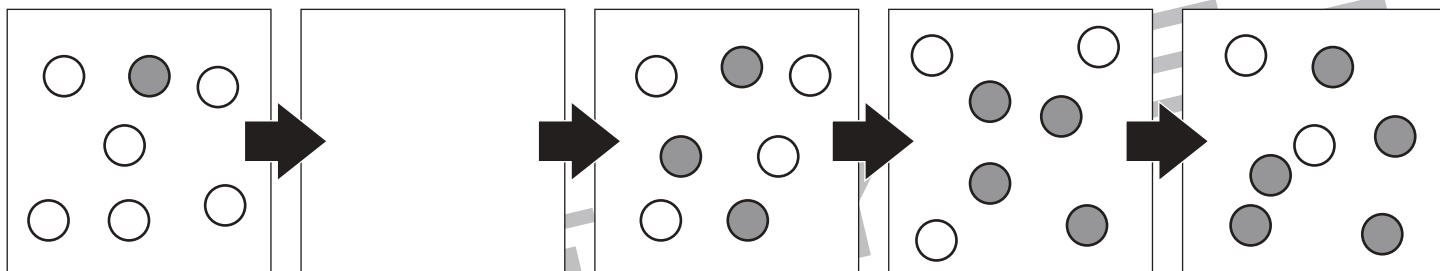


# おうちで、やろう。

Study at home. 小学校受験の家庭学習教材

数量：数列5

5つの四角が横に並んでいます。この四角の中の丸はある約束にしたがって数が変わっています。どんな約束なのかを考えて空いている四角に入る丸を下の4つの中から選んで○をつけます。



※1. このプリントは、しながわ・目黒こどもスクールのウェブサイトでダウンロードができます。無断複写・引用はご遠慮ください。  
 ※2. このプリントを活用したオンライン授業のスケジュールは、しながわ・目黒こどもスクールのウェブサイトでご確認ください。



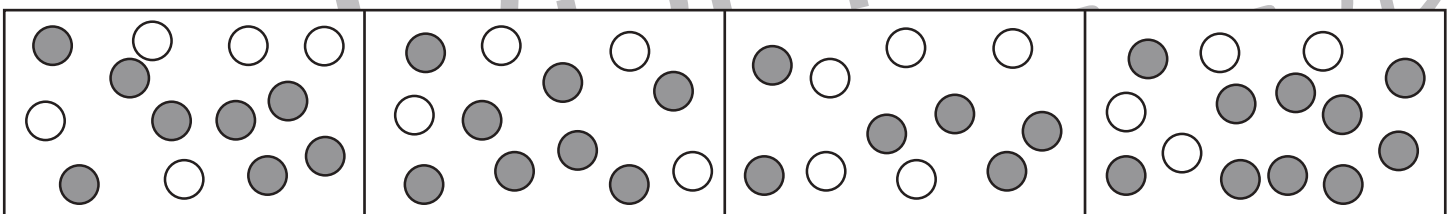
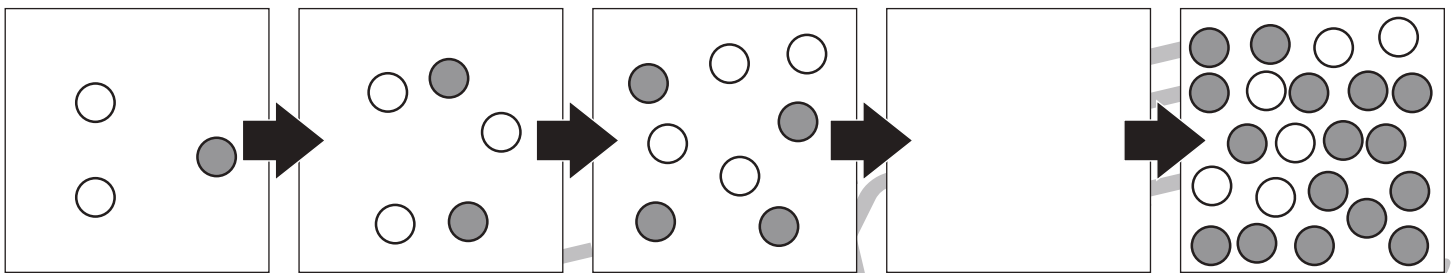
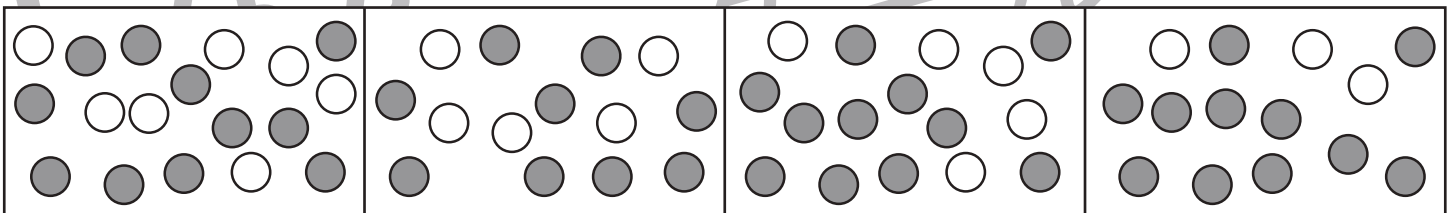
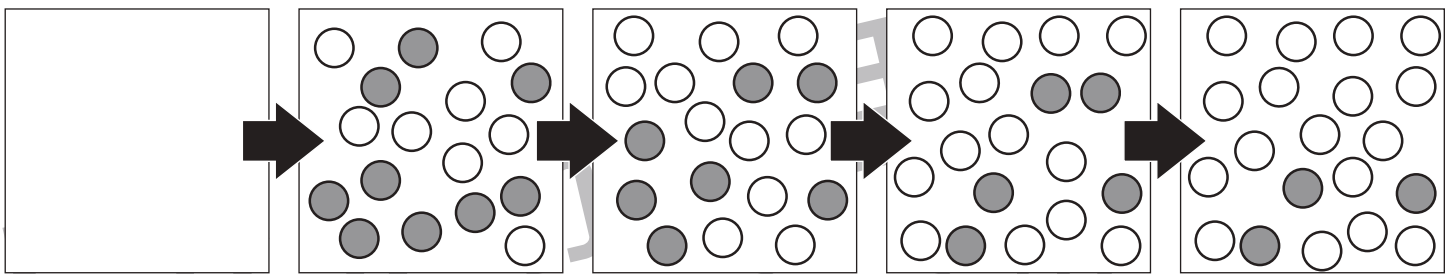
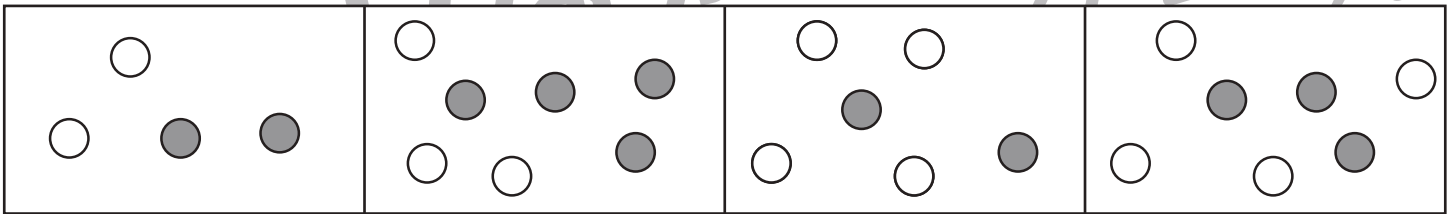
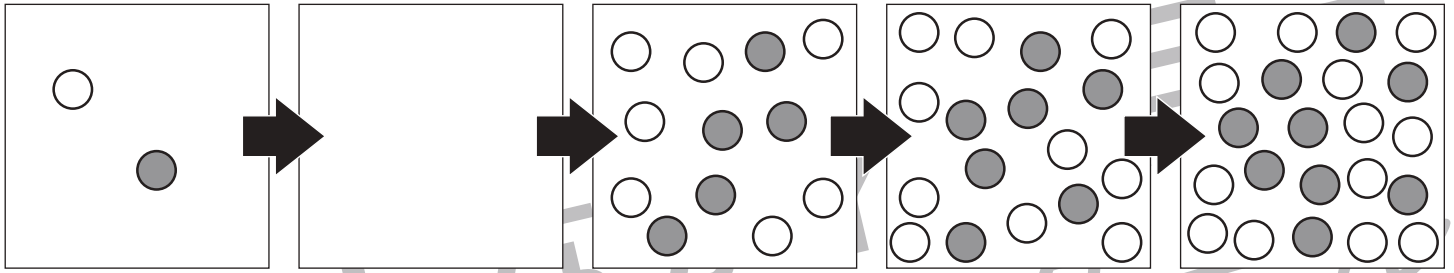


# おうちで、やろう。

Study at home. 小学校受験の家庭学習教材

数量：数列6

5つの四角が横に並んでいます。この四角の中の丸はある約束にしたがって数が変わっています。どんな約束なのかを考えて空いている四角に入る丸を下の4つの中から選んで○をつけます。



※1. このプリントは、しながわ・目黒こどもスクールのウェブサイトでダウンロードができます。無断複写・引用はご遠慮ください。  
 ※2. このプリントを活用したオンライン授業のスケジュールは、しながわ・目黒こどもスクールのウェブサイトでご確認ください。



# おうちで、やろう。

Study at home. 小学校受験の家庭学習教材

処理：模写6

左の四角のマスのうち、黒いマスは○に、灰色のマスは×にかえて右の四角の同じマスにかきます。  
このプリントはスピードを意識して取り組みましょう。(1分～1分30秒)

黒	白	灰
白	灰	黒
灰	黒	黒

白	白	白
白	白	白
白	白	白

黒	灰	灰
白	白	灰
白	黒	黒

白	白	白
白	白	白
白	白	白

白	灰	白
白	黒	黒
黒	白	灰

白	白	白
白	白	白
白	白	白

黒	黒	白
黒	灰	灰
白	黒	灰

白	白	白
白	白	白
白	白	白

白	灰	黒
黒	黒	白
白	灰	白

白	白	白
白	白	白
白	白	白

白	白	黒
灰	灰	灰
白	黒	白

白	白	白
白	白	白
白	白	白

白	黒	灰
白	黒	灰
黒	白	黒

白	白	白
白	白	白
白	白	白

黒	灰	灰
白	黒	白
白	黒	灰

白	白	白
白	白	白
白	白	白

白	黒	白
灰	黒	灰
白	灰	黒

白	白	白
白	白	白
白	白	白

灰	白	黒
黒	白	黒
黒	灰	灰

白	白	白
白	白	白
白	白	白

※1. このプリントは、しながわ・目黒こどもスクールのウェブサイトでダウンロードができます。無断複写・引用はご遠慮ください。  
※2. このプリントを活用したオンライン授業のスケジュールは、しながわ・目黒こどもスクールのウェブサイトでご確認ください。