














おうちで、やろう。

Study at home. 小学校受験の家庭学習教材

指示の聞き取り 16

問題をしっかり聞いて答えましょう。

- ①黒い四角が左へ3つ移動します。その場所に○をかきます。
- ②白い星が右へ6つ移動します。その場所に△をかきます。
- ③白い丸が右へ3つ、下へ1つ、左へ1つ移動します。その場所に×をかきます。
- ④黒い丸が、右へ2つ、上へ3つ、左へ3つ、下へ3つ移動します。その場所に◎をかきます。
- ⑤黒い星が下へ4つ、左へ2つ、上へ3つ、左へ1つ、下へ1つ移動します。その場所に／をかきます。

※1. このプリントは、しながわ・目黒こどもスクールのウェブサイトでダウンロードができます。無断複写・引用はご遠慮ください。

※2. このプリントを活用したオンライン授業のスケジュールは、しながわ・目黒こどもスクールのウェブサイトでご確認ください。




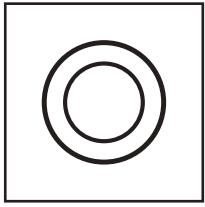






おうちで、やろう。





Study at home. 小学校受験の家庭学習教材

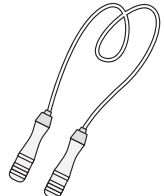
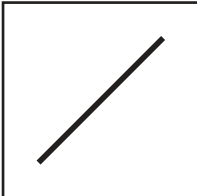

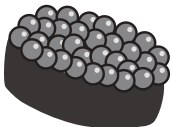
言語：しりとり9


左から順番にしりとりをします。ただし、はじめから2番目の音でしりとりでつなげます。このとき、空いている四角に入る絵を下の四角の中から選んでそれぞれの四角の中の記号をつけます。

①  →  →  → 

②  →  →  → 

③  →  →  → 

④  →  →  → 



※1. このプリントは、しながわ・目黒こどもスクールのウェブサイトからダウンロードできます。無断複写・引用はご遠慮ください。
 ※2. このプリントを活用したオンライン授業のスケジュールは、しながわ・目黒こどもスクールのウェブサイトでご確認ください。



おうちで、やろう。

Study at home. 小学校受験の家庭学習教材

言語：しりとり 10


左から順番にしりとりをします。ただし、はじめから2番目の音でしりとりでつなげます。このとき、空いている四角に入る絵を下の四角の中から選んでそれぞれの四角の中の記号をつけます。

①

②

③

④



※1. このプリントは、しながわ・目黒こどもスクールのウェブサイトからダウンロードできます。無断複写・引用はご遠慮ください。
 ※2. このプリントを活用したオンライン授業のスケジュールは、しながわ・目黒こどもスクールのウェブサイトでご確認ください。



おうちで、やろう。

Study at home. 小学校受験の家庭学習教材

図形：回転 39

左のお手本を矢印の方向へ1度倒した時の見え方を考えて右マスに線をかきます。

Diagram illustrating the rotation of a square on a 3x3 grid. The process is shown in four rows, each with two examples. In each example, a solid square is on the left, and a dashed square on the right shows the result of rotating the solid square 90 degrees clockwise. An arrow indicates the direction of rotation.

- Row 1: Solid square in the top-left corner. Rotated square has its top edge on the left side.
- Row 2: Solid square in the top-middle position. Rotated square has its top edge on the bottom side.
- Row 3: Solid square in the top-right corner. Rotated square has its top edge on the right side.
- Row 4: Solid square in the middle-left position. Rotated square has its top edge on the top side.

※1. このプリントは、しながわ・目黒こどもスクールのウェブサイトからダウンロードできます。無断複写・引用はご遠慮ください。
 ※2. このプリントを活用したオンライン授業のスケジュールは、しながわ・目黒こどもスクールのウェブサイトでご確認ください。



おうちで、やろう。

Study at home. 小学校受験の家庭学習教材

図形：回転 40

左のお手本を矢印の方向へ 1 度倒した時の見え方を考えて右マスに線をかきます。

Grid-based shape rotation exercise. Each row contains four pairs of grids. The first grid in each pair is a solid black shape on a dashed grid. An arrow indicates a 90-degree rotation. The second grid is a dashed grid for the student to draw the rotated shape.

Row 1:

- Grid 1: A shape with a vertical line on the left, a horizontal line at the top, and a vertical line on the right.
- Grid 2: A shape with a horizontal line at the top, a vertical line on the right, and a horizontal line at the bottom.
- Grid 3: A shape with a horizontal line at the top, a vertical line on the right, and a horizontal line at the bottom.
- Grid 4: A shape with a vertical line on the left, a horizontal line at the top, and a vertical line on the right.

Row 2:

- Grid 1: A shape with a horizontal line at the top, a vertical line on the right, and a horizontal line at the bottom.
- Grid 2: A shape with a vertical line on the left, a horizontal line at the top, and a vertical line on the right.
- Grid 3: A shape with a horizontal line at the top, a vertical line on the right, and a horizontal line at the bottom.
- Grid 4: A shape with a vertical line on the left, a horizontal line at the top, and a vertical line on the right.

Row 3:

- Grid 1: A shape with a vertical line on the left, a horizontal line at the top, and a vertical line on the right.
- Grid 2: A shape with a horizontal line at the top, a vertical line on the right, and a horizontal line at the bottom.
- Grid 3: A shape with a horizontal line at the top, a vertical line on the right, and a horizontal line at the bottom.
- Grid 4: A shape with a vertical line on the left, a horizontal line at the top, and a vertical line on the right.

Row 4:

- Grid 1: A shape with a horizontal line at the top, a vertical line on the right, and a horizontal line at the bottom.
- Grid 2: A shape with a vertical line on the left, a horizontal line at the top, and a vertical line on the right.
- Grid 3: A shape with a horizontal line at the top, a vertical line on the right, and a horizontal line at the bottom.
- Grid 4: A shape with a vertical line on the left, a horizontal line at the top, and a vertical line on the right.

※1. このプリントは、しながわ・目黒こどもスクールのウェブサイトでダウンロードができます。無断複写・引用はご遠慮ください。

※2. このプリントを活用したオンライン授業のスケジュールは、しながわ・目黒こどもスクールのウェブサイトでご確認ください。



おうちで、よろう。

Study at home. 小学校受験の家庭学習教材

図形：回転 41

左のお手本を矢印の方向へ1度倒した時の見え方を考えて右マスに線をかきます。

※1. このプリントは、しながわ・目黒こどもスクールのウェブサイトからダウンロードできます。無断複写・引用はご遠慮ください。

※2. このプリントを活用したオンライン授業のスケジュールは、しながわ・目黒こどもスクールのウェブサイトでご確認ください。

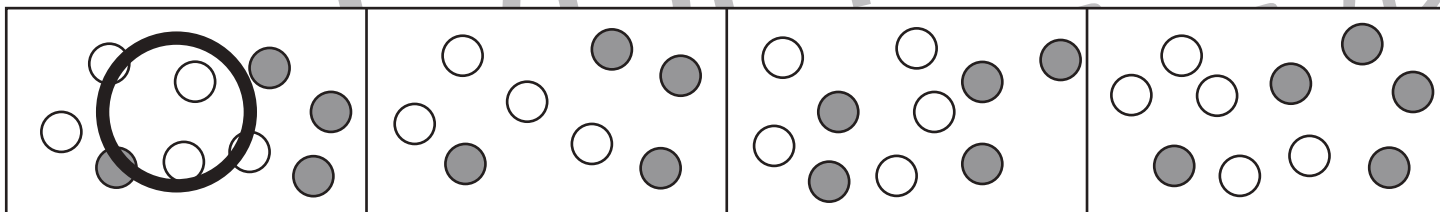

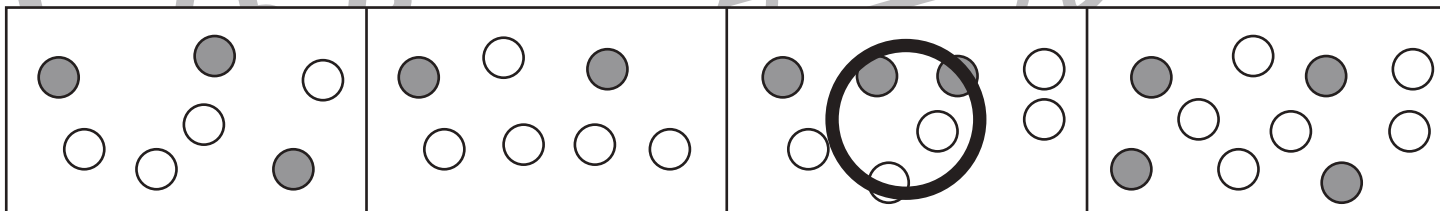
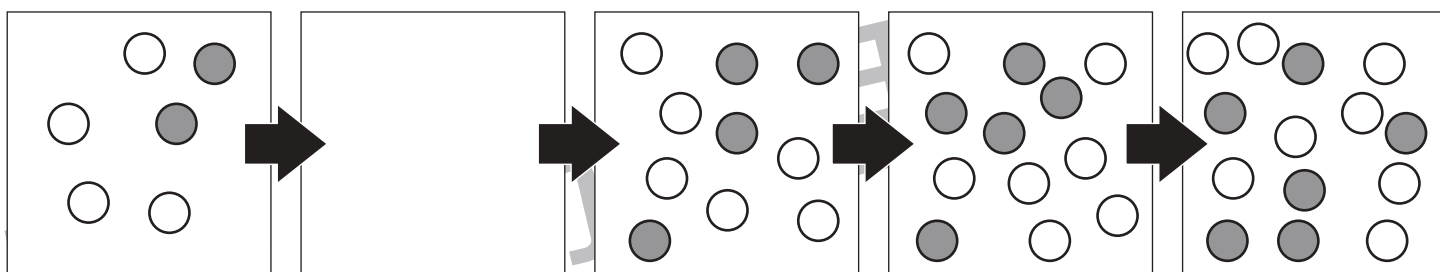
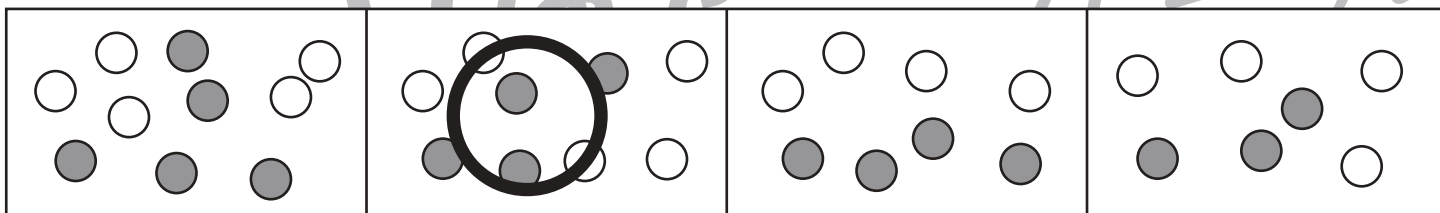
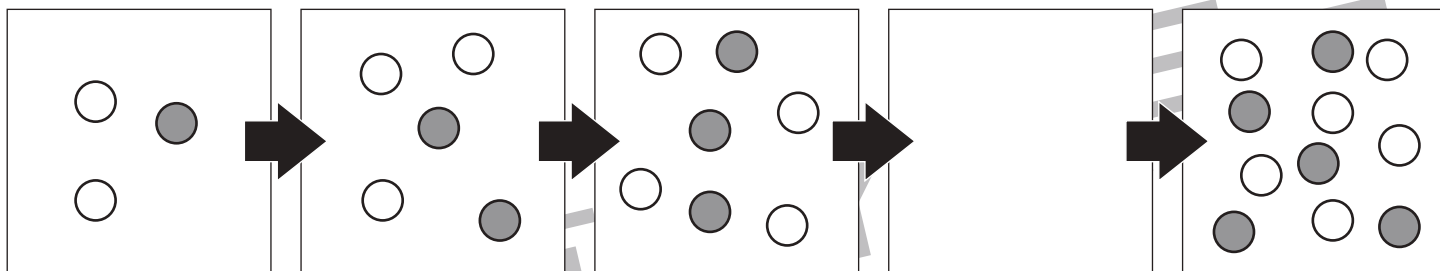


おうちで、やろう。

Study at home. 小学校受験の家庭学習教材

数量：数列 4

5つの四角が横に並んでいます。この四角の中の丸はある約束にしたがって数が変わっています。どんな約束なのかを考えて空いている四角に入る丸を下の4つの中から選んで○をつけます。



※1. このプリントは、しながわ・目黒こどもスクールのウェブサイトでダウンロードができます。無断複写・引用はご遠慮ください。
 ※2. このプリントを活用したオンライン授業のスケジュールは、しながわ・目黒こどもスクールのウェブサイトでご確認ください。

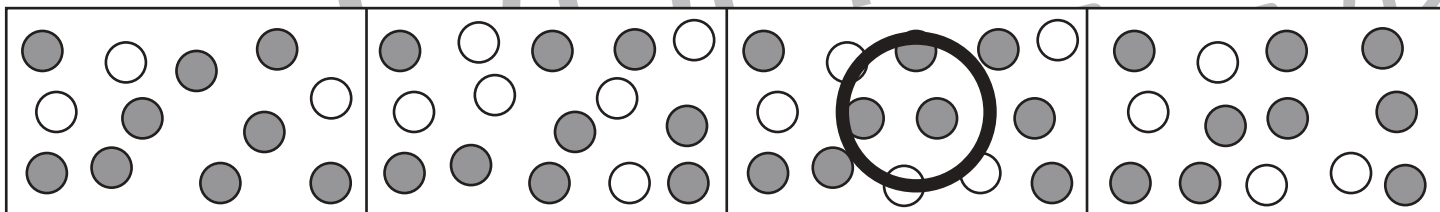
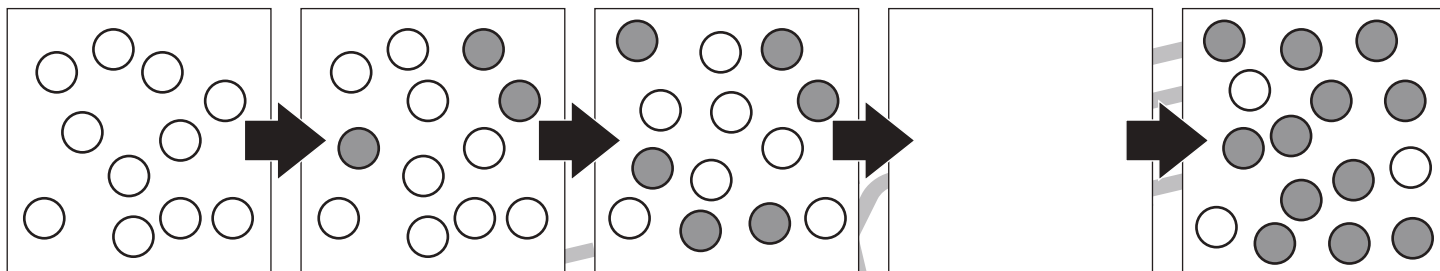
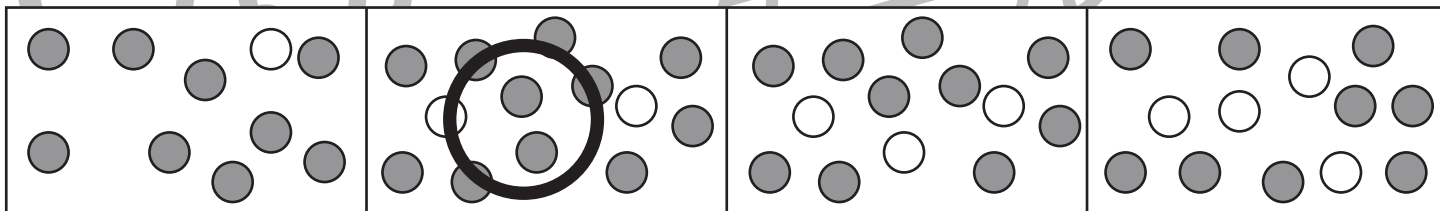
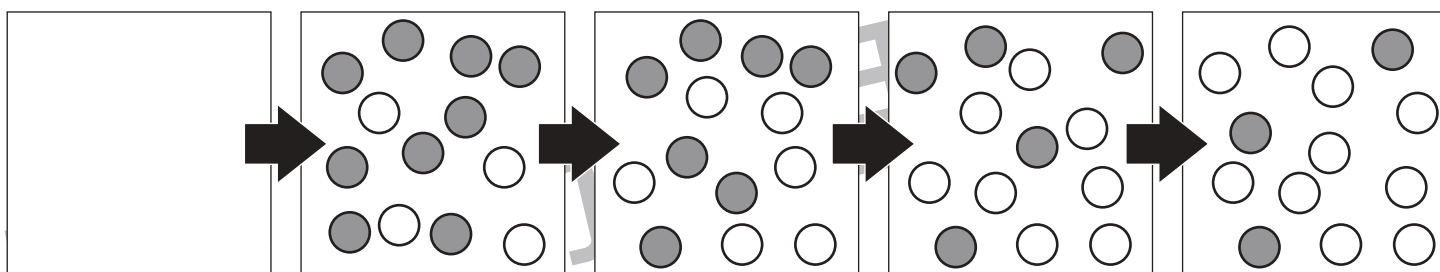
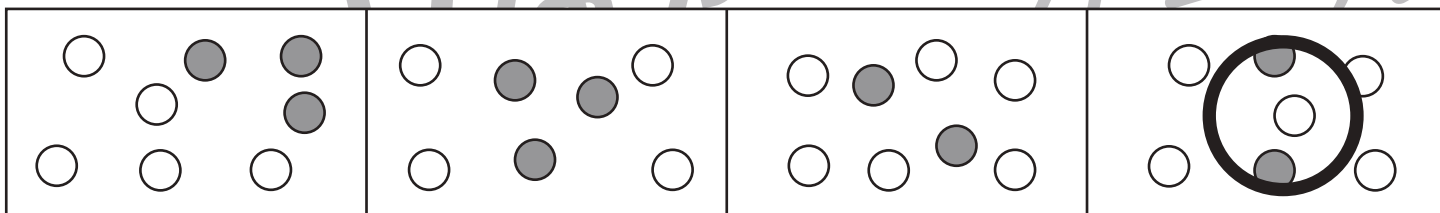
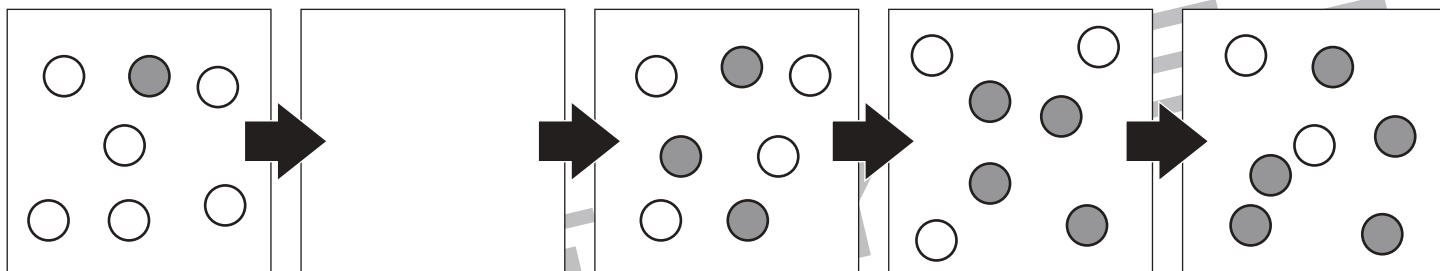


おうちで、やろう。

Study at home. 小学校受験の家庭学習教材

数量：数列5

5つの四角が横に並んでいます。この四角の中の丸はある約束にしたがって数が変わっています。どんな約束なのかを考えて空いている四角に入る丸を下の4つの中から選んで○をつけます。



※1. このプリントは、しながわ・目黒こどもスクールのウェブサイトでダウンロードができます。無断複写・引用はご遠慮ください。
 ※2. このプリントを活用したオンライン授業のスケジュールは、しながわ・目黒こどもスクールのウェブサイトでご確認ください。

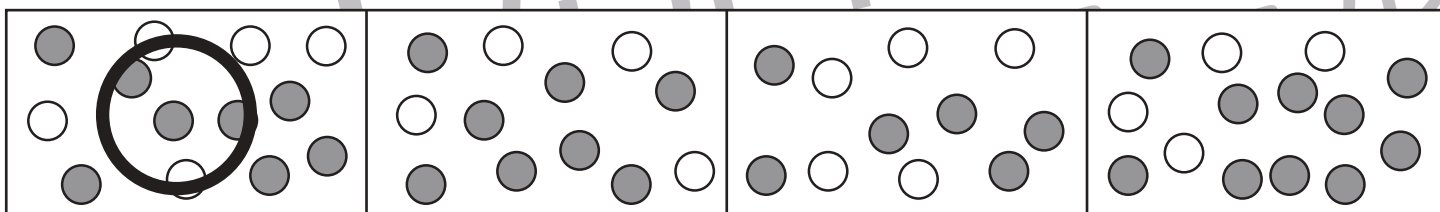
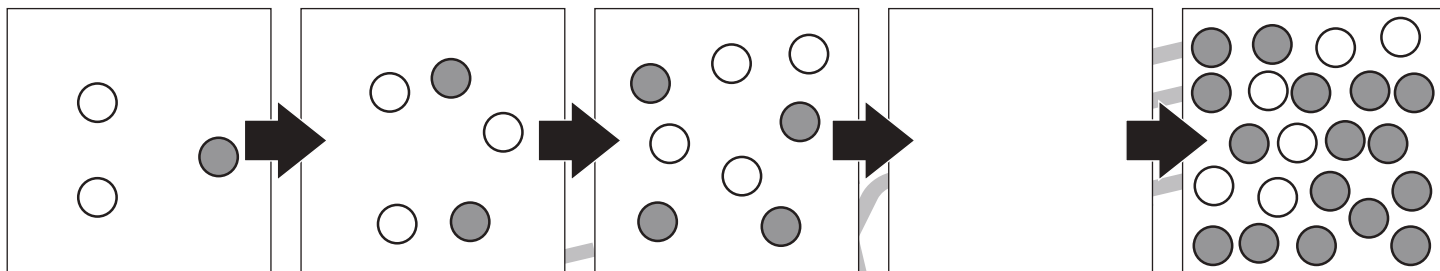
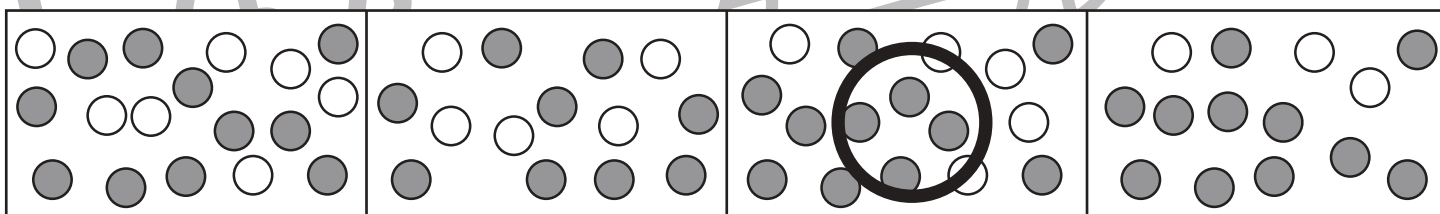
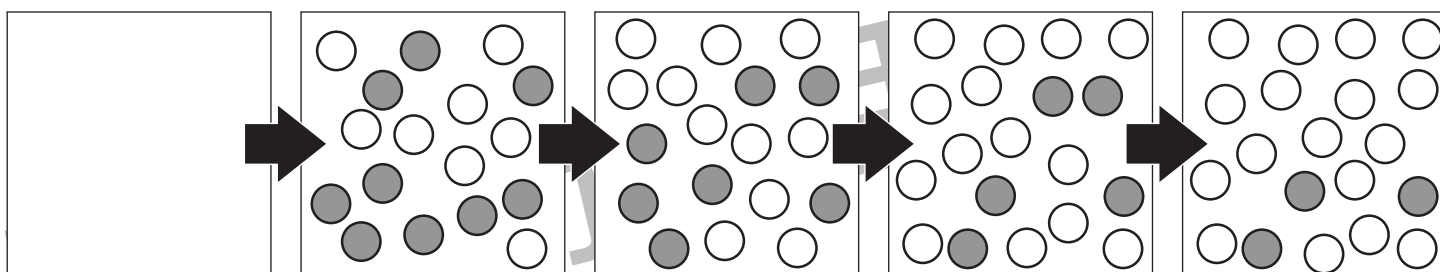
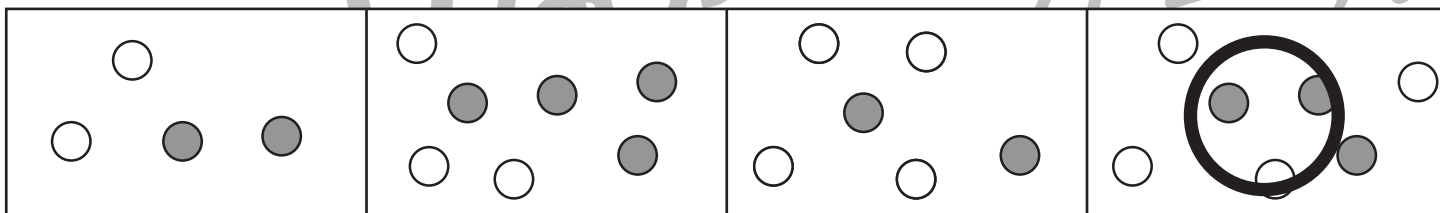
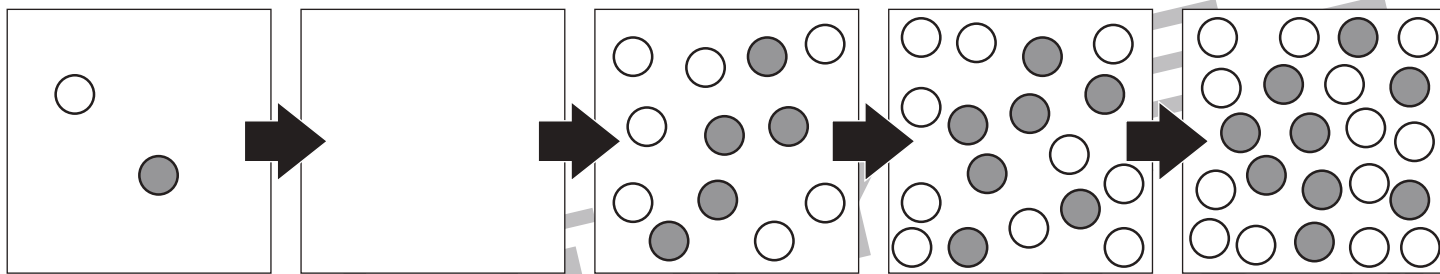


おうちで、よろう。

Study at home. 小学校受験の家庭学習教材

数量：数列6

5つの四角が横に並んでいます。この四角の中の丸はある約束にしたがって数が変わっています。どんな約束なのかを考えて空いている四角に入る丸を下の4つの中から選んで○をつけます。



※1. このプリントは、しながわ・目黒こどもスクールのウェブサイトでダウンロードができます。無断複写・引用はご遠慮ください。
 ※2. このプリントを活用したオンライン授業のスケジュールは、しながわ・目黒こどもスクールのウェブサイトでご確認ください。



おうちで、やろう。

Study at home. 小学校受験の家庭学習教材

処理：模写6

左の四角のマスのうち、黒いマスは○に、灰色のマスは×にかえて右の四角の同じマスにかきます。
このプリントはスピードを意識して取り組みましょう。(1分～1分30秒)

黒	白	灰
白	灰	黒
灰	黒	黒

○		×
	×	○
×	○	○

黒	灰	灰
白	白	灰
白	黒	黒

○	×	×
		×
	○	○

白	灰	白
白	黒	黒
黒	白	灰

	×	
	○	○
○		×

黒	黒	白
黒	灰	灰
白	黒	灰

○	○	
○	×	×
	○	×

白	灰	黒
黒	黒	白
白	灰	白

	×	○
○	○	
	×	

白	白	黒
灰	灰	灰
白	黒	白

		○
×	×	×
	○	

白	黒	灰
白	黒	灰
黒	白	黒

	○	×
	○	×
○		○

黒	灰	灰
白	黒	白
白	黒	灰

○	×	×
	○	
	○	×

白	黒	白
灰	黒	灰
白	灰	黒

	○	
×	○	×
	×	○

灰	白	黒
黒	白	黒
黒	灰	灰

×		○
○		○
○	×	×

※1. このプリントは、しながわ・目黒こどもスクールのウェブサイトでダウンロードができます。無断複写・引用はご遠慮ください。
※2. このプリントを活用したオンライン授業のスケジュールは、しながわ・目黒こどもスクールのウェブサイトでご確認ください。